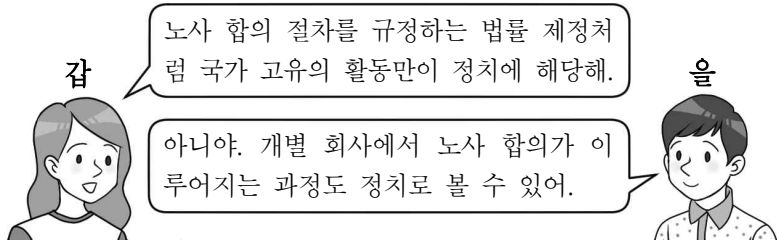


제 4 교시

사회탐구 영역(정치와 법)

성명		수험번호				3				제 () 선택
----	--	------	--	--	--	---	--	--	--	----------

1. 정치를 바라보는 갑, 을의 관점에 대한 설명으로 옳은 것은?



- ① 갑의 관점은 국가 형성 이전의 정치 현상을 설명하는 데 적합하다.
- ② 갑의 관점은 다원화된 현대 사회의 정치 현상을 설명하는 데 적합하다.
- ③ 을의 관점은 개인의 자선 활동을 정치라고 본다.
- ④ 갑의 관점은 을의 관점에 비해 정치 주체가 다양하다고 본다.
- ⑤ 갑, 을의 관점 모두 정부가 재난 지원금 예산을 편성하는 과정을 정치로 본다.

2. 밑줄 친 ㉠, ㉡에 대한 설명으로 옳은 것은?

㉠ 근대 사회의 법치주의는 집행과 사법이 의회에서 제정한 법률에 근거할 것만을 요구하고 그 법의 목적이나 내용은 문제 삼지 않는다는 비판을 받았다. 이에 따라 ㉡ 오늘날의 법치주의는 공권력의 행사가 법률에 근거해야 할 뿐만 아니라 그 법률의 목적과 내용도 정의에 부합해야 함을 강조한다.

- ① ㉠은 통치의 합법성뿐만 아니라 정당성도 중시한다.
- ② ㉡에서는 독재 정치가 나타날 가능성이 높다.
- ③ ㉠은 ㉡과 달리 법률에 의한 기본권 제한이 가능하다고 본다.
- ④ ㉡보다 ㉠에서 위헌 법률 심사 제도가 중시된다.
- ⑤ ㉠, ㉡ 모두 국가의 자의적 권력 행사 방지를 강조한다.

3. 표는 기본권 유형 A~C를 질문 (가), (나)에 따라 구분한 것이다. 이에 대한 설명으로 옳은 것은? (단, A~C는 각각 사회적권, 자유권, 청구권 중 하나이다.) [3점]

구분	A	B	C
(가)			★
(나)	★		

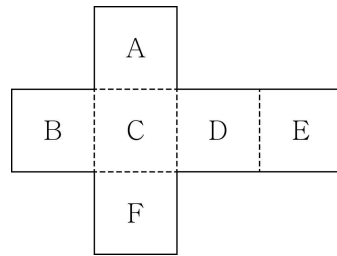
* 질문 (가), (나)에 대한 A~C의 응답은 '예' 또는 '아니요'이다.
 ** ★ 표시 칸에는 각 질문에 대한 A~C의 응답 중 나머지 두 개와 다른 응답이 들어간다.

- ① (가)에 '다른 기본권 보장을 위한 수단적 권리인가?'가 들어갈 수 없다.
- ② (나)에 '다른 기본권 보장의 전제 조건이 되는 본질적 권리인가?'가 들어갈 수 있다.
- ③ (가)에 '소극적 권리인가?'가 들어가면, (나)에 '공무 담임권이 포함되는 권리인가?'가 들어갈 수 있다.
- ④ A가 사회적권이라면, (나)에 '헌법에 열거되지 않아도 보장되는 포괄적 권리인가?'가 들어갈 수 있다.
- ⑤ C가 자유권이라면, (가)에 '국가의 존재를 전제로 하는가?'가 들어갈 수 있다.

4. 다음 수행 평가에서 교사의 안내대로 주사위를 완성하기 위해 A~F에 들어갈 내용을 옳게 배치한 학생은? [3점]

교사: 민주주의 발전 과정과 관련한 진술 (가)~(바)가 곁면에 적힌 주사위를 만들고자 합니다. (가)~(바) 중 3개는 옳은 진술이고, 나머지 3개는 틀린 진술입니다. 옳은 진술과 틀린 진술이 서로 반대편에 위치하도록 주사위 도면의 A~F에 배치해 보세요.

- (가) 근대 민주 정치에서 보통 선거 제도가 확립되었다.
- (나) 고대 아테네의 민주 정치는 치자와 피치자의 일치를 추구하였다.
- (다) 근대 민주 정치와 현대 민주 정치 모두 대의제에 기반을 두고 있다.
- (라) 현대 민주 정치는 근대 민주 정치와 달리 국민 주권주의를 바탕으로 한다.
- (마) 고대 아테네의 민주 정치와 근대 민주 정치 모두 천부인권 사상의 영향을 받았다.
- (바) 근대 민주 정치는 고대 아테네의 민주 정치와 달리 권력 분립의 원리를 강조하였다.



- | | | | | | | |
|------|-----|-----|-----|-----|-----|-----|
| | A | B | C | D | E | F |
| ① 갑: | (가) | (나) | (다) | (라) | (마) | (바) |
| ② 을: | (가) | (라) | (나) | (마) | (바) | (다) |
| ③ 병: | (나) | (다) | (라) | (바) | (마) | (가) |
| ④ 정: | (나) | (마) | (가) | (라) | (바) | (다) |
| ⑤ 무: | (다) | (마) | (나) | (가) | (라) | (바) |

5. 다음 대화를 통해 파악할 수 있는 우리나라 헌법 기관 A~D에 대한 설명으로 옳지 않은 것은?

갑: ○○법을 위반한 △△부 장관을 A가 해임해야 한다는 여론이 팽배해.
 을: 그래서 B와 C가 △△부 장관의 해임 건의를 고려하고 있다.
 갑: 난 B가 해임을 건의하는 게 좋다고 생각해. C와 달리 B의 해임 건의는 별도 의결 과정을 거칠 필요가 없잖아.
 을: 만약 B 또는 C의 해임 건의를 A가 수용하지 않으면, C가 D에 △△부 장관에 대한 탄핵 소추를 할 수도 있지.

- ① B는 국무 회의의 부의장이다.
- ② C는 조약의 체결 및 비준에 대한 동의권이 있다.
- ③ D의 재판관 9명 모두 A가 임명한다.
- ④ B와 C의 장(長)은 A가 임명한다.
- ⑤ D는 A, B에 대한 탄핵 심판권을 가진다.

정치와 법

6. 국제법의 법원(法源) A~C에 대한 옳은 설명만을 <보기>에서 있는 대로 고른 것은? (단, A~C는 각각 국제 관습법, 법의 일반 원칙, 조약 중 하나이다.)

- A와 달리 B, C는 국제 사회에서 포괄적 구속력을 갖는다.
- '국내 문제 불간섭'은 B에 해당한다.

< 보 기 >

ㄱ. 국가 또는 국제기구는 A의 체결 당사자가 될 수 있다.
 ㄴ. '신의 성실의 원칙'은 C에 해당한다.
 ㄷ. '문서 형식의 합의가 일반적인가?'라는 질문으로 B, C를 구분할 수 있다.
 ㄹ. A~C는 우리나라에서 헌법과 동등한 지위를 가진다.

- ① ㄱ, ㄴ ② ㄱ, ㄹ ③ ㄷ, ㄹ
 ④ ㄱ, ㄴ, ㄷ ⑤ ㄴ, ㄷ, ㄹ

7. 밑줄 친 ㉠~㉣에 대한 설명으로 옳은 것은? [3점]

내년 시행을 앞두고 있는 복지 정책 A에 소요되는 비용을 ㉠ 중앙 정부 외에 ㉡ 지방 자치 단체도 일정 비율만큼 부담하는 것으로 알려지자, ㉢ □□군 군수와 ㉣ □□군 의회는 "□□군은 재정 자립도가 너무 낮아 해당 비용을 부담할 여력이 없다."라며 부담률을 낮춰 줄 것을 호소하고 있다. 또한 ㉤ ○○도지사는 "중앙 정부가 복지 정책 A에 소요되는 비용 일체를 부담해야 한다."라고 주장하고 있다.

- ① ㉠과 ㉡은 수평적 권력 분립 관계에 있다.
 ② ㉢은 의결 기관, ㉣은 집행 기관이다.
 ③ ㉢, ㉣ 모두 주민 소환의 대상이 된다.
 ④ ㉤은 ㉢이 제정한 규칙의 범위 내에서 조례를 제정할 수 있다.
 ⑤ ㉤의 구성원은 ㉢과 달리 상대 다수 대표제로 선출된다.

8. 다음 자료에 대한 옳은 설명만을 <보기>에서 고른 것은?

○ 갑은 미신고 옥외 집회를 개최한 혐의로 기소 유예 처분을 받았다. 무죄를 주장하는 갑은 기소 유예 처분의 취소를 구하는 A를 □㉠에 청구하였다.
 ○ 을은 1심 재판 진행 중 재판의 전제가 된 도로 교통법의 해당 조항에 대해 위헌 법률 심판 제청을 신청했으나 기각되었다. 이에 을은 □㉡에 B를 청구하였는데, □㉢은 해당 조항에 대해 합헌 결정을 하였다.

< 보 기 >

ㄱ. ㉠은 상고심을 담당한다.
 ㄴ. 법원의 판결은 A의 청구 대상이 되지 않는다.
 ㄷ. 을뿐만 아니라 법원도 B를 청구할 수 있다.
 ㄹ. A는 권리 구제형 헌법 소원 심판, B는 위헌 심사형 헌법 소원 심판이다.

- ① ㄱ, ㄴ ② ㄱ, ㄷ ③ ㄴ, ㄷ ④ ㄴ, ㄹ ⑤ ㄷ, ㄹ

9. 다음 사례에 대한 법적 판단으로 옳은 것은? [3점]

- 갑이 운영하는 음식점의 직원 을이 배달을 위해 오토바이를 운행하던 중에 부주의로 A를 치어 부상을 입혔다.
- 병은 정이 소유한 건물을 빌려 음식점을 운영하고 있었는데, 어느 날 음식점의 창틀이 떨어져 B가 다쳤다.

- ① 을의 행위가 불법 행위로 성립해야 갑이 사용자의 배상 책임을 진다.
 ② 병과 정은 공동 불법 행위자의 책임을 진다.
 ③ 병이 면책되면 B가 손해 배상을 받을 방법은 없다.
 ④ A는 을이 아닌 갑에게 손해 배상을 청구해야 한다.
 ⑤ B의 손해에 대한 1차적 책임은 정에게 있다.

10. 다음 자료에 대한 분석으로 옳은 것은? [3점]

다음 표는 갑국의 t대 의회 의원 선거 결과이다.

(단위: 표)

구분	A당	B당	C당	D당
1 선거구	100	200	300	400
2 선거구	300	400	150	150
3 선거구	200	350	200	250
4 선거구	150	150	250	450
5 선거구	200	250	450	100
6 선거구	300	400	150	150
7 선거구	450	300	100	150
8 선거구	250	200	400	150
9 선거구	200	150	300	350
10 선거구	450	200	250	100

* 소선거구제를 적용하며, 투표율은 100%이고 무효표는 없다.

갑국은 t+1대 선거에서는 비례 대표제를 도입하면서 의회 의원 정수를 t대보다 40% 늘리기로 하였다. 변경안은 다음과 같으며, 별도의 정당 투표에서 예상되는 정당 득표율은 아래 표와 같다.

- 지역구 의원 선거: 기존 선거구를 1-2, 3-4, 5-6, 7-8, 9-10으로 통합하여 5개로 축소하고, 각 선거구별 1명씩 단순 다수 대표제로 선출한다.
- 비례 대표 의원 선거: 비례 대표 의원 정수에 별도의 정당 투표에 따른 각 정당의 정당 득표율을 곱하여 산출된 수의 정수(整數)만큼 의석을 각 정당에 먼저 배분하고, 이후 잔여 의석은 소수점 이하의 수가 큰 순서대로 각 정당에 1석씩 배분한다.

정당	A당	B당	C당	D당
예상 정당 득표율(%)	28	33	23	16

* t+1대의 지역구 의원 선거 결과는 t대의 지역구 의원 선거 결과를 기준으로 판단하며, 비례 대표 의원 선거 결과는 예상 정당 득표율로 판단한다.

- ① t대에서 과반수 의석을 차지하는 정당이 나타난다.
 ② t+1대에서 C당은 B당과 달리 과소 대표된다.
 ③ t+1대에서 D당은 C당보다 비례 대표 의석이 1석 더 많다.
 ④ t대에 비해 t+1대에서 A당은 C당과 달리 불리해진다.
 ⑤ t대의 지역구 선거구제는 t+1대보다 사표가 많이 발생한다.

11. 다음 자료에 대한 설명으로 옳은 것은? (단, ○○국과 □□국은 모두 전형적인 정부 형태를 채택하고 있다.) [3점]

t기에 ○○국은 □□국과 달리 (가) 라는 것을 특징으로 하는 정부 형태를 채택하고 있었다. 그런데 ○○국은 t+1기에 t기와 달리 (나) 라는 것을 특징으로 하는 정부 형태로 변경하였으며, □□국은 정부 형태를 변경하지 않았다. 표는 시기별 정치 상황을 나타낸 것이다.

구분	○○국		□□국	
	t기	t+1기	t기	t+1기
원내 제1당	A당	B당	㉠	을당
원내 제1당의석수	130석	㉡	180석	140석
행정부 수반의 소속 정당	㉢	B당	갑당	㉣

* ○○국과 □□국 모두 의회 의석수는 300석으로 변함이 없다.

- ① ㉠이 '을당'이라면, t기에 □□국에서는 행정부 수반의 의회 해산권이 인정된다.
- ② ㉣이 'B당'이라면, t+1기에 ○○국에서는 행정부 수반의 임기가 엄격히 보장된다.
- ③ (가)에 '입법부에 의해 행정부가 구성된다.'가 들어가면, t+1기에 □□국에서는 여소야대 상황이 나타난다.
- ④ (가)에 '국가 원수와 행정부 수반이 동일인이다.'가 들어가면, ㉡에 151석 이상의 의석수가 들어가야 한다.
- ⑤ (나)에 '행정부가 법률안을 제출할 수 있다.'가 들어가면, ㉣은 '을당'이 될 수 없다.

12. 다음은 서술형 평가 문항에 대한 학생의 답안과 그에 대한 교사의 채점 결과이다. 이에 대한 설명으로 옳은 것은? (단, A~C는 각각 국제 사법 재판소, 안전 보장 이사회, 총회 중 하나이다.)

[서술형] 국제 연합의 주요 기관 A~C 중 하나를 선택하여 그 특징을 3가지 쓰시오. (옳은 내용 1개당 1점, 총 3점임.)

학생	선택	답안	점수
갑	A	<ul style="list-style-type: none"> ○ 모든 구성 국가는 거부권을 가진다. ○ 국제 연합의 실질적 의사 결정 기관이다. ○ (가) 	2점
을	B	<ul style="list-style-type: none"> ○ 국제 연합의 모든 회원국으로 구성된다. ○ (나) ○ 국제법에 따라 국가와 국가, 개인과 개인 간 분쟁을 해결한다. 	2점

- ① A의 모든 이사국은 2년마다 교체된다.
- ② C는 원칙적으로 국제 분쟁에 대한 강제적 관할권을 가진다.
- ③ B는 A와 달리 표결 시 1국 1표의 원칙을 적용한다.
- ④ (가)에 '서로 다른 국적을 가진 15명의 재판관으로 구성된다.'가 들어갈 수 있다.
- ⑤ (나)에 'C의 재판관 선출 권한을 갖는다.'가 들어갈 수 있다.

13. 다음 자료에 대한 옳은 설명만을 <보기>에서 고른 것은?

교사: 민법의 기본 원리에 대하여 발표해 보세요.
 갑: ㉠ 계약 자유의 원칙, ㉡ 과실 책임의 원칙, 소유권 절대의 원칙은 개인주의와 자유주의를 이념적 기반으로 합니다.
 을: _____ (가)
 병: 소유권 공공복리의 원칙에 따르면 개인의 재산권은 절대적 권리의 성격을 갖습니다.
 교사: ㉢ 두 사람만 옳게 발표했네요.

< 보 기 >

- ㄱ. ㉠에 따르면 현저히 불공정한 내용의 계약은 무효이다.
- ㄴ. 현대 민법에서 ㉡은 무과실 책임의 원칙으로 대체되었다.
- ㄷ. ㉢은 갑과 을이다.
- ㄹ. (가)에 '과실 책임의 원칙은 경제적 강자의 책임 회피 수단으로 악용될 수 있습니다.'가 들어갈 수 있다.

- ① ㄱ, ㄴ ② ㄱ, ㄷ ③ ㄴ, ㄷ ④ ㄴ, ㄹ ⑤ ㄷ, ㄹ

14. 다음 사례에 대한 법적 판단으로 옳은 것은? [3점]

17세인 A~C는 판매업자 D로부터 고가의 노트북을 구매하는 계약을 체결하였다. A는 부모의 동의를 얻지 않았고, B와 C는 모두 부모의 동의서를 제시하였으나, C는 동의서를 위조하여 제시하였다. 계약 체결 당시에 D는 A가 미성년자임을 알지 못했다.
 * A~C의 부모는 모두 법정 대리인이다.

- ① B의 부모는 계약을 취소할 수 있다.
- ② A의 부모와 C의 부모는 모두 계약을 취소할 수 있다.
- ③ B는 A와 달리 계약을 취소할 수 없다.
- ④ D는 A에게 계약 체결의 의사 표시를 철회할 수 없다.
- ⑤ D는 A에게 계약의 취소 여부에 대한 확답을 촉구할 수 있다.

15. 다음은 ○○법의 제정을 둘러싼 여러 정치 주체들의 활동을 시간순으로 나타낸 것이다. 이에 대한 설명으로 옳은 것은?

㉠ 언론	부정부패 방지를 요구하는 여론이 높아짐을 보도
㉡ 정당	여당인 □□당은 부정 청탁 및 금품 등 수수 금지를 규정하는 ○○법 제정을 위해 당정 협의회를 요구
㉢ 국회	(가)○○법 제정
㉣ 이익 집단	(나)○○법 적용 대상 완화를 요구하는 집회를 개최
㉤ 시민 단체	(다)○○법 적용 대상 확대를 요구하는 집회를 개최

- ① (가)는 정치 과정 중 투입에 해당한다.
- ② (나), (다) 모두 정치 과정 중 환류에 해당한다.
- ③ ㉡, ㉣은 정책 결정 기구에 해당한다.
- ④ ㉣은 ㉡과 달리 집단의 특수 이익을 추구한다.
- ⑤ ㉠은 ㉡, ㉢과 달리 여론을 형성하는 기능이 있다.

16. 밑줄 친 ㉠~㉢에 대한 옳은 설명만을 <보기>에서 있는 대로 고른 것은? [3점]

갑과 을은 자녀 A에 대한 친권과 양육권을 을이 갖기로 하고 ㉠협의를 이혼을 하였다. 이후 갑은 병과 재혼을 하면서, 병과 전 배우자인 정 사이에 태어난 ㉡B를 친양자로 입양하였다. 그런데 갑, 병이 함께 여행을 하던 중 사고를 당하여 ㉢갑은 즉시 사망하였고, ㉣병은 입원 중 사망하였다. 갑과 병은 유언을 남기지 않았고, 사고 당시 갑에게는 14억 원, 병에게는 10억 원의 재산이 있었다.

< 보 기 >
 ㄱ. 갑과 을은 ㉠을 위해 이혼 조정 절차를 거쳤을 것이다.
 ㄴ. ㉡으로 인해 정과 B의 친자 관계는 종료된다.
 ㄷ. ㉢으로 인해 A는 갑의 재산 중 4억 원을 법정 상속받는다.
 ㄹ. ㉣, ㉤의 결과 B의 최종 법정 상속액은 16억 원이다.

- ① ㄱ, ㄷ ② ㄱ, ㄹ ③ ㄴ, ㄷ
 ④ ㄱ, ㄴ, ㄹ ⑤ ㄴ, ㄷ, ㄹ

17. 다음 자료에 대한 설명으로 옳은 것은? [3점]

○ 갑은 상해죄 혐의로 체포되어 ㉠구속 적부 심사를 거친 후 구속된 상태에서 기소되었다. 이후 ㉡항소, 상고를 거쳐 대법원에서 갑에 대한 무죄가 확정되었다.
 ○ 을은 사기죄 혐의로 1심 법원에서 징역 2년을 선고받아 법정 구속되었고, 2심 법원에서 징역 2년에 집행 유예 3년을 선고받았다. 을과 검사는 상고를 하지 않았다.
 ○ 병은 절도죄 혐의로 ㉢구속 영장 실질 심사 후 구속 수사를 받았다. 검사는 병에게 기소 유예 처분을 하였다.

- ① 을은 1심 법원에서 징역이 부과되지 않는 형을 선고받았다.
 ② 갑은 을, 병과 달리 형사 보상을 청구할 수 있다.
 ③ ㉠에서 갑의 청구는 인용되었다.
 ④ ㉡은 모두 검사에 의해 이루어졌다.
 ⑤ ㉠은 판사, ㉢은 검사의 권한이다.

18. (가)에 들어갈 수 있는 법적 내용으로 옳은 것은?

Q: 저에게는 자녀 갑(16세)과 을(20세)이 있는데, 방학을 맞이하여 아르바이트를 한다고 하네요. 아르바이트를 처음 하기 때문에 부모로서 조언을 해 주고 싶은데 제가 근로 기준법을 잘 몰라서요. 법적 조언을 부탁드립니다.
 A: _____ (가)

- ① 을과 달리 갑의 근로 계약은 부모가 체결해야 합니다.
 ② 갑, 을 모두 독자적으로 임금을 청구할 수 있어요.
 ③ 갑, 을 모두 근로 계약을 체결할 때 부모의 동의서가 필요해요.
 ④ 갑, 을 모두 1주일에 최대 12시간 연장 근로를 할 수 있어요.
 ⑤ 원칙적으로 갑은 1주일에 40시간, 을은 1주일에 42시간 이 내에서 근로할 수 있어요.

19. 다음 사례에 대한 옳은 법적 판단만을 <보기>에서 고른 것은?

갑(12세)은 불장난을 하다가 A의 창고를 태워 A에게 재산상 피해를 주었고, 을(16세)은 같은 학교에 다니는 학생을 폭행하여 전치 5주의 상해를 입혔다.

< 보 기 >
 ㄱ. 갑과 달리 을에게는 소년법상 보호 처분을 내릴 수 없다.
 ㄴ. 갑과 달리 을에게는 선도 조건부 기소 유예 처분을 내릴 수 있다.
 ㄷ. 갑이 민법상 책임 능력이 없다면, A는 갑의 부모에게 특수 불법 행위 책임을 물을 수 있다.
 ㄹ. 갑이 민법상 책임 능력이 있다면, A는 갑의 부모에게 일반 불법 행위 책임을 물을 수 없다.

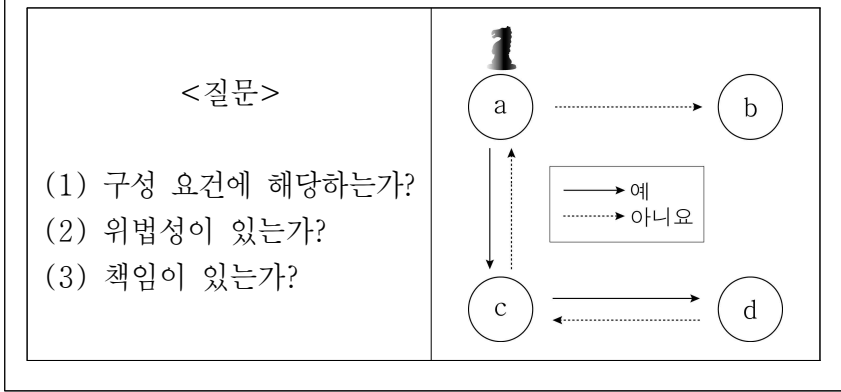
- ① ㄱ, ㄴ ② ㄱ, ㄷ ③ ㄴ, ㄷ ④ ㄴ, ㄹ ⑤ ㄷ, ㄹ

20. 다음 자료에서 갑~병의 말이 출발점(a) 다음에 이동한 경로로 옳은 것은? (단, 갑~병 모두 옳은 판단을 하였다.) [3점]

갑~병은 각각 아래의 무죄 판결 사례 카드를 배분받았다.

<갑>	<을>	<병>
법원은 A의 절도 행위가 자녀를 인질로 한 피할 수 없는 강요에 의한 행위라고 판단함.	B가 ○○법 위반 혐의로 재판 을 받던 중 헌법 재판소에서 ○○법에 대해 위헌 결정을 내림.	법원은 C의 폭행 행위에 대해 정당방위라고 판단함.

갑~병은 자신의 카드 사례에 대한 질문 (1)~(3)의 답을 차례대로 판단한 후, 그 답에 따라 아래 그림의 a에서 출발하여 각자의 말을 움직인다. 단, 해당 질문에 대한 답이 '아니요'이면 그 다음 질문은 진행하지 않는다.



- | | 갑 | 을 | 병 |
|---|-------|-------|-------|
| ① | b | c→a | c→d→c |
| ② | b | c→d→c | c→a |
| ③ | c→a | b | c→d→c |
| ④ | c→d→c | b | c→a |
| ⑤ | c→d→c | c→a | b |

* 확인 사항
 ○ 답안지의 해당란에 필요한 내용을 정확히 기입(표기)했는지 확인하시오.