

제 4 교시

과학탐구 영역(지구과학 I)

성명  수험 번호  -  제 [ ] 선택

1. 다음은 판 구조론이 정립되는 과정에서 등장한 두 이론에 대하여 학생 A, B, C가 나눈 대화를 나타낸 것이다.

이론	내용
㉠	고생대 말에 판게아가 존재하였고, 약 2억 년 전에 분리되기 시작하여 현재와 같은 대륙 분포가 되었다.
㉡	맨틀이 대류하는 과정에서 대륙이 이동할 수 있다.

대서양 양쪽에 있는 남아메리카 대륙과 아프리카 대륙의 해안선 모양이 비슷한 것은 ㉠의 증거가 될 수 있어.

㉡에 의하면 맨틀 대류가 상승하는 곳에 해구가 형성돼.

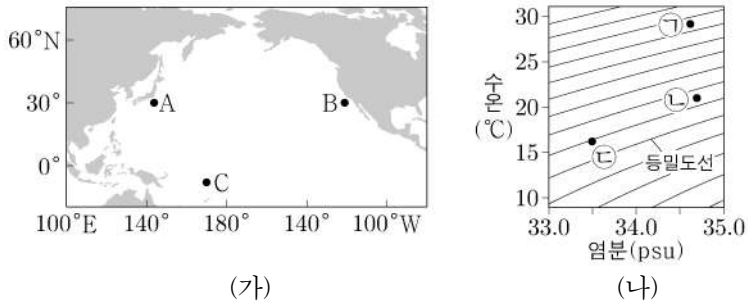
베게너는 음향 측심 자료를 이용하여 ㉠을 설명했어.



제시한 내용이 옳은 학생만을 있는 대로 고른 것은?

- ① A      ② B      ③ A, C      ④ B, C      ⑤ A, B, C

2. 그림 (가)는 태평양의 해역 A, B, C를, (나)는 이 세 해역에서 관측한 수온과 염분을 수온-염분도에 ㉠, ㉡, ㉢으로 순서 없이 나타낸 것이다.

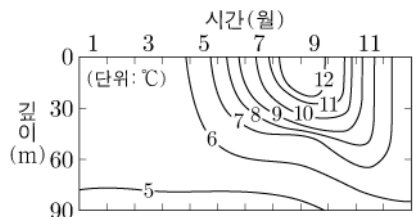


이에 대한 설명으로 옳은 것만을 <보기>에서 있는 대로 고른 것은?

- <보기>
- ㄱ. A의 관측값은 ㉡이다.  
 ㄴ. A, B, C 중 해수의 밀도가 가장 큰 해역은 B이다.  
 ㄷ. C에 흐르는 해류는 무역풍에 의해 형성된다.

- ① ㄱ      ② ㄷ      ③ ㄱ, ㄴ      ④ ㄴ, ㄷ      ⑤ ㄱ, ㄴ, ㄷ

3. 그림은 북반구 중위도 어느 해역에서 1년 동안 관측한 수온 변화를 등수온선으로 나타낸 것이다.

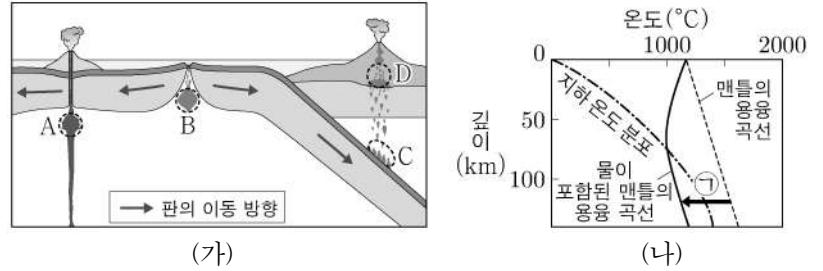


이 자료에 대한 설명으로 옳은 것만을 <보기>에서 있는 대로 고른 것은?

- <보기>
- ㄱ. 표층에서 수온의 연교차는 10℃보다 크다.  
 ㄴ. 수온 약층은 9월이 5월보다 뚜렷하게 나타난다.  
 ㄷ. 6℃ 등수온선은 5월이 11월보다 깊은 곳에서 나타난다.

- ① ㄱ      ② ㄴ      ③ ㄱ, ㄷ      ④ ㄴ, ㄷ      ⑤ ㄱ, ㄴ, ㄷ

4. 그림 (가)는 마그마가 생성되는 지역 A~D를, (나)는 마그마가 생성되는 과정 중 하나를 나타낸 것이다.

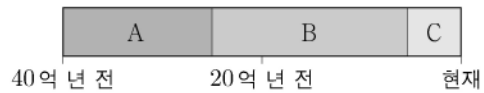


이에 대한 설명으로 옳은 것만을 <보기>에서 있는 대로 고른 것은? [3점]

- <보기>
- ㄱ. A의 하부에는 플룸 상승류가 있다.  
 ㄴ. (나)의 ㉠ 과정에 의해 마그마가 생성되는 지역은 B이다.  
 ㄷ. 생성되는 마그마의 SiO<sub>2</sub> 함량(%)은 C에서가 D에서보다 높다.

- ① ㄱ      ② ㄴ      ③ ㄱ, ㄷ      ④ ㄴ, ㄷ      ⑤ ㄱ, ㄴ, ㄷ

5. 그림은 40억 년 전부터 현재까지의 지질 시대를 3개의 누대로 나타낸 것이다.




이에 대한 설명으로 옳은 것만을 <보기>에서 있는 대로 고른 것은? [3점]

- <보기>
- ㄱ. 대기 중 산소의 농도는 A 시기가 B 시기보다 높았다.  
 ㄴ. 다세포 동물은 B 시기에 출현했다.  
 ㄷ. 가장 큰 규모의 대멸종은 C 시기에 발생했다.

- ① ㄱ      ② ㄷ      ③ ㄱ, ㄴ      ④ ㄴ, ㄷ      ⑤ ㄱ, ㄴ, ㄷ

6. 그림 (가)는 해수면이 하강하는 과정에서 형성된 퇴적층의 단면이고, (나)는 (가)의 퇴적층에서 나타나는 퇴적 구조 A와 B이다.



이 자료에 대한 설명으로 옳은 것만을 <보기>에서 있는 대로 고른 것은?

- <보기>
- ㄱ. (가)의 퇴적층 중 가장 얇은 수심에서 형성된 것은 이암층이다.  
 ㄴ. (나)의 A와 B는 주로 역암층에서 관찰된다.  
 ㄷ. (나)의 A와 B 중 층리면에서 관찰되는 퇴적 구조는 B이다.

- ① ㄱ      ② ㄴ      ③ ㄷ      ④ ㄱ, ㄷ      ⑤ ㄴ, ㄷ

## 2 (지구과학 I)

## 과학탐구 영역

7. 표는 허블의 은하 분류 기준과 이에 따라 분류한 은하의 종류를 나타낸 것이고, 그림은 은하 A의 가시광선 영상이다. (가)~(라)는 각각 타원 은하, 정상 나선 은하, 막대 나선 은하, 불규칙 은하 중 하나이고, A는 (가)~(라) 중 하나에 해당한다.

분류 기준	(가)	(나)	(다)	(라)
규칙적인 구조가 있는가?	○	○	×	○
나선팔이 있는가?	○	○	×	×
중심부에 막대 구조가 있는가?	○	×	×	×



(○: 있다, ×: 없다) A

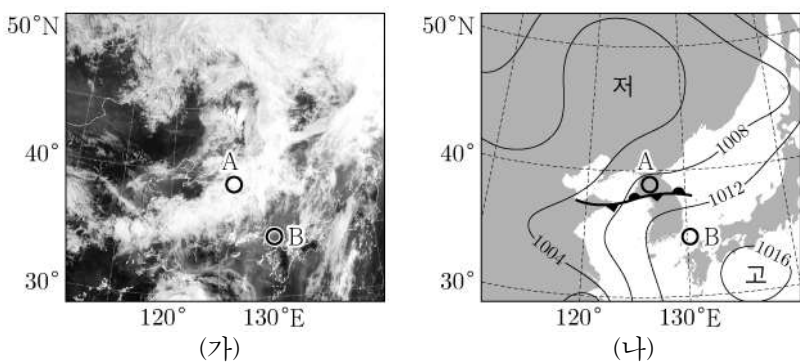
이 자료에 대한 설명으로 옳은 것만을 <보기>에서 있는 대로 고른 것은?

<보 기>

- ㄱ. 은하의 질량에 대한 성간 물질의 질량비는 (가)가 (다)보다 작다.  
 ㄴ. 은하를 구성하는 별의 평균 표면 온도는 (나)가 (라)보다 높다.  
 ㄷ. A는 (라)에 해당한다.

- ① ㄱ      ② ㄷ      ③ ㄱ, ㄴ      ④ ㄴ, ㄷ      ⑤ ㄱ, ㄴ, ㄷ

8. 그림 (가)와 (나)는 어느 날 같은 시각 우리나라 부근의 가시 영상과 지상 일기도를 각각 나타낸 것이다.



이 자료에 대한 설명으로 옳은 것만을 <보기>에서 있는 대로 고른 것은?

<보 기>

- ㄱ. 구름의 두께는 A 지역이 B 지역보다 두껍다.  
 ㄴ. A 지역의 구름을 형성하는 수증기는 주로 전선의 남쪽에 위치한 기단에서 공급된다.  
 ㄷ. B 지역의 지상에서는 남풍 계열의 바람이 분다.

- ① ㄱ      ② ㄴ      ③ ㄱ, ㄷ      ④ ㄴ, ㄷ      ⑤ ㄱ, ㄴ, ㄷ

9. 표는 별 (가), (나), (다)의 분광형과 절대 등급을 나타낸 것이다.

별	분광형	절대 등급
(가)	G	0.0
(나)	A	+1.0
(다)	K	+8.0

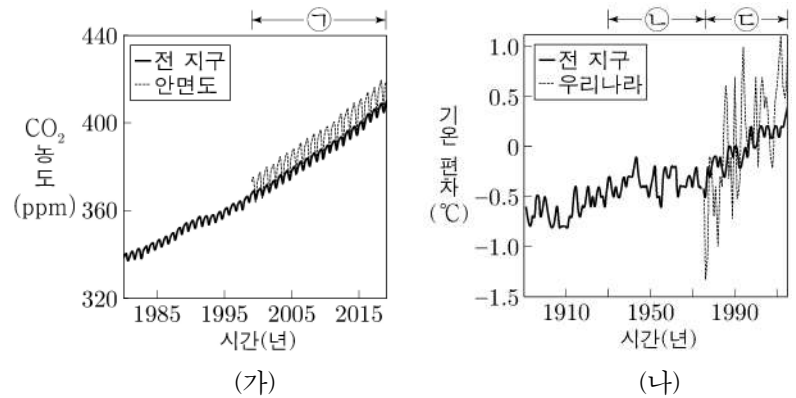
(가), (나), (다)에 대한 설명으로 옳은 것만을 <보기>에서 있는 대로 고른 것은? [3점]

<보 기>

- ㄱ. (가)의 중심핵에서는 주로 양성자·양성자 반응(p-p 반응)이 일어난다.  
 ㄴ. 단위 면적당 단위 시간에 방출하는 에너지량은 (나)가 가장 많다.  
 ㄷ. (다)의 중심핵 내부에서는 주로 대류에 의해 에너지가 전달된다.

- ① ㄱ      ② ㄴ      ③ ㄷ      ④ ㄱ, ㄴ      ⑤ ㄴ, ㄷ

10. 그림 (가)는 전 지구와 안면도의 대기 중 CO<sub>2</sub> 농도를, (나)는 전 지구와 우리나라의 기온 편차(관측값-평년값)를 나타낸 것이다.



(가)

(나)

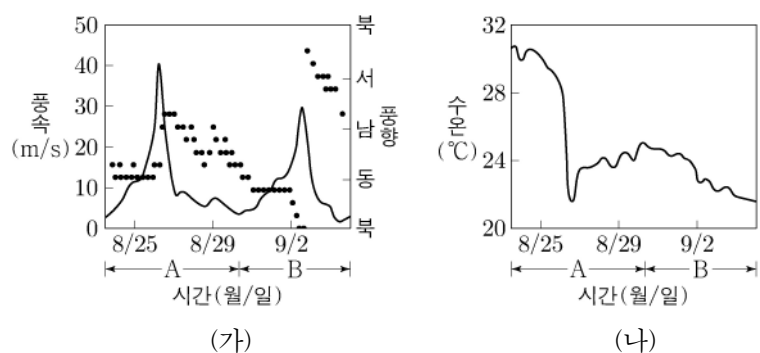
이 자료에 대한 설명으로 옳은 것만을 <보기>에서 있는 대로 고른 것은?

<보 기>

- ㄱ. ㉠ 시기 동안 CO<sub>2</sub> 평균 농도는 안면도가 전 지구보다 낮다.  
 ㄴ. ㉡ 시기 동안 기온 상승률은 전 지구가 우리나라보다 작다.  
 ㄷ. 전 지구 해수면의 평균 높이는 ㉢ 시기가 ㉣ 시기보다 낮다.

- ① ㄱ      ② ㄷ      ③ ㄱ, ㄴ      ④ ㄴ, ㄷ      ⑤ ㄱ, ㄴ, ㄷ

11. 그림 (가)는 우리나라의 어느 해양 관측소에서 관측된 풍속과 풍향 변화를, (나)는 이 관측소의 표층 수온 변화를 나타낸 것이다. A와 B는 서로 다른 두 태풍의 영향을 받은 기간이다.



(가)

(나)

이 자료에 대한 설명으로 옳은 것만을 <보기>에서 있는 대로 고른 것은? [3점]

<보 기>

- ㄱ. A 시기에 태풍의 눈은 관측소를 통과하였다.  
 ㄴ. B 시기에 관측소는 태풍의 안전 반원에 위치하였다.  
 ㄷ. A 시기의 급격한 수온 하강은 B 시기에 통과하는 태풍을 강화시켰다.

- ① ㄱ      ② ㄴ      ③ ㄷ      ④ ㄱ, ㄴ      ⑤ ㄴ, ㄷ

12. 다음은 고지자기 자료를 이용하여 대륙의 과거 위치를 알아보기 위한 탐구 활동이다.

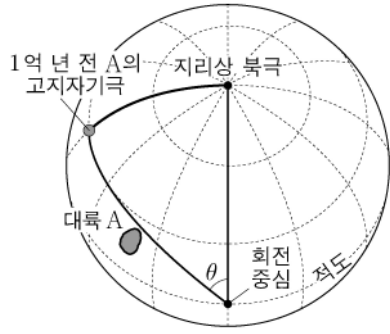
[가정]

- 고지자기극은 고지자기 방향으로 추정된 지리상 북극이고, 지리상 북극은 변하지 않았다.
- 현재 지자기 북극은 지리상 북극과 일치한다.

[탐구 과정]

(가) 대륙 A의 현재 위치, 1억 년 전 A의 고지자기극 위치, 회전 중심이 표시된 지구본을 준비한다.

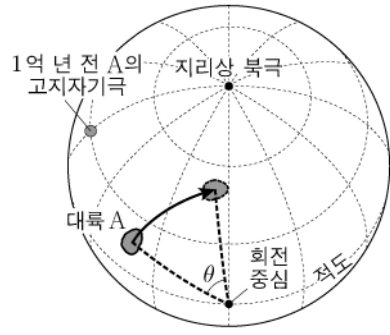
(나) 오른쪽 그림과 같이 회전 중심을 중심으로 1억 년 전 A의 고지자기극과 지리상 북극 사이의 각( $\theta$ )을 측정한다.



(다) 회전 중심을 중심으로 A를  $\theta$ 만큼 회전시키고, 1억 년 전 A의 위치를 표시한 후, 현재와 1억 년 전 A의 위치를 비교한다. 회전 방향은 1억 년 전 A의 고지자기극이 (㉠)을 향하는 방향이다.

[탐구 결과]

- 각( $\theta$ ): ( )
- 대륙 A의 위치 비교: 1억 년 전 A의 위치는 현재보다 (㉡)에 위치한다.



이에 대한 설명으로 옳은 것만을 <보기>에서 있는 대로 고른 것은? [3점]

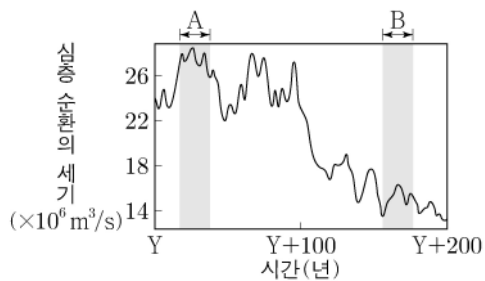
<보기>

- ㉠. 지리상 북극은 ㉠에 해당한다.
- ㉡. 고위도는 ㉡에 해당한다.
- ㉢. A의 고지자기 북극은 1억 년 전이 현재보다 작다.

- ① ㉠    ② ㉡    ③ ㉠, ㉡    ④ ㉡, ㉢    ⑤ ㉠, ㉡, ㉢

13. 그림은 북대서양 심층 순환의 세기 변화를 시간에 따라 나타낸 것이다.

A 시기와 비교할 때, B 시기의 북대서양 심층 순환과 관련된 설명으로 옳은 것만을 <보기>에서 있는 대로 고른 것은? [3점]

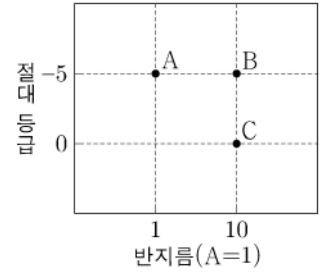


<보기>

- ㉠. 북대서양 심층수가 형성되는 해역에서 침강이 약하다.
- ㉡. 북대서양에서 고위도로 이동하는 표층 해류의 흐름이 강하다.
- ㉢. 북대서양에서 저위도와 고위도의 표층 수온 차가 크다.

- ① ㉠    ② ㉡    ③ ㉠, ㉡    ④ ㉡, ㉢    ⑤ ㉠, ㉡, ㉢

14. 그림은 별 A, B, C의 반지름과 절대 등급을 나타낸 것이다. A, B, C는 각각 초거성, 거성, 주계열성 중 하나이다.



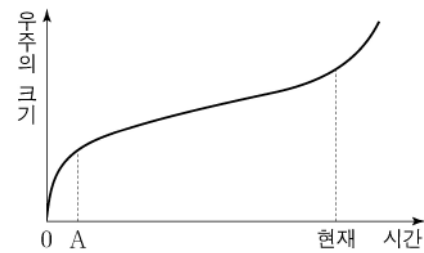
A, B, C에 대한 설명으로 옳은 것만을 <보기>에서 있는 대로 고른 것은? [3점]

<보기>

- ㉠. 표면 온도는 A가 B의  $\sqrt{10}$  배이다.
- ㉡. 복사 에너지를 최대로 방출하는 파장은 B가 C보다 길다.
- ㉢. 광도 계급이 V인 것은 C이다.

- ① ㉠    ② ㉡    ③ ㉢    ④ ㉠, ㉡    ⑤ ㉡, ㉢

15. 그림은 어느 팽창 우주 모형에서 시간에 따른 우주의 크기 변화를 나타낸 것이다.



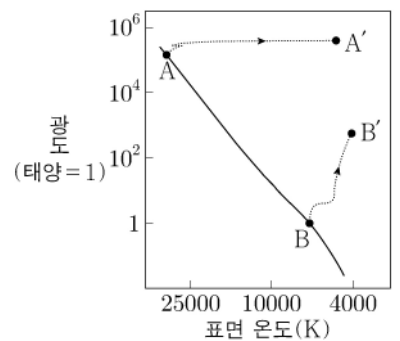
이에 대한 설명으로 옳은 것만을 <보기>에서 있는 대로 고른 것은?

<보기>

- ㉠. A 시기에 우주는 감속 팽창했다.
- ㉡. 현재 우주에서 물질이 차지하는 비율은 암흑 에너지가 차지하는 비율보다 크다.
- ㉢. 우주 배경 복사의 파장은 A 시기가 현재보다 길다.

- ① ㉠    ② ㉢    ③ ㉠, ㉡    ④ ㉡, ㉢    ⑤ ㉠, ㉡, ㉢

16. 그림은 주계열성 A와 B가 각각 A'와 B'로 진화하는 경로를 H-R도에 나타낸 것이다. B는 태양이다.



이에 대한 설명으로 옳은 것만을 <보기>에서 있는 대로 고른 것은?

<보기>

- ㉠. A가 A'로 진화하는 데 걸리는 시간은 B가 B'로 진화하는 데 걸리는 시간보다 짧다.
- ㉡. B와 B'의 중심핵은 모두 탄소를 포함한다.
- ㉢. A는 B보다 최종 진화 단계에서의 밀도가 크다.

- ① ㉠    ② ㉡    ③ ㉠, ㉡    ④ ㉡, ㉢    ⑤ ㉠, ㉡, ㉢



# 4 (지구과학 I)

# 과학탐구 영역

17. 다음은 우리은하와 외부 은하 A, B에 대한 설명이다. 세 은하는 일직선상에 위치하며, 허블 법칙을 만족한다.

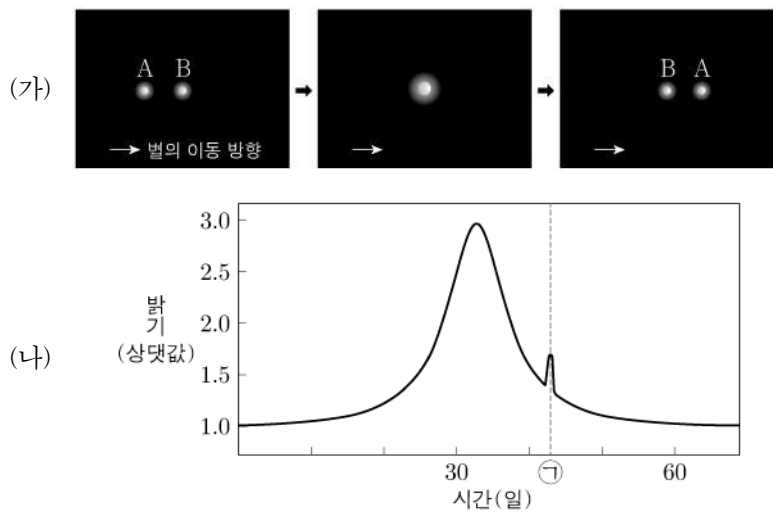
- 우리은하에서 A까지의 거리는 20 Mpc이다.
- B에서 우리은하를 관측하면, 우리은하는 2800 km/s의 속도로 멀어진다.
- A에서 B를 관측하면, B의 스펙트럼에서 500 nm의 기준 파장을 갖는 흡수선이 507 nm로 관측된다.

우리은하에서 A와 B를 관측한 결과에 대한 설명으로 옳은 것만을 <보기>에서 있는 대로 고른 것은? (단, 허블 상수는 70 km/s/Mpc이고, 빛의 속도는  $3 \times 10^5$  km/s이다.)

- <보 기>
- ㄱ. A의 후퇴 속도는 1400 km/s이다.
  - ㄴ. 스펙트럼에서 기준 파장이 동일한 흡수선의 파장 변화량은 B가 A의 2배이다.
  - ㄷ. A와 B는 동일한 시선 방향에 위치한다.

- ① ㄱ      ② ㄷ      ③ ㄱ, ㄴ      ④ ㄴ, ㄷ      ⑤ ㄱ, ㄴ, ㄷ

18. 그림 (가)는 별 A와 B의 상대적 위치 변화를 시간 순서로 배열한 것이고, (나)는 (가)의 관측 기간 동안 이 중 한 별의 밝기 변화를 나타낸 것이다. 이 기간 동안 B는 A보다 지구로부터 멀리 있고, 별과 행성에 의한 미세 중력 렌즈 현상이 관측되었다.

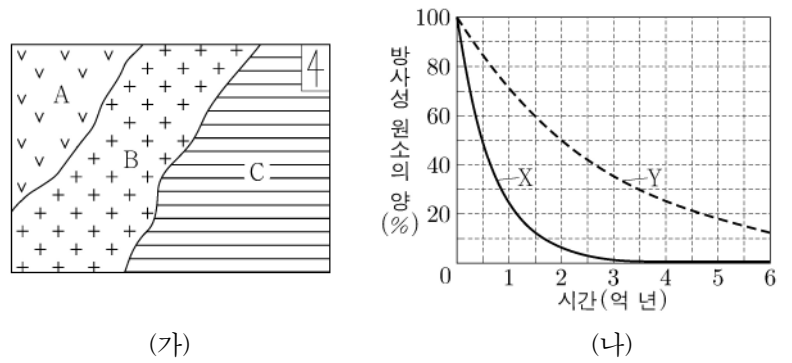


이 자료에 대한 설명으로 옳은 것만을 <보기>에서 있는 대로 고른 것은? [3점]

- <보 기>
- ㄱ. (나)의 ① 시기에 관측자와 두 별의 중심은 일직선상에 위치한다.
  - ㄴ. (나)에서 별의 겉보기 등급 최대 변화량은 1등급보다 작다.
  - ㄷ. (나)로부터 A가 행성을 가지고 있다는 것을 알 수 있다.

- ① ㄱ      ② ㄷ      ③ ㄱ, ㄴ      ④ ㄴ, ㄷ      ⑤ ㄱ, ㄴ, ㄷ

19. 그림 (가)는 어느 지역의 지표에 나타난 화강암 A, B와 셰일 C의 분포를, (나)는 화강암 A, B에 포함된 방사성 원소의 붕괴 곡선 X, Y를 순서 없이 나타낸 것이다. A는 B를 관입하고 있고, B와 C는 부정합으로 접하고 있다. A, B에 포함된 방사성 원소의 양은 각각 처음 양의 20%와 50%이다.

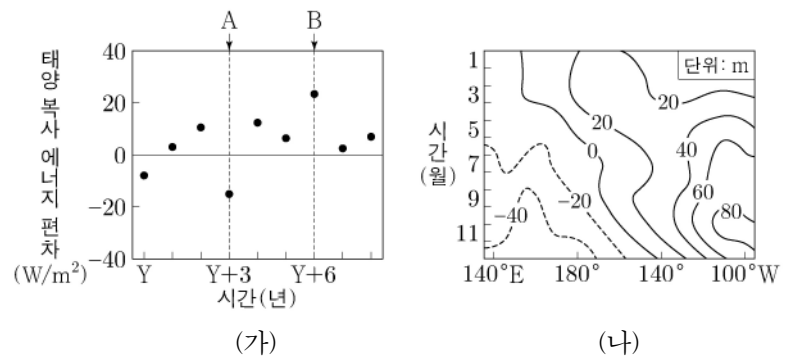


A, B, C에 대한 설명으로 옳은 것만을 <보기>에서 있는 대로 고른 것은? [3점]

- <보 기>
- ㄱ. A에 포함된 방사성 원소의 붕괴 곡선은 X이다.
  - ㄴ. 가장 오래된 암석은 B이다.
  - ㄷ. C는 고생대 암석이다.

- ① ㄱ      ② ㄷ      ③ ㄱ, ㄴ      ④ ㄴ, ㄷ      ⑤ ㄱ, ㄴ, ㄷ

20. 그림 (가)는 서태평양 적도 부근 해역의 표층에 도달하는 태양 복사 에너지 편차(관측값-평년값)를, (나)는 태평양 적도 부근 해역에서 A와 B 중 한 시기에 1년 동안 관측한 20°C 등수온선의 깊이 편차를 나타낸 것이다. A와 B는 각각 엘니뇨와 라니냐 시기 중 하나이다.



이에 대한 설명으로 옳은 것만을 <보기>에서 있는 대로 고른 것은? [3점]

- <보 기>
- ㄱ. (나)는 A에 해당한다.
  - ㄴ. B일 때는 서태평양 적도 부근 해역이 평년보다 건조하다.
  - ㄷ. 적도 부근에서 서태평양 해면 기압은 A가 B보다 작다.

- ① ㄱ      ② ㄴ      ③ ㄱ, ㄷ      ④ ㄴ, ㄷ      ⑤ ㄱ, ㄴ, ㄷ

\* 확인 사항  
○ 답안지의 해당란에 필요한 내용을 정확히 기입(표기)했는지 확인 하시오.