

제 4 교시

사회탐구 영역(세계지리)

성명 수험 번호 - 제 [] 선택

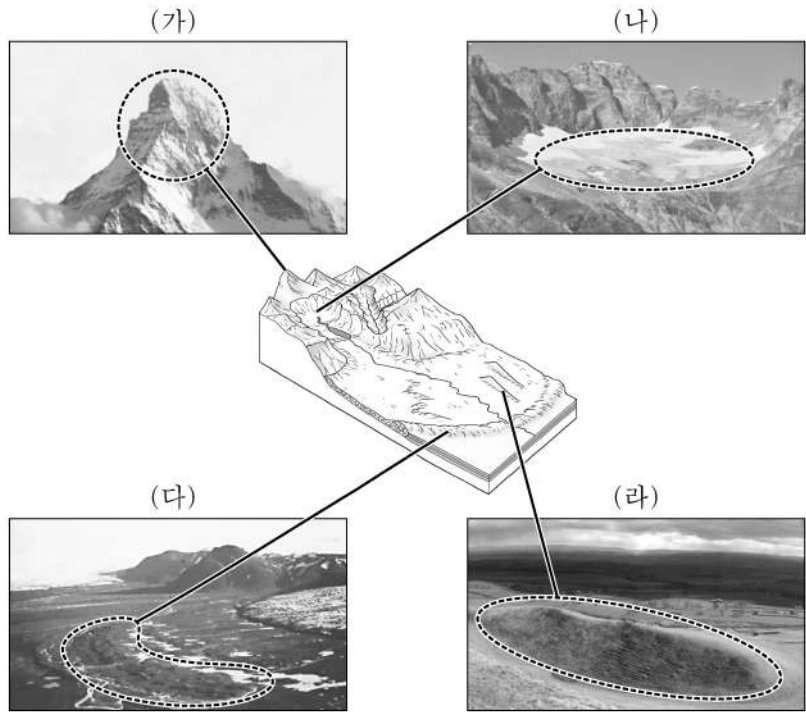
1. 표는 (가)~(다) 국가의 지리 정보를 나타낸 것이다. 이에 대한 설명으로 옳은 것은?

구분	국가	(가)	(나)	(다)
해안선과 국토의 모양				
① 수도의 위·경도		9° 4' N, 7° 29' E	41° 17' S, 174° 47' E	45° 25' N, 75° 41' W
② 인구(천 명)		195,875	4,743	37,075
면적(km ²)		923,768	268,838	9,984,670

(2018)

- ① ①은 지리 정보 중 속성 정보에 해당한다.
- ② ②은 원격 탐사를 이용하여 수집된 정보이다.
- ③ (가)는 아프리카에 속한다.
- ④ (가)는 (다)보다 인구 밀도가 낮다.
- ⑤ (나), (다)의 해안은 모두 인도양에 접해 있다.

2. (가)~(라) 지형에 대한 설명으로 옳은 것만을 <보기>에서 고른 것은? (단, (가)~(라)는 각각 권곡, 드럼린, 모레인, 호른 중 하나임.)

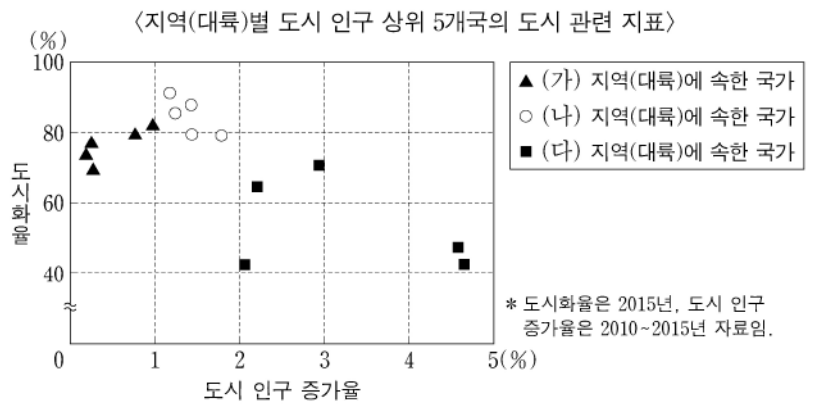


<보 기>

ㄱ. (가)는 빙하에 의해 침식되고 남은 지형이다.
 ㄴ. (나)에서는 물리적 풍화보다 화학적 풍화가 활발하다.
 ㄷ. (다)는 주로 빙하에 의해 운반된 물질이 퇴적된 지형이다.
 ㄹ. (라)는 빙하가 녹은 물이 빙하 밑을 흐르면서 토사를 제방 모양으로 퇴적시켜 형성된 지형이다.

- ① ㄱ, ㄴ ② ㄱ, ㄷ ③ ㄴ, ㄷ ④ ㄴ, ㄹ ⑤ ㄷ, ㄹ

3. 그래프의 (가)~(다) 지역(대륙)에 대한 설명으로 옳은 것만을 <보기>에서 고른 것은? (단, (가)~(다)는 각각 라틴 아메리카, 아프리카, 유럽 중 하나임.) [3점]

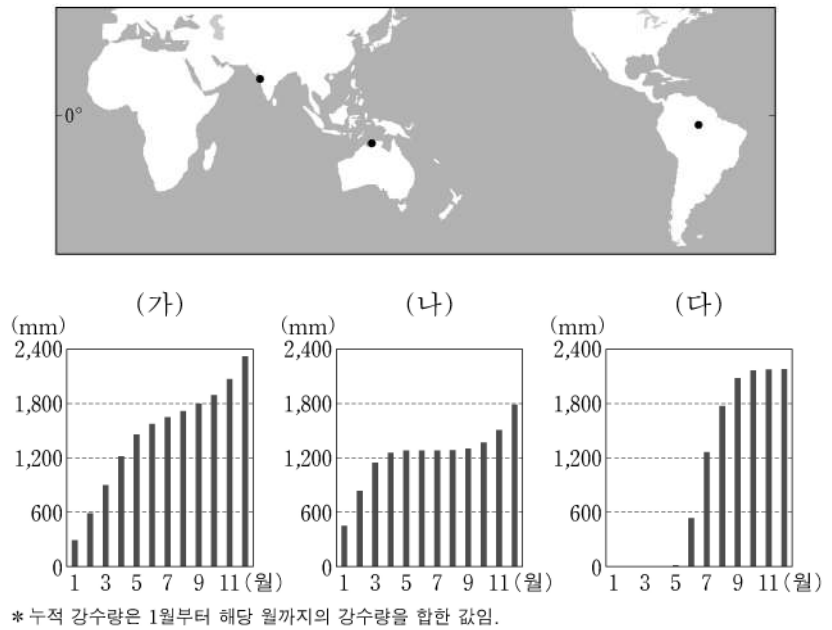


<보 기>

ㄱ. (가)에는 최상위 계층 세계 도시가 위치한다.
 ㄴ. (가)는 (나)보다 산업화의 시작 시기가 이르다.
 ㄷ. (가)는 (다)보다 도시 인구 증가에 따른 기반 시설의 부족 문제가 심각하다.
 ㄹ. 아프리카 도시 인구 상위 5개국 모두 총락 인구가 도시 인구보다 많다.

- ① ㄱ, ㄴ ② ㄱ, ㄷ ③ ㄴ, ㄷ ④ ㄴ, ㄹ ⑤ ㄷ, ㄹ

4. 그래프는 지도에 표시된 세 지점의 누적 강수량을 나타낸 것이다. (가)~(다) 지역에 대한 설명으로 옳은 것만을 <보기>에서 고른 것은? [3점]



<보 기>

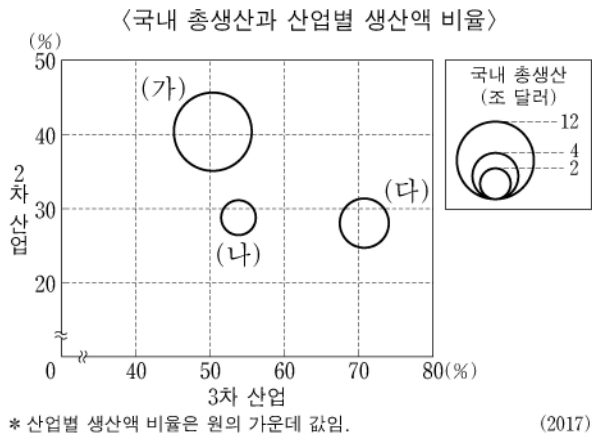
ㄱ. (가)는 기온의 일교차보다 기온의 연교차가 크다.
 ㄴ. (다)는 아시아에 위치한다.
 ㄷ. 북회귀선까지의 최단 거리는 (가)가 (다)보다 짧다.
 ㄹ. (나)는 (다)보다 12월 강수량이 많다.

- ① ㄱ, ㄴ ② ㄱ, ㄷ ③ ㄴ, ㄷ ④ ㄴ, ㄹ ⑤ ㄷ, ㄹ

2 (세계지리)

사회탐구 영역

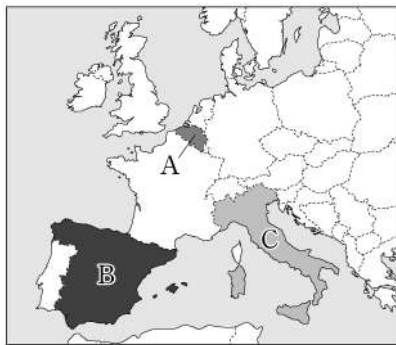
5. 그래프의 (가)~(다) 국가에 대한 설명으로 옳은 것은? (단, (가)~(다)는 각각 인도, 일본, 중국 중 하나임.) [3점]



- ① (다)는 세계에서 인구가 두 번째로 많은 국가이다.
- ② (가)는 (나)보다 1인당 국내 총생산이 많다.
- ③ (나)는 (다)보다 수출액에서 자동차가 차지하는 비율이 높다.
- ④ (다)는 (가)보다 1차 산업 생산액이 많다.
- ⑤ (나)와 (다)는 국경을 접하고 있다.

6. 다음 글은 (가), (나) 국가 내의 갈등을 나타낸 것이다. (가), (나)에 해당하는 국가를 지도의 A~C에서 고른 것은?

- (가) 북부 지역은 주로 네덜란드어를 사용하며 소득 수준이 높은 반면, 남부 지역은 주로 프랑스어를 사용하며 북부 지역에 비해 상대적으로 소득 수준이 낮다. 두 지역 간의 언어 차이와 경제적 격차로 갈등이 나타나고 있다.
- (나) 북동부에 있는 자치주는 국가 전체 면적의 10% 미만이지만, 국내 총생산의 약 20%를 차지한다. 또한 카탈루냐어라는 독자적인 언어를 사용하고 문화와 역사가 다른 지역과 차이가 많아 꾸준히 분리·독립을 요구해 왔다.



- | | (가) | (나) |
|---|-----|-----|
| ① | A | B |
| ② | A | C |
| ③ | B | C |
| ④ | C | A |
| ⑤ | C | B |

7. 다음 글의 ㉠~㉣에 대한 설명으로 옳은 것만을 <보기>에서 고른 것은? [3점]

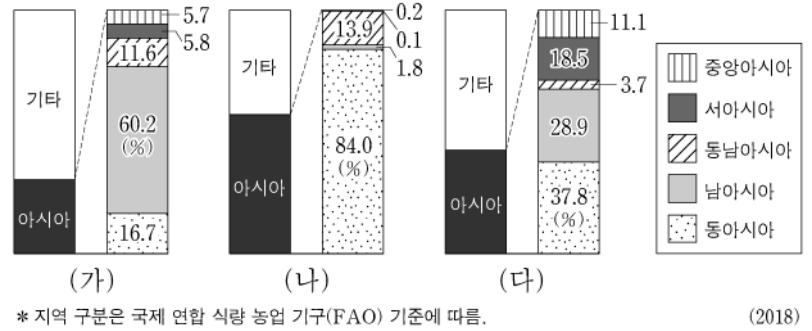
건조 기후 지역 내에서 형성되는 하천은 대부분 ㉠비가 내릴 때만 일시적으로 물이 흐르는 하천이다. 건조 분지 내부의 저지대에는 비가 많이 내리면 일시적으로 물이 고여 ㉡플라야호가 발달하기도 한다. 한편 급경사의 좁은 골짜기를 흐르던 하천이 넓은 평지를 만나면 운반 물질이 퇴적되어 ㉢선상지가 형성된다. 또한 건조 기후 지역에서는 정상부는 평탄하고 주변부는 급사면인 ㉣메사 또는 뷰트를 볼 수 있다.

—<보기>—

- ㉠. ㉠을 외래 하천이라 한다.
- ㉡. ㉡은 담수호이며 관개용수로 널리 활용된다.
- ㉢. ㉢이 연속적으로 발달하여 이어진 지형을 바하다라고 한다.
- ㉣. ㉣은 경암층과 연암층이 차별 침식을 받아 형성된다.

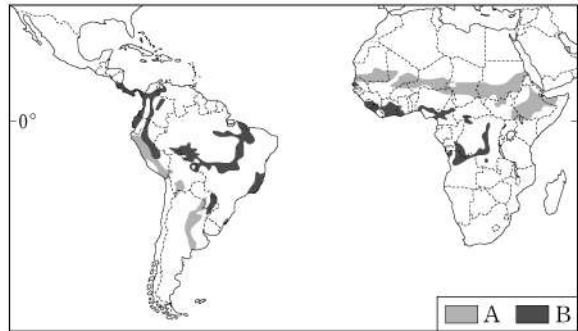
- ① ㉠, ㉡
- ② ㉠, ㉢
- ③ ㉡, ㉢
- ④ ㉡, ㉣
- ⑤ ㉢, ㉣

8. 그래프는 주요 가축의 지역별 사육 두수 비율을 나타낸 것이다. (가)~(다)에 대한 설명으로 옳은 것은? (단, (가)~(다)는 각각 돼지, 소, 양 중 하나임.)



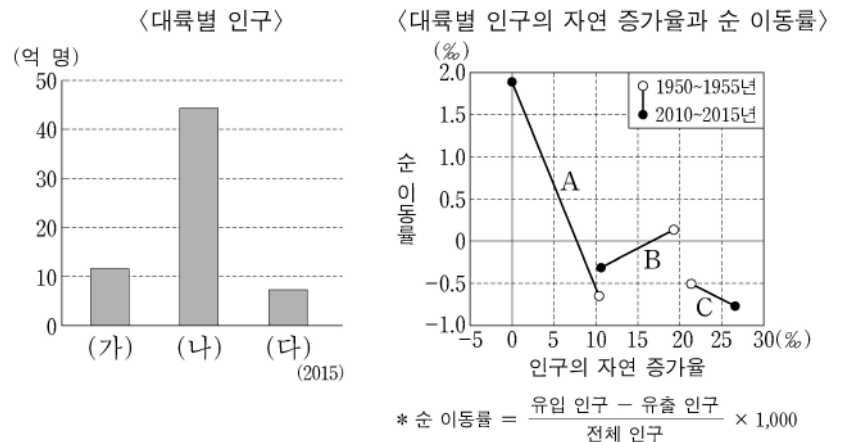
- ① (가)는 이슬람 문화권에서 식용을 금기시한다.
- ② (나)는 모직 공업의 발달로 인해 기업적 사육이 활발해졌다.
- ③ (다)의 사육 두수가 가장 많은 국가는 중국이다.
- ④ (나)는 (가)보다 벼농사 지역에서 노동력 대체 효과가 크다.
- ⑤ (나)는 (다)보다 유목에 적합하다.

9. 지도는 중·남부 아메리카와 아프리카의 환경 문제 발생 지역을 나타낸 것이다. A, B 환경 문제에 대한 설명으로 옳지 않은 것은? (단, A, B는 각각 사막화, 열대림 파괴 중 하나임.) [3점]



- ① A는 아랄해 주변에서도 발생하고 있다.
- ② A는 과도한 목축과 경작지 확대가 주요 원인 중 하나이다.
- ③ B 문제 해결을 위해 바젤 협약이 체결되었다.
- ④ B는 생물 종의 다양성 감소에 큰 영향을 준다.
- ⑤ A와 B의 결과로 토양 침식이 심화된다.

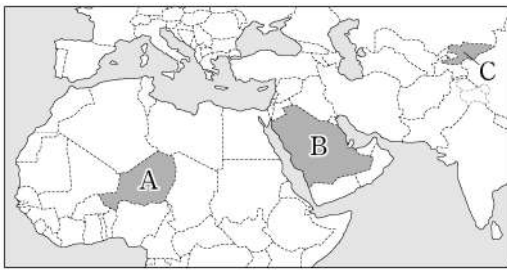
10. 그래프는 세 대륙의 인구 특성을 나타낸 것이다. 이에 대한 설명으로 옳은 것은? (단, (가)~(다)와 A~C는 각각 아시아, 아프리카, 유럽 중 하나임.)



- ① 1950~1955년 (다)는 유출 인구보다 유입 인구가 많다.
- ② 1950~1955년 (나)는 (가)보다 인구의 자연 증가율이 높다.
- ③ 2010~2015년 B는 C보다 순 유출 인구가 많다.
- ④ 2010~2015년 C는 B보다 전체 인구 증가율이 낮다.
- ⑤ 2015년 대륙별 인구는 B>A>C 순으로 많다.

11. 다음 자료의 (가)~(다)에 해당하는 국가를 지도의 A~C에서 고른 것은? [3점]

(가)	(나)	(다)
이슬람교 최대 성지가 있는 나라의 국기로, 쿠란 구절을 포함한 문구가 아랍어로 쓰여 있다.	사하라 사막 남부에 위치한 나라의 국기로, 국기 위쪽의 주황색이 사막을 의미한다.	전통적으로 유목이 발달한 나라의 국기로, 이동식 가옥인 '유르트'를 형상화한 문양이 그려져 있다.



- | | (가) | (나) | (다) |
|---|-----|-----|-----|
| ① | A | B | C |
| ② | B | A | C |
| ③ | B | C | A |
| ④ | C | A | B |
| ⑤ | C | B | A |

12. 다음은 세계지리 비대면 수업 장면이다. 교사의 질문에 옳은 대답을 한 학생만을 고른 것은?

교사: (가)~(라)는 각각 갯벌, 사빈, 석호, 해식애 중 하나입니다. 이에 대해 발표해 볼까요?

(가)

(나)

(다)

(라)

갑	을	병	정
(가)는 주로 연안류의 퇴적 작용으로 형성됩니다.	(나)는 사주가 만의 입구를 막아 형성됩니다.	(다)는 파랑의 침식 작용으로 형성됩니다.	(라)는 파식대가 응기되어 형성됩니다.

- ① 갑, 을 ② 갑, 병 ③ 을, 병 ④ 을, 정 ⑤ 병, 정

13. 다음 자료의 (가)에 들어갈 내용으로 가장 적절한 것은? [3점]

<서남아시아 국가의 (가) 정책>

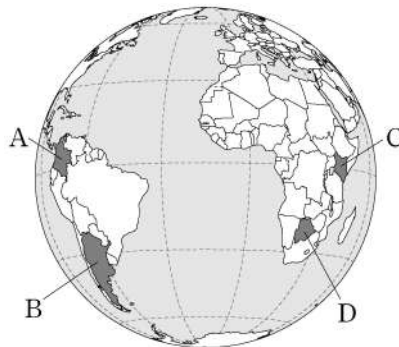
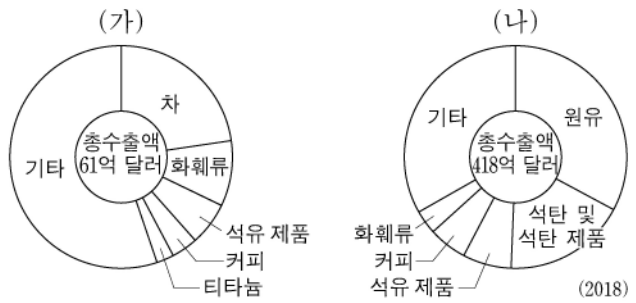


아랍 에미리트는 금융과 관광 산업에 대한 투자를 늘리고 있다. 특히 두바이, 아부다비 등에 국제 공항, 쇼핑몰과 휴양 시설 등을 건설하여 국제 금융, 물류, 관광 중심지로 변모하고 있다.

사우디아라비아는 네옴 신도시, 킹 압둘라 경제도시와 같은 다양한 특화 도시를 조성하고 있다. 또한 관광, 금융, 물류 산업 등을 육성하기 위한 '비전 2030' 계획을 발표하였다.

- ① 경제적 자립을 위한 석유 산업 국유화
- ② 쇠락한 공업 지역을 재생하기 위한 개발
- ③ 주거 환경 개선을 위한 불량 주택 지구 재개발
- ④ 비석유 분야 산업 육성을 통한 산업 구조 다변화
- ⑤ 소비 시장과 노동력을 바탕으로 한 공업 지역 조성

14. 그래프는 두 국가의 상품 수출액 비율을 나타낸 것이다. (가), (나)에 해당하는 국가를 지도의 A~D에서 고른 것은? [3점]



- | | (가) | (나) |
|---|-----|-----|
| ① | A | C |
| ② | B | A |
| ③ | B | D |
| ④ | C | A |
| ⑤ | C | D |

15. 다음 자료는 (가)~(다) 국가의 신자 수 상위 3개 종교를 나타낸 것이다. A~C 종교에 대한 설명으로 옳은 것은? (단, A~C는 각각 불교, 이슬람교, 힌두교 중 하나임.)

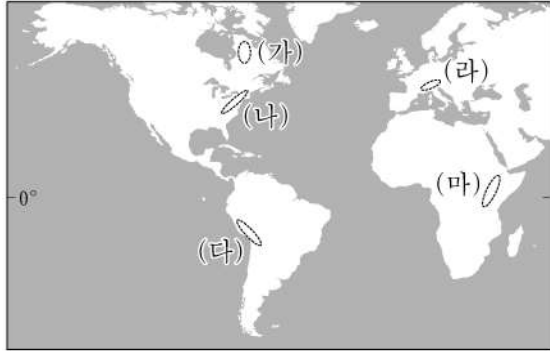
국가 순위	(가)	(나)	(다)
1위	A	B	C
2위	C	A	A
3위	B	C	B

- ① A는 민족 종교에 속한다.
- ② B의 기원지는 남부 아시아이다.
- ③ C의 대표적인 종교 경관은 돛형 지붕과 첨탑이 있는 모스크이다.
- ④ B는 C보다 발생 시기가 이르다.
- ⑤ A~C 중 전 세계 신자 수는 C>A>B 순으로 많다.

4 (세계지리)

사회탐구 영역

16. (가)~(마)에서 볼 수 있는 대표적인 대지형에 대한 설명으로 옳은 것은? [3점]



- ① (가) - 두 판이 수평으로 어긋나 미끄러져 형성되었다.
- ② (나) - 신생대에 대륙판과 대륙판이 충돌하여 형성되었다.
- ③ (다) - 시·원생대에 형성된 후 오랜 침식을 받은 안정육괴이다.
- ④ (라) - 고생대의 조산 운동으로 만들어진 산지이다.
- ⑤ (마) - 대륙판이 갈라지면서 만들어지는 지구대가 나타난다.

17. 표는 지도에 표시된 세 지역의 시기별 기온 편차와 강수 편차를 나타낸 것이다. 이에 대한 설명으로 옳은 것은? (단, (가), (나) 시기는 각각 1월과 7월 중 하나임.)

시기	지역			
	A	B	C	
(가)	기온 편차 (°C)	6.9	-5.7	9.5
	강수 편차 (mm)	-6.6	86.9	-35.1
(나)	기온 편차 (°C)	-6.0	6.1	-8.6
	강수 편차 (mm)	1.6	-49.3	5.9

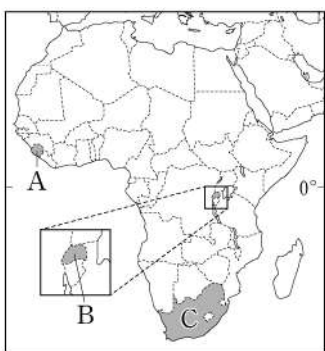


*기온 편차 = 월평균 기온 - 연평균 기온
 **강수 편차 = 월 강수량 - (연강수량 ÷ 12)

- ① (가) 시기는 1월, (나) 시기는 7월이다.
- ② A에서는 올리브 등을 재배하는 수목 농업이 주로 이루어진다.
- ③ (가) 시기에 B는 주로 무역풍의 영향을 받는다.
- ④ (나) 시기에 C는 아열대 고압대의 영향으로 건기가 나타난다.
- ⑤ (나) 시기에 밤의 길이는 A~C 중 A가 가장 길다.

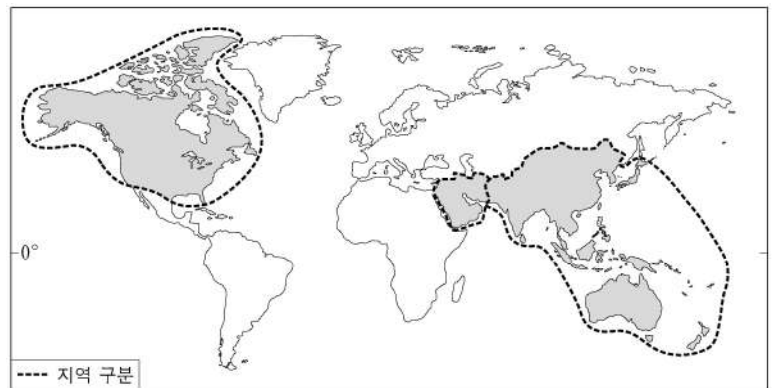
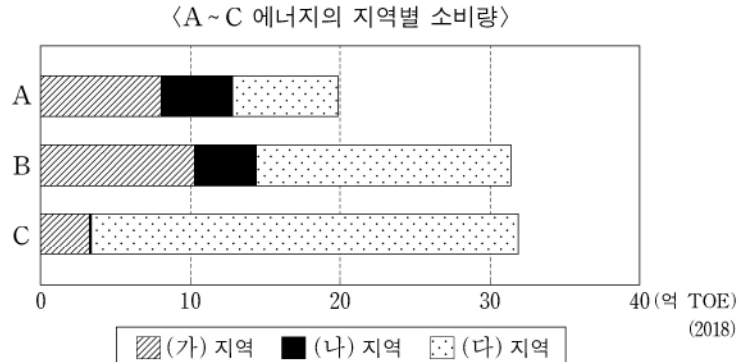
18. 다음 영화 소개 글에 등장하는 (가), (나) 국가를 지도의 A~C에서 고른 것은?

제목: ◇◇◇ 다이아몬드	제목: 파워 ○○○
1990년대 서아프리카의 (가)에서 다이아몬드 광산을 차지하려는 정부군과 인접국 라이베리아의 지원을 받은 반군 사이의 내전을 배경으로 한 영화이다. 비인간적인 소년병 실태와 분쟁 지역에서의 불법적 다이아몬드 유통 문제를 이야기하고 있다.	(나)에서 태어나 성장한 백인 소년의 사례를 통해 흑인의 인권과 정의를 이야기하고 있다. 영화의 주 무대가 된 곳은 요하네스버그로 1994년 아파르트헤이트 정책이 철폐될 때까지 인종 차별이 극심했던 지역이다.



- | | | |
|---|-----|-----|
| | (가) | (나) |
| ① | A | B |
| ② | A | C |
| ③ | B | A |
| ④ | B | C |
| ⑤ | C | A |

19. 그래프는 지도에 표시된 세 지역의 주요 화석 에너지 A~C 소비량을 나타낸 것이다. 이에 대한 설명으로 옳은 것은? (단, (가)~(다)는 각각 지도에 표시된 세 지역 중 하나임.) [3점]



- ① A는 B보다 연소 시 대기 오염 물질 배출량이 많다.
- ② C는 B보다 수송용으로 이용되는 비율이 높다.
- ③ A의 최대 소비 국가는 (다)에 위치한다.
- ④ B의 수출량은 (나)가 (가)보다 많다.
- ⑤ 세계 1차 에너지 소비량에서 차지하는 비율은 C > B > A 순으로 높다.

20. 다음 자료의 (가), (나) 도시에 대한 설명으로 옳은 것만을 <보기>에서 고른 것은?

(가)	(나)
<ul style="list-style-type: none"> ○ 도시 중심부인 맨해튼의 격자형 도로망은 19세기 도시 계획에 따라 건설되었다. ○ '월스트리트'를 중심으로 세계 금융의 핵심 도시 중 하나가 되었다. 	<ul style="list-style-type: none"> ○ 개선문을 중심으로 한 방사형 도로망은 19세기에 도시를 전면 재정비하며 건설되었다. ○ 구도심 외곽에 업무 및 상업 시설이 갖춰진 '라데팡스'가 조성되었다.

- 〈보 기〉
- ㄱ. (가)에는 국제 연합(UN) 본부가 있다.
 - ㄴ. (나)에는 '파벨라'라는 불량 주택 지구가 있다.
 - ㄷ. (가)는 (나)보다 도시 발달의 역사가 짧다.
 - ㄹ. (가)는 유럽, (나)는 라틴 아메리카에 위치한다.

- ① ㄱ, ㄴ ② ㄱ, ㄷ ③ ㄴ, ㄷ ④ ㄴ, ㄹ ⑤ ㄷ, ㄹ

* 확인 사항
 ○ 답안지의 해당란에 필요한 내용을 정확히 기입(표기)했는지 확인 하시오.