

제 4 교시

사회탐구 영역 (정치와 법)

성명

수험 번호

제 [ ] 선택

1. 정치를 바라보는 관점 A, B에 대한 질문에 모두 옳게 응답한 학생은?

A는 국가 공동체의 의사를 결정하고 갈등을 해결해 나가는 국가 고유의 활동만을 정치라고 봅니다. 반면 B는 국가뿐만 아니라 다양한 사회 집단 내에서 구성원 간의 이해관계를 조정하고 갈등을 해결하는 활동도 정치라고 봅니다.



교사 (○: 예, ×: 아니오)

질문	학생	갑	을	병	정	무
A는 국가 형성 이전의 정치 현상을 설명하기에 적합한가?		×	×	×	○	×
B는 국가의 정치 현상과 국가 이외 사회 집단의 정치 현상이 본질적으로 다르다고 보는가?		×	○	×	×	×
A에 비해 B는 다원화된 현대 사회의 정치 현상을 설명하기에 적합한가?		○	×	○	×	×
B와 달리 A는 정치권력을 획득하고 유지·행사하는 활동을 정치라고 보는가?		×	×	○	○	×

- ① 갑    ② 을    ③ 병    ④ 정    ⑤ 무

2. 우리나라 헌법 기관 A~D에 대한 설명으로 옳은 것은?

- A는 국가의 예산안을 심의·확정한다.
- B는 세입·세출의 결산을 매년 검사하여 C와 차년도 A에 그 결과를 보고하여야 한다.
- 예산안·결산은 C가 의장이 되는 D의 심의를 거쳐야 한다.

- ① A는 입법 사항에 관한 조약을 체결·비준한다.  
 ② B는 D의 소속하에 있지만 업무의 독립성을 보장받는다.  
 ③ C가 일반 사면을 명하려면 A의 동의를 얻어야 한다.  
 ④ C의 긴급 재정·경제 처분은 B의 승인을 얻어야 한다.  
 ⑤ D의 모든 구성원은 A의 동의를 받아 C가 임명한다.

3. 밑줄 친 ㉠~㉣에 대한 설명으로 옳은 것은? [3점]

- 국민은 정부에서 운영하는 ㉠ 온라인 국민 참여 플랫폼을 통해 정책을 제안할 수 있으며, 해당 제안이 일정 수 이상 국민의 추천을 받으면 정책에 반영되기도 한다.
- 국회 의원 선거 당일 투표가 어려운 유권자는 별도의 신고 없이 선거일 전 5일부터 2일 동안 운영되는 사전 투표소에 가서 ㉡ 사전 투표에 참여할 수 있다.
- 국민은 자신의 정책 아이디어를 ㉢ 정책 선거 관련 홈페이지에 희망 공약으로 제안할 수 있고, 이를 반영하여 공약으로 제시한 후보자가 선거에서 당선되면 해당 제안은 정책으로 실현되기도 한다.

- ① ㉠은 전체 유권자의 수를 확대하는 효과가 있다.  
 ② ㉠과 달리 ㉢은 정치권력에 정당성을 부여하는 기능을 한다.  
 ③ ㉢과 달리 ㉠은 국민의 정치적 효능감 향상에 기여할 수 있다.  
 ④ ㉠, ㉡ 모두 직접 민주주의를 실현하는 방법이다.  
 ⑤ ㉠, ㉢ 모두 정치 참여의 시·공간적 제약을 완화할 수 있는 방법이다.

4. 기본권 유형 A~C에 대한 설명으로 옳은 것은?

A, B에 대한 침해는 국가와 기본권 주체인 개인의 관계에서 주로 발생할 수 있다. A는 국가의 간섭과 침해를 배제함으로써 보장되는 기본권으로, 기본권 제한이 헌법상 과잉 금지의 원칙에 위반될 경우 위헌 판단이 가능하다. B는 권리 구제를 위한 기본권으로, 이를 실현하기 위한 법률을 제정하지 않은 것이 현저히 불합리하다면 위헌 여부를 다룰 수 있다. 이에 비하여 C는 국가, 개인, 그 개인과 비교 대상이 되는 제3자의 관계를 통하여 위헌 여부가 판단될 수 있다. 국가가 본질적으로 같은 사안에서 두 기본권 주체에게 자의적으로 서로 다른 처우를 하면 C의 침해가 인정될 수 있다.

- ① A와 달리 B는 국가에 특정한 행위를 요구하거나 다른 기본권이 침해되었을 때 행사할 수 있는 권리이다.  
 ② B와 달리 A는 입법자가 법률을 통해 기본권을 구체화할 때 행사할 수 있는 권리이다.  
 ③ B와 달리 C는 수단적 성격의 권리로서 국가의 존재를 전제로 한다.  
 ④ C는 A를 행사하기 위한 전제 조건으로 현대 복지 국가 헌법에서 부터 보장되기 시작하였다.  
 ⑤ B와 달리 A, C는 기본권 제한의 한계를 준수하는 경우에도 제한될 수 없는 본질적 권리이다.

5. 다음 자료에 대한 설명으로 옳은 것은? [3점]

갑국과 을국의 정부 형태는 각각 전형적인 대통령제와 의원 내각제 중 하나이다. 행정부 수반이 소속된 정당의 의회 의석률은 갑국 35%, 을국 65%이며, 양국 모두 무소속 의원은 존재하지 않는다. 표는 질문에 따라 갑국과 을국을 비교한 것이다.


질문	국가	갑국	을국
(가)		예	아니오
(나)		예	예

- ① (가)에 '행정부 수반이 국가 원수의 지위를 동시에 가지는가?'가 들어가면, 갑국의 행정부 수반은 임기가 보장되지 않는다.  
 ② (가)에 '의회가 내각을 불신임할 수 있는가?'가 들어가면, 갑국과 달리 을국의 의회 의원은 각료를 겸직할 수 있다.  
 ③ (나)에 '국민이 선거를 통해 행정부 수반을 직접 선출하는가?'가 들어갈 수 있다.  
 ④ (나)에 '의회 내 과반 의석을 확보한 정당이 존재하는가?'가 들어가면, 을국과 달리 갑국의 행정부 수반은 법률안 거부권을 가진다.  
 ⑤ (나)에 '의회 의석을 확보한 정당이 2개만 존재하는가?'가 들어가면, (가)에 '행정부가 법률안을 제출할 수 있는가?'가 들어갈 수 있다.

## 2 (정치와 법)

## 사회탐구 영역


6. 법치주의의 유형 A, B에 대한 설명으로 옳은 것은? [3점]




적법 절차의 원칙은 원래 신체의 자유를 보장하기 위한 것으로 공권력에 의한 기본권 제한 시 법률이 정한 절차의 준수만을 요구하였습니다. 이는 통치의 합법성만을 강조하는 A에 해당한다고 볼 수 있습니다. 그러나 오늘날 적법 절차의 원칙은 입법, 행정, 사법의 모든 국가 작용을 구속할 뿐만 아니라 공권력 행사의 근거가 되는 법률의 실체적 내용도 정당성을 갖추어야 한다는 원칙으로 발전했습니다. 이는 B에 해당한다고 볼 수 있습니다.

- ① A와 달리 B는 국가 권력으로부터 기본권을 보장하는 것을 목적으로 한다.
- ② A와 달리 B는 법률로 금지되는 행위와 그 법적 제재를 미리 규정하도록 하여 법적 안정성을 보장한다.
- ③ B와 달리 A는 공권력에 의해 신체의 자유를 제한하는 경우 법률에 정해진 절차에 따라야 한다고 본다.
- ④ B와 달리 A는 공권력 행사가 법률에 따를 것만을 강조하여 입법자에 의한 기본권 침해의 가능성을 간과한다.
- ⑤ B와 달리 A는 정의에 부합하는 법률에 따라 국가 권력이 행사되어야 기본권의 실질적 보장이 가능해진다고 본다.


7. 우리나라 헌법의 기본 원리 A, B에 대한 설명으로 가장 적절한 것은?



교사: 청소년의 일상생활 속에서 우리나라 헌법의 기본 원리가 실현된 사례를 찾아볼까요?



○○시는 가정 형편이 어려운 청소년들의 교통비 부담을 덜어 주기 위해 교통비 지원 사업을 시행하고 있습니다. 이는 국민의 삶의 질 보장을 중시하는 A의 실현에 기여하였다고 생각합니다.



□□법 개정으로 18세 청소년이 선거에 참여할 수 있게 되었습니다. 이는 국가 권력의 정당성이 국민에게 있다는 B의 실현에 기여하였다고 생각합니다.

- ① A에 따라 국가 기관 간 견제와 균형이 이루어지도록 하고 있다.
- ② B에 따라 국민 투표를 통해 국민이 직접 국가 안위에 관한 중요 정책을 결정할 수 있도록 하고 있다.
- ③ A와 달리 B는 국민의 사회권 보장을 통한 실질적 평등의 실현을 강조한다.
- ④ B와 달리 A는 법률 제정과 정책 결정의 방향을 제시한다.
- ⑤ A, B 모두 근대 입헌주의 헌법에서부터 강조되었다.

8. A~C에 대한 설명으로 옳은 것은? (단, A~C는 각각 정당, 이익 집단, 시민 단체 중 하나에 해당하는 집단이다.) [3점]

학교에서 '고카페인 함유' 표시가 있는 모든 음료의 판매를 금지하는 정책이 필요하다는 학부모들의 주장이 제기되고 있다. 이에 대해 식품 업계 종사자들로 구성된 A는 해당 정책이 소속 회원들의 이익을 침해하고 식품 산업 발전을 저해할 것이라며 반대 의사를 표명하였다. 반면, 청소년의 건강한 식생활 실천을 위한 공익 캠페인을 추진해 온 B는 해당 정책이 청소년의 건강권 보호에 필요하다고 찬성 입장을 밝혔다. 이에 C는 A와 B의 의견을 수렴하여 다가오는 총선을 위해 공약을 개발하고 관련 전문가를 후보자로 공천하였다.

- ① A는 사적 이익을 추구하며 국민에 대해 정치적 책임을 진다.
- ② B의 활동은 정치 과정에서 산출에 해당한다.
- ③ C는 여론을 반영하여 의회와 정부를 매개하는 역할을 한다.
- ④ A와 달리 B는 대의 정치의 한계를 보완하는 역할을 한다.
- ⑤ C와 달리 A, B는 정책 결정 과정에서 정치 사회화 기능을 수행한다.

9. 다음 자료에 대한 법적 판단 및 추론으로 옳은 것은? [3점]

갑은 △△법 위반죄로 징역 3년에 집행 유예 5년의 판결을 선고받고 해당 판결이 확정되었다. 한 달 후 □□법을 위반한 갑은 기소되었고, 1심 법원에서 징역 6월을 선고받고 항소하였지만 기각되었다. 이에 갑은 상고하였으나 A가 이를 기각하여 징역 6월의 형이 확정되었고, 그 결과 형법 조항에 따라 갑에 대한 위의 집행 유예 선고는 효력을 잃게 되었다. 이에 다른 구제 절차를 거칠 수 없었던 갑은 해당 형법 조항이 이중 처벌 금지의 원칙 등에 위반된다며 기본권 침해 여부를 판단하는 심판인 (가) 을/를 B에 청구하였다. 이에 대해 B는 범죄자에 대한 재사회화와 사회 방위를 도모하려는 공익의 중대성은 인정하면서도, 해당 형법 조항에 따라 집행되는 형은 이미 선고된 형이므로 신체의 자유가 추가로 제한된다고 보기 어려운 점 등을 이유로, 해당 형법 조항으로 제한되는 갑의 기본권이 이를 통해 달성하려는 공익보다 중하지 않다고 보아 갑의 청구를 기각한다는 결정을 하였다.

- ① A는 해당 형법 조항의 위헌 여부가 재판의 전제가 된 경우에도 B에 (가)를 청구할 수 없다.
- ② 갑은 A의 판결이 자신의 신체의 자유를 침해하였다고 주장하며 B에 그 판결을 대상으로 (가)를 청구하였다.
- ③ B는 해당 형법 조항을 통한 기본권 제한이 목적은 정당하지만 필요한 범위를 벗어난 것이라고 판단하였다.
- ④ B의 결정으로 법원은 갑의 △△법 위반죄 사건에 대하여 다시 재판을 하여 새로운 형을 부과하였을 것이다.
- ⑤ A의 장(長), B의 장(長) 모두 직무 집행에 있어 헌법이나 법률을 위반한 경우에도 탄핵 심판의 대상이 되지 않는다.

10. (가)에 들어갈 적절한 내용만을 <보기>에서 있는 대로 고른 것은?

정치의 법 E-class

수업 자료    과제 게시판    묻고 답하기

○ 다음 사례에 대한 법적 의견을 작성해 봅시다.

같은 중학교를 졸업한 갑(남, 18세)과 을(남, 16세)은 1개월 동안 ◇◇ 대형 매장에서 물품 판매를 업무로, 주 5일(월~금) 근무하기로 하는 근로 계약을 대표 병과 각각 체결함. 법정 최저 임금은 시간당 8,590원이며, 두 사람의 주요 계약 내용은 다음과 같음. 갑과 을의 임금은 각각 시간당 10,000원, 근로 시간은 갑이 12시~21시(휴게 시간: 17시~18시), 을은 10시~18시(휴게 시간: 13시~14시)임.

↳ 학생1: 갑은 을과 달리 독자적으로 임금을 청구할 수 있습니다.

↳ 학생2: 을의 계약에는 친권자 또는 후견인의 동의가 필요합니다.

↳ 학생3: (가)

↳ 교 사: 근로 기준법에 따라 옳은 의견을 제시한 학생은 2명이네요.

<보 기>

ㄱ. 갑이 계약대로 근무할 경우 갑의 1일 임금은 90,000원입니다.

ㄴ. 을의 연장 근무는 을과 병 사이의 합의가 있어도 1일 1시간, 1주일 5시간을 초과할 수 없습니다.

ㄷ. 갑과 달리 을에게는 야간 또는 휴일 근로가 원칙적으로 금지됩니다.

ㄹ. 병은 갑과 을의 연령을 증명하는 가족 관계 기록 사항에 관한 증명서를 사업장에 갖추어 두어야 합니다.

- ① ㄱ, ㄴ                      ② ㄱ, ㄹ                      ③ ㄴ, ㄷ
- ④ ㄱ, ㄷ, ㄹ                ⑤ ㄴ, ㄷ, ㄹ

11. 다음 자료에서 □□위원회의 판단에 나타난 민법의 기본 원리에 대한 진술로 가장 적절한 것은? [3점]

○○ 신문      △△△△년 △△월 △△일

**온라인 강의 해지, 보다 수월해져...**

수강 기간이 1개월을 넘는 온라인 강의는 앞으로 언제든지 계약을 해지하고 남은 금액을 돌려받을 수 있게 되었다. □□위원회는 최근 온라인 강의 수강 계약의 중도 해지를 제한한 온라인 강의 학원의 이용 약관 조항이 고객의 권리를 과도하게 제한하여 무효라고 판단하였다. 이에 따라 해당 학원에 시정 명령을 내렸다.

- ① 개인은 자신이 소유하는 재산을 배타적으로 사용·수익 또는 처분할 권리를 가진다.
- ② 계약 내용이 사회 질서에 반하거나 현저하게 공정성을 잃으면 법적 효력이 인정되지 않는다.
- ③ 법률관계를 형성하는 것은 개인의 자유로운 의사에 맡겨야 하고 국가가 개입해서는 안 된다.
- ④ 개인은 자신이 소유하는 재산을 공공의 이익에 부합하도록 사용·수익 또는 처분하여야 한다.
- ⑤ 타인의 손해에 대하여 직접적인 고의나 과실이 없더라도 일정한 요건에 따라 법적 책임을 질 수 있다.

12. (가) 사례를 (나)에 적용했을 경우에 대한 옳은 법적 판단만을 <보기>에서 있는 대로 고른 것은?

(가) 갑(17세)은 평소 사고 싶었던 고가의 오토바이를 을(30세)로부터 구입하는 계약을 하였다. 한편 갑의 법정 대리인은 병이다.

(나)

질문	상황	
계약 당시 병의 동의를 받았는가?	㉠ 예	㉡ 아니요
계약 당시 을은 갑이 미성년자임을 알았는가?	㉢ 예	㉣ 아니요

<보 기>

㉠. ㉢의 상황에서 을은 병에게 계약을 취소할 것인지에 대한 확답을 촉구할 권리가 있다.

㉡. ㉠, ㉢의 상황에서 갑이 을의 사기에 의하여 계약을 하였다면 병은 그 계약을 취소할 수 있다.

㉣. ㉡, ㉣의 상황에서 을은 병에게 계약 체결의 의사 표시를 철회할 수 없다.

㉤. ㉡, ㉣의 상황에서 을은 갑이 미성년자임을 이유로 계약을 취소할 수 있다.

- ① ㉠, ㉡      ② ㉠, ㉢      ③ ㉡, ㉣
- ④ ㉠, ㉡, ㉢      ⑤ ㉡, ㉣, ㉤

13. 다음 사례에 대한 옳은 법적 판단만을 <보기>에서 고른 것은?

○ A(14세)는 B(A의 법정 감독 의무자) 몰래 다른 사람의 자동차를 운전하다가 횡단보도에서 길을 건너던 C를 부주의로 다치게 하였다.

○ 대학생인 갑(19세)은 학비를 벌기 위하여 을이 운영하는 식당에서 아르바이트를 하던 중 식사를 하던 손님 병을 부주의로 다치게 하였다.

<보 기>

㉠. 사고 당시 A의 책임 능력이 인정되지 않는다면 B가 A에 대한 감독 의무를 게을리하지 않았더라도 B는 C에 대하여 특수 불법 행위 책임을 진다.

㉡. 사고 당시 A의 책임 능력이 인정되면 C의 부상이 B의 A에 대한 감독 의무 위반으로 인한 경우라도 B는 C에 대하여 특수 불법 행위 책임을 지지 않는다.

㉢. 을의 병에 대한 특수 불법 행위 책임이 성립하는 경우에도 갑의 병에 대한 불법 행위 책임이 인정된다.

㉣. 을의 병에 대한 사용자 배상 책임이 성립하는 경우 갑과 을의 병에 대한 공동 불법 행위자의 책임이 인정된다.

- ① ㉠, ㉡      ② ㉠, ㉢      ③ ㉡, ㉣      ④ ㉡, ㉣      ⑤ ㉢, ㉣

14. 다음 사례에 대한 법적 판단으로 옳은 것은? [3점]

○ 경찰관 갑은 절도범을 적법하게 긴급 체포하였다.

○ 을의 범죄 후 그 범죄를 가중 처벌하도록 형법이 개정되었다.

○ 병은 이틀 전 자신의 물건을 파손한 A를 길거리에서 우연히 발견하고 손해를 배상받기 위해 A를 붙잡으면서 부득이하게 폭행하였다.

○ 정의 종업원 퇴직금 미지급으로 인한 ○○법 위반 행위에 대하여, 법원은 객관적 법질서에 반하지만 정에게 부득이한 사정이 있어 법적 비난 가능성이 없다며 무죄를 선고하였다.

○ 무가 전화상으로 단순히 고성을 지른 행위에 대하여, 법원은 폭행죄의 폭행 개념인 '사람의 신체에 대한 유형력의 행사'에 해당하지 않는다며 폭행죄로 기소된 무에게 무죄를 선고하였다.

- ① 갑의 체포는 범죄 구성 요건에 해당하지 않는다.
- ② 을을 개정된 형법으로 처벌해도 소급효 금지 원칙 위반이 아니다.
- ③ 병의 폭행은 정당방위로서 위법성이 조각된다.
- ④ 정의 행위는 위법성이 인정되나 책임이 조각된다.
- ⑤ 무의 행위는 범죄 구성 요건에 해당하나 위법성이 조각된다.

15. 국제 연합의 주요 기관 A~C에 대한 옳은 설명만을 <보기>에서 고른 것은? [3점]

국제 연합의 모든 회원국으로 구성된 A는 국제 사회의 다양한 문제를 논의하며, 15개 이사국으로 구성된 B는 국제 평화와 안전 유지에 대한 책임을 지고 있다. 경제 사회 이사회는 경제, 사회, 문화 등의 국제 문제를 담당하며, C는 국제 연합의 주요 사법 기관이다.

<보 기>

㉠. A에서는 분담금에 따라 의결권을 회원국에게 차등적으로 배분한다.

㉡. B에서는 이사국 중 9개국 이상이 찬성하면 모든 안전을 의결할 수 있다.

㉢. C는 국제 관습법을 재판의 준거로 활용할 수 있다.

㉣. C는 원칙적으로 분쟁 당사국들이 합의하여 분쟁 해결을 요청한 경우 관할권을 가진다.

- ① ㉠, ㉡      ② ㉠, ㉢      ③ ㉡, ㉣      ④ ㉡, ㉣      ⑤ ㉢, ㉣



# 4 (정치와 법)

# 사회탐구 영역

16. 다음 사례에 대한 옳은 법적 판단만을 <보기>에서 고른 것은?

A를 입양하여 함께 살고 있던 갑(남)은 을(여)과 법률상 혼인을 하였고 그 사이에서 B가 태어났다. 이후 갑과 을은 이혼하고 갑은 A를, 을은 B를 양육하였다. 2년 후, 갑과 병은 법률상 혼인을 하였고 그 사이에서 C가 태어났다. 한편 을과 정은 법률상 혼인을 하였고 그 사이에서 D가 태어났으며 정은 B를 친양자로 입양하였다. 그 후 을과 정은 이혼하면서 을은 B를, 정은 D를 양육하기로 하였다.

<보 기>

ㄱ. 갑이 유언 없이 사망한다면, A는 갑의 재산을 상속받을 수 있으나 B는 상속받을 수 없다.  
 ㄴ. 을이 유언 없이 사망한다면, D는 을의 재산을 상속받을 수 있으나 B는 상속받을 수 없다.  
 ㄷ. 병이 유언 없이 사망한다면, C는 병의 재산을 상속받을 수 있으나 A는 상속받을 수 없다.  
 ㄹ. 정이 유언 없이 사망한다면, D는 정 of 재산을 상속받을 수 있으나 B는 상속받을 수 없다.

- ① ㄱ, ㄴ    ② ㄱ, ㄷ    ③ ㄴ, ㄷ    ④ ㄴ, ㄹ    ⑤ ㄷ, ㄹ

17. 다음 사례에 대한 옳은 법적 판단만을 <보기>에서 있는 대로 고른 것은? [3점]

갑은 A에 대한 중상해 혐의로, 을은 사기 혐의로 각각 도주 중 수사 기관에 긴급 체포되었고, 병은 절도 혐의로 수사를 받았다. 갑은 ㉠ 구속 적부 심사 절차에서 석방되었고, 구속 적부 심사를 청구하지 않았던 을은 보석으로 석방되었다. 갑은 징역 1년을 선고받았고, 을은 ㉡ 벌금형에 대해 일정 기간 집행을 유예하는 판결을 선고받았으며, 병은 ㉢ 선도 조건부 기소 유예 처분을 받았다.

<보 기>

ㄱ. ㉠의 결정과 달리 ㉢은 검사가 한다.  
 ㄴ. ㉡ 확정 후 그 효력이 상실 또는 취소됨이 없이 유예 기간이 지나면 을에 대한 공소 제기가 없었던 것으로 간주된다.  
 ㄷ. 을은 형사 재판의 당사자가 된 이후에 석방되었다.  
 ㄹ. A는 법원의 배상 명령을 통해 국가로부터 피해 구조금을 지급받을 수 있다.

- ① ㄱ, ㄴ    ② ㄱ, ㄷ    ③ ㄴ, ㄹ  
 ④ ㄱ, ㄷ, ㄹ    ⑤ ㄴ, ㄷ, ㄹ

18. 국제 관계를 바라보는 갑, 을의 관점에 대한 설명으로 옳은 것은?

국가 간 관계는 힘의 우위에 의해 결정되는 것입니다. 따라서 국가는 힘을 길러 자국의 안보를 지키려 하며, 자국의 이익을 배타적으로 추구합니다.

국제기구 등 다양한 제도를 통해서 국가 간 평화는 실현될 수 있습니다. 또한 국가가 서로 협력함으로써 공동의 이익을 실현할 수 있습니다.

- ① 갑의 관점은 보편적 선이나 윤리의 관점에서 국제 관계를 설명한다.  
 ② 갑의 관점은 국제법을 국제 사회의 분쟁 해결을 위한 효과적인 수단으로 본다.  
 ③ 을의 관점은 집단 안보 체제를 국제 평화 실현의 방안으로 본다.  
 ④ 을의 관점은 세력 간 힘의 균형이 이루어지는 전략으로 국제 질서 유지가 가능하다고 본다.  
 ⑤ 을의 관점과 달리 갑의 관점은 국제 사회에서 강제력을 행사할 수 있는 중앙 정부가 존재한다고 본다.

19. 우리나라 지방 자치 단체의 기관 A, B에 대한 설명으로 옳은 것은?

□□군 주민들은 노인 복지를 증진하는 내용을 담은 '○○ 조례안'을 적법한 요건을 갖춰 A에게 제출함으로써 조례 제정을 청구하였다. A는 주민이 청구한 조례안을 B에 부의하였다. B는 조례안을 심의·의결하였고, 의결된 조례안은 A에게 이송되었다.

- ① A는 지방 자치 단체 예산의 심의·확정권을 갖는다.  
 ② B는 집행 기관으로서 법령의 범위 안에서 제정한 조례를 집행한다.  
 ③ B의 장(長)은 지방 자치 단체를 대표하고 행정 사무를 총괄한다.  
 ④ A와 B 간에 수직적 권력 분립이 나타난다.  
 ⑤ B는 지방 자치 단체의 사무에 관한 감사·조사권으로 A를 견제할 수 있다.

20. 다음 자료에 대한 분석으로 옳은 것은? [3점]

갑국의 대통령 선거에서는 각 지역에 배정된 선거인단을 가장 많이 확보한 후보자가 대통령으로 선출된다. 각 지역에는 유권자 100명당 선거인단 1명씩 배정되며 지역별 선거에서 가장 많은 표를 얻은 후보자는 해당 지역 선거인단을 모두 확보한다.

갑국의 의회는 4개의 선거구에서 선출된 8명의 의원으로 구성된다. 각 선거구에서는 득표순으로 2인의 의원이 선출되며, 각 정당은 한 선거구에 1명의 후보자를 공천한다. 선거구는 경계선이 접한 2개의 지역을 1개로 통합하여 확정되며 대각선 방향의 통합은 고려하지 않으며, 통합 후 한 선거구 유권자 수가 다른 한 선거구 유권자 수의 2배 이상이 되지 않도록 한다.

최근 갑국에서는 대통령 선거와 의회 의원 선거가 동시에 각각 실시되었고, 모든 유권자는 선호하는 정당의 후보자에게 투표하여 대통령과 의회 의원이 선출되었다. 단, 대통령 선거에서는 A당과 C당에서만 후보자가 출마하였으며 B당을 선호하는 유권자는 A당 후보자에게, D당을 선호하는 유권자는 C당 후보자에게 투표하였다. 다음은 갑국의 모든 지역별 위치 및 유권자 수와 모든 유권자의 정당 선호도를 나타낸다.

<지역별 위치 및 유권자 수> (단위: 명)		<지역별 유권자의 정당 선호도> (단위: %)				
지역1 (500)	지역2 (200)	구분	A당	B당	C당	D당
지역3 (500)	지역4 (300)	지역1	40	20	30	10
지역5 (100)	지역6 (100)	지역2	30	10	40	20
지역7 (400)	지역8 (400)	지역3	30	50	10	10
		지역4	50	10	30	10
		지역5	30	10	10	50
		지역6	30	10	40	20
		지역7	10	10	60	20
		지역8	10	10	60	20

\* 정당은 A~D당만 존재하고 무소속 후보자는 없음.  
 \*\* 유권자의 정당 선호도는 변함이 없고, 유권자는 대통령 선거에 1표, 의회 의원 선거에 1표를 행사하였으며 무효표는 없음.

- ① 의회 의원 선거의 대표 결정 방식은 절대다수 대표제이다.  
 ② 전체 유권자 과반의 표를 얻은 후보자가 대통령으로 선출되었다.  
 ③ 의회 내 가장 많은 의석을 확보한 정당은 A당이다.  
 ④ 선출된 대통령의 소속 정당과 D당은 확보한 의석수가 같다.  
 ⑤ 의회 의원 선거 결과 B당과 C당은 모두 득표율에 비해 의석률이 낮다.

\* 확인 사항  
 ○ 답안지의 해당란에 필요한 내용을 정확히 기입(표기)했는지 확인 하시오.