

사회탐구 영역(경제)

제 4 교시

성명

수험 번호

제 [] 선택

1

1. 밑줄 친 ㉠ ~ ㉣에 대한 설명으로 옳은 것은?

㉠ 바지락은 국물 요리의 감칠맛을 더해 주는 식재료로 많은 사람들이 찾지만, 대량으로 양식하기 쉬워 가격이 저렴합니다. 특별한 식감과 향 때문에 인기를 얻고 있는 ㉡ 새조개는 양식이 어렵고 채취도 힘들어 가격이 매우 비쌉니다. 그런데 얼마 전, 새조개의 양식 기술이 개발됨에 따라 ㉢ 새조개의 공급이 대폭 증가할 것으로 예상됩니다.

- ① ㉠은 무상재이다.
- ② ㉠은 ㉣에 비해 공급이 적다.
- ③ ㉠은 ㉣에 비해 희소성이 크다.
- ④ ㉢은 ㉡의 희소성 증가 요인이다.
- ⑤ ㉠과 ㉣은 모두 경제적 가치를 갖는다.

2. 다음 자료에 대한 옳은 설명만을 <보기>에서 고른 것은? [3점]

갑은 여행을 가기 위해 ㉠ 가이드 투어 비용 3만 원을 미리 지불하였다. 그런데 여행을 가는 대신 아르바이트를 한 후 테니스를 할 기회가 생겨 1안과 2안 중 하나를 선택하려고 한다. 단, 가이드 투어 비용은 환불받을 수 없다.

○1안: 가이드 투어 비용 이외에 추가로 여행 경비 10만 원을 들여 여행을 감. 여행의 편익은 [A]만 원임.

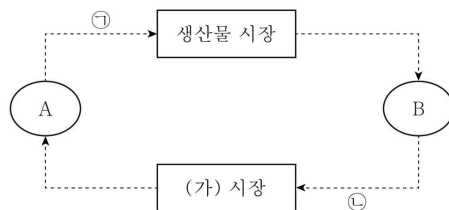
○2안: 아르바이트를 한 후 테니스를 함. ㉡ 아르바이트를 하고 얻는 임금은 10만 원, 테니스를 하고 얻는 편익은 12만 원임. 단, 테니스장 시설 사용료 2만 원을 내야 함.

< 보 기 >

- ㄱ. ㉠은 2안 선택에 따른 기회비용에 포함된다.
- ㄴ. ㉢은 1안 선택에 따른 암목적 비용에 포함된다.
- ㄷ. A가 '30'보다 크면 1안을 선택하는 것이 합리적이다.
- ㄹ. 1안 선택에 따른 명시적 비용은 2안 선택에 따른 명시적 비용보다 작다.

- ① ㄱ, ㄴ ② ㄱ, ㄷ ③ ㄴ, ㄷ ④ ㄴ, ㄹ ⑤ ㄷ, ㄹ

3. 그림은 화폐의 흐름으로 나타낸 민간 경제 순환 모형이다. 이에 대한 설명으로 옳은 것은? (단, A와 B는 각각 가계와 기업 중 하나이다.)



- ① A는 생산 활동의 주체이다.
- ② B는 효용 극대화를 추구한다.
- ③ 자본과 토지는 (가) 시장에서 거래된다.
- ④ 간호사가 병원에서 받은 임금은 ㉠에 해당한다.
- ⑤ 학생이 문제집을 구매하기 위해 지불한 돈은 ㉡에 해당한다.

4. 다음 사례에서 도출할 수 있는 결론으로 가장 적절한 것은?

갑국의 ○○ 지역에서는 인구 증가로 인하여 많은 경작지와 건축용 목재가 필요해졌다. 이에 주인 없는 산림에서는 자신만의 이익을 추구하려는 사람들의 무분별한 산림 훼손 행위가 발생해 많은 산림이 벌거숭이가 되었다. 이와 같은 '공유지의 비극'을 해결하기 위해 ○○ 지역 사람들은 자발적으로 자체 조직을 결성하고 규칙을 만들어 산림을 관리하였다. 그 결과 황폐한 산림이 점차 울창한 숲으로 변화하였다.

- ① 시장 실패는 재화의 비경합성으로 인해 발생한다.
- ② 시장 실패를 개선하기 위한 정부의 역할에는 한계가 있다.
- ③ 정부의 적극적인 시장 개입으로 인해 정부 실패가 발생한다.
- ④ 자원의 효율적 배분을 위해 정부의 시장 개입은 필수적이다.
- ⑤ 민간 부문의 자체적인 노력이 시장 실패 해결에 기여할 수 있다.

5. 밑줄 친 ㉠, ㉡에 대한 설명으로 옳은 것은? (단, ㉠과 ㉡은 각각 수요 견인 인플레이션과 비용 인상 인플레이션 중 하나이다.) [3점]

○ ○ <u>일본</u>	□ □ <u>신문</u>
갑국에서는 감염병 확산을 억제 하던 방역 정책이 완화되었다. 이에 따라 그간 억눌렸던 소비가 폭발적으로 증가하여 갑국에서는 ㉠ <u>인플레이션</u> 이 나타나고 있다.	최근 산유국인 을국에서 발발한 내전으로 인해 국제 원유 가격이 급격히 상승하였다. 이에 따라 원유를 전량 수입하는 병국에서는 ㉡ <u>인플레이션</u> 이 나타나고 있다.

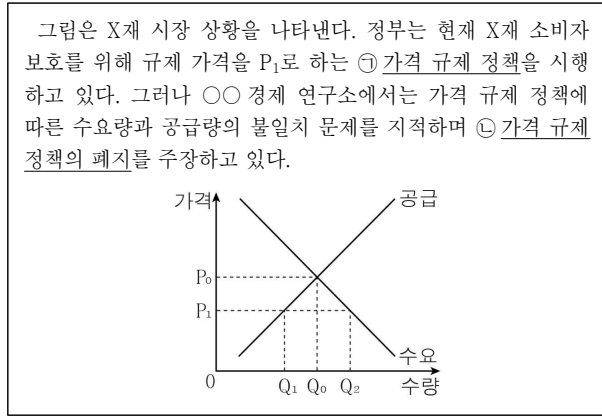
- ① ㉠은 스태그플레이션을 유발한다.
- ② ㉠의 발생 요인으로 노동 인구 감소를 들 수 있다.
- ③ ㉡은 총공급 감소로 인해 나타난다.
- ④ ㉡의 발생 요인으로 투자 지출 증가를 들 수 있다.
- ⑤ ㉡은 ㉠과 달리 경기 호황기에 나타난다.

경제

2 (경제)

사회탐구 영역

6. 다음 자료에 대한 분석 및 추론으로 옳은 것은? [3점]



- ① ㉠은 최저 가격제이다.
- ② ㉠으로 인해 Q_1, Q_2 의 초과 수요가 나타난다.
- ③ ㉡이 시행될 경우 시장 가격은 하락한다.
- ④ ㉡이 시행될 경우 시장 거래량은 감소한다.
- ⑤ ㉡이 시행될 경우 생산자 잉여는 변함이 없다.

7. 다음 자료에 대한 분석 및 추론으로 옳은 것은? [3점]

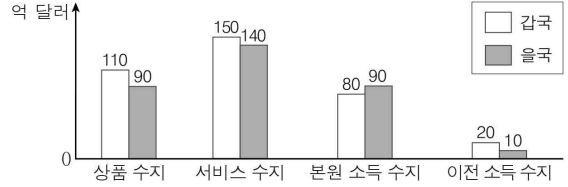
표는 X재를 각각 2개까지 구입하고자 하는 소비자 갑 ~ 정의 X재 1개 추가 구입에 따른 최대 지불 용의 금액, X재를 각각 2개까지 판매하고자 하는 생산자 A ~ D의 X재 1개 추가 판매에 따른 최소 요구 금액을 나타낸다. 단, X재는 시장 균형에서 거래되고, 소비자는 갑 ~ 정, 생산자는 A ~ D만 존재한다.

구분	갑	을	병	정
최대 지불 용의 금액(천 원)	1개짜 5	4	3	2
	2개짜 4	4	3	1

구분	A	B	C	D
최소 요구 금액(천 원)	1개짜 1	2	3	4
	2개짜 2	3	3	5

- ① X재의 균형 가격은 4천 원이다.
- ② X재를 거래하는 소비자와 생산자는 각각 2명이다.
- ③ 갑의 소비자 잉여는 을의 소비자 잉여보다 작다.
- ④ X재 시장의 소비자 잉여는 생산자 잉여보다 크다.
- ⑤ A ~ D가 모두 X재를 1개씩만 판매하고자 한다면 총잉여는 증가할 것이다.

8. 그림은 양국 간에만 국제 거래를 하는 갑국과 을국의 2021년 경상 수지 항목별 지급액을 나타낸다. 이에 대한 설명으로 옳은 것은?



- ① 갑국의 경상 수지는 흑자이다.
- ② 갑국은 상품 수입액이 상품 수출액보다 많다.
- ③ 을국의 경상 수지는 을국의 물가 하락 요인이다.
- ④ 을국은 해외여행 경비가 포함된 항목이 적자이다.
- ⑤ 해외 투자에 따른 배당금이 포함된 항목의 양국 간 거래액은 무상 원조 금액이 포함된 항목의 양국 간 거래액보다 작다.

9. 다음 자료에 대한 분석으로 옳은 것은? [3점]

표는 ㉠ X재 공급 변동으로 인한 X재의 시장 균형 변화와 이에 따른 Y재의 시장 균형 변화를 나타낸다. 단, Y재는 X재와 연관 관계이며, X재와 Y재는 모두 수요와 공급의 법칙을 따른다.

구분	변화 전 시장 균형		변화 후 시장 균형	
	가격(원)	거래량(개)	가격(원)	거래량(개)
X재	250	250	300	200
Y재	300	300	350	㉡

- ① X재의 생산 기술 향상은 ㉠의 요인이다.
- ② ㉡은 300보다 작다.
- ③ Y재는 공급이 증가하였다.
- ④ X재와 Y재는 대체 관계이다.
- ⑤ X재와 Y재는 모두 판매 수입이 증가하였다.

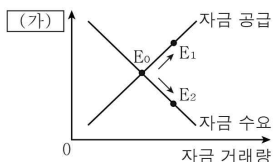
10. 경제 체제 A, B에 대한 설명으로 옳은 것은? (단, A와 B는 각각 시장 경제 체제와 계획 경제 체제 중 하나이다.)



- ① A에서는 희소성에 의한 경제 문제가 발생하지 않는다.
- ② A에서는 '보이지 않는 손'에 의해 경제 문제를 해결한다.
- ③ B에서는 자원 배분의 효율성보다 형평성을 중시한다.
- ④ A에서는 B와 달리 경제적 유인을 강조한다.
- ⑤ B에서는 A와 달리 사적 이윤 추구 활동을 중시한다.

11. 그림은 경제 수업 장면이다. 이에 대한 옳은 설명만을 <보기>에서 고른 것은?

그림은 자금이 거래되는 금융 시장에서 균형점 E_0 이 이동하는 상황을 나타냅니다. 금융 시장에서 자금의 수요 또는 공급이 변동하면 자금의 가격이라 할 수 있는 **(가)**이 변동합니다.



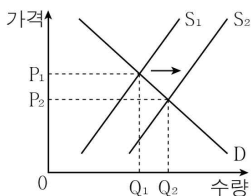
< 보 기 >

- ㄱ. (가)는 '이자율'이다.
- ㄴ. (가)가 상승하면 자금 수요량은 증가한다.
- ㄷ. 기업의 투자 증가는 'E0 → E1'의 이동 요인이다.
- ㄹ. 가계의 저축 감소는 'E0 → E2'의 이동 요인이다.

- ① ㄱ, ㄴ ② ㄱ, ㄷ ③ ㄴ, ㄷ ④ ㄴ, ㄹ ⑤ ㄷ, ㄹ

12. 다음 자료에 대한 옳은 분석만을 <보기>에서 고른 것은? [3점]

그림은 X재 시장 상황을 나타낸다. X재 시장에서는 ㉠의 외부 효과가 발생하였지만 경제적 유인을 제공한 정부의 시장 개입에 의해 공급이 변동하여 자원 배분의 효율성이 달성되었다. 단, S_1 은 정부의 시장 개입 전 공급 곡선, S_2 는 정부의 시장 개입에 의해 이동한 공급 곡선이다.



< 보 기 >

- ㄱ. ㉠은 생산 측면의 외부 경제이다.
- ㄴ. ㉠은 사적 비용이 사회적 비용보다 작기 때문에 발생한다.
- ㄷ. X재의 사회적 최적 거래량은 Q_2 이다.
- ㄹ. 정부는 생산자에게 X재 단위당 P_1P_2 의 경제적 유인을 제공하였다.

- ① ㄱ, ㄴ ② ㄱ, ㄷ ③ ㄴ, ㄷ ④ ㄴ, ㄹ ⑤ ㄷ, ㄹ

13. 다음 자료에 대한 분석 및 추론으로 옳은 것은? [3점]

공장을 임대하여 X재를 독점 생산하는 A 기업은 X재 1개 추가 생산에 Y재 1개, Z재 3개를 원료로 사용한다. 공장 임대료는 X재 생산량과 관계없이 70만 원이며, 원료 1개당 구입 비용은 Y재 20만 원, Z재 10만 원이다. 표는 X재 생산량에 따른 총수입을 나타낸다. 단, X재 생산에 공장 임대료와 원료 구입 비용 이외의 다른 비용은 발생하지 않으며, 생산된 X재는 전량 판매된다.

X재 생산량	1개	2개	3개	4개	5개
총수입(만 원)	100	180	240	280	300

*평균 수입 = 총수입 / 생산량, 평균 비용 = 총비용 / 생산량

- ① 생산량이 많아질수록 평균 수입은 증가한다.
- ② 생산량이 1개 늘어날 때마다 추가되는 비용은 120만 원이다.
- ③ 생산량이 5개일 때의 평균 비용이 가장 크다.
- ④ 생산량이 2개일 때와 4개일 때의 이윤은 같다.
- ⑤ Y재 1개당 구입 비용이 15만 원으로 감소한다면 이윤이 극대화 되는 생산량이 달라진다.

14. 표는 갑국의 연도별 고용 관련 자료를 나타낸다. 2020년에서 2021년으로의 변화에 대한 옳은 분석만을 <보기>에서 고른 것은?

구분	2020년	2021년
실업자 수(만 명)	20	25
경제 활동 인구(만 명)	100	125

* 2020년 15세 이상 인구는 125만 명이고, 2021년 비경제 활동 인구는 전년과 같음.

< 보 기 >

- ㄱ. 15세 이상 인구는 증가하였다.
- ㄴ. 경제 활동 참가율은 상승하였다.
- ㄷ. 실업률은 상승하였다.
- ㄹ. 고용률은 하락하였다.

- ① ㄱ, ㄴ ② ㄱ, ㄷ ③ ㄴ, ㄷ ④ ㄴ, ㄹ ⑤ ㄷ, ㄹ

15. 다음 자료에 대한 설명으로 옳은 것은?

<형성 평가>

[문제] 경기가 ㉠일 때 사용할 수 있는 경제 안정화 정책을 재정 정책과 통화 정책으로 구분하여 2가지씩 서술하십시오.
(옳은 서술 1가지당 1점, 총 4점)

[답안]

- ㉠ 정책
1. 지급 준비율을 인상한다.
2. _____ (가)

- ㉡ 정책
1. _____ (나)
2. 소득세율을 인상한다. _____

채점 결과: 4점

- ① ㉠에는 '침체 상황'이 들어갈 수 있다.
- ② ㉠은 '재정', ㉡은 '통화'이다.
- ③ (가)에는 '국공채를 매각한다.'가 들어갈 수 있다.
- ④ (나)에는 '기준 금리를 인상한다.'가 들어갈 수 있다.
- ⑤ (가)와 (나)에는 모두 총수요를 증가시키는 정책이 들어갈 수 있다.

4 (경제)

사회탐구 영역

16. 표는 갑국의 연도별 명목 GDP 증가율과 GDP 디플레이터를 나타낸다. 이에 대한 분석으로 옳은 것은? (단, 기준 연도는 2019년이고, 물가 수준은 GDP 디플레이터로 측정한다.) [3점]

구분	2019년	2020년	2021년
명목 GDP 증가율(전년 대비, %)	10	10	0
GDP 디플레이터	100	110	100

- ① 물가 수준은 2019년이 가장 높다.
- ② 2019년은 명목 GDP가 실질 GDP보다 크다.
- ③ 2020년의 경제 성장률은 10%이다.
- ④ 실질 GDP는 2021년이 2019년보다 크다.
- ⑤ 명목 GDP는 2021년이 2020년보다 작다.

17. 밑줄 친 ㉠, ㉡에 대한 옳은 설명만을 <보기>에서 고른 것은?

- A사는 자사가 생산한 차량의 경미한 결함을 발견하여 자체적으로 리콜을 결정하였고, 리콜에 응하는 사람들에게 ㉠ **최고급 타이어 교환권을 증정하기로 하였다.**
 - B국 정부는 종합 소득세를 기간 내에 납부하지 않은 사람들에게 ㉡ **세액의 20%를 더한 금액을 납부하도록 하고 있다.**
- *리콜: 어떤 상품에 결함이 있을 때 생산 기업에서 그 상품을 회수하여 점검, 교환, 수리하여 주는 제도

— < 보 기 > —

- ㄱ. ㉠은 긍정적 유인, ㉡은 부정적 유인에 해당한다.
- ㄴ. ㉠은 리콜에 응하는 사람 수를 증가시키는 요인이다.
- ㄷ. ㉠은 리콜에 응하는 사람의 편익을 감소시키는 요인이다.
- ㄹ. ㉡은 종합 소득세를 기간 내에 납부하지 않는 행위를 증가시키는 요인이다.

- ① ㄱ, ㄴ ② ㄱ, ㄷ ③ ㄴ, ㄷ ④ ㄴ, ㄹ ⑤ ㄷ, ㄹ

18. 다음 자료에 대한 분석 및 추론으로 옳은 것은?

표는 X재와 Y재를 생산하는 갑국과 을국의 각 재화 1개당 생산에 필요한 노동자 수와 생산에 투입할 수 있는 총노동자 수를 나타낸다. 생산 가능 곡선이 직선인 갑국과 을국은 유일한 생산요소인 노동을 생산에 모두 투입하여 비교 우위가 있는 재화만을 생산하고, 이익이 발생하는 범위 안에서만 교역하고자 한다. 단, 교역은 거래 비용 없이 양국 간에만 이루어진다.

구분	1개당 생산에 필요한 노동자 수		총노동자 수
	X재	Y재	
갑국	4명	12명	120명
을국	8명	4명	480명

- ① 갑국의 X재 최대 생산 가능량은 을국의 2배이다.
- ② 을국은 X재와 Y재 생산에 모두 절대 우위를 가진다.
- ③ 갑국의 X재 1개 생산의 기회비용은 Y재 3개이다.
- ④ Y재 1개 생산의 기회비용은 갑국이 을국보다 작다.
- ⑤ X재 1개와 Y재 3개를 교역하는 조건이라면 을국은 교역에 응하지 않을 것이다.

19. 다음 대화에 대한 설명으로 옳은 것은? (단, 수수료 등 거래 비용은 없으며, 제시된 내용 이외의 다른 조건은 고려하지 않는다.) [3점]



미국 주식 시장에서 3개월 전에 달러화로 사들인 미국 기업의 주가가 5% 올랐습니다.

그렇군요. 그럼 최대한 빨리 주식을 파셔야 합니다.



㉠ 원/달러 환율 변화를 고려하면 원화 기준으로는 손해인데, 왜 그래야 하나요?



전문가

앞으로의 환율 변화만을 예상해 보면, 지금 주식을 모두 팔고 원화로 환전해야 손실이 최소화되기 때문입니다.

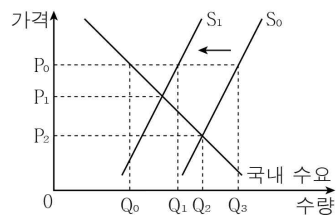


전문가

- ① 3개월 전에 비해 원/달러 환율은 5% 이상 상승하였다.
- ② 3개월 전에 비해 달러화 대비 원화 가치는 하락하였다.
- ③ ㉠은 미국인의 한국 여행 경비 부담을 감소시키는 요인이다.
- ④ ㉠은 한국산 제품의 미국 시장 내 가격 경쟁력을 상승시키는 요인이다.
- ⑤ 전문가는 원화 대비 달러화 가치의 하락을 예상하고 있다.

20. 밑줄 친 경제 상황으로 인한 갑국 내 X재 시장의 변화에 대한 분석으로 옳은 것은? [3점]

그림은 자유 무역에 참여하고 있는 갑국 내 X재 시장 상황을 나타낸다. 최근 갑국에서는 X재 생산비가 변화하여 X재의 국내 공급 곡선이 S_0 에서 S_1 로 이동하였다. 단, 갑국 내 X재 생산자는 국제 가격인 P_0 수준에서 전체 공급량을 결정하고, 국내 수요량을 초과하는 물량을 전부 수출한다. 또한 해외로부터 X재의 국내 유입은 없고, 국제 가격은 P_0 으로 일정하다.



- ① 국내 가격은 P_2 에서 P_1 로 상승하였다.
- ② 국내 소비량은 Q_2 에서 Q_0 으로 감소하였다.
- ③ 수출량은 Q_0Q_3 에서 Q_0Q_1 로 감소하였다.
- ④ 국내 소비자 잉여가 감소하였다.
- ⑤ 국내 생산자 잉여가 증가하였다.

※ 확인 사항

- 답안지의 해당란에 필요한 내용을 정확히 기입(표기)했는지 확인하시오.