

제 4 교시

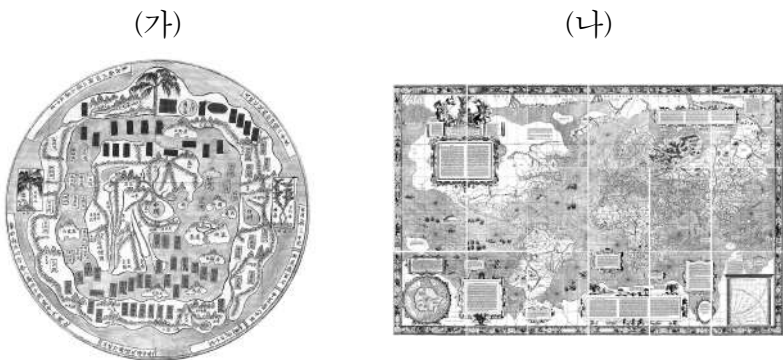
사회탐구 영역(세계지리)

성명

수험 번호

제 [] 선택

1. (가), (나) 지도에 대한 설명으로 옳은 것만을 <보기>에서 고른 것은?



<보 기>
 가. (가)는 중국 중심의 세계관이 반영되어 있다.
 나. (나)에는 경·위선이 표현되어 있다.
 다. (가)와 (나)는 모두 동양에서 처음 제작되었다.
 리. (가)와 (나)에는 모두 아메리카 대륙이 표현되어 있다.

- ① 가, 나 ② 가, 다 ③ 나, 다 ④ 나, 리 ⑤ 다, 리

2. 다음 자료는 여행 상품 정보의 일부이다. (가), (나) 여행지를 지도의 A~D에서 고른 것은?

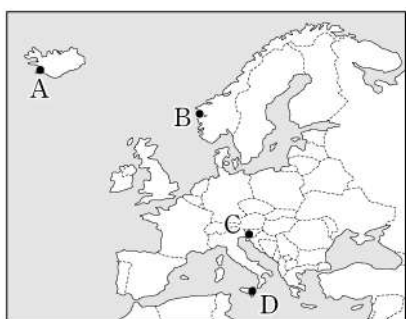
≡ 전체 메뉴 여행 가이드 **여행 여행** OO투어 마이 메뉴 예약 내역 찜

[(가)] 블루리군+화산과 간헐천

운천욕을 즐기며 오토라 현상을 감상할 수 있는 '블루리군'은 이 지역의 대표적 관광지이다. 또한, 주변 지역에서는 최근까지 분출이 있었던 화산과 땅속에서 솟구쳐 오르는 간헐천 등 다양한 화산 지형을 볼 수 있다.
 #오토라 #운천욕 #화산 ★★★★★ 바로 예약하기

[(나)] 포스토이나 동굴+카르스트 지형

유럽의 유명한 석회 동굴 중 하나로 손꼽히는 '포스토이나 동굴'은 이 지역의 대표적 관광지이다. 동굴 내부에는 오랜 시간에 걸쳐 형성된 다양한 형태의 종유석과 석순이 있다. 그 규모는 관광용 기차를 타고 관람할 수 있을 만큼 크다.
 #카르스트 지형 #석회 동굴 ★★★★★ 바로 예약하기



- (가) (나)
 ① A B
 ② A C
 ③ B C
 ④ D A
 ⑤ D B

3. 표는 지도에 표시된 네 국가의 주요 수출품을 나타낸 것이다. (가)~(라) 국가에 대한 설명으로 옳은 것은? [3점]

(단위: %)

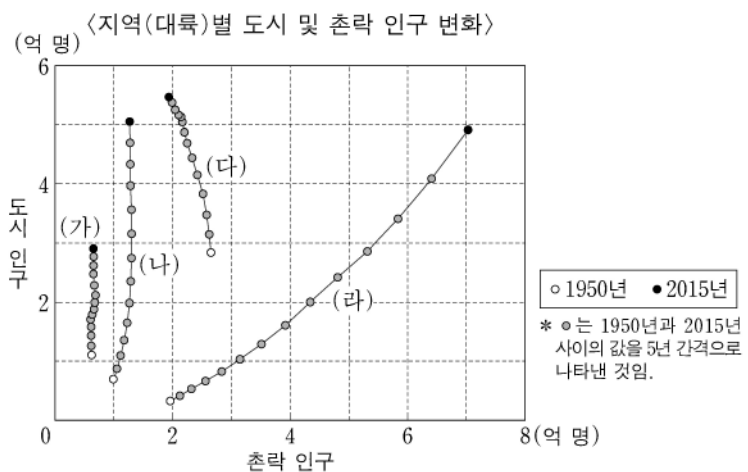
국가	(가)		(나)		(다)		(라)	
순위	수출품	비율	수출품	비율	수출품	비율	수출품	비율
1위	원유	76.5	구리	26.5	차	19.1	대두(콩)	11.6
2위	천연가스	10.1	구리 제품	19.2	화훼류	10.0	원유	10.7
3위	선박(해체용)	4.2	수산물	3.9	석유 제품	7.6	철광석	10.1

*국가별 수출액 기준 상위 3대 품목만 표시함. (2019)



- ① (나)는 아프리카에 위치한다.
 ② (다)는 세계에서 카카오 생산량이 가장 많다.
 ③ (나)는 (가)보다 인구가 많다.
 ④ (다)는 (라)보다 석유 생산량이 많다.
 ⑤ (가)~(라) 중 소 사육 두수는 (라)가 가장 많다.

4. 그래프의 (가)~(라) 지역(대륙)에 대한 설명으로 옳은 것은? (단, (가)~(라)는 각각 라틴 아메리카, 아프리카, 앵글로아메리카, 유럽 중 하나임.) [3점]

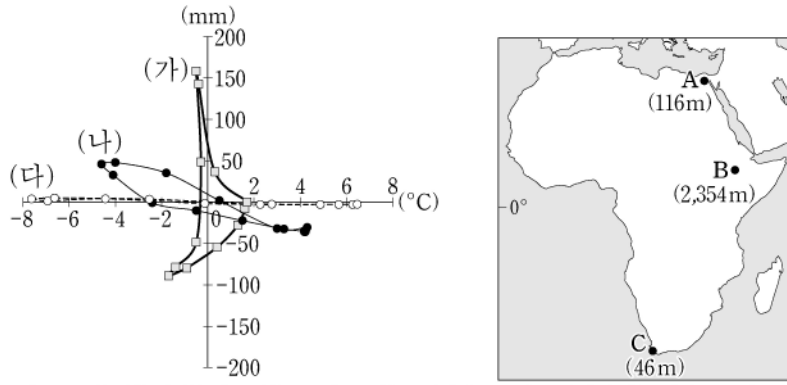


- ① (가)는 (나)보다 국가의 수가 많다.
 ② (라)는 (다)보다 1950년 전체 인구가 많다.
 ③ (가)~(라) 중 2015년 도시화율은 (다)가 가장 높다.
 ④ 1950~2015년 라틴 아메리카의 촌락 인구는 감소하였다.
 ⑤ 1950~2015년 도시 인구 증가율은 아프리카가 라틴 아메리카보다 높다.

2 (세계지리)

사회탐구 영역

5. 그래프의 (가)~(다)에 해당하는 지역을 지도의 A~C에서 고른 것은?



* 가로축은 월 기온 편차(월평균 기온 - 연평균 기온)를 나타냄. * 괄호 안의 숫자는 해발 고도임.
** 세로축은 월 강수량 편차(월 강수량 - 연 강수량/12)를 나타냄.

- | | | | | | | | |
|---|-----|-----|-----|---|-----|-----|-----|
| | (가) | (나) | (다) | | (가) | (나) | (다) |
| ① | A | B | C | ② | A | C | B |
| ③ | B | A | C | ④ | B | C | A |
| ⑤ | C | B | A | | | | |

6. 다음 글은 지도에 표시된 세 국가에 대한 것이다. (가)~(다) 국가에 대한 설명으로 옳은 것은? [3점]

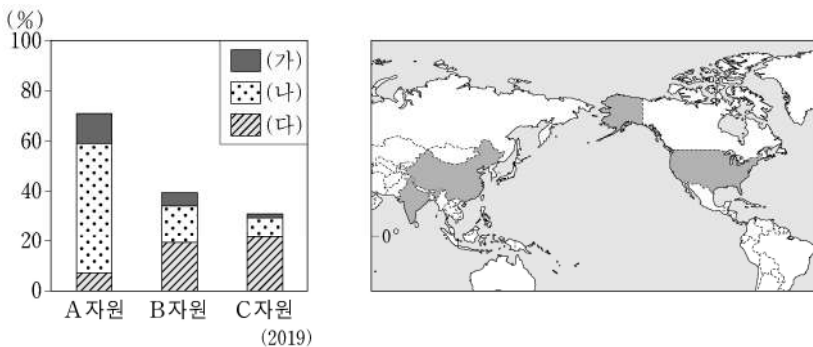
(가) 은/는 국가 내에서 이슬람교 신자 수가 가장 많으며, 수도는 쿠알라룸푸르이다. 문화와 종교의 다양성을 존중하여 여러 종교 관련 공휴일이 있다.

(나) 은/는 국가 내에서 불교 신자 수가 가장 많으며, 수도는 네피도이다. 라카인주에 거주하는 소수 민족인 로힝야족은 주로 이슬람교를 믿는다.

(다) 은/는 국가 내에서 크리스티교 신자 수가 가장 많으며, 수도는 마닐라이다. 남부 민다나오섬 등에 거주하는 모로족은 이슬람교를 믿는다.

- ① (가)는 동남아시아에서 이슬람교 신자 수가 가장 많다.
- ② (나)의 여성 전통 의복으로는 아오자이가 있다.
- ③ (다)의 전통 음식으로는 볶음밥을 의미하는 나시코렝이 있다.
- ④ (가)와 (나)는 모두 타이와 국경을 접하고 있다.
- ⑤ (가)~(다)의 수도 중 적도와의 최단 거리는 (나)의 수도가 가장 짧다.

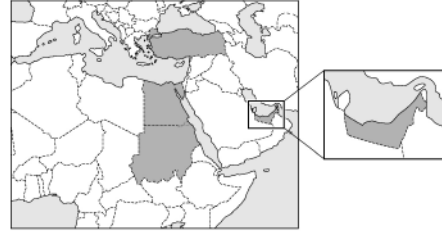
7. 그래프는 주요 화석 에너지 자원 A~C의 세계 소비량에서 (가)~(다) 국가가 차지하는 비율을 나타낸 것이다. 이에 대한 설명으로 옳은 것은? (단, (가)~(다)는 각각 지도에 표시된 세 국가 중 하나임.) [3점]



- ① A는 산업용보다 수송용으로 소비되는 비율이 높다.
- ② A~C 중 상용화된 시기는 B가 가장 이른다.
- ③ 세계 에너지 자원 소비에서 차지하는 비율은 B > A > C 순이다.
- ④ (가)는 C의 최대 수출국이다.
- ⑤ (가)는 아메리카 대륙에, (나)와 (다)는 아시아 대륙에 위치한다.

8. 다음 자료는 세계지리 퀴즈의 일부이다. A 국가에 대한 설명으로 옳은 것은?

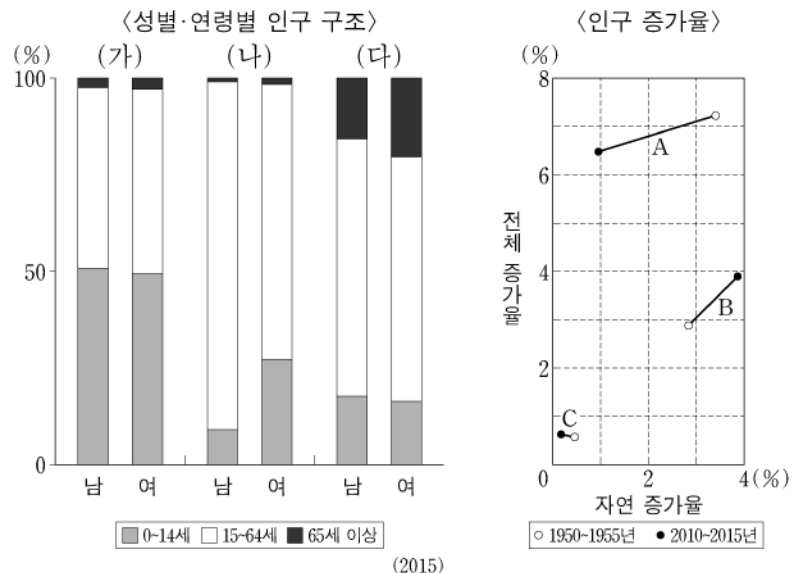
* 다음 글에서 설명하는 (가)~(다) 국가를 지도에서 찾아 하나씩 지운 후 남은 국가 A를 쓰시오. (단, (가)~(다)와 A는 각각 지도에 표시된 국가 중 하나임.)
(가) 지중해와 홍해를 연결하는 수에즈 운하가 위치한 국가로 피라미드와 �핑크스 등 고대 문명 유적을 바탕으로 관광 산업이 발달하였다.
(나) 다르푸르 지역을 중심으로 아랍계 유목민과 아프리카계 정착 농민 사이의 종교 및 민족 갈등이 나타나 수많은 난민이 발생하였다.
(다) 술탄 아흐메트 사원(블루모스크), 파묵칼레 등 문화 유적과 자연 경관을 활용한 관광 산업이 발달하였으며 최근에는 자동차와 가전제품 등의 제조업 육성에 힘쓰고 있다.



정답 :
(가)~(다) 국가를 지우고 남은 국가는 (이)다.

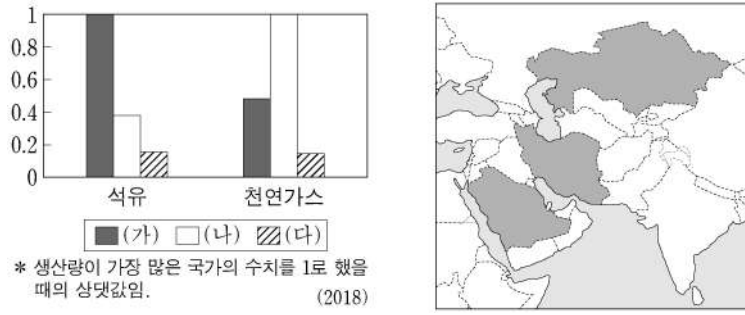
- ① 흑해 연안에 위치한다.
- ② 사헬 지대에 위치한다.
- ③ 국가 내에서 크리스티교 신자의 비율이 가장 높다.
- ④ 지중해성 기후를 이용하여 오렌지를 대규모로 재배한다.
- ⑤ 아부다비와 두바이를 중심으로 금융 및 관광 산업이 발달하였다.

9. 그래프는 세 국가의 인구 특성을 나타낸 것이다. 이에 대한 설명으로 옳은 것은? (단, (가)~(다)와 A~C는 각각 니제르, 벨기에, 카타르 중 하나임.)



- ① 2010~2015년 (가)는 사망자 수가 출생자 수보다 많다.
- ② 2010~2015년 (다)는 유출 인구가 유입 인구보다 많다.
- ③ 1950~1955년 (가)는 (나)보다 인구의 자연 증가율이 높다.
- ④ 2015년 중위 연령은 A가 C보다 높다.
- ⑤ 2015년 총부양비는 A~C 중 B가 가장 높다.

10. 그래프는 지도에 표시된 세 국가의 석유 및 천연가스 생산량을 나타낸 것이다. (가)~(다) 국가에 대한 설명으로 옳은 것은? [3점]



- ① (나)에는 이슬람교의 성지인 메카가 위치한다.
- ② (다)는 걸프 협력 회의 회원국이다.
- ③ (가)는 (다)보다 총수출액이 많다.
- ④ (나)는 (가)보다 1인당 국내 총생산이 많다.
- ⑤ (가)~(다) 중 1차 산업 종사자 비율은 (가)가 가장 높다.

11. 다음은 두 지역 지형 경관을 소개하는 다큐멘터리 대본의 일부이다. 밑줄 친 ㉠~㉣에 대한 설명으로 옳은 것만을 <보기>에서 고른 것은? [3점]

뉴질랜드 남섬을 가다!

첫 번째 촬영 지역 남서부 해안 지역에서는 사운드로 불리는 ㉠ 피오르를 볼 수 있습니다. 남알프스산맥의 최고봉인 쿡산 정상부에는 ㉡ 호른이 있고, 산맥의 동쪽에는 ㉢ 빙하 녹은 물이 모인 호수들이 있습니다.

미국 서부 지역을 가다!

두 번째 촬영 지역 모뉴먼트밸리에서는 건조한 평원에 우뚝 선 ㉣ 메사와 뷰트의 모습을 볼 수 있습니다. 데스밸리에 가면 산지와 평지가 만나는 곳에 ㉤ 선상지가 있고, 저지대에는 ㉥ 플라야가 있습니다.

< 보 기 >

㉠. ㉠은 빙식곡이 해수면 상승으로 침수되어 형성되었다.

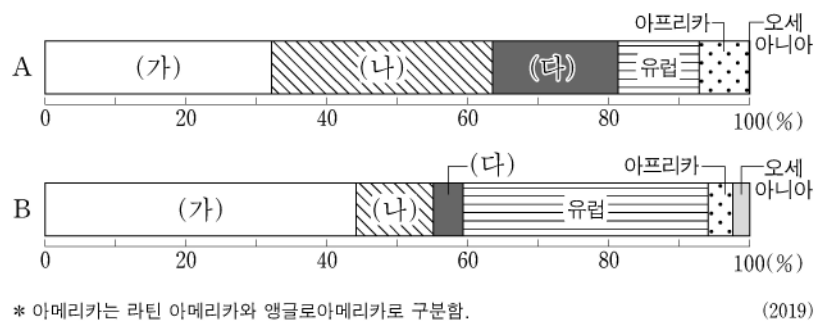
㉡. ㉡은 경암층과 연암층이 차별적인 풍화와 침식을 받아 형성되었다.

㉢. ㉢ 주변에는 바하다, ㉣ 주변에는 에스커가 잘 발달해 있다.

㉤. ㉤은 ㉥에 형성된 호수보다 염도가 높다.

- ① ㉠, ㉡ ② ㉠, ㉢ ③ ㉡, ㉤ ④ ㉡, ㉤ ⑤ ㉢, ㉤

12. 그래프는 식량 작물 A, B의 지역(대륙)별 생산량 비율을 나타낸 것이다. 이에 대한 설명으로 옳은 것은? (단, A, B는 각각 밀, 옥수수 중 하나임.)



- ① B는 A보다 세계 총생산량이 많다.
- ② B는 A보다 바이오 에탄올의 원료로 사용되는 비율이 높다.
- ③ A의 원산지는 (가)에 위치한다.
- ④ A의 생산량이 가장 많은 국가는 (나)에 위치한다.
- ⑤ B의 수출량이 가장 많은 국가는 (다)에 위치한다.

13. 다음은 세계지리 수업 장면의 일부이다. 교사의 질문에 옳게 대답한 학생만을 고른 것은? [3점]

〈아프리카의 해발 고도 분포〉

다음 자료를 보고 (가)~(라)에 발달한 대지형 관련 내용을 발표해 볼까요?

해발 고도 고 저

갑 을 병 정

(가)에는 그레이트디바이딩 산맥이 발달해 있어요.

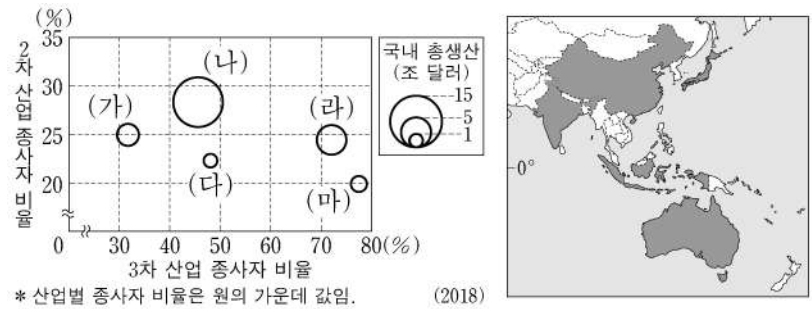
(나)에는 신생대 조산 운동으로 형성된 산지가 발달해 있어요.

(라)에는 아프리카의 대표적 석탄 생산지가 있어요.

(다)는 (나)보다 화산 활동의 발생 빈도가 높아요.

- ① 갑, 을 ② 갑, 병 ③ 을, 병 ④ 을, 정 ⑤ 병, 정

14. 그래프는 지도에 표시된 다섯 국가의 산업 구조 및 국내 총생산을 나타낸 것이다. (가)~(마) 국가에 대한 설명으로 옳은 것은?



- ① (가)는 동남아시아 국가 연합 회원국이다.
- ② (나)는 몬순 아시아에서 2차 산업 생산액이 가장 많다.
- ③ (다)는 대관정 분지에서 기업적 농목업이 행해진다.
- ④ (라)는 벵갈루루, 하이데라바드 등에 첨단 산업이 발달하였다.
- ⑤ (마)에는 최상위 세계 도시가 위치한다.

15. 다음 글은 (가)~(다) 국가에 대한 것이다. 이에 대한 설명으로 옳은 것은? (단, (가)~(다)는 각각 지도에 표시된 세 국가 중 하나임.)

(가) 원주민 비율이 높고, 세계적인 리튬 매장지로 알려진 우유니 소금 사막이 있다. 행정 수도인 ㉠은/는 안데스산맥의 고산 지대에 자리 잡고 있다.

(나) 원자재와 중간재를 수입해 조립 가공하여 다시 수출하는 마킬라도라가 발달하였다. 수도인 ㉡은/는 과거 아스테카 문명이 번성했던 곳에 세워진 도시이다.

(다) 유럽계 비율이 높고, 안데스산맥 동쪽의 파타고니아 고원에는 지형적 요인으로 인해 사막이 발달해 있다. 수도인 ㉢은/는 탱고의 발상지로 유명한 대서양 연안의 항구 도시이다.

- ① (나)에서는 중주 도시화 현상이 나타난다.
- ② (다)에서는 주로 포르투갈어를 사용한다.
- ③ (가)는 (다)보다 국토 면적이 넓다.
- ④ ㉢은 북반구에 위치한다.
- ⑤ ㉠은 ㉡보다 인구가 많다.

4 (세계지리)

사회탐구 영역

16. 다음은 세계지리 온라인 수업 장면의 일부이다. 교사의 질문에 옳게 대답한 학생을 고른 것은? [3점]

[세계지리 학습방]

교사: 지도의 A~E 지역에 대해 설명해 볼까요?

갑: A에는 침엽수림인 타이가가 넓게 나타납니다.
 을: B는 연중 수백 미터 두께의 얼음으로 덮여 있습니다.
 병: C에서는 커피, 목화 등이 주로 재배됩니다.
 정: C는 D보다 기온의 연교차가 큼니다.
 무: D는 E보다 최한월 강수량이 많습니다.

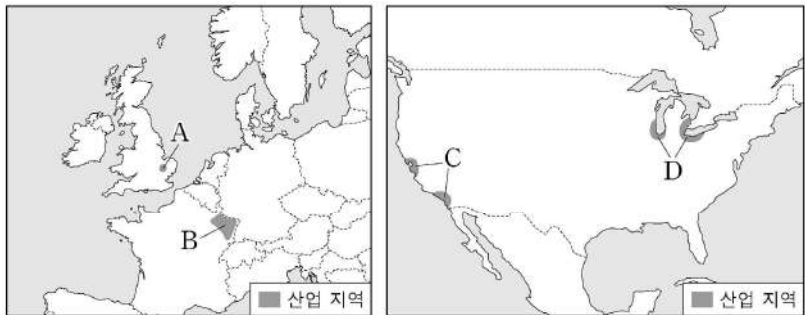
- ① 갑 ② 을 ③ 병 ④ 정 ⑤ 무

17. 표의 (가)~(다) 도시에 대한 설명으로 옳은 것은? [3점]

도시	수리적 위치	특징
(가)	51°30'N, 0°05'W	도심은 세계적인 금융 중심지로 관련 기업들이 집중되어 있다. 템스강 주변에 웨스트민스터 사원과 빅 벤 등 건축물이 있고, 첼시에는 신주거지가 형성되어 있다.
(나)	40°43'N, 74°00'W	세계적인 정치, 경제, 문화의 중심지로 잘 알려져 있다. 격자형 도로망을 갖춘 맨해튼 지역은 국제 연합(UN) 본부, 월스트리트, 브로드웨이를 중심으로 고층 건물이 밀집해 있다.
(다)	48°51'N, 2°21'E	도심에는 상업 기능이 발달한 상젤리제가 오래 전에 형성되었고, 에펠 탑과 루브르 박물관도 위치하고 있다. 도시의 서쪽 외곽에는 새롭게 건설된 업무 단지인 라데팡스가 위치한다.

- ① (가)는 앵글로아메리카에 위치한다.
 ② (나)에는 유럽 연합(EU) 본부가 있다.
 ③ (다)에는 파벨라라 불리는 불량 주택 지구가 있다.
 ④ (나)는 (다)보다 도시 발달의 역사가 짧다.
 ⑤ (가)~(다) 모두 해당 국가의 수도이다.

18. 지도의 A~D 지역에 대한 설명으로 옳은 것만을 <보기>에서 고른 것은?



<보 기>

ㄱ. A에는 소피아 앙티폴리스가 있다.
 ㄴ. B는 풍부한 철광석을 바탕으로 제철 공업이 발달했던 지역이다.
 ㄷ. C는 선벨트에 해당한다.
 ㄹ. D의 대표적인 도시로는 유전을 기반으로 석유 화학 공업이 발달한 휴스턴이 있다.

- ① ㄱ, ㄴ ② ㄱ, ㄷ ③ ㄴ, ㄷ ④ ㄴ, ㄹ ⑤ ㄷ, ㄹ

19. 표는 지도에 표시된 네 지역의 낮 길이와 월 강수량을 나타낸 것이다. A~D 지역에 대한 설명으로 옳은 것만을 <보기>에서 있는 대로 고른 것은? (단, (가), (나) 시기는 각각 1월, 7월 중 하나임.)

지역	(가) 시기 낮 길이	(나) 시기 월 강수량
A	10시간 11분	0.7mm
B	13시간 51분	139.3mm
C	16시간 26분	15.1mm
D	11시간 17분	210.8mm

* 낮 길이는 1981-2010년 해당 월의 평균값을 나타냄.

<보 기>

ㄱ. A는 B보다 (나) 시기에 정오의 태양 고도가 높다.
 ㄴ. C는 D보다 최한월 평균 기온이 낮다.
 ㄷ. D는 B보다 (가), (나) 시기 간 강수량 차이가 크다.
 ㄹ. A~D 중 C가 (나) 시기에 아열대 고압대의 영향을 가장 많이 받는다.

- ① ㄱ, ㄴ ② ㄴ, ㄷ ③ ㄴ, ㄹ
 ④ ㄱ, ㄴ, ㄷ ⑤ ㄱ, ㄷ, ㄹ

20. 다음은 세계지리 수행 평가 자료의 일부이다. 이에 대한 설명으로 옳은 것만을 <보기>에서 고른 것은? [3점]

<환경 문제 대응을 위한 국제 협약/협정>

명칭	(가)
주요 내용	<ul style="list-style-type: none"> 1994년 6월 17일, 프랑스 파리에서 채택되었음. A 을/를 건조, 반건조 등의 지역에서 다양한 요인으로 발생하는 토지 황폐화로 정의함. A 을/를 막고자 지속 가능한 개발을 위한 종합적 토지 개발 계획을 수립하며, 토지 황폐화의 방지 및 경감 그리고 복구를 위해 노력함.
명칭	(나)
주요 내용	<ul style="list-style-type: none"> 2015년 12월 12일, 프랑스 파리에서 채택되었음. B 의 위험에 대한 전 지구적 대응을 강화하는 것이 목표임. B 의 위험을 줄이기 위해서 산업화 전 수준 대비 지구 평균 기온 상승을 2°C보다 현저히 낮은 수준으로 유지하도록 노력함.

<보 기>

ㄱ. (가)는 사막화 방지 협약이다.
 ㄴ. (나)는 유해 폐기물의 국가 간 이동을 처음으로 제한하였다.
 ㄷ. A의 사례 지역으로는 아랄해 일대가 있다.
 ㄹ. B는 오존층 파괴이다.

- ① ㄱ, ㄴ ② ㄱ, ㄷ ③ ㄴ, ㄷ ④ ㄴ, ㄹ ⑤ ㄷ, ㄹ

* 확인 사항

○ 답안지의 해당란에 필요한 내용을 정확히 기입(표기)했는지 확인 하시오.