

● 수학 영역 ●

정답

1	2	3	4	5	6	7	8	9	10	11	12	13	14	15	16	17	18	19	20	21	22	23	24	25	26
①	②	③	④	⑤	⑥	⑦	⑧	⑨	⑩	⑪	⑫	⑬	⑭	⑮	⑯	⑰	⑱	㉠	㉡	㉢	㉣	㉤	㉥	㉦	㉧

해설

1. [출제의도] 근호를 포함한 식의 값을 계산한다.

$$\sqrt{\frac{12}{5}} \times \sqrt{\frac{5}{3}} = \sqrt{\frac{12}{5} \times \frac{5}{3}} = \sqrt{4} = 2$$

2. [출제의도] 다항식을 정리하여 일차항의 계수를 계산한다.

$$(2x+1)^2 - (2x^2+x-1) = (4x^2+4x+1) - (2x^2+x-1) = 4x^2+4x+1-2x^2-x+1 = 2x^2+3x+2$$

따라서 일차항의 계수는 3

3. [출제의도] 삼각비를 이용하여 삼각형의 변의 길이를 계산한다.

$$\cos 30^\circ = \frac{\overline{AB}}{8\sqrt{3}} \Rightarrow \overline{AB} = 8\sqrt{3} \times \cos 30^\circ = 8\sqrt{3} \times \frac{\sqrt{3}}{2} = 12$$

4. [출제의도] 직선의 방정식을 이해하여 직선의 y절편을 구한다.

두 점 (1, -1), (2, 1)을 지나는 직선의 기울기를 a, y절편을 b라 하자.

$$a = \frac{1 - (-1)}{2 - 1} = 2 \text{ 이므로}$$

두 점 (1, -1), (2, 1)을 지나는 직선의 방정식은

$$y = 2x + b$$

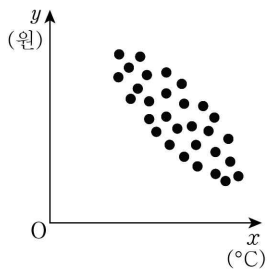
이 직선이 점 (1, -1)을 지나므로

$$-1 = 2 \times 1 + b$$

$$b = -3$$

5. [출제의도] 상관관계를 이해하여 적절한 산점도를 추론한다.

일일 최저 기온이 높을수록 일일 난방비가 감소하므로 두 변량 x, y 사이에는 음의 상관관계가 있다. 따라서 x와 y 사이의 상관관계를 나타낸 산점도도 가장 적절한 것은 다음과 같다.



6. [출제의도] 원주각과 중심각 사이의 관계를 이해하여 원주각의 크기를 구한다.

호의 길이는 중심각의 크기에 비례하므로

호 AB에 대한 중심각의 크기는

$$360^\circ \times \frac{1}{5} = 72^\circ$$

호에 대한 원주각의 크기는 중심각의 크기의

$\frac{1}{2}$ 배이므로 호 AB에 대한 원주각의 크기는

$$72^\circ \times \frac{1}{2} = 36^\circ$$

7. [출제의도] 입체도형을 이해하여 직육면체의 겉넓이를 구한다.

직육면체의 높이를 h라 하면 부피는

$$2 \times 2 \times h = 12, h = 3$$

직육면체의 겉넓이는

$$2 \times (\text{밑면의 넓이}) + (\text{옆면의 넓이}) = 2 \times 4 + 4 \times 2 \times 3 = 8 + 24 = 32$$

8. [출제의도] 도수분포표를 이해하여 계급의 도수를 구한다.

조사한 학생의 수가 25 이고

키가 170cm 미만인 학생의 수는 a+8이므로

$$\frac{a+8}{25} = \frac{40}{100}$$

$$a+8 = 10, a = 2$$

조사한 학생의 수가 25 이므로

$$a+8+b+6 = 2+8+b+6 = 25$$

따라서 b=9

9. [출제의도] 일차함수와 일차방정식의 관계를 이해하여 상수의 값을 구한다.

두 일차방정식

$$ax+2y-b=0 \dots\dots \text{㉠}$$

$$2ax+by-3=0 \dots\dots \text{㉡}$$

의 그래프의 교점의 좌표가 (2, 1) 이므로

x=2, y=1을 ㉠, ㉡에 각각 대입하면

$$2a-b+2=0, 4a+b-3=0$$

a, b에 대한 연립방정식

$$\begin{cases} 2a-b=-2 \dots\dots \text{㉢} \\ 4a+b=3 \dots\dots \text{㉣} \end{cases}$$

$$\begin{cases} 2a-b=-2 \dots\dots \text{㉢} \\ 4a+b=3 \dots\dots \text{㉣} \end{cases}$$

에서 ㉢과 ㉣을 변끼리 더하면

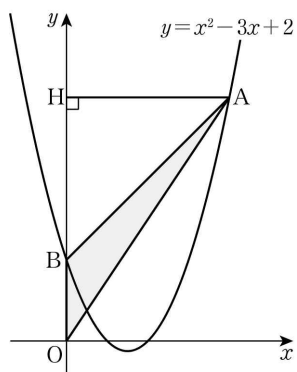
$$6a=1, a=\frac{1}{6}$$

$$a=\frac{1}{6} \text{을 ㉢에 대입하면}$$

$$2 \times \frac{1}{6} - b = -2, b = \frac{7}{3}$$

$$\text{따라서 } a+b = \frac{1}{6} + \frac{7}{3} = \frac{5}{2}$$

10. [출제의도] 이차함수의 그래프를 이해하여 조건을 만족시키는 점의 좌표를 구한다.



점 B는 이차함수 $y = x^2 - 3x + 2$ 의 그래프가 y축과 만나는 점이므로

이차함수 $y = x^2 - 3x + 2$ 에 $x=0$ 을 대입하면

$$y = 0^2 - 3 \times 0 + 2 = 2$$

이므로 점 B의 좌표는 (0, 2)

점 A에서 y축에 내린 수선의 발을 H(0, b)라 하면

$$\triangle OAB = \frac{1}{2} \times \overline{OB} \times \overline{AH}$$

$$= \frac{1}{2} \times 2 \times a = 4$$

그러므로 a=4, 즉 점 A의 x좌표가 4이므로

이차함수 $y = x^2 - 3x + 2$ 에 $x=4, y=b$ 를 대입하면

$$b = 4^2 - 3 \times 4 + 2 = 6$$

이므로 점 A의 좌표는 (4, 6)

따라서 a+b=4+6=10

11. [출제의도] 일차부등식을 이용하여 실생활 문제를 해결한다.

학생이 집에서 출발하여 갈 때 이동한 거리를 Lkm라 하자.

$$(\text{시간}) = \frac{(\text{거리})}{(\text{속력})} \text{ 이므로}$$

$$(\text{갈 때 걸리는 시간}) = \frac{L}{3} \text{ 시간}$$

$$(\text{돌아올 때 걸리는 시간}) = \frac{L}{4} \text{ 시간}$$

집에서 출발하여 집으로 돌아올 때까지 걸리는 전체 시간은

$$\frac{L}{3} + \frac{L}{4} = \frac{7}{12}L$$

이 학생이 집에서 출발하여 집으로 돌아올 때까지 이동한 전체 시간이 2시간 이하가 되어야 하므로

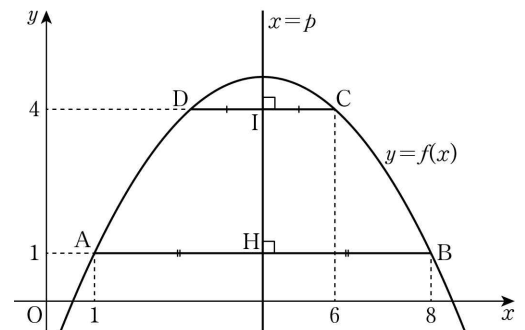
$$\frac{7}{12}L \leq 2, L \leq \frac{24}{7}$$

학생이 집에서 출발하여 집으로 돌아올 때까지 이동한 거리는 2L이므로

$$2L \leq \frac{48}{7}$$

따라서 이동한 거리의 최댓값은 $\frac{48}{7}$ km

12. [출제의도] 이차함수의 그래프의 성질을 이해하여 점의 좌표를 구한다.



이차함수 $y = f(x)$ 의 그래프 위의 두 점 A와 B의 y좌표가 서로 같으므로 직선 AB는 x축에 평행하고 선분 AB의 수직이등분선은 이차함수 $y = f(x)$ 의 그래프의 축이다.

축의 방정식을 $x = p$ 라 하자.

선분 AB와 직선 $x = p$ 가 만나는 점을 H라 하면

$$\overline{AH} = \overline{BH} \text{ 에서}$$

$$p - 1 = 8 - p$$

$$p = \frac{9}{2}$$

직선 CD는 직선 AB에 평행하므로 직선 CD도 x축에 평행한 직선이다.

점 C의 y좌표가 4이므로 직선 CD의 방정식은 $y = 4$ 점 D(a, b)는 직선 $y = 4$ 위에 있으므로 b=4

선분 CD와 직선 $x = \frac{9}{2}$ 가 만나는 점을 I라 하면

$$\overline{CI} = \overline{DI} \text{ 이고 점 C의 x좌표가 } \frac{9}{2} \text{ 보다 크므로 } a < \frac{9}{2}$$

$$6 - \frac{9}{2} = \frac{9}{2} - a$$

$$a = 3$$

$$\text{따라서 } a+b = 3+4 = 7$$

13. [출제의도] 다항식의 인수분해를 이해하여 조건을 만족시키는 값을 구한다.

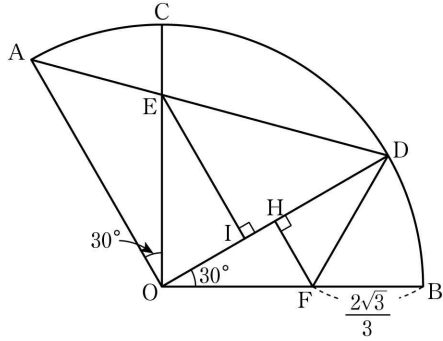
$$2x^2 + 9x + k = (2x+a)(x+b)$$

$$= 2x^2 + (a+2b)x + ab$$

$$\text{에서 } a+2b=9, k=ab$$

a, b는 자연수이므로 가능한 a, b, k의 값은 다음 표와 같다.

20. [출제의도] 삼각비를 이용하여 삼각형의 넓이를 구하는 문제를 해결한다.



점 F에서 선분 OD에 내린 수선의 발을 H라 하자. $\overline{OF}=x$ 라 하면

직각삼각형 OFH에서 $\cos 30^\circ = \frac{\overline{OH}}{\overline{OF}}$ 이므로

$$\frac{\sqrt{3}}{2} = \frac{\overline{OH}}{x}$$

$$\overline{OH} = \frac{\sqrt{3}}{2}x$$

부채꼴 OAB의 반지름의 길이를 r라 하면

$$r = 2\overline{OH} = \sqrt{3}x \text{ 이므로}$$

$$r = \overline{OF} + \overline{BF}$$

$$= x + \frac{2\sqrt{3}}{3}$$

$$= \sqrt{3}x$$

$$(\sqrt{3}-1)x = \frac{2\sqrt{3}}{3}$$

$$x = \frac{2\sqrt{3}}{3(\sqrt{3}-1)}$$

$$= \frac{2\sqrt{3}(\sqrt{3}+1)}{3(\sqrt{3}-1)(\sqrt{3}+1)}$$

$$= \frac{2 \times 3 + 2\sqrt{3}}{3 \times 2}$$

$$= \frac{3 + \sqrt{3}}{3}$$

$$r = \sqrt{3}x$$

$$= \sqrt{3} \times \frac{3 + \sqrt{3}}{3}$$

$$= \frac{3\sqrt{3} + 3}{3}$$

$$= \sqrt{3} + 1$$

점 E에서 선분 OD에 내린 수선의 발을 I라 하고 $\overline{OI}=y$ 라 하면

$$\angle EOI = \angle AOB - \angle AOC - \angle DOB$$

$$= 120^\circ - 30^\circ - 30^\circ = 60^\circ$$

직각삼각형 EOI에서

$$\tan(\angle EOI) = \tan 60^\circ$$

$$= \frac{\overline{EI}}{\overline{OI}}$$

$$= \frac{\overline{EI}}{y}$$

$$\overline{EI} = y \times \tan 60^\circ$$

$$= \sqrt{3}y$$

$\overline{OA} = \overline{OD}$ 인 이등변삼각형 AOD에서

$$\angle AOD = \angle AOC + \angle COD$$

$$= \angle AOC + \angle EOI$$

$$= 30^\circ + 60^\circ = 90^\circ$$

이므로 삼각형 AOD가 직각삼각형이다.

그러므로 $\angle EDI = \angle ADO = 45^\circ$

$$\tan(\angle EDI) = \tan 45^\circ$$

$$= \frac{\overline{EI}}{\overline{DI}}$$

$$= \frac{\sqrt{3}y}{\overline{DI}}$$

$$\overline{DI} = \sqrt{3}y \times \frac{1}{\tan 45^\circ}$$

$$= \sqrt{3}y$$

$$\overline{OD} = \overline{OI} + \overline{DI}$$

$$= y + \sqrt{3}y$$

$$= (\sqrt{3}+1)y$$

$$\sqrt{3}+1 = (\sqrt{3}+1)y$$

$$y = 1$$

따라서

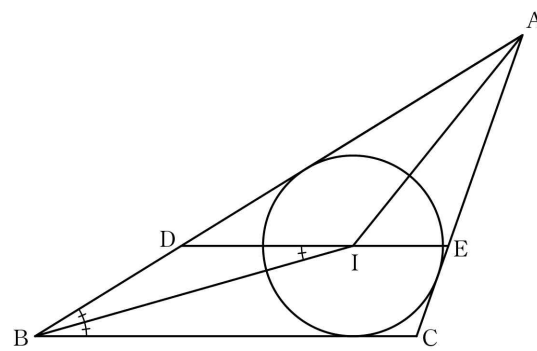
$$\triangle ODE = \frac{1}{2} \times \overline{OD} \times \overline{EI}$$

$$= \frac{1}{2} \times r \times \sqrt{3}y$$

$$= \frac{1}{2} \times (\sqrt{3}+1) \times \sqrt{3}$$

$$= \frac{3 + \sqrt{3}}{2}$$

21. [출제의도] 삼각형의 내심의 성질과 피타고라스 정리를 이용하여 참, 거짓을 추론한다.

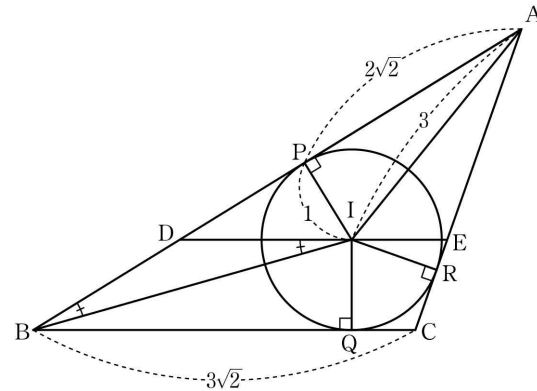


ㄱ. 직선 DE와 직선 BC가 평행하므로

$$\angle IBC = \angle BID \text{ (엇각)}$$

점 I가 삼각형 ABC의 내심이므로 $\angle IBC = \angle IBD$

가 되어 $\angle BID = \angle IBD$ (참)



ㄴ. $\angle BID = \angle IBD$ 이므로

삼각형 DBI는 $\overline{DB} = \overline{DI}$ 인 이등변삼각형이다.

그러므로

$$\overline{AB} = \overline{AD} + \overline{DB}$$

$$= \overline{AD} + \overline{DI}$$

같은 방법으로 $\overline{CA} = \overline{CE} + \overline{EA}$

$$\overline{DE} = \overline{DI} + \overline{IE}$$

삼각형 ADE의 둘레의 길이는

$$\overline{AD} + \overline{DE} + \overline{EA} = \overline{AD} + (\overline{DI} + \overline{IE}) + \overline{EA}$$

$$= (\overline{AD} + \overline{DI}) + (\overline{IE} + \overline{EA})$$

$$= \overline{AB} + \overline{CA}$$

점 I에서 세 선분 AB, BC, CA에 내린 수선의 발을 각각 P, Q, R라 하면 피타고라스 정리에 의해

$$\overline{AP} = \sqrt{3^2 - 1^2}$$

$$= 2\sqrt{2}$$

\overline{AP} , \overline{RA} 는 점 A에서 내접원에 그은 접선이므로

$$\overline{AP} = \overline{RA}$$

같은 방법으로 $\overline{PB} = \overline{BQ}$, $\overline{QC} = \overline{CR}$

$$\triangle ABC = \triangle ABI + \triangle BCI + \triangle CAI$$

$$= \frac{1}{2} \times \overline{AB} \times 1 + \frac{1}{2} \times \overline{BC} \times 1 + \frac{1}{2} \times \overline{CA} \times 1$$

$$= \frac{1}{2} \times (\overline{AB} + \overline{BC} + \overline{CA})$$

$$= \frac{1}{2} \times (\overline{AP} + \overline{PB} + \overline{BQ} + \overline{QC} + \overline{CR} + \overline{RA})$$

$$= \frac{1}{2} \times (4\sqrt{2} + 2\overline{PB} + 2\overline{CR})$$

$$= 2\sqrt{2} + \overline{PB} + \overline{CR}$$

$$= 5\sqrt{2}$$

$$\overline{PB} + \overline{CR} = 3\sqrt{2}$$

그러므로 삼각형 ADE의 둘레의 길이는

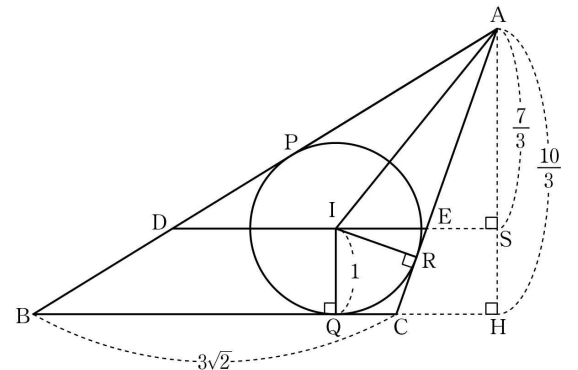
$$\overline{AD} + \overline{DE} + \overline{EA} = \overline{AB} + \overline{CA}$$

$$= \overline{AP} + \overline{PB} + \overline{CR} + \overline{RA}$$

$$= 4\sqrt{2} + \overline{PB} + \overline{CR}$$

$$= 4\sqrt{2} + 3\sqrt{2}$$

$$= 7\sqrt{2} \text{ (참)}$$



ㄷ. $\overline{PB} = \overline{BQ}$, $\overline{QC} = \overline{CR}$ 이므로

$$\overline{BC} = \overline{BQ} + \overline{QC}$$

$$= \overline{PB} + \overline{CR}$$

$$= 3\sqrt{2}$$

점 A에서 직선 BC에 내린

수선의 발을 H라 하면

$$\triangle ABC = \frac{1}{2} \times \overline{BC} \times \overline{AH}$$

$$= \frac{1}{2} \times 3\sqrt{2} \times \overline{AH}$$

$$= 5\sqrt{2}$$

$$\text{이므로 } \overline{AH} = \frac{10}{3}$$

$$\text{이므로 } \overline{AH} = \frac{10}{3}$$

$$\text{이므로 } \overline{AH} = \frac{10}{3}$$

$$\text{이므로 } \overline{AH} = \frac{10}{3}$$

$$\text{이므로 } \overline{AH} = \frac{10}{3}$$

$$\text{이므로 } \overline{AH} = \frac{10}{3}$$

$$\text{이므로 } \overline{AH} = \frac{10}{3}$$

$$\text{이므로 } \overline{AH} = \frac{10}{3}$$

$$\text{이므로 } \overline{AH} = \frac{10}{3}$$

$$\text{이므로 } \overline{AH} = \frac{10}{3}$$

$$\text{이므로 } \overline{AH} = \frac{10}{3}$$

$$\text{이므로 } \overline{AH} = \frac{10}{3}$$

$$\text{이므로 } \overline{AH} = \frac{10}{3}$$

$$\text{이므로 } \overline{AH} = \frac{10}{3}$$

$$\text{이므로 } \overline{AH} = \frac{10}{3}$$

$$\text{이므로 } \overline{AH} = \frac{10}{3}$$

$$\text{이므로 } \overline{AH} = \frac{10}{3}$$

$$\text{이므로 } \overline{AH} = \frac{10}{3}$$

$$\text{이므로 } \overline{AH} = \frac{10}{3}$$

$$\text{이므로 } \overline{AH} = \frac{10}{3}$$

$$\text{이므로 } \overline{AH} = \frac{10}{3}$$

$$\text{이므로 } \overline{AH} = \frac{10}{3}$$

$$\text{이므로 } \overline{AH} = \frac{10}{3}$$

$$\text{이므로 } \overline{AH} = \frac{10}{3}$$

$$\text{이므로 } \overline{AH} = \frac{10}{3}$$

$$\text{이므로 } \overline{AH} = \frac{10}{3}$$

$$\text{이므로 } \overline{AH} = \frac{10}{3}$$

$$\text{이므로 } \overline{AH} = \frac{10}{3}$$

$$\text{이므로 } \overline{AH} = \frac{10}{3}$$

$$\text{이므로 } \overline{AH} = \frac{10}{3}$$

$$\text{이므로 } \overline{AH} = \frac{10}{3}$$

$$\text{이므로 } \overline{AH} = \frac{10}{3}$$

22. [출제의도] 이차방정식의 근을 이용하여 상수의 값을 계산한다.

이차방정식 $x^2 - 2ax + 5a = 0$ 의 한 근이 $x = 3$ 이므로

$$x^2 - 2ax + 5a = 0 \text{에 } x = 3 \text{을 대입하면}$$

$$9 - 6a + 5a = 0$$

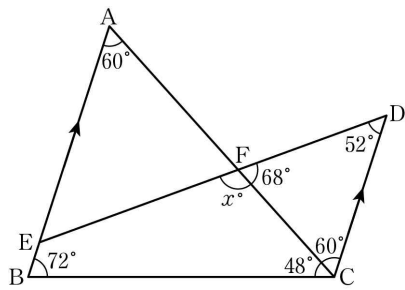
$$9 - a = 0$$

$$\text{따라서 } a = 9$$

23. [출제의도] 연립일차방정식의 해를 계산한다.

연립일차방정식
 $\begin{cases} x-y=4 & \text{..... ㉠} \\ 2x+y=11 & \text{..... ㉡} \end{cases}$
 에서 ㉠과 ㉡을 변끼리 더하면
 $3x=15$
 $x=5$
 $x=5$ 를 ㉠에 대입하면
 $5-y=4$
 $y=1$
 이므로 구하는 연립일차방정식의 해는
 $x=5, y=1$
 이므로 $a=5, b=1$
 따라서 $a+b=5+1=6$

24. [출제의도] 평면도형의 성질을 이해하여 각의 크기를 구한다.



삼각형 ABC의 세 내각의 크기의 합이 180° 이므로
 $\angle A + \angle B + \angle C = 180^\circ$
 $\angle B = 72^\circ, \angle C = 48^\circ$ 이므로
 $\angle A = 180^\circ - 72^\circ - 48^\circ = 60^\circ$
 한편, 두 선분 AB와 DC가 서로 평행하므로
 $\angle ACD = \angle A = 60^\circ$ (엇각)
 삼각형 CDF의 세 내각의 크기의 합이 180° 이므로
 $\angle FCD + \angle CDF + \angle DFC = 180^\circ$
 $\angle DFC = 180^\circ - 60^\circ - 52^\circ = 68^\circ$
 $\angle EFC = 180^\circ - \angle DFC = 180^\circ - 68^\circ = 112^\circ$
 따라서 $x = 112$

25. [출제의도] 주어진 조건을 만족시키는 경우의 수를 구하는 문제를 해결한다.

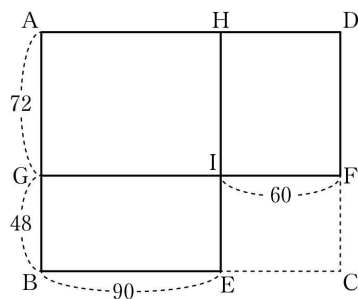
14의 약수는 1, 2, 7, 14이다.
 a, b 는 1 이상 6 이하의 자연수이므로 14의 약수 중 $a+b$ 의 값으로 가능한 것은 2 또는 7이다.
 (i) $a+b=2$ 인 경우
 $a=1$ 이면 $b=1$
 이므로 가능한 순서쌍의 개수는 (1, 1)의 1
 (ii) $a+b=7$ 인 경우
 $a=1$ 이면 $b=6$
 $a=2$ 이면 $b=5$
 $a=3$ 이면 $b=4$
 $a=4$ 이면 $b=3$
 $a=5$ 이면 $b=2$
 $a=6$ 이면 $b=1$
 이므로 가능한 순서쌍의 개수는 (1, 6), (2, 5), (3, 4), (4, 3), (5, 2), (6, 1)의 6
 (i), (ii)에서 가능한 모든 순서쌍 (a, b) 의 개수는 $1+6=7$

26. [출제의도] 중앙값, 평균의 의미를 이해하여 자료의 변량을 추론하고 그 최빈값을 구한다.

두 실수 a, b 에 대하여 $a \leq b$ 라 하자.
 a, b 를 제외한 자료의 값을 크기순으로 정렬하면 1, 4, 5, 6, 8, 9
 중앙값인 6.5보다 작은 값의 개수는 1, 4, 5, 6의 4이고 변량의 개수가 8이므로 a 와 b 는 모두 6.5보다

크다.
 변량의 개수가 짝수이고 중앙값이 6.5이므로
 $6.5 = \frac{6+a}{2}$
 $a=7$
 평균이 6이므로
 $\frac{1+4+5+6+7+8+9+b}{8} = \frac{40+b}{8} = 6$
 $40+b=48$
 $b=8$
 자료의 값을 크기순으로 정렬하면 1, 4, 5, 6, 7, 8, 8, 9
 이므로 최빈값은 8이다.
 $c=8$
 따라서 $a+b+c=7+8+8=23$

27. [출제의도] 소인수분해를 이용하여 실생활 문제를 해결한다.



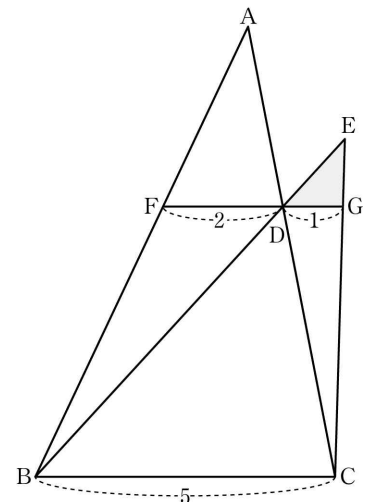
그림과 같이 선분 AB에 수직이고 점 F를 지나는 직선이 선분 AB와 만나는 점을 G, 선분 BC에 수직이고 점 E를 지나는 직선이 선분 DA와 만나는 점을 H, 두 선분 GF와 EH가 만나는 점을 I라 하자.
 직사각형 AGIH의 내부에 정사각형을 서로 겹치지 않고 빈틈없이 붙이려면 붙이는 정사각형 모양의 종이의 한 변의 길이가 두 선분 AG, GI의 길이의 공약수가 되어야 한다.
 이때 붙이는 정사각형 모양의 종이의 개수가 최소가 되기 위해서는 정사각형 모양의 종이의 한 변의 길이가 두 선분 AG, GI의 길이의 최대공약수가 되어야 한다.
 같은 방법으로 직사각형 GBEI의 내부에 정사각형 모양의 종이를 서로 겹치지 않고 빈틈없이 붙일 때, 붙이는 종이의 개수가 최소가 되기 위해서는 정사각형 모양의 종이의 한 변의 길이가 두 선분 GB, BE의 길이의 최대공약수가 되어야 한다.
 같은 방법으로 직사각형 HIFD의 내부에 정사각형 모양의 종이를 서로 겹치지 않고 빈틈없이 붙일 때, 붙이는 종이의 개수가 최소가 되기 위해서는 정사각형 모양의 종이의 한 변의 길이가 두 선분 HI, IF의 길이의 최대공약수가 되어야 한다.
 $\overline{AG}=72, \overline{GI}=90$ 에서
 $72=2^3 \times 3^2$
 $90=2 \times 3^2 \times 5$
 이므로
 72와 90의 최대공약수는 $2 \times 3^2=18$
 $\overline{GB}=48, \overline{BE}=90$ 에서
 $48=2^4 \times 3$
 $90=2 \times 3^2 \times 5$
 이므로
 48과 90의 최대공약수는 $2 \times 3=6$
 $\overline{HI}=72, \overline{IF}=60$ 에서
 $72=2^3 \times 3^2$
 $60=2^2 \times 3 \times 5$
 이므로
 72과 60의 최대공약수는 $2^2 \times 3=12$
 세 직사각형 AGIH, GBEI, HIFD에 합동인 정사각형 모양의 종이를 붙여야 하므로 한 변의 길이는 18, 6,

12의 공약수가 되어야 한다.
 이때 \square 모양의 종이의 내부에 붙이는 정사각형 모양의 종이의 개수가 최소가 되기 위해서는 정사각형 모양의 종이의 한 변의 길이가 18, 6, 12의 최대공약수 6이 되어야 한다.
 그러므로 붙이는 정사각형 모양의 종이 1개의 넓이는 $6^2=36$
 $(\square AGIH + \square GBEI + \square HIFD) \div 36$
 $= (72 \times 90 + 48 \times 90 + 72 \times 60) \div 36 = 420$
 따라서 붙일 수 있는 종이의 개수의 최솟값은 420

28. [출제의도] 주어진 조건을 만족시키는 자연수의 개수를 추론한다.

$p^2q < n \leq pq^2$ 을 만족시키는 자연수 n 의 개수는 $pq^2 - p^2q$ 이므로
 $pq^2 - p^2q = pq(q-p) = 308$
 $p < q$ 이므로 $q-p > 0$ 이고 p, q 가 자연수이므로 $q-p$ 도 자연수이다.
 $p < q$ 이고 $q-p < q$ 이므로
 세 자연수 $p, q, q-p$ 중 q 가 가장 큰 자연수이다.
 308을 소인수분해하면
 $308 = 2^2 \times 7 \times 11$
 q 는 308의 가장 큰 소인수이므로 $q=11$
 p 는 308의 소인수이고 $p < q$ 이므로 $p=2$ 또는 $p=7$
 (i) $p=2$ 인 경우
 $pq(q-p) = 2 \times 11 \times (11-2) = 198$
 (ii) $p=7$ 인 경우
 $pq(q-p) = 7 \times 11 \times (11-7) = 308$
 (i), (ii)에 의하여 $pq(q-p) = 308$ 일 때
 $p=7, q=11$
 따라서 $p+q=18$

29. [출제의도] 삼각형의 닮음을 이용하여 도형의 넓이를 구하는 문제를 해결한다.



두 삼각형 EDG, EBC에서 $\overline{DG} \parallel \overline{BC}$ 이므로
 두 삼각형 EDG, EBC는 서로 닮은 도형이다.
 $\overline{DE} : \overline{DB} = 1 : 4$ 이므로
 $\overline{DE} : \overline{BE} = \overline{DG} : \overline{BC} = 1 : 5$
 $\overline{BC} = 5$
 $\overline{BD} : \overline{BE} = 4 : 5$ ㉠
 두 삼각형 EDG와 EBC의 닮음비가 1:5이므로
 넓이의 비는 $1^2 : 5^2 = 1 : 25$ 이고
 $\triangle EBC = 25 \times \triangle EDG$
 ㉠에서
 $\triangle BCD = \frac{4}{5} \times \triangle EBC = \frac{4}{5} \times (25 \times \triangle EDG) = 20 \times \triangle EDG$
 두 삼각형 AFD, ABC에서 $\overline{FD} \parallel \overline{BC}$ 이므로
 두 삼각형 AFD, ABC는 서로 닮은 도형이다.
 $\overline{FD} : \overline{BC} = 2 : 5$ 이므로
 $\overline{AD} : \overline{AC} = 2 : 5$
 $\overline{DC} : \overline{AC} = 3 : 5$ ㉡
 두 삼각형 AFD와 ABC의 닮음비가 2:5이므로
 넓이의 비는 $2^2 : 5^2 = 4 : 25$ 이고

