

제 4 교시

사회탐구 영역 (정치와법)

성명 수험 번호 2 제 [] 선택

1. 정치를 바라보는 갑, 을의 관점에 대한 설명으로 옳은 것은?

정부가 일회용품 사용을 줄이기 위한 정책을 결정하는 것처럼 정치권력을 획득하고 유지·행사하는 과정과 관련된 국가 고유의 활동만을 정치라고 볼 수 있어.

아니야. 가족회의에서 일회용품 사용을 줄이기 위한 방안을 결정하는 것도 정치라고 볼 수 있어. 정치는 모든 사회 집단에서 갈등을 조정하고 해결해 나가는 활동이기 때문이야.



- ① 갑의 관점은 국가 형성 이전에 나타난 정치 현상을 설명하기에 용이하다.
- ② 을의 관점은 다른 사회 집단의 활동과 구별되는 국가 활동의 특수성을 강조한다.
- ③ 갑의 관점은 을의 관점에 비해 정치 과정에 참여하는 주체가 다양하다고 본다.
- ④ 을의 관점은 갑의 관점에 비해 복잡하고 다원화된 현대 사회의 정치 현상을 설명하기에 적합하다.
- ⑤ 갑, 을의 관점 모두 시민 단체 내의 의사 결정 과정을 정치라고 본다.

2. 우리나라 헌법의 기본 원리 A에 대한 설명으로 가장 적절한 것은?

제1, 2차 세계 대전에 대한 반성으로 각국은 국제 사회의 공존과 번영을 위한 방안을 헌법에 규정하였다. 독일은 침략적 전쟁의 부인을, 스페인과 네덜란드는 국제 분쟁의 평화적 해결을 헌법에 규정하였다. 우리나라도 국제법의 존중, 상호주의 원칙에 따른 외국인의 지위 보장 등을 규정하여 A를 구현하고자 하였다.

- ① 국가가 국제 질서를 존중하고 평화를 추구하여야 한다는 원리이다.
- ② 국가의 의사를 결정할 수 있는 최고 권력인 주권이 국민에게 있다는 원리이다.
- ③ 국가가 국민의 자율적인 문화 활동을 보장하고 문화를 보호·지원해야 한다는 원리이다.
- ④ 국가가 국민의 인간다운 생활을 보장하기 위하여 적극적인 역할을 해야 한다는 원리이다.
- ⑤ 국가는 개인의 자유를 중시하며 국민의 동의와 지지를 바탕으로 국가 권력을 행사해야 한다는 원리이다.

3. 갑국, 을국의 정부 형태에 대한 설명으로 옳은 것은? (단, 갑국, 을국의 정부 형태는 각각 전형적인 대통령제와 의원 내각제 중 하나임.) [3점]

- 갑국에서는 의회가 국민이 직접 선출한 행정부 수반에 대해 탄핵 소추안을 의결하였다.
- 을국에서는 행정부 수반이 의회 해산권을 행사하여 총선거를 통해 의회가 다시 구성되었다.

- ① 갑국의 정부 형태는 권력 융합에 충실한 정부 형태이다.
- ② 을국의 정부 형태는 행정부 수반의 임기가 엄격히 보장된다.
- ③ 갑국과 달리 을국의 정부 형태에서 의회 의원은 각료를 겸직할 수 있다.
- ④ 을국과 달리 갑국의 정부 형태에서 의회는 내각 불신임권을 가진다.
- ⑤ 갑국, 을국의 정부 형태 모두 행정부가 의회에 대해 정치적 책임을 진다.

4. 밑줄 친 ㉠, ㉡이 공통적으로 해당되는 기본권의 유형에 대한 설명으로 옳은 것은?

- 갑은 출근 시 ○○역 사거리의 교통 혼잡으로 인해 지각을 자주 하였다. 이에 갑은 △△ 지방 자치 단체에 ○○역 사거리의 회전 교차로 설치를 요청하는 ㉠ 청원서를 제출하였다.
- 을은 폭행 혐의로 구속 상태에서 수사를 받았으나 목격자의 진술이 잘못된 것으로 확인되어 무죄 취지의 불기소 처분을 받았다. 이에 을은 국가를 상대로 자신을 구금한 것에 대한 ㉡ 보상을 청구하였다.

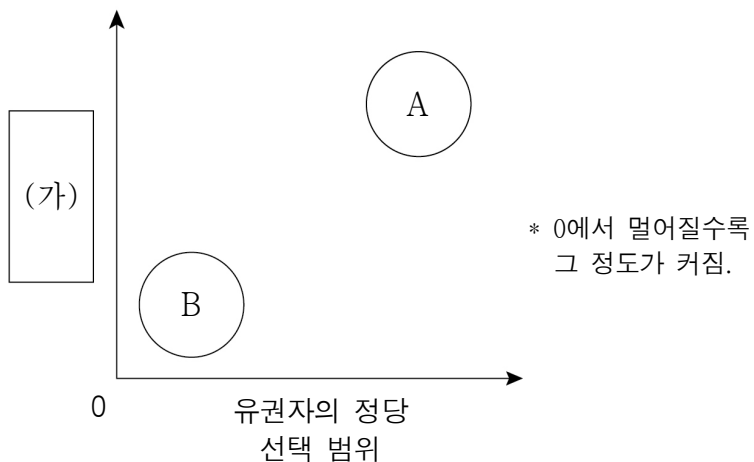
- ① 합리적 이유 없이 차별을 받지 않을 권리이다.
- ② 실질적 평등의 실현을 위해 등장한 현대적 권리이다.
- ③ 국가 권력에 의한 침해 배제를 소극적 권리이다.
- ④ 국가의 정치적 의사 결정에 참여할 수 있는 능동적 권리이다.
- ⑤ 다른 기본권이 침해되었을 때 이를 구제하기 위한 수단적 권리이다.

5. 우리나라 헌법 기관 A~C에 대한 설명으로 옳은 것은? [3점]

A의 장(長)은 헌법에 따라 B에게 갑을 대법관 후보자로 임명 제청하였다. C는 갑의 대법관 임명 동의안 심사를 위한 인사청문회를 개최하고 갑의 대법관 임명 동의안을 의결하였다. 이후 B는 갑을 대법관으로 임명하였다.

- ① A는 위헌 정당 해산 심판권을 가진다.
- ② B는 긴급 재정·경제 처분 및 명령권을 가진다.
- ③ C는 국가의 세입·세출의 결산을 검사한다.
- ④ A는 B의 조약 체결·비준에 대한 동의권을 가진다.
- ⑤ B와 달리 C는 헌법 개정안을 발의할 수 있다.

6. 그림은 정당 제도의 유형 A, B의 일반적 특징을 비교한 것이다. 이에 대한 설명으로 옳은 것은? (단, A, B는 각각 양당제와 다당제 중 하나임.)



- ① A는 B에 비해 강력한 정책 추진에 유리하다.
- ② A는 B에 비해 정책 실패에 대한 책임 소재가 분명하다.
- ③ B는 A에 비해 정당 간 대립 시 중재가 어렵다.
- ④ B는 A에 비해 군소 정당의 난립 가능성이 높다.
- ⑤ (가)에는 '다수당의 횡포가 나타날 가능성'이 들어갈 수 있다.

7. 다음 자료에 대한 분석으로 옳은 것은? [3점]

의사 갑은 환자의 실밥 부위 상태를 직접 확인하지 않고 간호 조무사에게 실밥 제거를 맡겨 의료법 위반 혐의로 기소되었다. ○○ 지방 법원 단독 판사로부터 벌금형을 선고받은 갑은 ㉠ 2심에서도 원심 형이 유지되었다. 이에 갑은 ㉡ 대법원에 소를 제기하였으나 기각되었다.

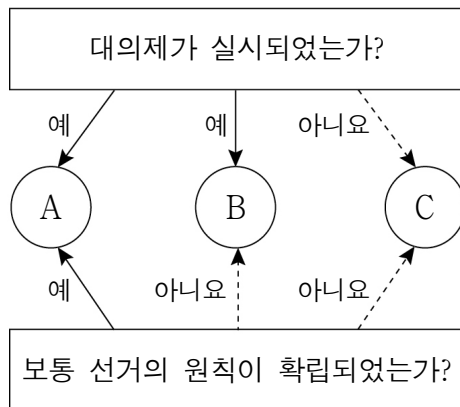
- ① 갑은 민사 재판의 당사자이다.
- ② ㉠은 고등 법원이 담당하였다.
- ③ 갑은 ㉠의 판결에 불복하였다.
- ④ ㉡은 갑의 항고 사건을 담당하였다.
- ⑤ 갑은 원칙적으로 ㉡의 판결에 대해 상소할 수 있다.

8. A, B에 해당하는 권한으로 옳은 것은? [3점]

우리나라 헌법은 권력 분립의 원리에 따라 국가 기관 간 상호 견제 수단을 규정하고 있다. 예를 들어 입법부가 행정부를 견제하는 수단으로 A를, 사법부가 행정부를 견제하는 수단으로 B를 들 수 있다. 이러한 상호 견제 수단은 국가 기관의 위헌·위법한 권력 행사를 방지함으로써 국민의 자유와 권리 보장에 기여할 수 있다.

- | | |
|----------------|--------------|
| <u>A</u> | <u>B</u> |
| ① 사면권 | 탄핵 심판권 |
| ② 탄핵 심판권 | 국무총리 임명 동의권 |
| ③ 국정 감사권 | 사면권 |
| ④ 국무총리 임명 동의권 | 명령·규칙·처분 심사권 |
| ⑤ 명령·규칙·처분 심사권 | 국정 감사권 |

9. A~C에 대한 설명으로 옳은 것은? (단, A~C는 각각 고대 아테네 민주 정치, 근대 민주 정치, 현대 민주 정치 중 하나임.)

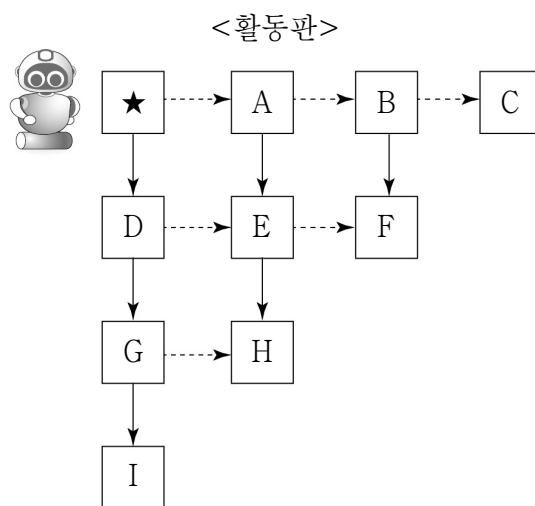


- ① A에서는 추천, 운번제를 통해 공직자를 선출하였다.
- ② B에서는 모든 사회 구성원의 정치 참여가 보장되었다.
- ③ C에서는 천부 인권 사상을 바탕으로 통치가 이루어졌다.
- ④ B와 달리 A는 국민 주권의 원리에 기반한다.
- ⑤ C와 달리 B는 입헌주의 원리를 통한 민주 정치를 지향한다.

10. 다음 자료의 활동 규칙을 따를 때, 로봇의 이동 경로로 옳은 것은? [3점]

[활동 규칙]
 ○ 표의 순서에 따라 우리나라 선거 제도에 대한 각 설명의 진위를 판단한다.
 ○ 해당 설명이 옳으면 실선 화살표(→)를 따라 한 칸을 이동하고, 옳지 않으면 점선 화살표(---→)를 따라 한 칸을 이동한다. 단, <활동판>에서 로봇의 처음 위치는 ★이다.

순서	우리나라 선거 제도에 대한 설명
1	대통령 선거는 4년마다 실시된다.
2	비례 대표 국회 의원 선거는 정당 명부식 비례 대표제를 채택하고 있다.
3	기초 의회 지역구 의원 선거는 중·대선거구제가 적용된다.



- ① A→B→C
- ② A→E→F
- ③ A→E→H
- ④ D→E→H
- ⑤ D→G→I

11. 밑줄 친 ㉠의 실시로 인한 기대 효과로 옳지 않은 것은?

우리나라는 지방 자치 단체의 예산 편성 등 예산 과정에 주민이 참여할 수 있는 절차를 마련하여 운영하는 ㉠ 주민 참여 예산 제도를 실시하고 있다. 이를 통해 주민들은 실시 희망 사업을 제안하거나, 제안된 사업의 우선순위 결정에 의견을 제시하는 등 예산 편성 과정에 직접 참여할 수 있다.

- ① 대의제의 한계가 보완될 것이다.
- ② 주민의 자치 의식이 신장될 것이다.
- ③ 정책 결정의 정당성이 확보될 것이다.
- ④ 예산 편성 과정의 신속성이 확보될 것이다.
- ⑤ 지방 재정 운영의 투명성이 제고될 것이다.

12. 표는 질문에 따라 법치주의의 유형 A, B를 구분한 것이다. 이에 대한 설명으로 옳은 것은? [3점]

구분	A	B
법률이 절차적 합법성뿐만 아니라 실질적 정당성도 갖추어야 함을 강조하는가?	예	아니요
(가)	아니요	예
(나)	예	예

- ① A는 독재를 정당화하는 근거로 악용될 우려가 있다.
- ② B는 통치자를 제외한 모든 사람이 법에 구속되어야 한다고 본다.
- ③ B와 달리 A는 국가 권력의 자의적인 행사를 경계한다.
- ④ (가)에는 '위헌 법률 심사제의 필요성을 강조하는가?'가 들어갈 수 있다.
- ⑤ (나)에는 '국민의 기본권을 제한할 때 법적 근거를 강조하는가?'가 들어갈 수 있다.

13. 밑줄 친 ㉠~㉣에 대한 설명으로 옳은 것은? [3점]

㉠○○도 고독사 예방 및 사회적 고립 가구 지원 조례 제1조(목적) 이 ㉡조례는 「고독사 예방 및 관리에 관한 법률」에 따라 소외·단절된 가구의 사회적 고립 및 고독사 예방을 위하여 필요한 사항을 규정함으로써 도민 삶의 질 향상을 목적으로 한다.

...(중략)...

제8조(협력체계 구축) ㉢도지사는 고독사 예방 및 사회적 고립 가구 지원에 관한 사업을 체계적으로 추진하기 위하여 ㉣시·군, 관련 기관 및 단체 등과 유기적인 협력체계를 구축하여야 한다.

- ① ㉠은 기초 자치 단체, ㉣은 광역 자치 단체이다.
- ② ㉠ 의회는 지방 자치 단체를 대표하고 지방 행정 사무를 총괄한다.
- ③ ㉠의 주민에게는 ㉡의 개정 및 폐지 청구권이 인정되지 않는다.
- ④ ㉢은 ㉠ 의회가 편성한 예산을 심의하고 확정하는 권한을 가진다.
- ⑤ ㉣은 ㉡의 범위에서 ㉠의 사무에 관한 규칙을 제정할 수 있다.

14. (가)에 들어갈 수 있는 옳은 내용만을 <보기>에서 있는 대로 고른 것은?

교사: 우리나라의 정부 형태에 대해 말해 볼까요?
 갑: 우리나라는 기본적으로 대통령제를 채택하고 있습니다.
 을: 하지만 (가) 는 것을 통해 의원 내각제 요소도 가지고 있다는 것을 알 수 있습니다.
 교사: 두 학생 모두 옳게 대답했네요.

— <보 기> —

ㄱ. 국무총리 제도를 두고 있다
 ㄴ. 행정부는 법률안을 제출할 수 있다
 ㄷ. 국회는 국무 위원의 해임을 건의할 수 있다
 ㄹ. 행정부 수반이 국가 원수의 지위를 동시에 가진다

- ① ㄱ, ㄴ ② ㄱ, ㄹ ③ ㄷ, ㄹ
- ④ ㄱ, ㄴ, ㄷ ⑤ ㄴ, ㄷ, ㄹ

15. 다음 사례에 대한 분석으로 옳은 것은? [3점]

갑은 안경사가 아닌 자의 안경업소 개설을 금지하고 이를 어길 시 처벌하도록 규정한 △△법을 위반하였다는 이유로 기소되어 유죄 판결을 받아 항소하였다. 갑은 항소심 계속 중 해당 법률 조항들이 직업의 자유를 침해한다며 ○○ 법원에 위헌 법률 심판 제청 신청을 하였고, ○○ 법원은 헌법 재판소에 위헌 법률 심판을 제청하였다. 이에 헌법 재판소는 해당 법률 조항들이 과잉 금지의 원칙에 위반되지 않는다고 결정하였다.

- ① 갑이 침해당했다고 주장하는 기본권은 적극적 성격의 권리이다.
- ② ○○ 법원은 해당 법률 조항들이 헌법에 위반된다고 판단하였다.
- ③ 헌법 재판소는 해당 법률 조항들에 대해 위헌 심사형 헌법 소원 심판을 하였다.
- ④ 헌법 재판소는 해당 법률 조항들이 목적의 정당성을 충족하지 못한다고 판단하였다.
- ⑤ 헌법 재판소의 결정으로 인해 안경사가 아닌 자의 안경업소 개설이 가능해졌다.

16. 밑줄 친 ㉠~㉣에 대한 옳은 설명만을 <보기>에서 고른 것은? [3점]



찬반 여론이 팽팽했던 ㉠〇〇법 개정안이 국회 소관 ㉡상임 위원회의 심사를 거쳐 오늘 ㉢본회의를 통과하였습니다. 이에 ㉣대통령의 법률안 거부권 행사 여부에 대한 국민들의 관심이 높아지고 있습니다.

<보 기>

- ㉠. ㉡은 국회의 효율적인 의사 진행을 위해 운영된다.
- ㉡. ㉢에서 ㉠이 통과되기 위해서는 국회 재적 의원 과반수의 출석과 출석 의원 과반수의 찬성이 필요하다.
- ㉢. ㉢에서 ㉠이 통과된 후 국민 투표를 거쳐야 법률로 확정된다.
- ㉣. ㉣로 인해 ㉠은 즉시 폐기된다.

- ① ㉠, ㉡ ② ㉠, ㉢ ③ ㉡, ㉢ ④ ㉡, ㉣ ⑤ ㉢, ㉣

17. 밑줄 친 ㉠~㉣에 대한 설명으로 옳은 것은?

갑국에서는 출산율이 역대 최저를 기록했다는 ㉠언론의 보도가 나간 후, 저출산 극복을 위한 ㉡시민 단체의 캠페인과 함께 ㉢저출산 관련 정책 수립을 촉구하는 대규모 집회가 열리는 등 저출산 대책에 대한 국민들의 요구가 커졌다. 이에 정부는 국민들이 ㉣온라인 소통 플랫폼을 통해 제안한 다양한 의견을 반영하여 ㉤저출산 대책을 수립하였다.

- ① ㉠은 정책 결정 기구에 해당한다.
- ② ㉡은 정치 과정에서 산출에 해당한다.
- ③ ㉠과 달리 ㉡은 여론을 형성하는 기능을 한다.
- ④ ㉢과 달리 ㉣은 정치 참여 주체의 정치적 효능감 향상에 기여할 수 있다.
- ⑤ ㉤과 달리 ㉣은 정치 참여의 시·공간적 제약을 완화할 수 있는 방법이다.

18. 정치 참여 집단 A~C의 일반적 특징에 대한 설명으로 옳은 것은? (단, A~C는 각각 정당, 이익 집단, 시민 단체 중 하나임.)

- '특수 이익보다 공익의 실현을 중시하는가?'라는 질문으로 A와 B를 구분할 수 없다.
- '공직 선거에 후보자를 공천하는가?'라는 질문으로 A와 C를 구분할 수 있다.

- ① A는 정부와 의회를 매개하는 역할을 한다.
- ② B는 자신들의 활동에 대해 정치적 책임을 진다.
- ③ A와 달리 B는 정치 사회화 기능을 수행한다.
- ④ B와 달리 C는 정권 획득을 목적으로 한다.
- ⑤ C와 달리 A는 정부 정책에 대한 감시와 비판의 기능을 수행한다.

19. A, B에 해당하는 민주 선거의 원칙으로 옳은 것은?

- 갑국은 의회 의원 선거에서 원주민 유권자에게는 2표를, 이주민 유권자에게는 1표를 부여하였다. 이는 유권자에게 표를 달리 부여하여 유권자의 투표 가치에 차이가 발생한 것이므로 A에 어긋난다.
- 을국은 의회 의원 선거에서 일정 금액 이상의 세금을 납부한 국민에게만 선거권을 부여하였다. 이는 일정 금액 이상의 세금을 납부할 능력이 없는 국민의 선거권을 제한한 것이므로 B에 어긋난다.

- | | | | | | |
|---|-------|-------|---|-------|-------|
| | A | B | | A | B |
| ① | 보통 선거 | 평등 선거 | ② | 보통 선거 | 직접 선거 |
| ③ | 평등 선거 | 보통 선거 | ④ | 평등 선거 | 직접 선거 |
| ⑤ | 직접 선거 | 보통 선거 | | | |

20. 다음 자료에 대한 분석으로 옳은 것은? [3점]

갑국 의회는 지역구 의원 10명, 비례 대표 의원 10명으로 구성된다. 유권자는 지역구 의원 선출을 위해 후보자에 1표, 비례 대표 의원 선출을 위해 정당에 1표를 행사한다. 지역구 의원 선거에서는 각 선거구에서 득표순으로 2명이 선출되며, 각 정당은 선거구별로 1명의 후보자만 공천한다. 비례 대표 의원 선거에서는 전국을 하나의 선거구로 하여 정당 투표를 실시하고 각 정당이 얻은 득표율에 비례하여 각 정당의 의석을 배분한다. 표는 최근 갑국 의회 의원 선거 결과를 나타낸다. 단, 정당은 A~D당만 존재하고 무소속 후보자는 없으며, 투표율은 100%이고 무효표는 없다.

< 지역구 의원 선거 결과 >

(단위: 표)

구분	A당	B당	C당	D당
선거구 1	50	35	10	5
선거구 2	35	40	10	15
선거구 3	30	35	15	20
선거구 4	30	15	50	5
선거구 5	55	25	15	5

< 비례 대표 의원 선거 결과 >

(단위: %)

구분	A당	B당	C당	D당
정당별 득표율	40	30	10	20

- ① 지역구 의원 선거구 제도는 소선거구제이다.
- ② 지역구 의원 선거에서 사표가 가장 많이 발생한 정당은 A당이다.
- ③ B당은 지역구 의석률이 비례 대표 의석률에 비해 낮다.
- ④ C당은 지역구 득표율이 지역구 의석률에 비해 높다.
- ⑤ D당은 C당에 비해 총의석률이 높다.

* 확인 사항

- 답안지의 해당란에 필요한 내용을 정확히 기입(표기)했는지 확인하십시오.