

제 4 교시

사회탐구 영역(세계사)

성명 수험번호 2 제 () 선택

1. (가) 문명에 대한 설명으로 옳은 것은?



왼쪽은 티그리스강과 유프라테스강 유역에서 형성된 (가) 문명의 주역인 아카드인의 유물로서, 점토판에 굴려 찍어 사용하는 원통형 인장이다. 오른쪽은 이 인장을 찍은 모습으로 쉐기 문자와 물소 등이 나타나 있다. 인더스강 유역에 서식했던 물소의 등장은 (가) 문명과 인도 문명 사이의 교류를 보여 준다.

- ① 지구라트를 세웠다.
- ② 왕을 파라오라 불렀다.
- ③ 올림피아 제전을 개최하였다.
- ④ 하라파에 계획도시를 건설하였다.
- ⑤ 갑골에 점을 친 내용을 기록하였다.

2. (가) 국가에 대한 설명으로 옳은 것은? [3점]

옛 시로 읽는 세계사

황제의 어가가 남도(南渡)한 지 오십 년인데
중원은 오랑캐들로 가득하네.
...(중략)...

적을 멸망시킬 기약이 없으니 눈물은 가슴 위로 흐르네.
황제가 돌아가 앵두를 종묘에 바쳤다는 말을 듣지 못하고
(궁전 앞에 있던) 청동 낙타는 지금껏 가시밭에 버려져 있네.

작품 해설

이것은 남송의 육유가 쓴 시의 일부이다. 수도 카이펑을 비롯한 화북 지역을 (가)에 빼앗기고 남하하여 임안(항저우)에 도읍한 지 50년이 되도록 되찾지 못하고 있는 현실에 대한 비통함이 잘 표현되어 있다.




- ① 거란(요)을 멸망시켰다.
- ② 메이지 유신을 단행하였다.
- ③ 마라톤 전투에서 승리하였다.
- ④ 칭기즈 칸에 의해 건국되었다.
- ⑤ 네르친스크 조약을 체결하였다.

3. (가) 인물에 대한 설명으로 옳은 것은?

역사 웹툰 🔍 제목/작가 검색

인물별 시대별 전쟁별 기타

「만화로 보는 진(秦)의 역사」 등장인물

	(가) 6국을 정복하여 분열된 중국을 최초로 통일. 흉노를 축출하고 만리장성을 축조.
	이사 승상의 지위에 올라 (가)에게 문자의 통일, 유가의 탄압 등을 건의.
	이세황제 아버지 (가)이가 병사한 뒤 즉위. 진승·오광의 난 이후 전국적인 반란 상황에서 사망.

- ① 군현제를 시행하였다.
- ② 타지마할을 조성하였다.
- ③ 산치 대탑을 건립하였다.
- ④ 장건을 서역으로 파견하였다.
- ⑤ 통제거 등 대운하를 건설하였다.

4. 다음 상황이 나타난 왕조에서 있었던 사실로 옳은 것은?

황제가 친히 안녹산이 일으킨 반란을 정벌하겠다는 칙서를 내렸다. 삭방·하서·농우에 있는 병사만 남아서 성과 보루를 지키도록 하고, 그 밖에는 모두 행영(行營)*에 모이게 하였으며 절도사들로 하여금 스스로 병사를 거느리도록 하였다.

* 행영(行營): 출정하는 군대가 모이는 군영

- ① 성리학이 발달하였다.
- ② 당삼채가 유행하였다.
- ③ 제자백가가 등장하였다.
- ④ 산킨코타이제가 실시되었다.
- ⑤ 태평천국 운동이 전개되었다.

5. 밑줄 친 ‘황제’에 대한 설명으로 옳은 것은? [3점]

몽골의 가한 본야시리가 중원에서 온 사신을 죽였다. 이를 응징하고자 황제가 보낸 군대는 오히려 전멸당하였다. 이에 분노한 황제는 친히 대군을 거느리고 출정하여 본야시리의 군대를 대파하였다. 이후에도 몽골의 위협은 계속되었다. 황제는 자금성을 건설하고 베이징으로 천도한 뒤 다시 군대를 이끌고 여러 차례 원정에 나서 몽골의 새로운 가한 아노태를 쫓아내었다.

- ① 발해를 멸망시켰다.
- ② 탄지마트를 단행하였다.
- ③ 정화의 함대를 파견하였다.
- ④ 페르세폴리스를 건설하였다.
- ⑤ 세포이의 항쟁을 진압하였다.

세계사

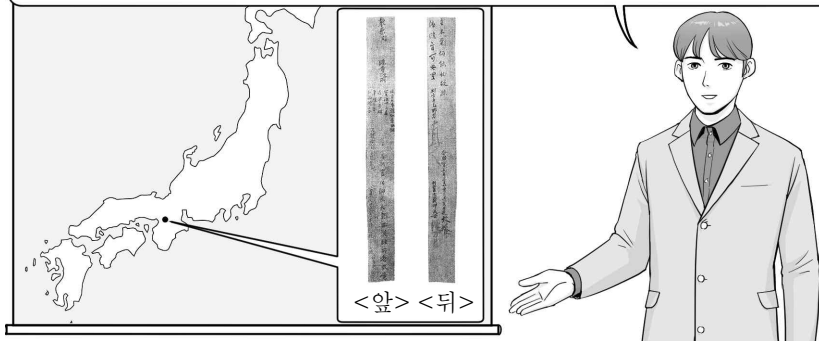
6. 자료를 활용한 탐구 주제로 가장 적절한 것은?

나는 카이사르를 찢러 죽인 자들을 추방하였다. ...(중략)... 안토니우스 세력을 물리치고 바다를 평화롭게 하자 이탈리아 전역이 자발적으로 나에게 충성을 서약하였다. ...(중략)... 내전이 끝난 후 나는 전권을 국가에 반납하겠다고 밝혔다. 이에 원로원은 오히려 아우구스투스라는 칭호를 나에게 수여하였다.

- ① 건당사 파견의 목적
- ② 베르사유 체제의 특징
- ③ 로마 제정의 성립 과정
- ④ 신경제 정책[NEP]의 추진
- ⑤ 청년 튀르크당의 결성 배경

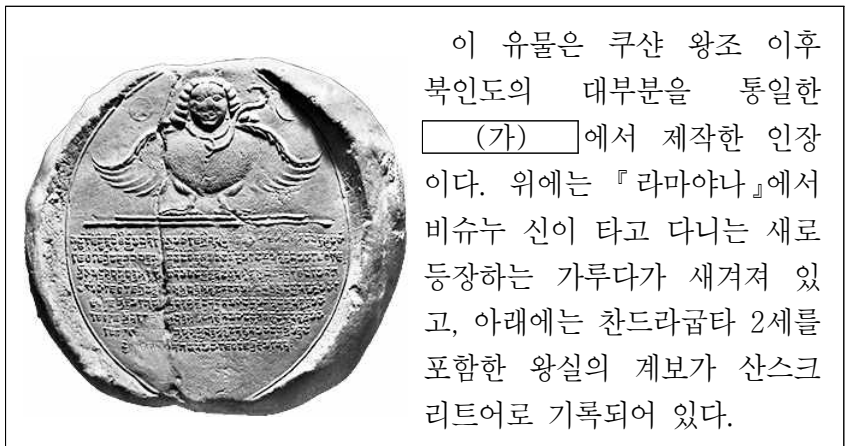
7. (가) 시대에 있었던 사실로 옳은 것은? [3점]

이것은 도다이샤 쇼소인에서 발견된 목간입니다. 목간의 앞, 뒤에는 도다이샤에서 열린 법회의 내용과 시기가 기록되어 있습니다. (가) 시대에는 도다이샤가 건립되고 성대한 법회가 열리는 등 불교가 융성하였습니다.



- ① 데지마가 건설되었다.
- ② 헤이조쿄가 수도로 변형하였다.
- ③ 비이슬람교도에 대한 지즈야가 폐지되었다.
- ④ 술탄의 친위 부대인 예니체리가 창설되었다.
- ⑤ 부청멸양을 내세운 의화단 운동이 전개되었다.

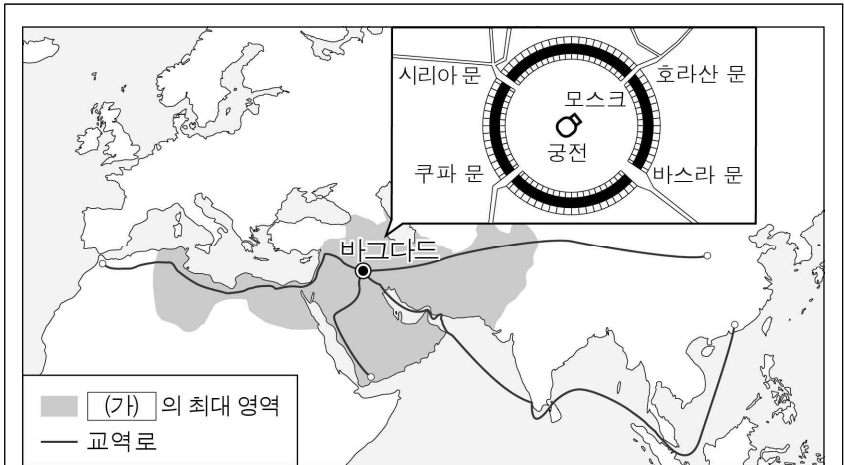
8. (가) 왕조에서 볼 수 있는 모습으로 가장 적절한 것은? [3점]



이 유물은 쿠샨 왕조 이후 북인도의 대부분을 통일한 (가)에서 제작한 인장이다. 위에는 『라마야나』에서 비슈누 신이 타고 다니는 새로 등장하는 가루다가 새겨져 있고, 아래에는 찬드라굽타 2세를 포함한 왕실의 계보가 산스크리트어로 기록되어 있다.

- ① 홍루몽을 읽는 서민
- ② 공행과 거래하는 서양 상인
- ③ 선교 활동을 펼치는 예수회 신부
- ④ 시바 신에게 예배드리는 힌두교도
- ⑤ 다이카 개신의 조칙을 발표하는 관리

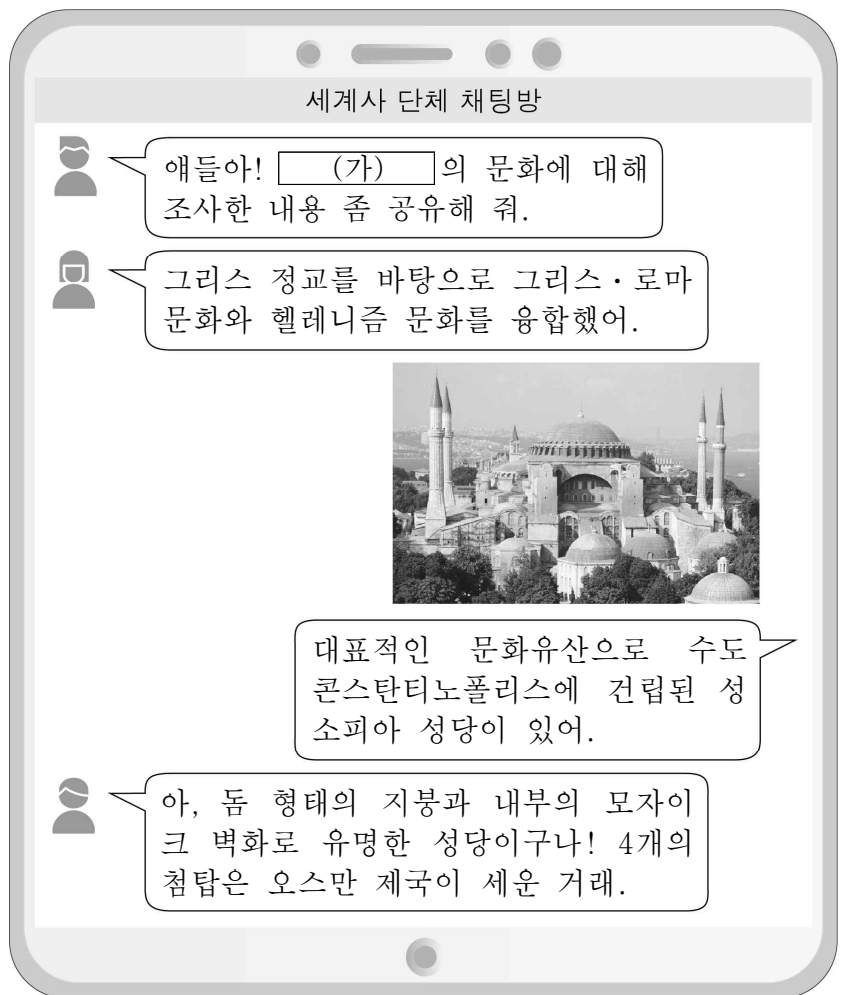
9. (가)에 들어갈 왕조로 옳은 것은? [3점]



(가)의 칼리프 만수르에 의해 원형으로 건설된 수도 바그다드는 4개의 문을 통해 동서 교역로와 연결되어 세계적인 경제의 중심지로 변형하였다. 호라산 문은 비단길과 연결되었고 바스라 문은 바닷길과 연결되었다. 그러나 (가)가 약해지자 바그다드는 셀주크 튀르크에 의해 점령되기도 하였다.

- ① 앙코르 왕조 ② 아바스 왕조 ③ 사파비 왕조
- ④ 마우리아 왕조 ⑤ 사산 왕조 페르시아

10. (가) 제국에서 있었던 사실로 옳은 것은?



애들아! (가)의 문화에 대해 조사한 내용 좀 공유해 줘.

그리스 정교를 바탕으로 그리스·로마 문화와 헬레니즘 문화를 융합했어.



대표적인 문화유산으로 수도 콘스탄티노폴리스에 건립된 성 소피아 성당이 있어.

아, 돔 형태의 지붕과 내부의 모자이크 벽화로 유명한 성당이구나! 4개의 첨탑은 오스만 제국이 세운 거래.

- ① 헤지라가 단행되었다.
- ② 권리 장전이 승인되었다.
- ③ 파쇼다 사건이 발생하였다.
- ④ 브나로드 운동이 전개되었다.
- ⑤ 유스티니아누스 법전이 편찬되었다.

11. 자료에 나타난 전쟁으로 옳은 것은?


영국 왕이여, 당신이 점령한 우리 나라의 도시들을 돌려주십시오. 만일 당신께서 이 요청에 응하지 않는다면 나 잔 다르크가 당신의 군대를 이 나라에서 몰아낼 것입니다. 그리고 신이 우리에게 주신 정당한 왕위 계승자 샤를 왕세자께서 대군을 이끌고 파리에 입성하시게 될 것입니다.

- ① 장미 전쟁 ② 아편 전쟁 ③ 백년 전쟁
- ④ 30년 전쟁 ⑤ 포에니 전쟁

12. (가) 인물의 활동으로 옳은 것은? [3점]

그림으로 보는 종교 개혁

독일 스위스 영국



이 그림은 아우구스티누스 수도회 소속이었던 (가) 이/가 교황 레오 10세의 면벌부 판매를 비판하다가 파문된 후 숨어지내는 동안 변화된 모습을 보여 주고 있다. 그동안 그는 성서를 독일어로 번역하면서 신앙의 근거는 오직 성서라고 강조하였다. 이러한 그의 신념에 따르는 새 교파는 마침내 아우크스부르크 회의에서 공인되었다.

- ① 우신예찬을 저술하였다.
- ② 아비뇽에 교황청을 두었다.
- ③ 카노사의 굴욕을 당하였다.
- ④ 95개조 반박문을 발표하였다.
- ⑤ 성상 숭배 금지령을 반포하였다.

13. (가)에 들어갈 내용으로 가장 적절한 것은?

노래 속 세계사

군인들,
이교도의 땅으로 전진하라.
주머니에는 기도서,
손에는 총
그곳에서 무역이 진행될 수
있다는 영광스러운 소식을
얻으리라.
맥심 기관총을 가지고,
평화의 복음을 전파하라.

[해설] 세실 로즈의 부하들이 군사력을 앞세워 아프리카의 마터벨리족이 거주하는 지역을 장악한 사실을 소재로 한 이 노래는 19세기 후반 서구 열강의 (가) 정책을 잘 보여 준다. 서구 열강은 그리스도교의 전파와 문명화를 명분으로 자신들의 식민 지배를 정당화하였다.

- ① 삼민주의 ② 제국주의 ③ 문치주의
- ④ 공산주의 ⑤ 비동맹 중립주의

14. (가)에 들어갈 내용으로 가장 적절한 것은?

세계사 시민 강좌

보스톤 차 사건 250주년, 파리 조약 240주년을 기념하여 ○○ 혁명의 전개 과정과 의의를 재조명하는 시간을 갖고자 합니다. 많은 참여 바랍니다.

■ 발표 순서 ■

1. 영국의 중상주의 정책과 보스톤 차 사건
2. (가)
3. 요크타운 전투의 결과와 파리 조약
4. 연방 헌법의 제정과 워싱턴 대통령 선출
5. 프랑스 혁명에 미친 영향

○일시: 2023년 ○월 ○일 14시~18시
○장소: 시민 회관 대강당

- ① 비스마르크의 통일 정책
- ② 반동 회의와 제3 세계의 형성
- ③ 사회 계약설이 반영된 독립 선언문
- ④ 대서양 헌장에 드러난 전후 평화 수립 원칙
- ⑤ 독립 국가 연합[CIS]의 출범과 소련의 해체

15. (가) 국가의 통일 과정에서 있었던 사실로 옳은 것은? [3점]

사르데냐 왕국의 카보우르에게는 통일된 독립 국가로서 (가) 의 창건이라는 분명한 목적이 있었다. 이를 위해 그는 프랑스로부터 군사 원조를 받았고, 결국 오스트리아를 물리칠 수 있었다. 니스 할양과 교황령 공격도 그가 주도하여 이루어진 것이었다.

- ① 크롬웰이 집권하였다.
- ② 뉴딜 정책이 추진되었다.
- ③ 탈라스 전투가 벌어졌다.
- ④ 베를린 장벽이 붕괴되었다.
- ⑤ 가리발디가 의용군을 이끌었다.

16. 밑줄 친 '전쟁' 기간 중에 있었던 사실로 옳은 것은?

무솔리니 총리께

나는 귀하께 급속하게 벌어져 가는 양국의 간극에 대하여 말씀드립니다. ...(중략)... 독일의 폴란드 침공에 대해 우리 나라와 프랑스가 대독 선전포고를 하면서 전쟁이 시작되었습니다. 지금 이 전쟁이 유럽을 휩쓸고 있지만 우리는 나치에 맞서 끝까지 싸울 것입니다.

처칠 드림

- ① 러시아 혁명이 일어났다.
- ② 유럽 연합이 창설되었다.
- ③ 미일 화친 조약이 체결되었다.
- ④ 나폴레옹이 황제로 즉위하였다.
- ⑤ 노르망디 상륙 작전이 전개되었다.

17. 밑줄 친 '이 운동'에 대한 설명으로 옳은 것은? [3점]

조선 유학생 교육 계획

1. 목표: 조선 정부의 요청을 수용하여 서양식 화약, 탄약, 권총 등의 제조법을 전수함.
2. 인원: 38명
3. 장소: 텐진 기기국
4. 장소 선정 이유
텐진 기기국은 중체서용의 기치 아래 서양의 기술을 도입하려는 이 운동의 일환으로 설립됨. 이곳은 독일 크루프사의 기술을 받아들여 여러 무기를 생산하고 있음.

1880. 00. 00.
직예총독 겸 북양대신 이홍장

- ① 천조전무 제도를 발표하였다.
- ② 제1차 국공 합작을 위해 추진되었다.
- ③ 난징 조약이 체결되는 결과를 낳았다.
- ④ 청일 전쟁의 패배로 한계를 드러냈다.
- ⑤ 하급 무사를 중심으로 막부를 타도하고자 하였다.


18. (가) 단체에 대한 설명으로 옳은 것은? [3점]

인도 전문 여행사 ○○ 투어

홈 항공권 숙소 **도시 투어** 문의 사항

인도 > ▶ 뭄바이

○○○ 상점



인도 토산품을 주로 판매하는 이 상점은 1906년에 설립되었다. 처음에는 상점 이름에 '스왈테시'라는 단어를 넣었는데 그 이유는 당시에 (가)의 주도로 영국 상품의 불매와 인도 상품의 사용을 장려하는 운동이 진행되고 있었기 때문이었다. (가)의 틸라크도 이 상점의 임원으로 참여하였다.


- ① 백련교도가 주도하였다.
- ② 신해혁명을 촉발시켰다.
- ③ 벵골 분할령에 반발하였다.
- ④ 이와쿠라 사절단을 파견하였다.
- ⑤ 테니스코트의 서약을 발표하였다.

19. 다음 기사를 활용한 탐구 활동으로 가장 적절한 것은?

○○ 타임즈

19△△년 △△월 △△일 뉴욕

트루먼, 평화를 위해 유럽 지원 요청



어제 트루먼 대통령은 공산주의의 확산을 막기 위해, 170억 달러의 비용이 드는 유럽 경제 회복 프로그램을 승인해 줄 것을 의회에 요청하였다.

한편 이날 마셜 국무장관은 소련이 4개국 고위급 회담에서 이 프로그램에 반발했다고 언급하면서, 안정적인 경제 상황이 없다면 평화도 올 수 없다고 역설하였다.

▲ 회담에서 돌아온 마셜을 맞이하는 트루먼(좌)

- ① 신항로 개척의 결과를 조사한다.
- ② 스콜라 철학의 특징을 분석한다.
- ③ 빈 체제의 성립 배경을 탐구한다.
- ④ 사라예보 사건의 원인을 파악한다.
- ⑤ 냉전 체제의 형성 과정을 알아본다.

20. 밑줄 친 '민중 시위'가 발생한 시기를 연표에서 옳게 고른 것은? [3점]

소련의 미하일 고르바초프가 베이징을 방문했을 때 텐안먼 광장에서는 대규모 민중 시위가 전개되고 있었다. 서기장 취임 이후 페레스트로이카, 글라스노스트를 추진하고 있던 그의 방문은 민주주의에 대한 학생과 시민의 열망을 더욱 고조시켰다. 고르바초프가 본국으로 떠난 지 수일 후 중국 당국은 계엄령을 선포하였다. 이후 텐안먼 광장에 투입된 인민해방군이 민중을 향해 무차별 발포를 하였다.

	(가)	(나)	(다)	(라)	(마)
5·4 운동 시작	만주국 수립	중일 전쟁 발발	중화 인민 공화국 성립	닉슨의 중국 방문	영국, 중국에 홍콩 반환

- ① (가) ② (나) ③ (다) ④ (라) ⑤ (마)

*** 확인 사항**

- 답안지의 해당란에 필요한 내용을 정확히 기입(표기)했는지 확인하십시오.