

제 4 교시

사회탐구 영역 (세계지리)

성명 수험번호 3 제 () 선택

1. 다음 자료를 토대로 하나의 국가를 선택하여 한류 문화 상품점을 설립하고자 한다. 가장 적합한 국가를 지도의 A~E에서 고른 것은? (단, 합산 점수가 가장 높은 국가를 선택하며, 합산 점수가 같은 경우에는 현재 유럽 연합 회원국을 선택함.) [3점]

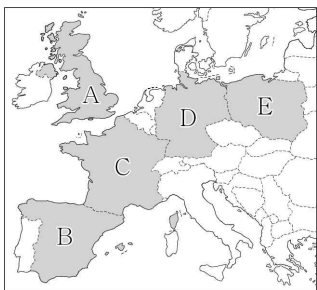
<평가 기준>

항목 점수	1인당 국내 총생산(천 달러)	한국 방문 관광객 (명)	오락·문화비 정부 지출액(천만 유로)
3점	40 이상	10,000 이상	3,000 이상
2점	20~40	5,000~10,000	1,000~3,000
1점	20 미만	5,000 미만	1,000 미만

<국가 정보>

항목 국가	1인당 국내 총생산(천 달러)	한국 방문 관광객 (명)	오락·문화비 정부 지출액(천만 유로)
독일	46	9,205	3,833
에스파냐	27	2,051	1,407
영국	41	13,368	1,612
폴란드	16	1,758	640
프랑스	39	8,183	3,362

(2020년)




- ① A
- ② B
- ③ C
- ④ D
- ⑤ E

2. (가)~(다) 종교에 대한 설명으로 옳은 것은? (단, (가)~(다)는 각각 불교, 이슬람교, 힌두교 중 하나임.)

인도네시아는 [가] 신자 수가 세계에서 가장 많은 국가이지만, 자바 문명이 꽃피웠던 족자카르타에는 세계 문화유산에 등재된 서로 다른 종교의 두 사원이 있다.



보로부두르 사원은 미얀마의 바간, 캄보디아의 앙코르와트와 함께 [나]의 세계적인 유적지로 손꼽힌다. 사원 곳곳에 수백 개의 부처상이 있다.



프람바난 사원에는 [다]의 3대 신을 모신 신전이 있다. 그 앞에 각 신들이 타고 다닌 황소, 백조, 독수리 형상의 신상을 모신 건물도 있다.

- ① (가)는 소고기를 금기시한다.
- ② (나)는 서남아시아에서 기원하였다.
- ③ (다)의 대표적 경관은 돛형 지붕과 첨탑이 있는 모스크이다.
- ④ (나)는 (다)보다 세계 신자 수가 많다.
- ⑤ (가), (나)는 모두 보편 종교이다.

3. 다음 자료는 어느 국가의 지리 정보이다. ㉠~㉣에 대한 옳은 설명만을 <보기>에서 고른 것은? [3점]



<수도에 설치된 조형물>

- 면적: 41,543 km²
- ㉠ 인구: 약 1,753만 명
- ㉡ 수도의 위치: 52°22'N, 4°53'E
- 자연환경: 국토의 약 25%가 해수면보다 낮음.

○ ㉢ 지역화 전략

- 도시 브랜드 ㉣ 'I amsterdam' 개발
- 퀴켄호프 꽃 박람회 등 지역 축제 개최
- 고다 홀란드(Gouda Holland) 치즈 등 ㉣ 지리적 표시제 등록

< 보기 >

- ㄱ. ㉠은 속성 정보, ㉡은 공간 정보에 해당한다.
- ㄴ. ㉢으로 인하여 세계 문화의 획일화 현상이 확대된다.
- ㄷ. ㉣과 유사한 사례로 아이러브뉴욕(I♥NY), 비베를린(Be Berlin) 등이 있다.
- ㄹ. ㉢은 자국 내에서만 법적 보호를 받을 수 있다.

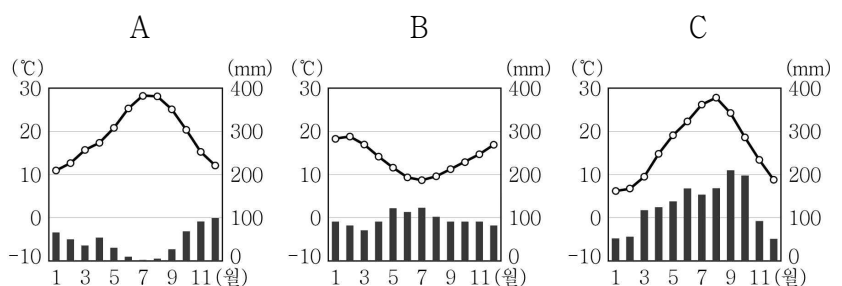
- ① ㄱ, ㄴ ② ㄱ, ㄷ ③ ㄴ, ㄷ ④ ㄴ, ㄹ ⑤ ㄷ, ㄹ

4. 다음 자료는 여행기의 일부이다. (가), (나) 지역의 기후 그래프를 A~C에서 고른 것은?

(가) 오렌지 나무 가로수길과 도시 중심부에 오래된 성당이 있는 남부 유럽의 아름다운 도시입니다. 여름에 건조해서 햇볕이 따갑지만, 그늘에 앉아 휴식을 즐기기에 좋습니다.



(나) 오세아니아의 대표적인 농업 박람회인 필데이즈(Fieldays)가 매년 개최되는 지역입니다. 편서풍의 영향을 받아 형성된 넓은 목초지에서 소와 양을 일 년 내내 방목합니다.



- (가) (나) (가) (나)
- ① A B ② A C
 - ③ B A ④ B C
 - ⑤ C B

세계지리

5. 다음 자료는 지리 학습지의 일부이다. 정답 스티커를 답안에 순서대로 옮겨 붙인 것은? [3점]

※ 설명을 읽고 아래의 스티커를 떼어 답안에 붙이세요.

설명	답안
A는 1월보다 7월에 적도 수렴대의 영향을 많이 받는다.	
B는 기온의 연교차가 기온의 일교차보다 크다.	
C는 1월보다 7월에 강수량이 많다.	

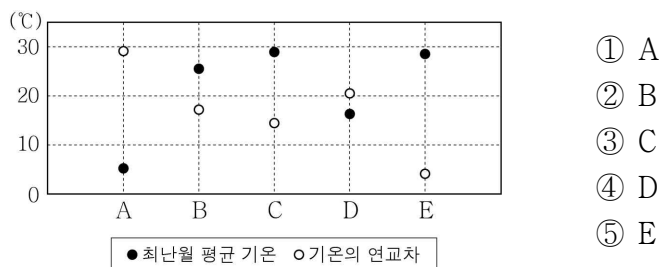
<정답 스티커>

설명이 옳을 때 (😊😊😊) 설명이 옳지 않을 때 (😞😞😞)

① (😊😊😊) (😞😞😞) (😞😞😞) ② (😊😊😊) (😊😊😊) (😞😞😞) ③ (😊😊😊) (😊😊😊) (😊😊😊) ④ (😊😊😊) (😞😞😞) (😊😊😊) ⑤ (😊😊😊) (😊😊😊) (😊😊😊)

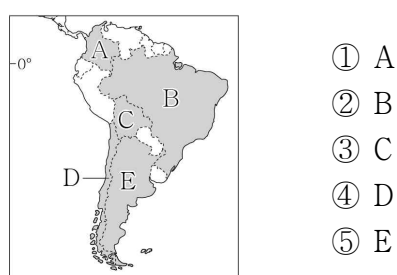
6. (가) 도시의 기후 특성을 그래프의 A~E에서 고른 것은?

몽크는 (가) 을/를 대표하는 화가이다. 그의 작품 「태양」은 U자곡 너머 푸른 바다의 수평선에서 뿜어져 나오는 강렬한 햇빛을 인상적으로 표현했으며, 이는 긴 겨울을 보내는 주민들에게 희망의 기운을 전한다. 12월 말 이 도시의 낮 길이는 6시간 정도에 불과하며, 가장 추운 달의 평균 기온은 약 -4℃이다.



7. (가) 국가를 지도의 A~E에서 고른 것은?

(가) 의 삼바는 아프리카 출신 노예들이 전통 타악기를 연주하며 춤추던 것에서 유래하였고, 20세기에 들어와 춤곡의 형식으로 자리를 잡았다. 여기에 포르투갈 출신 유럽계 이민자들이 전파한 크리스티교의 사순절 문화와 융합되어 카니발이라는 독특한 축제로 발전하였다. 매년 2월 말에 열리는 리우 카니발은 세계에서 모여든 사람들로 넘쳐난다.



[8~9] 다음 자료를 보고 물음에 답하시오.

동남 및 남부 아시아의 큰 하천은 대부분 히말라야산맥이나 티베트 고원에서 발원한다. 메콩강과 갠지스강 하구에는 넓은 ㉠ 삼각주가 발달하였는데, 최근 기후 변화에 따른 ㉡ 해수면 상승으로 피해가 늘고 있다.

한편 과거 유럽의 식민지 통치는 오늘날에도 이 지역에 영향을 미치고 있다. 예를 들어 ㉢ 카슈미르 지역의 분쟁이나, 최근 중앙 정부와의 갈등으로 거주 지역에서 쫓겨난 ㉣ 로힝야족 난민도 이와 관련 있다. 또한 ㉤ 동남 및 남부 아시아 지역의 농업에도 큰 영향을 주었다.

8. ㉠~㉣에 대한 옳은 설명만을 <보기>에서 고른 것은? [3점]

< 보 기 >

㉠. ㉠에서는 대부분 밭 농사가 이루어진다.
 ㉡. ㉡은 바닷물에 의한 농경지 침수가 대표적이다.
 ㉢. ㉢에서는 이슬람교와 힌두교 간의 갈등이 지속되고 있다.
 ㉣. ㉣은 대부분 B에서 이주해 온 불교 신자이다.

- ① ㉠, ㉡ ② ㉠, ㉢ ③ ㉡, ㉢ ④ ㉡, ㉣ ⑤ ㉢, ㉣

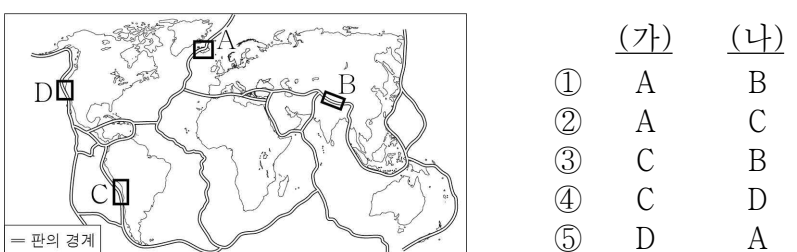
9. ㉤의 사례로서 다음 자료에서 설명하는 국가를 지도의 A~E에서 고른 것은?

19세기 영국인에 의해 대규모의 상업용 차(茶) 농장이 조성되었으며, 현재도 차 플랜테이션은 국가의 주요 산업이다. 당시 지명인 실론은 이 국가에서 생산된 차의 브랜드명으로 사용되고 있다. 차 플랜테이션 노동자로 이주해 온 힌두교 신자들과 원주민인 불교 신자 사이에 갈등이 나타나고 있다.


- ① A ② B ③ C ④ D ⑤ E

10. (가), (나) 지역을 지도의 A~D에서 고른 것은? [3점]

(가) 물과 수증기를 분출하는 간헐천과 밤하늘을 수놓는 오로라를 관찰할 수 있는 지역으로, 싱벨리어 국립공원에 가면 두 판이 양옆으로 갈라지는 광경을 볼 수 있다.
 (나) 에베레스트산을 포함한 8,000m급 봉우리 14개가 늘어서 있다. 두 대륙판이 충돌하여 만들어진 이 지역에서는 지진이 자주 발생하나 화산 활동은 활발하지 않다.



11. ㉠~㉤에 대한 설명으로 옳은 것은? [3점]



나일강, ㉠콩고강, 잠베지강은 중부 아프리카의 고지대에서 시작된다. 영국 여왕의 이름을 딴 ㉡빅토리아호는 나일강의 발원지이다. 우간다는 이 호수에서 물고기를 양식하여 수출하고 있다. 잠베지강 중류의 ㉢빅토리아 폭포는 계절에 따른 유량 차이가 큰데, 여름에 방문해야 웅장한 모습을 볼 수 있다.

콩고 민주 공화국과 우간다의 국경 지대에 위치한 비룽가 국립공원은 ㉣화산 활동이 활발한 지역으로, 비룽가는 현지어로 '화산'을 의미한다. 이곳에는 전자 기기의 핵심 재료인 콜탄 광물이 많아 반군들이 무기 구입 대금으로 사용하고 있다. ㉤콩고 민주 공화국 남부와 잠비아를 지나는 코퍼 벨트에도 지하자원이 많으며, 고기 습곡 산지가 있는 ㉥남아프리카 공화국은 제조업이 발달하였다.

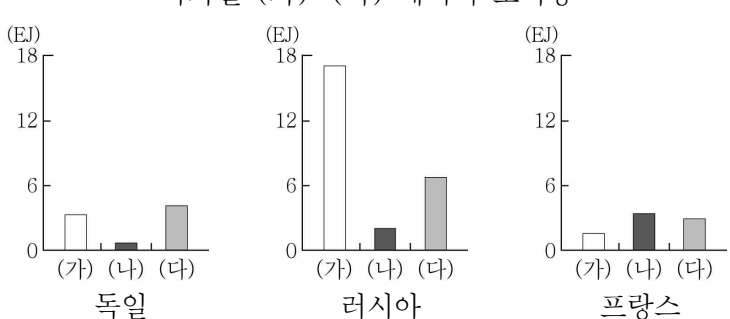
- ① ㉠은 인도양으로 흘러 들어간다.
- ② ㉡의 물은 염도가 높아 농업용수로 부적합하다.
- ③ ㉢은 1월보다 7월에 유량이 많다.
- ④ ㉣은 동아프리카 지구대에 위치하기 때문이다.
- ⑤ ㉤은 ㉥보다 석탄 수출량이 많다.

12. (가)~(다) 에너지에 대한 설명으로 옳은 것은? (단, (가)~(다)는 각각 석유, 원자력, 천연가스 중 하나임.) [3점]

World News 2022년 〇〇월 〇〇일

유럽 연합(EU)은 기후 변화에 대응하기 위해 '그린 택소노미(Green Taxonomy)'를 발표하였다. 그린 택소노미란 지속 가능한 녹색 경제 활동의 범위에 대한 분류 체계이다. 논의 과정에서 (가)와/과 (나)을/를 친환경 에너지로 분류할 것인가에 대한 회원국 간 견해차가 컸으나 결국 유럽 연합은 엄격한 기준을 전제로 두 에너지를 그린 택소노미에 포함시켰다. 이는 아직 석탄과 (다)을/를 대체할 수 있는 에너지가 충분히 확보되지 않았음을 보여주는 것이기도 하다.

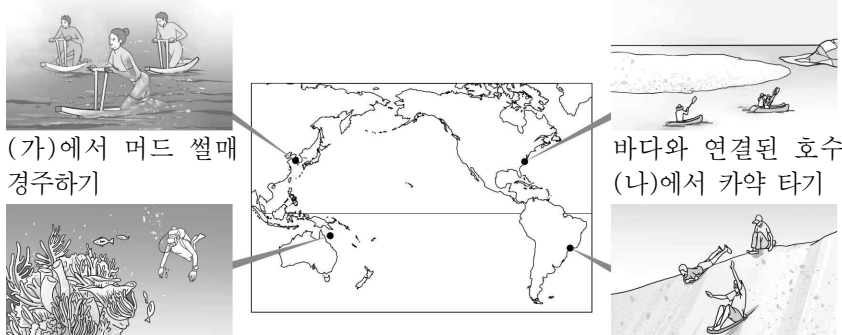
<국가별 (가)~(다) 에너지 소비량>



(2021년)

- ① (가)의 세계 최대 수출국은 중국이다.
- ② (나)는 방사성 폐기물 처리 비용이 많이 든다.
- ③ (다)는 산업 혁명 초기에 주요 에너지로 사용되었다.
- ④ (가)는 (다)보다 연소 시 대기 오염 물질의 배출량이 많다.
- ⑤ (나)는 (다)보다 세계 1차 에너지 소비량에서 차지하는 비율이 높다.

13. 그림은 해안 지형을 활용한 관광 상품을 소개한 것이다. (가)~(라)에 대한 설명으로 옳은 것은? (단, (가)~(라)는 각각 갯벌, 산호초 해안, 석호, 해안 사구 중 하나임.)



(가)에서 머드 썰매 경주하기


(나)에서 카약 타기

(다)에서 열대어와 산호 감상하기

(라)에서 샌드 보드 타기

- ① (가)는 만보다 곳에서 잘 형성된다.
- ② (나)의 면적은 시간이 지날수록 점차 확대된다.
- ③ (다)는 석회질의 산호충 유해가 퇴적되어 형성된 것이다.
- ④ (라)는 빙하의 퇴적 작용으로 형성된다.
- ⑤ (가)는 (라)보다 지형 변화에 바람이 미치는 영향이 크다.

14. 다음 자료는 인터넷 방송의 일부이다. ㉠, ㉡에 대한 설명으로 옳은 것은? (단, ㉠, ㉡은 각각 쌀, 옥수수 중 하나임.) [3점]




㉠로 만든 토르티야를 이용해 멕시코 전통 요리인 타코를 함께 만들어 보았습니다. 다음 시간에는 베트남 전통 요리인 피에 도전하겠습니다.

다음 시간 준비물은 ㉡로 만든 국수입니다.

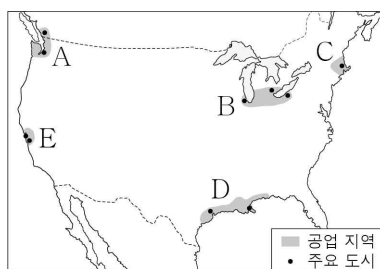
다음 주에 만나요!

- ① ㉠은 주로 논에서 재배된다.
- ② ㉡의 기원지는 아메리카이다.
- ③ ㉠은 ㉡보다 국제 이동량이 많다.
- ④ ㉡은 ㉠보다 가축의 사료로 이용되는 비율이 높다.
- ⑤ ㉠, ㉡은 모두 세계 최대 생산국이 아시아에 위치한다.

15. (가) 도시가 속한 공업 지역을 지도의 A~E에서 고른 것은?



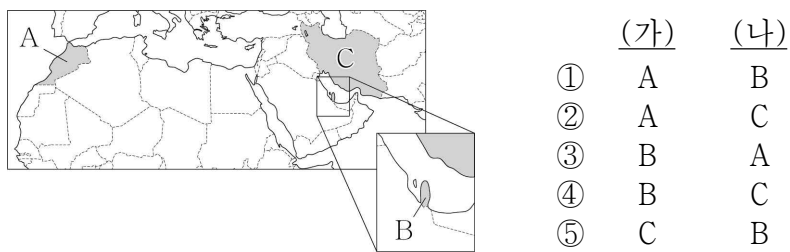
영화 「8마일」은 '모터 시티'라 불리며 자동차 산업 중심 도시로 호황을 누렸던 (가)이 제조업의 쇠퇴로 인해 쇠락한 당시 분위기를 배경으로 한다. 러스트 벨트의 대표적인 도시였지만 현재는 기존 산업과 연관된 신산업을 육성하면서 새로운 도약을 꿈꾸고 있다.



- ① A
- ② B
- ③ C
- ④ D
- ⑤ E

16. (가), (나) 국가를 지도의 A~C에서 고른 것은?

<2022 ○○ 월드컵, 화제의 국가들>
 (가) '아틀라스의 사자'라 불리는 대표 팀 선수 중 절반 이상이 지중해 너머 유럽에서 활약하는 귀화 선수로 구성되어 있다. 아랍어 및 이슬람교 문화를 공유하는 이들은 높은 단합력으로 4강 진출의 신화를 달성하였다.
 (나) 사상 최초로 겨울철인 11~12월에 월드컵을 개최하였다. 한반도 면적의 약 1/20 크기인 국토 대부분이 바다에 접해 있어 습도가 높고 겨울철에도 한낮에는 최고 기온이 39℃까지 오르기 때문에 많은 경기들이 폭염을 피해 늦은 저녁에 열렸다.

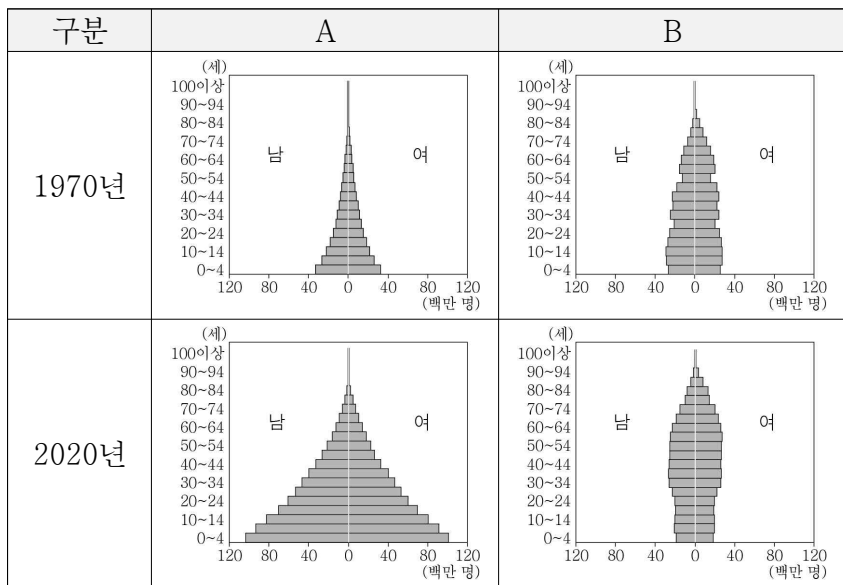


17. (가)에 들어갈 용어로 가장 적절한 것은?

맨해튼은 뉴욕시의 중심 업무 지구이자 세계 금융의 중심지이다. 맨해튼 내 할렘 지역은 이민 노동자들과 가난한 학생 및 예술가들이 거주하는 곳이었다. (가)가 진행되면서 주거 환경이 개선되었으나 임대료가 급격히 상승하면서 이들은 이곳에서 밀려나게 되었다.

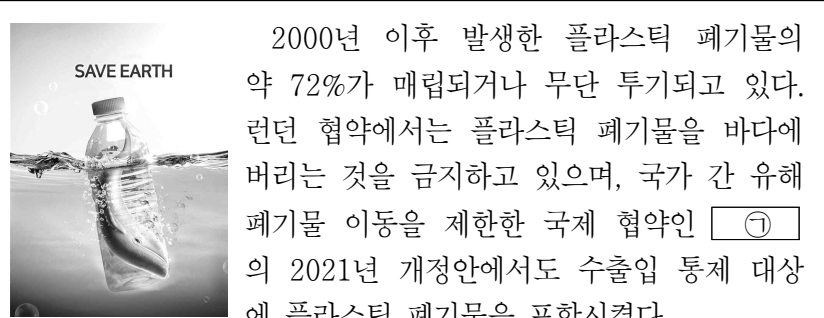
- ① 과도시화 ② 교외화 ③ 도심 재활성화
- ④ 슬럼화 ⑤ 인구 공동화

18. 그래프는 두 지역(대륙)의 인구 구조 변화를 나타낸 것이다. A, B에 대한 설명으로 옳은 것은? (단, A, B는 각각 아프리카, 유럽 중 하나임.) [3점]



- ① A에는 최상위 세계 도시가 있다.
- ② B는 2020년 노년층에서 남성이 여성보다 많다.
- ③ A는 B보다 1970년 총인구가 많다.
- ④ A는 B보다 1970~2020년 인구 증가율이 높다.
- ⑤ A는 유럽, B는 아프리카이다.

19. ㉠~㉣에 대한 옳은 설명만을 <보기>에서 있는 대로 고른 것은?

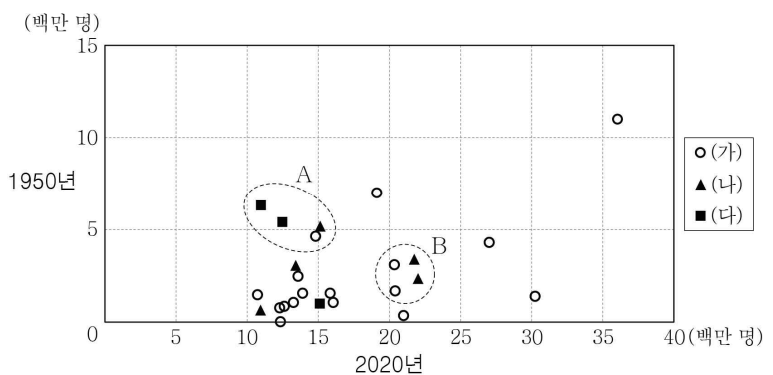


2000년 이후 발생한 플라스틱 폐기물의 약 72%가 매립되거나 무단 투기되고 있다. 런던 협약에서는 플라스틱 폐기물을 바다에 버리는 것을 금지하고 있으며, 국가 간 유해 폐기물 이동을 제한한 국제 협약인 ㉠의 2021년 개정안에서도 수출입 통제 대상에 플라스틱 폐기물을 포함시켰다.
 플라스틱 폐기물은 쉽게 분해되지 않고 미세 플라스틱의 형태로 먹이 사슬을 따라 축적되면서 생태계를 어지럽히고 있다. 최근 국제 연합에서 '㉡ 플라스틱 오염을 끝내기 위한 법적 구속력 있는 국제 협약' 결의안이 통과되면서 2024년까지 플라스틱 생산부터 ㉢ 바다를 떠다니는 플라스틱 수거 및 재활용까지 전 과정을 규제하는 법안이 마련될 예정이다.

< 보기 >
 ㄱ. ㉠은 파리 협정이다.
 ㄴ. ㉡으로 인해 생물 종 다양성이 감소할 것이다.
 ㄷ. ㉢은 해류의 흐름이 약한 곳에 집적된다.

- ① ㄱ ② ㄴ ③ ㄷ ④ ㄱ, ㄴ ⑤ ㄴ, ㄷ

20. 그래프는 (가)~(다) 지역(대륙)의 도시 인구 변화를 나타낸 것이다. 이에 대한 옳은 설명만을 <보기>에서 고른 것은? (단, (가)~(다)는 각각 라틴 아메리카, 아시아, 유럽 중 하나임.) [3점]



* 2020년 기준으로 세계에서 도시 인구 순위 30위 내 도시 중 (가)~(다) 지역(대륙)에 위치한 25개 도시만 나타냄.

< 보기 >
 ㄱ. (가)는 (다)보다 2020년 도시화율이 높다.
 ㄴ. (가)는 아시아, (나)는 유럽, (다)는 라틴 아메리카이다.
 ㄷ. A 도시군은 B 도시군보다 1950~2020년 도시 인구 증가율이 낮다.
 ㄹ. 아시아는 라틴 아메리카보다 인구 상위 30위 내 도시가 많다.

- ① ㄱ, ㄴ ② ㄱ, ㄷ ③ ㄴ, ㄷ ④ ㄴ, ㄹ ⑤ ㄷ, ㄹ

* 확인 사항
 ○ 답안지의 해당란에 필요한 내용을 정확히 기입(표기)했는지 확인하십시오.