

제 4 교시

사회탐구 영역 (세계지리)


성명 수험 번호 - 제 [] 선택

1. 다음 자료의 (가), (나)에 들어갈 내용으로 가장 적절한 것은?

<세계화 시대의 지역화 전략>

○ (가)의 사례
포르투갈 도시 포르투(Porto)를 상징하는 독특한 파란색은 이 지역의 유명한 도자기 타일인 '아줄레주'의 색에서 착안한 것이다. 이 색을 활용한 'Porto.'를 도안하여 도시를 상징하는 대표적인 디자인으로 사용하고 있다.

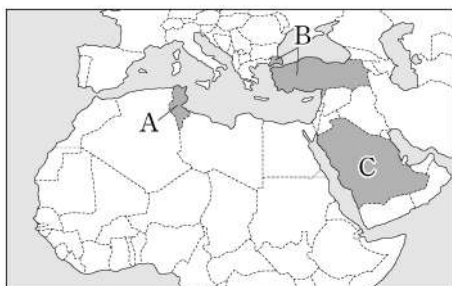
○ (나)의 사례
유럽 연합(EU)은 특정 마을, 도시 또는 지역 내에서 생산·제조·가공된 농수산물 및 식품임을 표시하여 보호하는 제도를 시행하고 있다. 세계적으로 유명한 이탈리아 캄파냐 지방의 '모차렐라 디 부팔라 캄파냐 (Mozzarella di Bufala Campana)' 치즈는 이 제도의 적용을 받고 있다.



- | | |
|---------------|-------------|
| (가) | (나) |
| ① 다국적 기업의 현지화 | 지리적 표시제 |
| ② 다국적 기업의 현지화 | 지역 브랜드화 |
| ③ 지리적 표시제 | 다국적 기업의 현지화 |
| ④ 지역 브랜드화 | 다국적 기업의 현지화 |
| ⑤ 지역 브랜드화 | 지리적 표시제 |

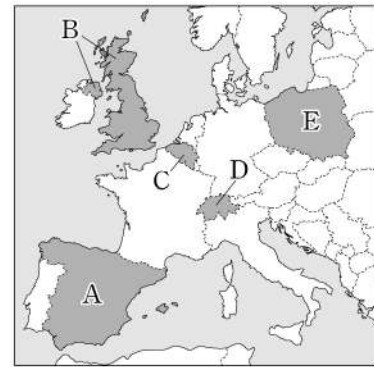
2. 다음 자료는 세 국가의 주화에 대한 설명이다. (가)~(다)에 해당하는 국가를 지도의 A~C에서 고른 것은? [3점]

(가)	(나)	(다)
		
주화에 유럽과 아시아를 연결하는 다리가 새겨져 있다. 주화 속 다리는 이 국가의 이스탄불 보스포루스 해협에 건설되었다.	주화에 신성한 두 모스크의 수호자라는 뜻의 문구가 새겨져 있다. 문구 속 두 모스크는 이 국가의 메카와 메디나에 하나씩 있다.	주화에 코르크참나무가 새겨져 있다. 이 나무는 수목 농업의 대표적인 경엽수로 지중해에 접한 이 국가의 북부 지역에서 볼 수 있다.



- | | | | |
|---|-----|-----|-----|
| | (가) | (나) | (다) |
| ① | A | C | B |
| ② | B | A | C |
| ③ | B | C | A |
| ④ | C | A | B |
| ⑤ | C | B | A |

3. 지도의 A~E 국가에 대한 설명으로 옳은 것만을 <보기>에서 고른 것은?

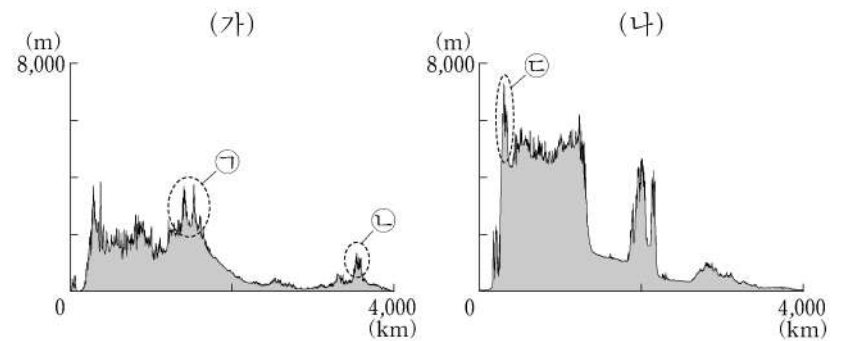


<보 기>

ㄱ. A의 카탈루냐 지역은 고유한 언어와 문화를 가지고 있다.
 ㄴ. B의 파다니아 지역에서는 분리 독립 움직임이 있다.
 ㄷ. C는 복수의 공용어를 사용하는 국가이다.
 ㄹ. D와 E는 유럽 연합(EU) 가입국이다.

- ① ㄱ, ㄴ ② ㄱ, ㄷ ③ ㄴ, ㄷ ④ ㄴ, ㄹ ⑤ ㄷ, ㄹ

4. 그림은 지도에 표시된 A, B 두 구간의 지형 단면을 나타낸 것이다. 이에 대한 설명으로 옳은 것만을 <보기>에서 고른 것은? (단, (가), (나)는 각각 A, B 중 하나이며, ㉠~㉣은 각각 로키산맥, 애플래치아산맥, 히말라야산맥의 일부 중 하나임.) [3점]



<보 기>

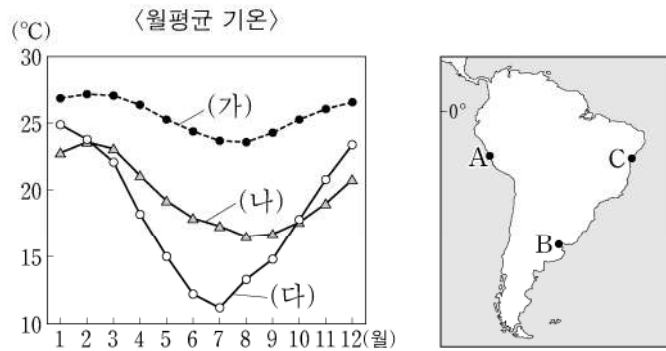
ㄱ. ㉠은 환태평양 조산대에 속한다.
 ㄴ. ㉡은 대륙판과 해양판이 수렴하여 형성되었다.
 ㄷ. ㉢은 ㉠보다 형성 시기가 이른다.
 ㄹ. (가)는 B의 단면을 나타낸 것이다.

- ① ㄱ, ㄴ ② ㄱ, ㄷ ③ ㄴ, ㄷ ④ ㄴ, ㄹ ⑤ ㄷ, ㄹ

2 (세계지리)

사회탐구 영역

5. 그래프의 (가)~(다)에 해당하는 지역을 지도의 A~C에서 고른 것은? [3점]



- | | | | | | | | |
|---|-----|-----|-----|---|-----|-----|-----|
| | (가) | (나) | (다) | | (가) | (나) | (다) |
| ① | A | B | C | ② | A | C | B |
| ③ | B | A | C | ④ | C | A | B |
| ⑤ | C | B | A | | | | |

6. 다음 글의 (가)~(다)에 대한 설명으로 옳은 것만을 <보기>에서 고른 것은? (단, (가)~(다)는 각각 돌리네, 석회동굴, 탑 카르스트 중 하나임.)

세계 유산인 할롱 베이는 베트남 북동쪽에 위치한 만이다. 이곳은 기반암이 용식을 받고 남은 봉우리인 (가)이 발달한 지역에 바닷물이 들어오면서 천여 개의 섬이 형성되어 장관을 이룬다. 일부 섬에서는 기반암이 지하수에 의해 용식되어 만들어진 구불구불한 형태의 내부 공간인 (나)이 바다와 연결되어 있어서, 관광객들이 보트를 타고 관람하는 색다른 경험을 할 수 있다. 또한, 몇몇 섬에서는 기반암의 용식으로 형성된 와지인 (다)을 볼 수 있다.

<보 기>

ㄱ. (가)~(다)는 건조한 기후 환경보다 습윤한 기후 환경에서 잘 발달한다.
 ㄴ. (가)의 기반암은 주로 석회암으로 이루어져 있다.
 ㄷ. (나)가 함몰된 지형을 칼데라라고 한다.
 ㄹ. (다)가 두 개 이상 연결되어 확장된 지형은 카렌이다.

- ① ㄱ, ㄴ ② ㄱ, ㄷ ③ ㄴ, ㄷ ④ ㄴ, ㄹ ⑤ ㄷ, ㄹ

7. 다음은 두 지리 교사가 답사 중에 나눈 영상 통화 내용의 일부이다. 밑줄 친 ㉠~㉣에 대한 설명으로 옳은 것만을 <보기>에서 고른 것은? [3점]



<보 기>

ㄱ. ㉠은 여러 개의 선상지가 연결되어 형성된다.
 ㄴ. ㉡은 주로 바람의 침식 작용에 의해 형성된다.
 ㄷ. ㉢ 주변에는 메사와 뷰트가 흔히 나타난다.
 ㄹ. ㉣은 후빙기 해수면 상승으로 형성되었다.

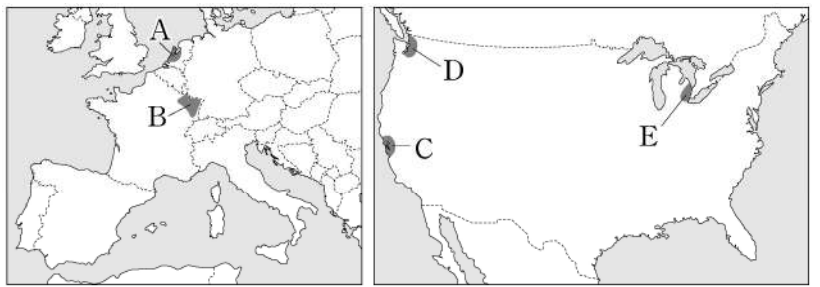
- ① ㄱ, ㄴ ② ㄱ, ㄷ ③ ㄴ, ㄷ ④ ㄴ, ㄹ ⑤ ㄷ, ㄹ

8. 다음은 환경 다큐멘터리 대본의 일부이다. (가), (나)에 해당하는 용어로 옳은 것은?

환경 문제는 전 지구 규모로 나타나고 있는데 그 대표적인 사례로는 지구 온난화가 있습니다. 국제 사회는 지구 온난화의 원인이 되는 온실 가스를 감축하기 위해 함께 노력하고 있습니다. 이 노력의 일환으로 1990년대에는 국제 연합(UN) 기후 변화 협약을 채택하였고, 온실가스 배출권 거래제를 도입한 (가)를 채택하였습니다. 또한, 선진국에 온실가스 감축 의무가 있었던 (가)와 달리, 2015년에 채택된 (나)은 선진국과 개발 도상국 모두 온실가스 감축 의무에 동참하도록 하고 있습니다.

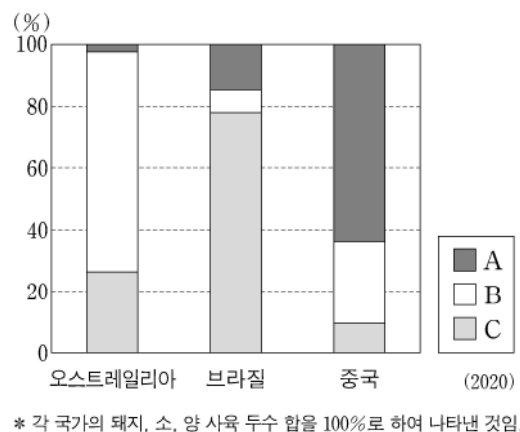
- | | | |
|---|----------|--------|
| | (가) | (나) |
| ① | 교토 의정서 | 제네바 협약 |
| ② | 교토 의정서 | 파리 협정 |
| ③ | 교토 의정서 | 람사르 협약 |
| ④ | 몬트리올 의정서 | 제네바 협약 |
| ⑤ | 몬트리올 의정서 | 파리 협정 |

9. 지도의 A~E 지역에 대한 설명으로 옳은 것은? [3점]



- ① A는 로렌을 중심으로 제철 산업이 발달하였다.
 ② B에는 첨단 산업 지구인 케임브리지 사이언스 파크가 있다.
 ③ C에는 실리콘 벨리를 중심으로 하는 첨단 산업 지역이 있다.
 ④ D는 디트로이트를 중심으로 자동차 산업이 발달하였다.
 ⑤ E는 휴스턴을 중심으로 석유 화학 산업이 발달하였다.

10. 그래프는 세 국가의 가축 사육 두수 비율을 나타낸 것이다. 이에 대한 설명으로 옳은 것만을 <보기>에서 고른 것은? (단, A~C는 각각 돼지, 소, 양 중 하나임.)



* 각 국가의 돼지, 소, 양 사육 두수 합을 100%로 하여 나타낸 것임.

<보 기>

ㄱ. 중국은 돼지 사육 두수가 소 사육 두수보다 많다.
 ㄴ. C는 소에 해당한다.
 ㄷ. A는 B보다 유목에 적합하다.
 ㄹ. A~C 중 전 세계 사육 두수는 B가 가장 많다.

- ① ㄱ, ㄴ ② ㄱ, ㄷ ③ ㄴ, ㄷ ④ ㄴ, ㄹ ⑤ ㄷ, ㄹ

11. 다음은 세계지리 온라인 수업 장면의 일부이다. 교사의 질문에 옳게 대답한 학생을 고른 것은?

교사: 지도의 A~E 지역에 대해 설명해 볼까요?

- 갑: A에서는 타이가라고 불리는 침엽수림대를 볼 수 있어요.
- 을: B에서는 최근에 빙하가 후퇴하면서 빙력도 평원이 넓게 나타났어요.
- 병: C에서는 여름철 우기에 물이 고여 플라야호가 형성돼요.
- 정: D에서는 주민들이 지표면으로부터 전달되는 습기와 열기를 차단하기 위해 주로 고상 가옥에 살아요.
- 무: E에서는 열대 몬순의 영향으로 주로 카카오, 고무나무 등의 플랜테이션을 하고 있어요.

- ① 갑 ② 을 ③ 병 ④ 정 ⑤ 무

12. 다음 자료의 (가) 국가에 대한 설명으로 옳은 것은? [3점]

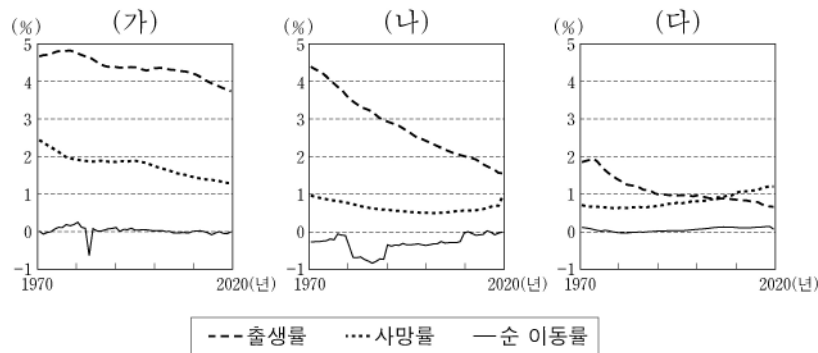
지역 탐방 x +

동남아시아의 화교 거주 지역을 가다!

화교는 다른 국가에 사는 (가) 계 주민으로 전 세계 여러 지역에 진출해 있다. 이들 중 상당수는 동남아시아에 거주하는데, 동남아시아 화교들은 광둥, 푸젠 지방 출신이 많다. 화교는 해외에서 주로 특정 지역에 모여 자국 문화를 유지하고 있는데, 동남아시아 곳곳에서도 이러한 모습을 볼 수 있다.

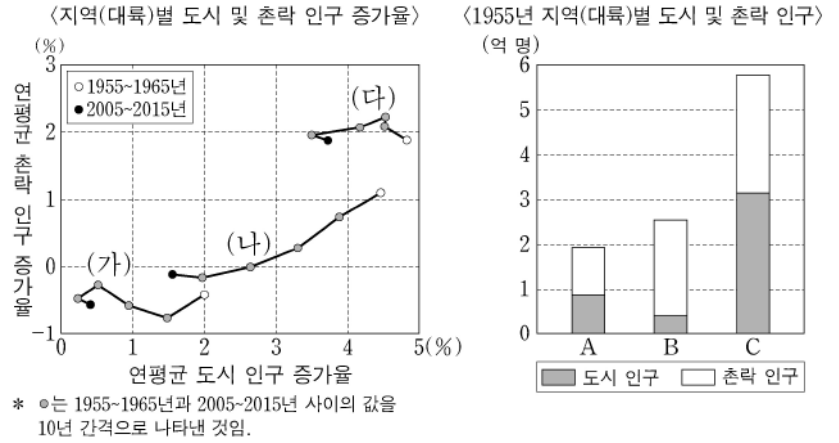
- ① 백호주의의 인종 차별적 정책이 폐지되었다.
 ② 북부 지역에는 원주민인 마오리족이 거주한다.
 ③ 대표적인 전통 요리로 쌀로 만든 나시고렝이 있다.
 ④ 한족을 비롯하여 여러 소수 민족으로 구성되어 있다.
 ⑤ 힌두교도인 타밀족과 불교도인 신탄리족 간의 갈등이 나타난다.

13. 그래프는 세 국가의 인구 특성을 나타낸 것이다. 이에 대한 설명으로 옳지 않은 것은? (단, (가)~(다)는 각각 나이지리아, 멕시코, 일본 중 하나임.) [3점]



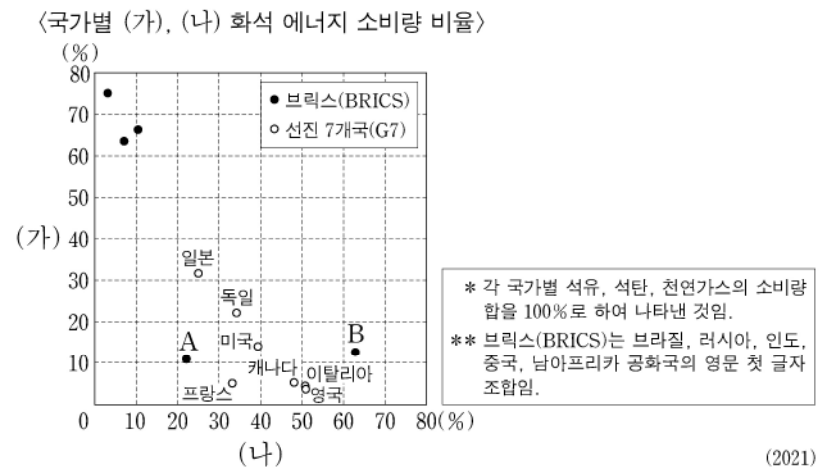
- ① 2020년 일본은 인구가 감소하였다.
 ② 1970년 인구의 자연 증가율은 나이지리아가 멕시코보다 높다.
 ③ (나)는 2020년 인구가 1970년 인구보다 많다.
 ④ (가)~(다) 중 2020년 인구가 가장 많은 국가는 (가)이다.
 ⑤ 2020년 중위 연령은 (다) > (나) > (가) 순으로 높다.

14. 다음 자료에 대한 설명으로 옳은 것은? (단, (가)~(다)와 A~C는 각각 라틴 아메리카, 아프리카, 유럽 중 하나임.)



- ① 2015년 도시화율이 가장 낮은 지역은 (가)이다.
 ② 1955년 도시 인구는 (다)가 (나)보다 많다.
 ③ 1955년 대비 2015년 C의 촌락 인구는 감소하였다.
 ④ 2015년 촌락 인구는 A가 B보다 많다.
 ⑤ 1955~2015년 인구 증가율은 C > A > B 순으로 높다.

15. 그래프에 대한 설명으로 옳은 것만을 <보기>에서 있는 대로 고른 것은? (단, (가), (나)는 각각 석유, 석탄, 천연가스 중 하나임.) [3점]



<보 기>

ㄱ. 프랑스는 석유 소비량이 천연가스 소비량보다 많다.
 ㄴ. (가)의 세계 최대 수출국은 브릭스(BRICS) 국가 중 하나이다.
 ㄷ. (나)는 (가)보다 세계 1차 에너지 소비량에서 차지하는 비율이 높다.
 ㄹ. A는 B보다 국가 내 1차 에너지 소비량에서 수력이 차지하는 비율이 높다.

- ① ㄱ, ㄷ ② ㄱ, ㄹ ③ ㄴ, ㄷ
 ④ ㄱ, ㄴ, ㄹ ⑤ ㄴ, ㄷ, ㄹ

4 (세계지리)

사회탐구 영역

16. 다음은 세계지리 수업 장면의 일부이다. 교사의 질문에 대한 학생의 대답으로 옳은 것은?

자료는 ○○○ 국제 축구 대회 조 편성 일부를 나타낸 것입니다. 이 국가들의 지리적 특징에 대해 발표해 볼까요?

C 조	D 조	E 조	F 조
아르헨티나	프랑스	에스파냐	벨기에
사우디아라비아	덴마크	독일	캐나다
멕시코	튀니지	일본	모로코
폴란드	오스트레일리아	코스타리카	크로아티아

- ① 갑: C 조의 국가는 모두 바다와 접하지 않은 내륙국이에요.
- ② 을: D 조의 국가는 모두 수도가 북반구에 위치하고 있어요.
- ③ 병: E 조에는 국제 연합(UN) 본부가 위치한 국가가 있어요.
- ④ 정: F 조에서 국토 면적이 가장 넓은 국가는 캐나다예요.
- ⑤ 무: C~F 조에는 조마다 아프리카에 위치한 국가가 있어요.

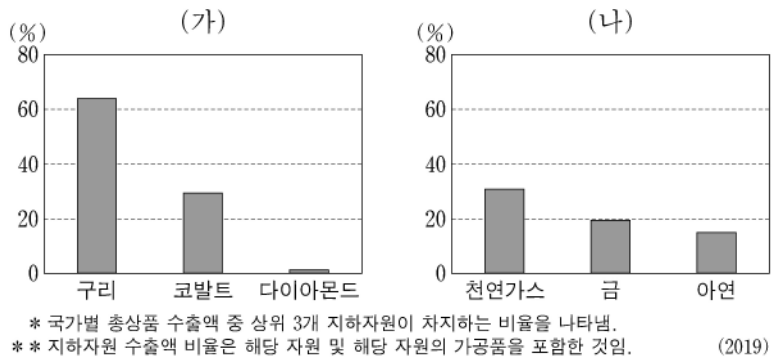
17. 다음 자료의 (가)~(라) 종교에 대한 설명으로 옳은 것은? (단, (가)~(라)는 각각 불교, 이슬람교, 크리스티교, 힌두교 중 하나임.)

<주한 인도 대사관의 ○○○○년 공식 휴무일 중 일부> <인도의 종교별 신자 수>

날짜	설명
▽월 ▽일	(가) 신도들이 구원자라고 믿는 이가 십자가에 못 박힌 고난을 기억하는 날이다. 이날의 이틀 뒤 일요일은 이 종교의 또 다른 기념일인 부활절이다.
□월 □일	(나) 금식 기간인 라마단이 끝나는 날이며, 신도들은 기도와 함께 서로 음식과 선물을 교환하며 큰 축제를 진행한다.
△월 △일	(다) 창시자의 출생을 기념하는 날이다. 이날을 맞이하여 신도들은 그의 출생, 깨달음, 열반을 기리는 축제를 개최한다.
◇월 ◇일	밤새도록 곳곳에 등불을 켜고, 여러 신들에게 기도하여 빛의 축제라고 불리는 날이다. 홀리, 두세라와 함께 (라)의 3대 축제로 손꼽힌다.

- ① (가)의 기원지는 인도이다.
- ② (나)의 대표적 종교 경관은 불상과 불탑이다.
- ③ (다)는 민족 종교이다.
- ④ 예루살렘에는 (가)와 (나)의 성지가 있다.
- ⑤ 전 세계 신자 수는 (라)가 (나)보다 많다.

18. 그래프는 두 국가의 주요 지하자원 수출액 비율을 나타낸 것이다. (가), (나)에 해당하는 국가를 지도의 A~C에서 고른 것은? [3점]

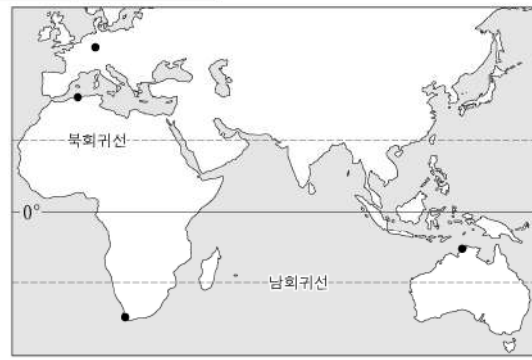


- | | | |
|---|-----|-----|
| | (가) | (나) |
| ① | A | B |
| ② | A | C |
| ③ | B | A |
| ④ | B | C |
| ⑤ | C | A |

19. 표는 지도에 표시된 네 지역의 기후 특성을 나타낸 것이다. A~D 지역에 대한 설명으로 옳은 것만을 <보기>에서 있는 대로 고른 것은? (단, (가), (나) 시기는 각각 1월, 7월 중 하나임.)

지역	(가) 시기 강수량 차이 (mm)	(나) 시기 평균 기온 차이 (°C)
A	29.1	-13.5
B	-37.5	12.6
C	-35.3	-5.0
D	43.7	5.9

* 강수량 차이 = 해당 지역 강수량 - 네 지역 강수량의 합 / 4
** 평균 기온 차이 = 해당 지역 평균 기온 - 네 지역 평균 기온의 합 / 4



<보 기>

ㄱ. B의 최한월 평균 기온은 18°C 이상이다.
 ㄴ. 기온의 연교차는 A가 B보다 크다.
 ㄷ. (가) 시기 낮 길이는 D가 A보다 길다.
 ㄹ. (나) 시기 강수량은 A~D 중 B가 가장 많다.

- ① ㄱ, ㄴ ② ㄴ, ㄷ ③ ㄷ, ㄹ
- ④ ㄱ, ㄴ, ㄹ ⑤ ㄱ, ㄷ, ㄹ

20. 다음 글은 동남아시아에 위치한 세 국가에 대한 설명이다. (가)~(다) 국가에 대한 설명으로 옳은 것만을 <보기>에서 있는 대로 고른 것은? [3점]

(가) 은/는 (나), (다) 등 여러 국가와 국경을 접하고 있는 동남아시아 국가이다. 이 국가의 대표적인 축제로는 송프란 축제가 있으며, 국민 대부분이 불교를 믿는다.
 (나) 은/는 중국, 인도 등 여러 국가와 국경을 접하고 있다. 국민 대부분이 불교를 믿으며, 이슬람교를 믿는 소수 민족과 갈등이 있다.
 (다) 은/는 좁은 해협을 사이로 마주하고 있는 섬나라와 다리로 연결되어 있어 자동차로 왕래가 가능하다. 이 국가는 다양한 종교를 가진 사람들이 공존하고 있고, 이 중 이슬람교를 믿는 사람이 가장 많다.

<보 기>

ㄱ. (가)의 대표적인 문화 유산으로 앙코르와트 사원이 있다.
 ㄴ. (다)는 인도네시아와 국경을 접하고 있다.
 ㄷ. 메콩강은 (나)와 (다)를 지난다.

- ① ㄴ ② ㄷ ③ ㄱ, ㄴ ④ ㄱ, ㄷ ⑤ ㄴ, ㄷ

* 확인 사항
 ○ 답안지의 해당란에 필요한 내용을 정확히 기입(표기)했는지 확인 하시오.