

제 4 교시

사회탐구 영역 (세계지리)

성명		수험번호				3			제 ( ) 선택
----	--	------	--	--	--	---	--	--	----------

1. 표는 (가), (나) 국가의 지리 정보를 나타낸 것이다. 이에 대한 설명으로 옳은 것은?

구분	(가)	(나)
국토의 모양과 ㉠ 수리적 위치		
수도	A	B
㉡ 인구(백만 명)	64.5	33.7
연관 검색어	루브르 박물관, 보르도 와인	마추픽추, 잉카의 후예


(2021)

- ① (가)는 (나)보다 국가 내 에스파냐어 사용자 비율이 높다.
- ② (나)는 (가)보다 인구 밀도가 높다.
- ③ A는 B보다 7월의 낮 길이가 길다.
- ④ ㉠은 속성 정보에 해당한다.
- ⑤ ㉡은 원격 탐사를 통해서 수집된 정보이다.


2. 다음 자료의 (가)~(다) 종교에 대한 설명으로 옳은 것은? (단, (가)~(다)는 각각 불교, 이슬람교, 힌두교 중 하나임.)

**<인도에서 만날 수 있는 종교 경관>**


- 타지마할은 무굴 제국의 황제가 왕비의 죽음을 추모하기 위해 세운 건축물이다. 돛형 지붕과 첨탑, 아라베스크 장식은 **(가)**의 문화적 특징이 반영된 건축 양식이다.
- 바라나시에 있는 갠지스강은 **(나)**의 대표적인 성지이다. 신자들은 이 강에서 목욕을 하며 기도 의식을 행하면서 죄를 씻을 수 있다고 믿는다.
- 부다가야에 있는 마하보디 사원은 **(다)**의 창시자가 깨달음을 얻은 장소이다. 윤회 사상을 중시하며 자비와 해탈을 강조하는 이 종교는 동남아시아 및 동아시아 일대로 전파되었다.



<타지마할>



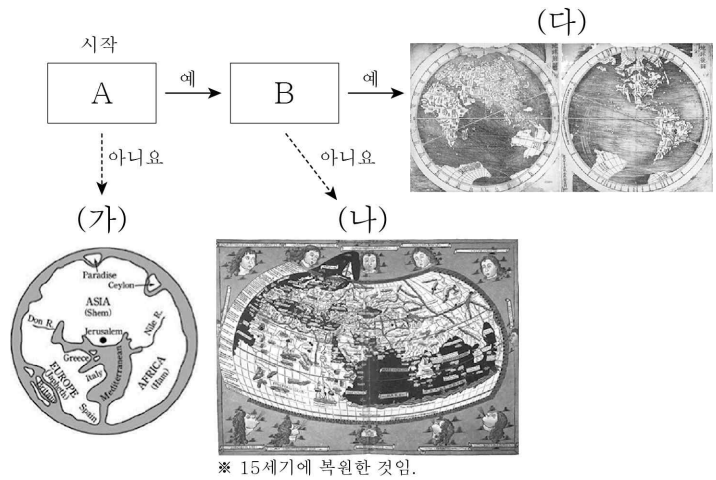
<갠지스강>



<마하보디 사원>

- ① (가)는 돼지고기를 금기시한다.
- ② (나)는 유일신교이다.
- ③ (가)는 (다)보다 발생 시기가 이른다.
- ④ (나)는 보편 종교, (다)는 민족 종교이다.
- ⑤ 전 세계 신자 수는 (다) > (나) > (가) 순으로 많다.

3. 다음 자료는 (가)~(다) 지도를 A, B 기준에 따라 분류한 것이다. 이에 대한 설명으로 옳지 않은 것은?



- ① A에는 '지구 구체설(球體說)을 토대로 제작되었습니까?'가 들어갈 수 있다.
- ② B에는 '아메리카 대륙이 표현되어 있습니까?'가 들어갈 수 있다.
- ③ (가)는 지도의 위쪽이 북쪽이다.
- ④ (가)는 (다)보다 종교적 세계관이 뚜렷하게 반영되어 있다.
- ⑤ (다)는 (나)보다 최초로 제작된 시기가 늦다.

4. 다음 자료는 여행 후 작성한 온라인 게시물이다. (가), (나) 지역에서 나타나는 기후를 그래프의 A~D에서 고른 것은? (단, A~D는 각각 건조 기후, 냉대 기후, 열대 기후, 온대 기후 중 하나임.) [3점]

(가)

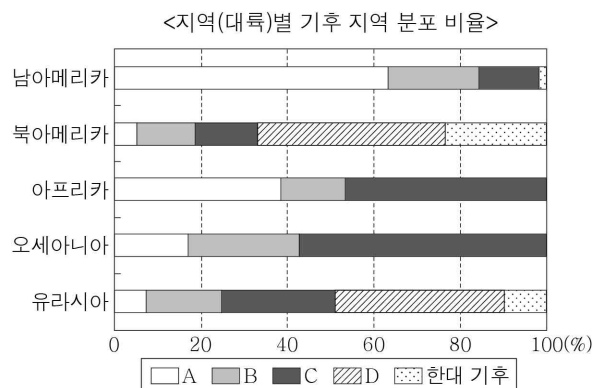


사막에 피어난 꽃을 형상화한 초고층 빌딩에서 쇼핑을 마치고 낙타 체험을 하러 갔어요.  
#부르즈\_할리파 #낙타\_체험

(나)

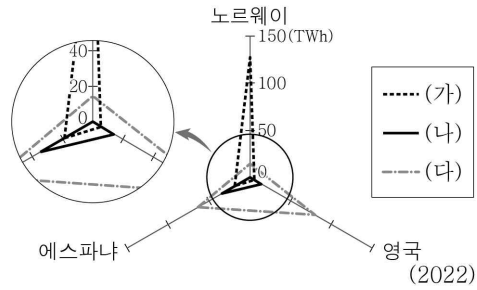


이슬비가 내리는 날, 유람선을 타고 가며 강변의 시계탑을 배경으로 기념 사진을 남겼어요.  
#빅\_벤 #템스강



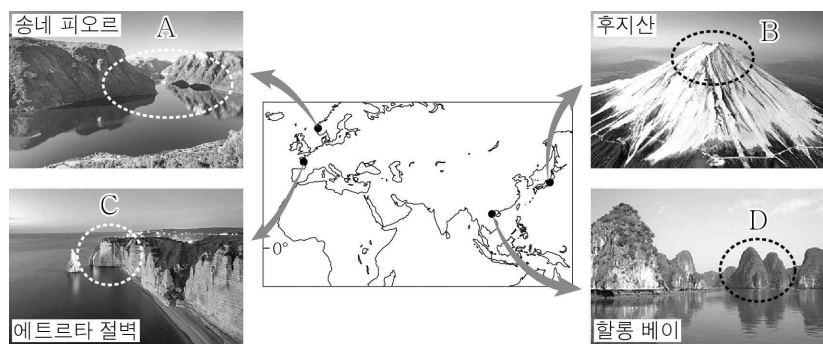
- |   | (가) | (나) |
|---|-----|-----|
| ① | A   | B   |
| ② | A   | C   |
| ③ | C   | B   |
| ④ | C   | D   |
| ⑤ | D   | A   |

5. 그래프는 세 국가의 (가)~(다) 재생 에너지 발전량을 나타낸 것이다. (가)~(다)에 해당하는 재생 에너지로 옳은 것은? [3점]



- |   | (가)    | (나)    | (다)    |
|---|--------|--------|--------|
| ① | 수력     | 태양광(열) | 풍력     |
| ② | 수력     | 풍력     | 태양광(열) |
| ③ | 태양광(열) | 수력     | 풍력     |
| ④ | 풍력     | 태양광(열) | 수력     |
| ⑤ | 풍력     | 수력     | 태양광(열) |


6. 다음 자료의 A~D 지형에 대한 설명으로 옳은 것만을 <보기>에서 고른 것은?



- < 보 기 >
- ㄱ. A는 V자곡이 침수되어 형성되었다.
  - ㄴ. B는 성층 화산체의 일부이다.
  - ㄷ. C는 곳보다 만에서 주로 발달한다.
  - ㄹ. D의 주요 기반암은 석회암이다.

- ① ㄱ, ㄴ    ② ㄱ, ㄷ    ③ ㄴ, ㄷ    ④ ㄴ, ㄹ    ⑤ ㄷ, ㄹ

7. 그래프는 세 국가에 거주하는 국제 이주자의 출신 국가별 비율을 나타낸 것이다. (가)~(다) 국가에 대한 설명으로 옳은 것은? (단, (가)~(다)는 각각 미국, 아랍 에미리트, 프랑스 중 하나임.) [3점]



- \* 2020년에 조사된 자료임.
- ① (가)에 거주하는 국제 이주자는 남성보다 여성이 많다.
  - ② (다)는 유럽에 위치한다.
  - ③ (가)는 (나)보다 국가 내 이슬람교 신자의 비율이 높다.
  - ④ (가)는 (다)보다 총인구가 많다.
  - ⑤ 라틴 아메리카로부터 유입된 인구는 (나)가 (다)보다 많다.

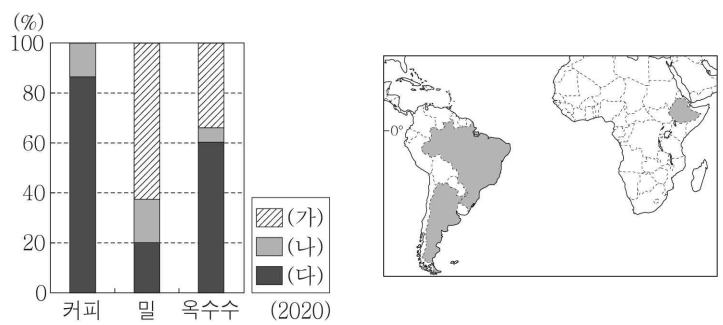
8. 다음 글의 ㉠~㉣에 대한 설명으로 옳은 것만을 <보기>에서 있는 대로 고른 것은? [3점]

유럽 통합의 노력에도 불구하고 유럽 내 개별 국가에서는 문화적 차이와 경제적 상황에 따른 갈등이 곳곳에 남아 있다. ㉠은/는 ㉡어를 주로 사용하는 플랑드르 지역과 프랑스어를 주로 사용하는 왈로니아 지역의 갈등이 나타나는 국가이다. 이탈리아 북부의 ㉢파다니아 지역에서는 분리 독립을 요구하는 움직임이 나타나고 있다.

- < 보 기 >
- ㄱ. ㉡에는 유럽 연합(EU) 본부가 있다.
  - ㄴ. ㉢은 이탈리아의 남부 지역보다 경제적 수준이 높다.
  - ㄷ. ㉠과 ㉡ 간에는 생산 요소의 자유로운 이동이 보장된다.

- ① ㄱ    ② ㄴ    ③ ㄷ    ④ ㄱ, ㄴ    ⑤ ㄴ, ㄷ

9. 그래프는 세 작물의 국가별 생산량 비율을 나타낸 것이다. (가)~(다) 국가에 대한 설명으로 옳은 것은? (단, (가)~(다)는 각각 지도에 표시된 세 국가 중 하나임.) [3점]



\* 각 작물별 세 국가의 생산량 합을 100%로 함.

- ① (가)는 (다)보다 열대림의 면적이 넓다.
- ② (나)는 (가)보다 도시화율이 높다.
- ③ (나)는 (다)보다 소 사육 두수가 많다.
- ④ (다)는 (나)보다 철광석 생산량이 많다.
- ⑤ (가)와 (나)는 모두 대서양과 접해 있다.

10. 다음은 세계지리 수업 장면의 일부이다. 교사의 질문에 옳게 대답한 학생만을 고른 것은?

온라인 교실

교사: 지도의 (가)~(다) 국가에 대해 발표해 볼까요?  
 갑: (가)는 걸프 협력 회의의 회원국이에요.  
 을: (나)에는 아시아와 유럽을 잇는 도시인 이스탄불이 있어요.  
 병: (다)의 이슬람교 신자는 수니파보다 시아파가 많아요.  
 정: (다)는 (나)보다 석유 매장량이 많아요.

- ① 갑, 을    ② 갑, 병    ③ 을, 병    ④ 을, 정    ⑤ 병, 정

11. 다음 자료의 (가), (나) 도시에 대한 설명으로 옳은 것만을 <보기>에서 고른 것은? [3점]

(가)	(나)
<ul style="list-style-type: none"> <li>○ 허드슨강 하구에 자리하고 있으며 자유의 여신상으로 유명함.</li> <li>○ 맨해튼의 중심에는 시민들의 휴식 공간인 센트럴 파크가 있음.</li> </ul>	<ul style="list-style-type: none"> <li>○ 라플라타강 하구에 자리하고 있으며 탱고가 시작된 곳으로 유명함.</li> <li>○ 에스파냐로부터 독립을 이끈 역사적 혁명이 일어났던 장소인 마요 광장이 있음.</li> </ul>

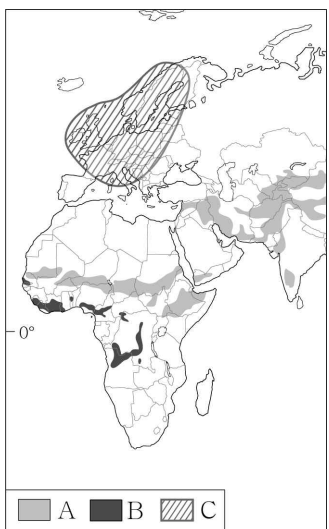
< 보 기 >

ㄱ. (가)에는 국제 연합(UN) 본부가 있다.  
 ㄴ. (나)가 속한 국가에서는 종주 도시화 현상이 나타난다.  
 ㄷ. (나)는 (가)보다 세계 금융시장에 미치는 영향력이 크다.  
 ㄹ. (가), (나)는 모두 해당 국가의 수도이다.

- ① ㄱ, ㄴ    ② ㄱ, ㄷ    ③ ㄴ, ㄷ    ④ ㄴ, ㄹ    ⑤ ㄷ, ㄹ

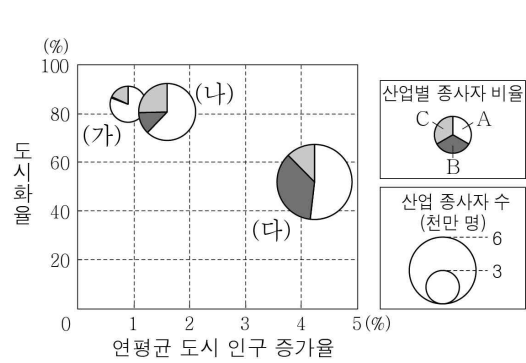
12. 다음 자료의 (가), (나)와 같은 환경 문제가 주로 나타나는 지역을 지도의 A~C에서 고른 것은? (단, (가), (나)는 각각 사막화, 산성비, 열대림 파괴 중 하나임.)

○ 몽골에서는 극심한 가뭄과 과도한 유목 등으로 **(가)**의 피해 지역이 확대되고 있다. 호수와 샘이 사라지고 초지가 감소하여 가축들의 먹이가 줄어들었다. 결국 대를 이어 살아온 유목민의 삶의 터전까지 위협받게 되었다.  
 ○ 보르네오에 서식하는 오랑우탄은 개체 수가 크게 감소하여 심각한 멸종 위기종으로 지정되었다. 오랑우탄 개체 수 감소는 삼림 벌채, 팜유 농장 개발 등으로 인한 **(나)**가 주요 원인으로 지적되고 있다.



- |   |     |     |
|---|-----|-----|
|   | (가) | (나) |
| ① | A   | B   |
| ② | A   | C   |
| ③ | B   | A   |
| ④ | B   | C   |
| ⑤ | C   | B   |

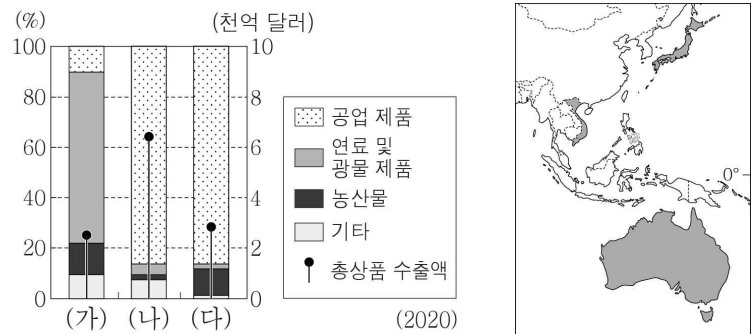
13. 그래프에 대한 설명으로 옳은 것은? (단, (가)~(다)는 각각 나이지리아, 멕시코, 영국 중 하나이고, A~C는 각각 1차 산업, 2차 산업, 3차 산업 중 하나임.) [3점]



\* 연평균 도시 인구 증가율과 도시화율은 원그래프의 가운데 값임.  
 \*\* 연평균 도시 인구 증가율은 2015~2020년, 도시화율과 산업별 종사자 비율 및 산업 종사자 수는 2020년 기준임.

- ① (가)에는 '마킬라도라'가 발달하였다.  
 ② (나)는 촌락 인구가 도시 인구보다 많다.  
 ③ (다)에는 최상위 세계 도시가 위치해 있다.  
 ④ A는 3차 산업, B는 1차 산업이다.  
 ⑤ 멕시코는 나이지리아보다 1차 산업 종사자 수가 많다.

14. 그래프는 지도에 표시된 세 국가의 상품별 수출 구조를 나타낸 것이다. (가)~(다) 국가에 대한 설명으로 옳은 것은? [3점]



- ① (가)는 (나)보다 제조업 종사자 수가 많다.  
 ② (가)는 (다)보다 1인당 국내 총생산이 많다.  
 ③ (나)는 (다)보다 청소년층 인구 비율이 높다.  
 ④ (다)는 (나)보다 공업 제품의 수출액이 많다.  
 ⑤ (가)~(다) 중 크리스마스 섬의 신자 비율은 (나)가 가장 높다.

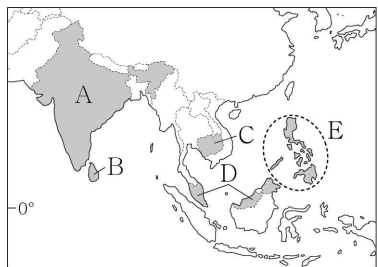
15. 다음 자료의 (가)~(다) 산맥과 관련된 설명으로 옳은 것은?

(가) 세계에서 가장 긴 산맥으로 알려져 있다. 이 산맥에서 발원하는 아마존강은 대서양으로 흘러든다. 라마와 알파카는 산지 주민들이 기르는 중요한 가축이다.  
 (나) 세계에서 해발 고도가 가장 높은 산이 있는 산맥이다. 이 산맥에서 발원하는 갠지스강은 인도양으로 흘러든다. 야크는 산지 주민들에게 털과 고기를 제공한다.  
 (다) 오세아니아에서 가장 긴 산맥이다. 이 산맥에서 발원하는 머리·달링강은 광활한 분지를 지나 남쪽 바다로 흘러든다. 산지의 주변에는 캥거루, 코알라 등이 서식한다.

- ① (가)는 대륙판과 대륙판의 충돌로 형성되었다.  
 ② (나)는 알프스-히말라야 조산대에 속한다.  
 ③ (가)는 (다)보다 산지 주변에 석탄의 매장량이 많다.  
 ④ (나)는 (가)보다 화산 활동이 활발하다.  
 ⑤ (나)는 (다)보다 형성 시기가 이른다.

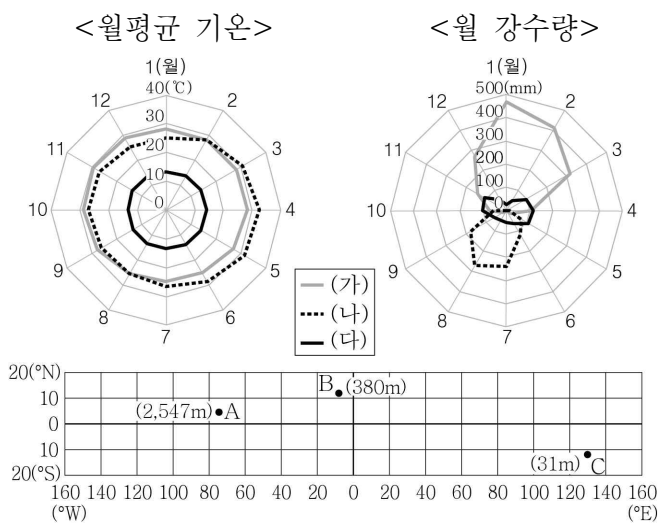
16. 다음 자료의 (가) 국가를 지도의 A~E에서 고른 것은?

(가)에서는 과거 에스파냐 식민 지배의 영향으로 크리스티교 신자의 비율이 높아 이와 관련된 종교 경관을 많이 볼 수 있다. 그중에서 '지진 바로크양식'은 지각이 불안정한 자연환경의 영향을 받은 독특한 건축 양식이다. 큰 버팀목과 위로 갈수록 얇고 가벼워지는 벽, 본당과 분리된 낮고 튼튼한 종탑 등은 이 건축 양식의 특징이다.



- ① A
- ② B
- ③ C
- ④ D
- ⑤ E

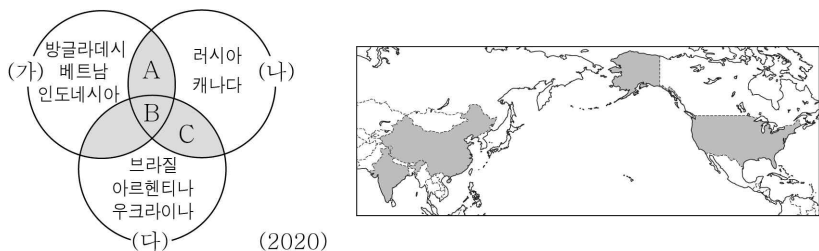
17. 그래프의 (가)~(다) 지역을 경위선망의 A~C에서 고른 것은?



\* ( )안의 숫자는 관측 지점의 해발 고도임.

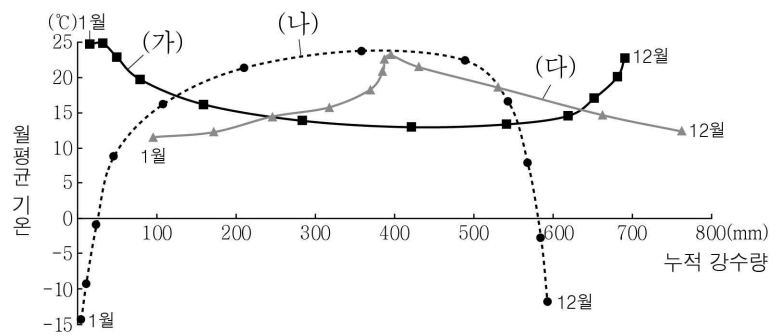
- |   |     |     |     |   |     |     |     |
|---|-----|-----|-----|---|-----|-----|-----|
|   | (가) | (나) | (다) |   | (가) | (나) | (다) |
| ① | A   | B   | C   | ② | A   | C   | B   |
| ③ | B   | C   | A   | ④ | C   | A   | B   |
| ⑤ | C   | B   | A   |   |     |     |     |

18. 다음 자료는 세계 3대 식량 작물 (가)~(다)의 생산량 상위 5개국을 나타낸 것이다. 이에 대한 설명으로 옳은 것은? (단, A~C는 각각 지도에 표시된 세 국가 중 하나임.) [3점]

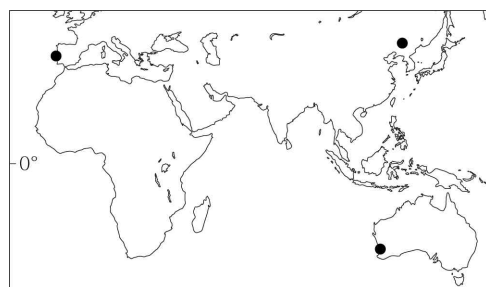


- ① (다)는 주로 논에서 재배된다.
- ② (나)는 (가)보다 세계 총 재배 면적이 넓다.
- ③ (가)~(다) 중 가축의 사료로 이용되는 양은 (가)가 가장 많다.
- ④ B는 A보다 (가)의 수출량이 많다.
- ⑤ C는 (다)보다 (나)를 많이 생산한다.

19. 그래프는 지도에 표시된 세 지역의 월평균 기온과 누적 강수량을 나타낸 것이다. (가)~(다) 지역에 대한 설명으로 옳은 것은? [3점]



\* 누적 강수량은 1월부터 해당 월까지의 강수량을 합한 값임.



- ① (가)는 (나)보다 여름 강수 집중률이 높다.
- ② (다)는 (가)보다 7월에 아열대 고압대의 영향을 크게 받는다.
- ③ (다)는 (나)보다 기온의 연교차가 크다.
- ④ (가)는 북반구, (나)와 (다)는 남반구에 위치한다.
- ⑤ (가)~(다) 중 북회귀선과의 최단 거리는 (가)가 가장 짧다.

20. 다음 자료는 두 국가의 인구 정책에 관한 것이다. (가), (나) 국가에 대한 설명으로 옳은 것만을 <보기>에서 고른 것은? (단, (가), (나)는 각각 독일, 이집트 중 하나임.)

(가) 자녀가 두 명 이하인 기혼 여성에게 매년 지원금을 적립하여 45세가 되면 누적된 금액을 지급할 계획이다. 하지만 셋째 아이를 출산한 여성의 경우 누적 금액을 청구할 권리를 잃게 된다.

(나) 18세 이하의 모든 자녀에게 아동 수당을 지원하는데 넷째 이상의 자녀부터는 더 높은 금액을 지급한다. 이와 더불어 노동력 감소에 대응하기 위해 적극적인 이민자 유입 정책을 실시하고 있다.

< 보 기 >

- ㄱ. (가)는 노년 부양비가 유소년 부양비보다 높다.
- ㄴ. (나)는 유출 인구가 유입 인구보다 많다.
- ㄷ. (가)는 (나)보다 인구의 자연 증가율이 높다.
- ㄹ. (나)는 (가)보다 시간당 평균 임금 수준이 높다.

- ① ㄱ, ㄴ    ② ㄱ, ㄷ    ③ ㄴ, ㄷ    ④ ㄴ, ㄹ    ⑤ ㄷ, ㄹ

\* 확인 사항

- 답안지의 해당란에 필요한 내용을 정확히 기입(표기)했는지 확인하십시오.