

제 4 교시

사회탐구 영역 (동아시아사)


성명

수험 번호

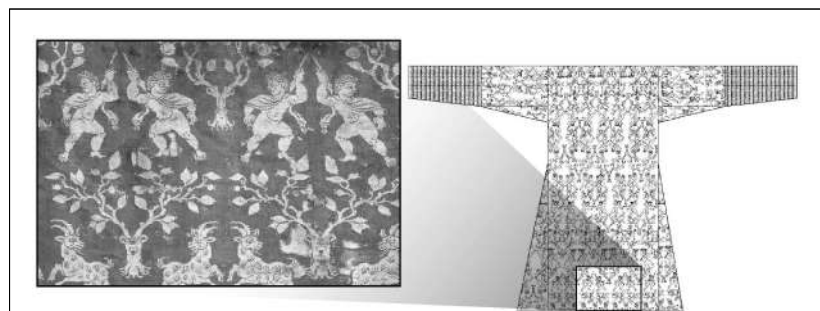
제 ( ) 선택

1. (가)에 들어갈 유물로 가장 적절한 것은?

참장강 하류 지역에서는 허무두 문화가 발전하여 흑도, 회도 등 다양한 토기가 만들어졌습니다. 지금 보고 있는 유물은 이 지역에서 출토된 대표적 토기 중의 하나입니다.



2. (가) 왕조에 대한 설명으로 옳은 것은?



이 자료는 중국 신장 웨이리의 무덤에서 발굴된 옷으로 동서 교류의 흔적을 보여준다. 이 옷의 걸감에는 그리스 양식의 무기와 높은 코, 곱슬머리 등 이국적 외모를 지닌 남성 등이 묘사되어 있으며, 옷 안쪽은 중국의 비단으로 덧대어 있다. 신장은 비단길의 주요 경로로서, (가)의 장군이 다녀온 후 널리 알려졌으며, 이 왕조는 도호부를 설치하여 이 지역을 관리하기도 하였다.

- ① 군국제를 시행하였다.
- ② 3성 6부를 설치하였다.
- ③ 남북조 시대를 통일하였다.
- ④ 취안저우 등지에 시박사를 두었다.
- ⑤ 좌현왕과 우현왕을 두어 다스렸다.

3. 밑줄 친 '이 나라'에 대한 설명으로 옳은 것은? [3점]

황제는 다시 출병하여 연운 지역을 수복하고자 하였다. 이에 황족인 아물대석이 "동쪽에서 흥기한 이 나라의 군대가 장춘과 요양을 함락시키자 황제께서 중경을 수도로 삼았고 ... (중략) ... 운중에서 협산으로 피난 오셨습니다. 나라의 온 힘을 모아 전쟁에 대비하지 못했기 때문에 우리 나라 대부분의 땅을 빼앗기게 되었습니다. ... (중략) ... 마땅히 병사를 기르고 때를 기다려 움직여야지 경솔하게 군대를 움직여서는 안 됩니다."라고 간언하였다. 그러나 황제는 간언을 받아들이지 않고 군대를 이끌고 출병하였다가 이 나라의 군대에 사로잡혔다.

- ① 발해를 멸망시켰다.
- ② 별무반을 조직하였다.
- ③ 맹안·모극제를 실시하였다.
- ④ 5대 10국의 분열을 수습하였다.
- ⑤ 탕구트족의 이원호가 건국하였다.

4. ㉠~㉣ 국가에 대한 설명으로 옳은 것은? [3점]

중대성이 문서를 보냅니다. ㉠ 귀국은 ㉣ 이 나라에서 귀환하지 못한 사신을 데려오기 위해 사절 99명을 ㉡ 본국에 파견하였습니다. 하지만 절도사의 반란으로 ㉣ 이 나라의 수도 장안이 혼란한 상황이라 99명의 사절은 이리지도 저리지도 못하는 상황입니다. 그러므로 ㉠ 귀국의 대사 고원도를 비롯한 11명은 그대로 보내 귀환하지 못한 민부성 관원을 데려오도록 하고, 판관 이하는 모두 배에 태워 돌려보내고자 합니다.

- ① ㉠은 낙랑군을 축출하였다.
- ② ㉠과 ㉣은 백강 전투에서 승리하였다.
- ③ ㉣은 ㉡에 문성 공주를 보냈다.
- ④ ㉡은 ㉠에 적산 법화원을 건립하였다.
- ⑤ ㉡은 ㉣의 영향을 받아 상경성을 세웠다.

5. (가) 유학 사상에 대한 설명으로 옳은 것은?

자료로 읽는 동아시아 사상사

양지 두 글자는 본디 맹자의 말인데, 상산이 꼬집어내어 화두로 삼았다. 왕수인에 이르러서는 비로소 『대학』의 격물치지와 거짓으로 짜 맞추어 주장을 펼쳤으니, 그는 정호·정이 형제와 주희의 격물치지에 대한 해석을 뒤집고자 하였던 것이다. 그러나 그의 주장은 속임수와 영성함으로 그 천박함과 남루함을 가리려 한 것일 뿐, 사리에 맞지 않는다.

〈해설〉  
이 자료는 조선의 한 유학자가 (가) 을/를 비판하는 내용입니다. 특히 유교 경전인 『대학』의 격물치지에 대한 해석을 비판의 중점으로 삼았습니다.

- ① 윤희와 해탈을 중시하였다.
- ② 명대 관학으로 채택되었다.
- ③ 다이호 율령 제정에 영향을 끼쳤다.
- ④ 마음이 곧 원리라는 심즉리를 내세웠다.
- ⑤ 고려 말 신진 사대부의 사상적 기반이 되었다.

동아시아사

## 2 (동아시아사)

## 사회탐구 영역

6. (가) 막부 시기의 동아시아 문화에 대한 설명으로 옳지 않은 것은?



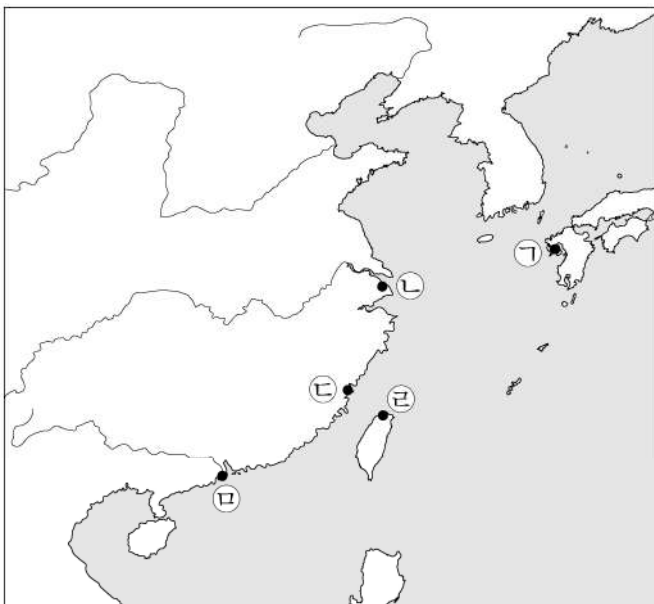
이 그림은 에레키테루라는 정전기 발생 장치로 환자를 치료하는 모습을 묘사하고 있다. 에레키테루는 전기나 전류를 뜻하는 네덜란드어에서 유래한 말로, 일본에서는 정전기 발생 장치를 통칭하는 의미로 쓰였다. (가) 막부 시기 난학자 히라가 겐나이가 파손된 에레키테루를 구입하여 복원하는 데 성공하였다. 이후 정전기 발생 장치는 일본에서 치료나 놀이에 활용되었다.

- ① 한국 - 춘향전 등 한글 소설이 유행하였다.
- ② 한국 - 관리 선발에 독서삼품과가 활용되었다.
- ③ 중국 - 남녀의 사랑을 표현한 홍루몽이 저술되었다.
- ④ 중국 - 황실과 상인의 지원 아래 경극이 성행하였다.
- ⑤ 일본 - 인물, 풍속 등을 묘사한 우키요에가 발달하였다.

7. (가) 지역을 지도에서 옳게 고른 것은? [3점]

○○○계  
포르투갈은 몰라카를 점령하여 동방 무역의 교두보로 삼았고, 중국으로부터 (가)에서의 거주권도 인정받아 막대한 이익을 얻고 있습니다. 만약 우리가 이 지역을 빼앗으면 포르투갈을 대신하여 일본에 중국 생사를 공급할 수 있을 것입니다. 또한 아시아에서 포르투갈이 누리고 있는 독점적 지위를 뺏을 수 있으며, 동시에 몰라카도 공략할 수 있습니다. (가)을/를 점령하면 결국 우리는 전 세계가 그토록 갈망하는 중국의 부와 상품을 얻을 수 있습니다.

바타비아 총독 안 코옌으로부터



- ① ㉠
- ② ㉡
- ③ ㉢
- ④ ㉣
- ⑤ ㉤


8. (가) 왕조 시기 동아시아 상황에 대한 설명으로 옳은 것은? [3점]

(가)의 선대 황제가 화북을 평정한 후 얼마 지나지 않아 상(上)이 제나라를 정벌하려 하였다. 상은 군대를 이끌고 남하하여 황허를 건넜고, 옛 왕조의 수도에 이르러 진을 치고 궁궐터를 둘러보았다. 상이 출병할 때 문무백관이 극구 만류하자, 상은 수도 이전을 공포하고, 말하길 “먼저 이곳을 수도로 삼아 정비를 마무리하고, 이후 남벌하겠다. 옛일을 거울삼아 멀리 도모하여 때를 기다리며 군대를 쉬게 하고, 수도에 오래도록 머무르며 황제의 거처로 삼겠다.”라고 하였다.

- ① 자금성이 건설되었다.
- ② 복제와 복주가 대립하였다.
- ③ 가마쿠라 막부가 수립되었다.
- ④ 거란이 북면관제와 남면관제를 시행하였다.
- ⑤ 고구려가 남북조와 조공·책봉 관계를 맺었다.

9. 밑줄 친 ㉠이 있었던 시기에 동아시아에서 볼 수 있는 모습으로 가장 적절한 것은?

이 자료는 태양력 적용 전에 제작된 음력으로 표기된 달력입니다. ㉠ 일본에서는 태양력 도입으로 음력 12월 3일이 양력 1월 1일이 되었습니다. 갑작스런 변화에 새로운 달력을 구하지 못한 사람들은 음력에 양력 날짜를 표시하여 사용하였습니다. 자료에 보이는 것처럼 음력 1월 1일은 양력 1월 29일입니다.



- ① 광무개혁을 추진하는 관리
- ② 도쿄 대학에서 연구하는 학생
- ③ 광저우에서 교역하는 영국 상인
- ④ 태평천국 운동을 진압하는 군인
- ⑤ 막부 타도 운동에 참여하는 무사

10. (가), (나) 황제에 대한 설명으로 옳은 것은? [3점]

진공은 유양 사람으로 적이 쳐들어오자 군인으로 참전하였다. (가)이/가 보낸 적에 의해 수도 임안이 함락되고, 이후 애산 앞바다에서도 패하여 황제가 자결하니 군사들도 이를 따랐다. 이에 진공도 그 뒤를 따르려 하였으나 천운으로 살아남았다. 이후 진공은 우여곡절 끝에 고향에 돌아와 결혼하여 성녀를 낳았다. 오호! 진공이 덕을 두텁게 쌓으니 하늘이 도와 성녀를 태어나게 하였다. 성녀의 아들인 (나)은/는 적을 몰아내고 한족의 왕조를 건국하였다.

- ① (가) - 금을 멸망시켰다.
- ② (가) - 일본 원정을 단행하였다.
- ③ (가) - 송과 전연에서 맹약을 체결하였다.
- ④ (나) - 조선과 형제의 관계를 맺었다.
- ⑤ (나) - 일본과 감함 무역을 실시하였다.



11. 다음 사절단의 파견 시기 동아시아에서 볼 수 있는 상황으로 옳은 것은?



자료는 일본이 개항 이후 파견한 사절단원의 사진이다. 이 사절단은 2년 전 체결된 나가사키 등지의 개항을 명시한 조약의 비준서 교환과 근대 시설 견학 등을 위해 파견되었다. 사절단은 워싱턴에서 이 조약의 비준서를 교환하고, 군함을 만드는 조선소를 견학하였다. 그해 말 귀국한 사절단 중 한 명인 오구리 다다마사는 조선소와 제철소 건립을 주장하였다.

- ① 급진 개화파의 주도로 갑신정변이 일어났다.
- ② 상하이에서 영국 상인이 신보를 발행하였다.
- ③ 영사 재판권이 포함된 강화도 조약이 조인되었다.
- ④ 입헌제를 명시한 대일본 제국 헌법이 제정되었다.
- ⑤ 크리스티교 포교를 인정한 베이징 조약이 체결되었다.

12. 밑줄 친 ‘봉기’에 대한 설명으로 옳은 것은?

베이징 주재 공사와 해군 장군이 보낸 심각한 소식들에 비추어 보건대, 최근 산둥에서 일어난 봉기가 확대되고 있습니다. 베이징에 있는 러시아 제국 공사관원의 생명과 재산 등을 보호하고, 특히 일본군이나 기타 외국 군대가 들어오는 사태를 막기 위해서 조치지인 뤄순에 있는 군인 4천여 명을 파견하는 것이 시급합니다. 영국 공사도 우리에게 이런 조치를 취해줄 것을 은밀히 요구해 왔습니다. 이 조치는 우리가 만주 지역을 점령하는 이점을 다시금 증명해 줄 것입니다.

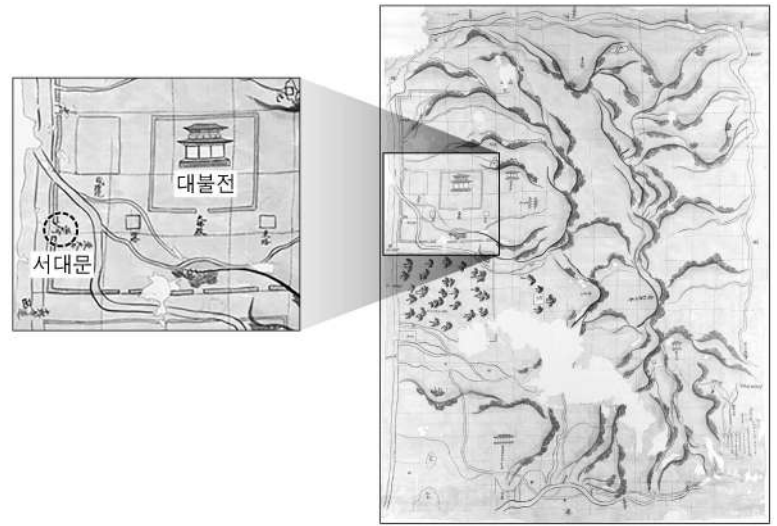
- ① 동학 농민 운동에 영향을 주었다.
- ② 홍수전이 조직한 상계회가 주도하였다.
- ③ 타이완이 일본에 할양되는 배경이 되었다.
- ④ 청을 도와 서양 세력을 몰아내자는 구호를 내세웠다.
- ⑤ 일본이 만주 남부의 철도 부설권을 갖는 결과를 낳았다.

13. 다음에 나타난 전쟁 시기에 있었던 사실로 옳은 것은? [3점]

천자의 병사가 동쪽으로 가는 것은 천자의 인자함에서이고, 그대 나라의 외침을 가련히 여긴 것은 곧 성심의 남다른 은혜에서입니다. 천자의 군대는 황명을 받들어 천자의 성덕과 위엄을 드높일 뿐입니다. 지금 평양에서 이기고, 황주를 되찾으며, 개성에서 무찌르고, 함경도에서 적을 몰아냈습니다. 이는 마치 바람이 열린 안개를 쫓고 불이 마른 풀을 태우듯이 하여 삼한 백제가 이미 태평을 되찾은 것입니다.

- ① 몽골이 베이징을 포위하였다.
- ② 인조가 남한산성에서 항전하였다.
- ③ 나·당 연합군이 고구려를 멸망시켰다.
- ④ 강홍립이 사르후 전투에서 투항하였다.
- ⑤ 일본이 조선 남부 4도 할양 등을 요구하였다.

14. (가) 시대에 동아시아에서 볼 수 있는 모습으로 가장 적절한 것은? [3점]



이 자료는 쇼무 천황의 명으로 건립 중이던 도다이사의 영역을 나타낸 지도로, 창건 초기의 건축물 중 대불을 모신 대불전과 서대문 등이 그려져 있다. 사찰의 정문인 서대문은 (가) 시대의 수도 헤이조쿄 내의 주요 도로인 이조대로로 통하고 있으며, 그 인근에서 사찰의 정문이었음을 알려 주는 편액이 발견되었다.

- ① 견당사를 접견하는 황제
- ② 사서집주를 저술하는 유학자
- ③ 백운동 서원에서 공부하는 선비
- ④ 원강 석굴 대불을 조성하는 장인
- ⑤ 쇼토쿠 태자에게 불법을 가르치는 승려

15. 밑줄 친 ‘우리 나라’에 대한 설명으로 옳은 것은?

S#3. 교양병 직의 설치를 논의하는 장면

신 하: 세조께서 베이징으로 도읍을 옮기고, 성조께서 혼란을 수습한 이래 우리 나라의 인구가 증가하였습니다. 생계 해결을 위해 군인의 수를 늘리는 것이 어떨지 말씀드립니다.

황 제: 4,800명을 선발하여 교양병이라 칭하고 군사 훈련을 시키라. 선발된 인원에게 매월 3냥을 지급하라. 각 기별로 600명을 선발하고, 이중 한군 80명에게는 3냥이 아니라 2냥을 지급하라. 이렇게 하여 남은 액수를 융통하면 한군 40명을 더 뽑아 모두 120명을 선발할 수 있다. 시행할 수 있도록 힘쓰라.

신 하: 가난한 자 중에 병사의 자질이 있는 자를 선발하여 시행토록 하겠습니다.

- ① 거란(요)을 멸망시켰다.
- ② 흥정 헌법 대강을 제정하였다.
- ③ 정화를 동남아시아 등지에 파견하였다.
- ④ 대월의 전홍다오 군대와 전투를 벌였다.
- ⑤ 왜구의 근거지인 쓰시마섬을 정벌하였다.

# 4 (동아시아사)

# 사회탐구 영역

16. 밑줄 친 '이 운동'에 대한 설명으로 옳은 것은?

중국은 원명원에서 치욕을 겪은 후 큰 충격을 받아 병제 개혁과 해안 방어를 중요 과제로 여기고, 이 운동을 전개하고 있습니다. 그 일환으로 푸저우에는 대형 조선소를 건설하여 크고 작은 군함을 제조하고 있고, 광저우·항저우·난징·톈진 등지에 금릉 기기국, 강남 제조 총국 등의 조병국을 건설해서 총포와 탄약을 제조하고 있습니다. 또한 한커우·광저우 등 연안의 요충지에는 포대를 건축하였습니다.

- ① 군벌 타도를 제창하였다.
- ② 한인 관료들이 주도하였다.
- ③ 공화정 수립을 목표로 하였다.
- ④ 홍콩이 할양되는 결과를 가져왔다.
- ⑤ 삼국 간섭의 영향을 받아 전개되었다.

17. 밑줄 친 '5년 동안'에 있었던 사실로 옳은 것만을 <보기>에서 있는 대로 고른 것은? [3점]

일본은 침략 전쟁에서 어려워지는 전세를 만회하기 위하여 한국 민족에게 가장 야만적인 폭압 정책을 실시하고 있다. 일본은 갖은 위협과 강요로써 한국인을 침략 전쟁의 도구와 제물로 삼아왔다. 한국 민족은 과거 5년 동안 보고 들은 우방 중국 민족의 단결과 항전의 사실을 교훈으로 삼아 전 민족이 총단결하여 반일 투쟁 활동을 더욱 강화했다. 특히 50여 일 전에 일본은 진주만 공격을 감행했다. 이에 한국 민족은 천만 배의 자신과 용기를 가지고 독립과 자유의 밝은 앞날을 향하여 분투해야 한다.

<보 기>

- ㄱ. 일본이 난징 대학살을 자행하였다.
- ㄴ. 독일, 이탈리아, 일본 3국이 동맹을 맺었다.
- ㄷ. 조선 의용대가 중국 국민당 정부의 지원을 받았다.

- ① ㄱ      ② ㄴ      ③ ㄱ, ㄷ      ④ ㄴ, ㄷ      ⑤ ㄱ, ㄴ, ㄷ

18. 다음 연설 이후의 동아시아 상황으로 옳지 않은 것은?

저는 오늘 중요한 문제에 대해 이야기하고자 합니다. 그것은 바로 실사구시입니다. 혁명 정신은 매우 중요합니다. 그러나 혁명은 물질적 이익의 기초 위에서 나오는 것인데 정신적 희생만 강요하고 있습니다. 성과가 크고 수입도 늘어나는 일부 지역, 일부 노동자가 있으면 필연적으로 다른 지역과 이웃에게도 좋은 영향을 끼쳐 모두가 더 빨리 부유해질 것입니다. 이제 우리는 2년 전 서거한 마오쩌둥의 사상 위에 공업, 농업, 국방 및 과학 기술 4개 부문의 현대화를 구체적으로 실현해야 합니다.

- ① 한국 - 제1차 경제 개발 5개년 계획을 실시하였다.
- ② 북한 - 외국 자본 유치에 관한 합영법을 제정하였다.
- ③ 중국 - 세계 무역 기구[WTO]에 가입하였다.
- ④ 일본 - 경제 정책 실패 등으로 55년 체제가 붕괴되었다.
- ⑤ 베트남 - 도이머이 정책을 추진하였다.

19. (가), (나) 시기 사이에 있었던 사실로 옳은 것은? [3점]

(가) 도쿄만에 들어온 미주리호에서 일본 대표가 항복 문서에 정식 서명하였다. 이로부터 일본은 천황의 통치에서 연합군 맥아더 장군 관할로 바뀐다. 일본 강도는 4개 섬과 연합국이 지정해 준 작은 섬에 한하고, 정부·인민·천황 등은 모두 연합국 최고 사령부의 통치를 받게 되었다.

- 『○○민보』 -

(나) 역사적인 조인식이 드디어 진행되었다. 예상대로 소련 등 3국 대표의 의석은 비어 있었다. 그리고 무대 뒤편 각국 국기 사이에 전일까지 없었던 일장기가 걸려 있었다. 샌프란시스코의 오페라 하우스에서 거행된 조인식은 예정 보다 좀 늦게 시작되었다.

- 『△△일보』 -

- ① 통킹만 사건이 발발하였다.
- ② 닉슨 독트린이 발표되었다.
- ③ 애치슨 라인이 선언되었다.
- ④ 타이완이 일본과 국교를 회복하였다.
- ⑤ 남베트남 민족 해방 전선이 결성되었다.

20. 교사의 질문에 대한 학생의 답변으로 가장 적절한 것은? [3점]

이 자료는 경제 개발을 위해 실시한 이 운동과 관련된 선전문물입니다. 인민공사를 설립하여 인민이 노력하면, 그림 속 거대한 돼지처럼 생산량도 늘릴 수 있다는 의미를 담고 있습니다. 그러나 식량 증산은 실패했고 오히려 식량 위기를 초래하여 수많은 아시자가 발생했습니다. 이 운동에 대해 말해 볼까요?



- ① 텐메이 대기근의 원인이 되었어요.
- ② 6월 민주 항쟁의 계기가 되었어요.
- ③ 우창 신군 봉기에 영향을 주었어요.
- ④ 문화 대혁명 발발의 배경이 되었어요.
- ⑤ 미·일 안보 조약이 체결되는 결과를 가져왔어요.

\* 확인 사항  
○ 답안지의 해당란에 필요한 내용을 정확히 기입(표기)했는지 확인 하시오.