



제 4 교시

사회탐구 영역(세계지리)

성명  수험 번호  -  제 ( ) 선택

1. 다음 자료의 ㉠~㉡에 대한 설명으로 옳은 것만을 <보기>에서 고른 것은? [3점]

| 지역화 전략의 사례  |  |
|---|--|
| <p>&lt;지형을 활용한 지역화&gt;</p> <p>카자흐스탄은 콜사이 호수에 관광객을 유치하기 위하여 지역 특성을 반영한 트레킹 코스를 개발하였다. 또한 이곳은 보트를 타고 호수 주변의 경치를 볼 수 있어 관광객에게 인기가 있다.</p> <p>• 카자흐스탄 콜사이 호수의<br/>㉠ 전자 지도</p>  | <p>&lt;음식 문화를 활용한 지역화&gt;</p> <p>가가와현은 '우동현(うどん県)'이라 불릴 만큼 우동이 유명하다. 우동의 역사와 유명 점포를 소개하는 택시 관광 코스는 이곳의 대표적인 관광 상품이다.</p> <p>* 현(県)은 일본의 지방 행정 단위임.</p> <p>• 현(県)의 청사 위치와 홍보 이미지<br/>㉡ 34° 20' N, 134° 3' E</p>  |

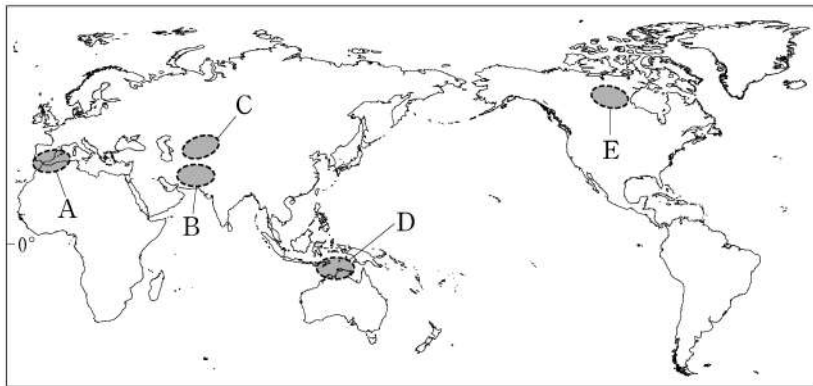
<보 기>

㉠. ㉠은 종이 지도보다 특정 지역의 확대 또는 축소가 용이하다.  
 ㉡. ㉡은 지리 정보 중 속성 정보에 해당한다.  
 ㉢. ㉢은 지역 브랜드화의 사례이다.  
 ㉣. 적도와의 최단 거리는 ㉡이 ㉢보다 짧다.

- ① ㉠, ㉡    ② ㉠, ㉢    ③ ㉡, ㉣    ④ ㉡, ㉣    ⑤ ㉢, ㉣

2. 다음 글에서 설명하는 지역을 지도의 A~E에서 고른 것은?

이 지역은 소련이 붕괴되면서 다양한 민족과 언어 집단에 따라 여러 국가로 독립되었다. 특히, 유럽 문화, 건조 문화, 동양 문화가 접하는 문화적 점이 지대가 형성되었으며, 지금도 다양한 세력의 영향이 공존하고 있다. 이 지역에는 사막과 스텝이 넓게 나타나며, 텐산 산맥 주변에는 이들 국가의 주요 도시들이 분포하고 있다.



- ① A    ② B    ③ C    ④ D    ⑤ E

3. 다음 자료는 두 지역의 지형에 관한 것이다. 밑줄 친 ㉠, ㉡에 대한 설명으로 옳은 것은? [3점]

|  |  |
|--|--|
|  |  |
| <p>주화는 ㉠ 알프스 산맥에 있는 <u>뾰족한 형태의 호른</u> 주변에서 이동하는 빙하의 모습을 보여 준다.</p>                   | <p>메달은 미국 서부의 ㉡ <u>모뉴먼트 밸리에</u> 우뚝 솟아 있는 <u>뷰트의 모습</u>을 보여 준다.</p>                   |

- ① ㉠은 주로 바람의 침식 작용으로 형성되었다.  
 ② ㉡은 암석의 차별적 풍화와 침식으로 형성되었다.  
 ③ ㉠은 고기 습곡 산지, ㉡은 순상지에 위치해 있다.  
 ④ ㉠ 주변에는 플라야, ㉡ 주변에는 권곡이 발달한다.  
 ⑤ ㉠과 ㉡은 모두 물리적 풍화보다 화학적 풍화가 활발하다.

4. 다음 자료는 유럽의 클러스터 지역 답사 안내문의 일부이다. (가)~(다)에 해당하는 지역을 지도의 A~F에서 고른 것은? [3점]

| 일정   | 지역  | 특성   |
|------|-----|--|
| 1일 차 | (가) | • 발트해 북동쪽에 위치한 첨단 IT 기반의 기술 도시로 성장<br>• 성공 요인은 대기업과 대학 중심의 협력 네트워크 형성과 지방 정부 주도의 '테크노폴리스' 설립     |
| 2일 차 | (나) | • 라인강 하구에 입지한 대규모 항구 도시로 세계적인 석유 화학 클러스터 조성<br>• 성공 요인은 유럽 주요 도시로 통하는 교통망, 송유관 등 배후 수송망 및 시설의 발달 |
| 3일 차 | (다) | • 알프스 산맥 남쪽의 도시로 섬유, 의류 등에 특화된 다품종 소량 생산 방식의 장인적 중소기업이 집적<br>• 성공 요인은 신뢰를 바탕으로 기업 간 협력 네트워크 형성   |



- (가) (나) (다)
- ① A C F  
 ② A D E  
 ③ B C F  
 ④ B D E  
 ⑤ B D F

## 2 (세계지리)

## 사회탐구 영역

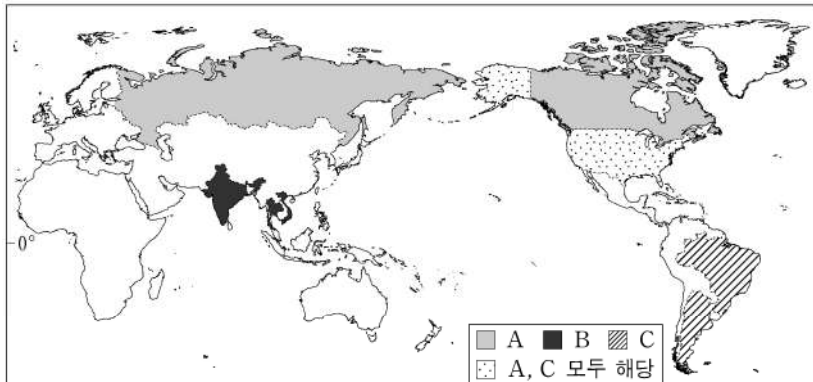
5. 표의 (가)~(라)에 대한 설명으로 옳은 것은?

| 지진 정보        |             |                              |       |
|--------------|-------------|------------------------------|-------|
| 주요 피해 지역(국가) | 지진 발생일      | 진앙지의 위·경도                    | 지진 규모 |
| (가)          | 2023.09.08. | 31° 3' 18" N, 8° 23' 53" W   | 6.8   |
| (나)          | 2023.02.06. | 37° 13' 34" N, 37° 0' 50" E  | 7.8   |
| 아이티          | 2021.08.14. | 18° 26' 2" N, 73° 28' 55" W  | 7.2   |
| (다)          | 2018.09.28. | 0° 15' 22" S, 119° 50' 46" E | 7.5   |
| (라)          | 2015.04.25. | 28° 13' 52" N, 84° 43' 52" E | 7.8   |

\* 주요 피해 지역(국가)은 사망자 2,000명 이상인 국가임.

- ① (가)는 동아프리카 지구대가 형성되는 지역이다.
- ② (나)는 환태평양 조산대에 속한 지역이다.
- ③ (다)는 유라시아판과 아라비아판이 만나는 지역이다.
- ④ (라)는 대륙판과 대륙판이 충돌하여 산맥이 형성되는 지역이다.
- ⑤ (가)와 (나)는 해령에서 마그마가 분출하여 지각이 확장되는 지역이다.

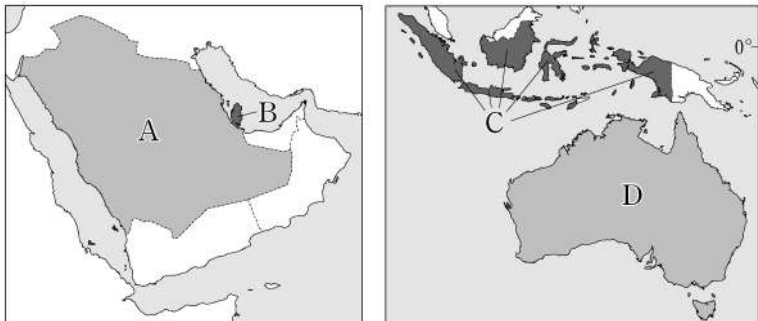
6. 지도는 A~C 작물의 주요 수출국을 나타낸 것이다. 이에 대한 설명으로 옳지 않은 것은? (단, A~C는 각각 밀, 쌀, 옥수수 중 하나임.) [3점]



\* 2016~2020년 수출액의 평균값 기준 상위 3개국을 선정하여 해당 국가만을 표시함.

- ① A는 내건성이 약해 고온 다습한 지역에서 주로 재배된다.
- ② B의 생산량은 북아메리카가 오세아니아보다 많다.
- ③ C의 기원지는 아메리카이다.
- ④ A와 B의 최대 생산국은 동일하다.
- ⑤ A~C 중 국제 이동량은 B가 가장 적다.

7. 지도의 A~D 국가에 대한 설명으로 옳은 것은?



- ① A는 최대 도시인 두바이를 관광 산업의 중심지로 육성하고 있다.
- ② D의 주요 수입품은 철광석, 보크사이트 등의 광물 자원이다.
- ③ B는 A보다 천연가스 수출량이 많다.
- ④ D는 C보다 국내 총생산(GDP) 중 2차 산업의 비율이 높다.
- ⑤ B와 C는 모두 아시아·태평양 경제 협력체(APEC) 회원국이다.

8. 다음 글은 대기 대순환에 관한 것이다. 밑줄 친 ㉠~㉣에 대한 설명으로 옳은 것만을 <보기>에서 고른 것은? [3점]

대기 대순환은 세계 여러 지역의 강수량 분포에 큰 영향을 미친다. ㉠ 적도 지역에서는 상승 기류가 탁월하게 발달한다. 이 기류는 고위도 지역으로 이동하다가 남·북위 30° 부근에서 하강한다. 이 하강 기류에 의해 ㉡ 아열대 고압대가 형성되면서 사막이 곳곳에 발달한다. 중위도 지역에서는 저위도와 고위도의 기압 차이와 지구 자전에 의해 탁월풍인 ㉢○○풍이 분다. 극 지역에서는 하강 기류가 형성된 후, 중위도 지역으로 바람이 불어 나가면서 중위도 탁월풍대와 만나 ㉣□□ 전선을 형성한다.

<보 기>

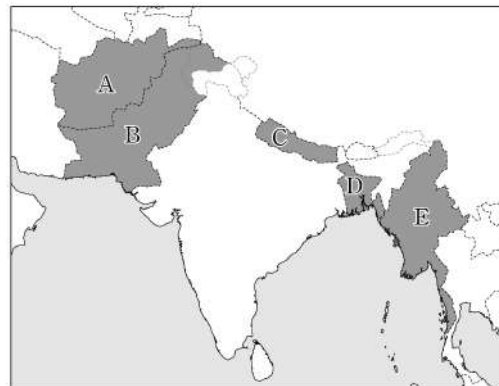
- ㉠. ㉠은 한랭 건조한 기단과 온난 습윤한 기단이 만나기 때문이다.
- ㉡. ㉡의 대표적인 사례로 몽골의 고비 사막을 들 수 있다.
- ㉢. ㉢이 안데스 산맥을 넘어 형성한 비그늘 지역에 파타고니아 사막이 발달하였다.
- ㉣. ㉣의 형성 지역은 극 고압대 지역에 비해 강수량이 많다.

- ① ㉠, ㉡    ② ㉠, ㉢    ③ ㉡, ㉣    ④ ㉠, ㉣    ⑤ ㉢, ㉣

9. (가)에 해당하는 국가를 지도의 A~E에서 고른 것은? [3점]

<2024년 세계 기상 기구(WMO) 달력 표지>

간지스강 하류에 위치한 (가)에서는 홍수가 자주 발생한다. 이 사진은 간지스강으로 유입하는 브라마푸트라강의 유역에서 발생한 홍수 피해 모습을 보여 주고 있다. 하천의 범람으로 인해 침수된 집 안에서 망연자실한 채 창밖을 응시하는 여인의 모습이 안타까움을 더해 준다.



- ① A
- ② B
- ③ C
- ④ D
- ⑤ E

10. (가), (나)에 해당하는 국제 환경 협약/협정으로 옳은 것은?

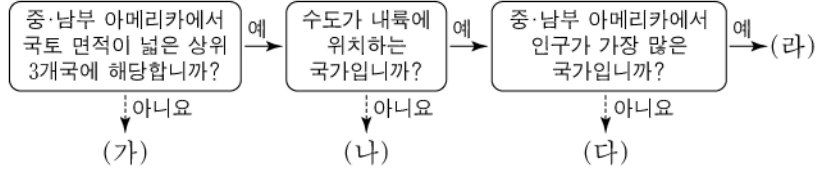
- 국제 사회는 폐기물 및 기타 물질의 투기로 인한 해양 오염을 방지하기 위한 목적으로 1972년에 (가)을 체결하였다. 최근 인간 활동이 해양 환경에 미치는 영향이 증가하면서 다시 이 협약/협정의 중요성이 부각되고 있다.
- 국제 사회는 습지를 보호하기 위해 1971년에 (나)을 체결하였다. 최근 한 저명한 학술지는 바다와 숲은 물론 습지도 이산화탄소의 주요 저장고라는 연구 결과를 발표하면서 습지의 중요성을 재차 강조하였다.

(가)                      (나)

- ① 런던 협약      람사르 협약
- ② 런던 협약      바젤 협약
- ③ 파리 협정      런던 협약
- ④ 파리 협정      람사르 협약
- ⑤ 람사르 협약      바젤 협약



11. (가)~(라) 국가에 대한 설명으로 옳은 것만을 <보기>에서 있는 대로 고른 것은? (단, (가)~(라)는 각각 멕시코, 볼리비아, 브라질, 아르헨티나 중 하나임.)

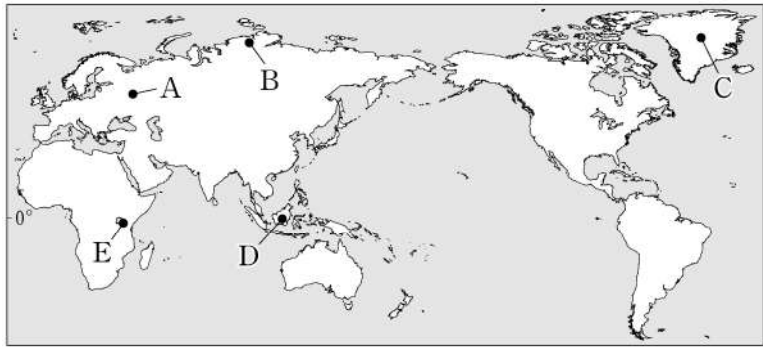


<보 기>

ㄱ. (가)의 수도는 북반구에 위치한다.  
 ㄴ. (나)에서 가장 많이 사용하는 언어는 에스파냐어이다.  
 ㄷ. (다)에는 마킬라도라 산업 지역이 있다.  
 ㄹ. (나)는 (라)보다 자국 내 총인구에서 백인이 차지하는 비율이 높다.

- ① ㄱ, ㄴ                      ② ㄱ, ㄷ                      ③ ㄴ, ㄹ  
 ④ ㄱ, ㄷ, ㄹ                ⑤ ㄴ, ㄷ, ㄹ

12. 지도의 A~E 지역에 대한 설명으로 옳은 것은? [3점]



- ① A에는 카사바, 양 등의 식량 작물이 주로 재배된다.  
 ② B에는 소와 양의 기업적 방목이 이루어진다.  
 ③ C에는 타이가라고 불리는 침엽수림대가 넓게 분포한다.  
 ④ D의 전통 가옥은 이동식 천막인 유르트이다.  
 ⑤ E의 사바나에는 사자, 얼룩말 등의 야생 동물이 서식한다.

13. (가)~(다) 국가에 대한 설명으로 옳은 것만을 <보기>에서 있는 대로 고른 것은?

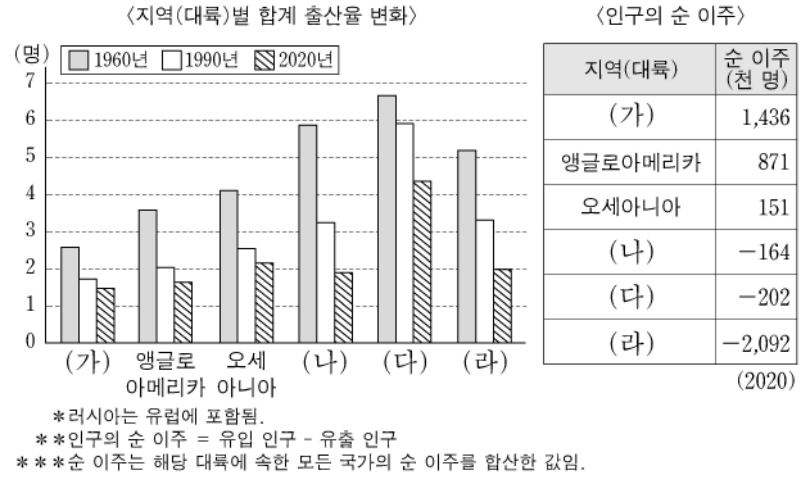
내륙국은 영토가 바다와 접하지 않은 국가이다. 유럽에는 면적이 좁은 내륙국이 많다. 대표적인 국가는 바티칸과 산마리노를 들 수 있으며, 이들 국가는 (가)에 둘러싸여 있다. 산지에 위치한 안도라는 (나)을/를 포함한 두 국가와 국경을 접하고 있는 내륙국이다. 또한 룩셈부르크는 벨기에, (나), (다)에 둘러싸인 내륙국이다. (다)은/는 룩셈부르크를 포함한 4개의 내륙국 및 그 외의 국가들과 국경을 접하고 있다.

<보 기>

ㄱ. 벨기에의 왈로니아(왈롱) 지역에서는 (나)어를 주로 사용한다.  
 ㄴ. (나)에는 로렌 공업 지역이, (다)에는 루르 공업 지역이 있다.  
 ㄷ. (가)와 (다)는 국경을 접하고 있다.

- ① ㄱ                      ② ㄷ                      ③ ㄱ, ㄴ                      ④ ㄴ, ㄷ                      ⑤ ㄱ, ㄴ, ㄷ

14. 다음 자료의 (가)~(라)에 대한 설명으로 옳은 것만을 <보기>에서 있는 대로 고른 것은? (단, (가)~(라)는 각각 라틴 아메리카, 아시아, 아프리카, 유럽 중 하나임.) [3점]

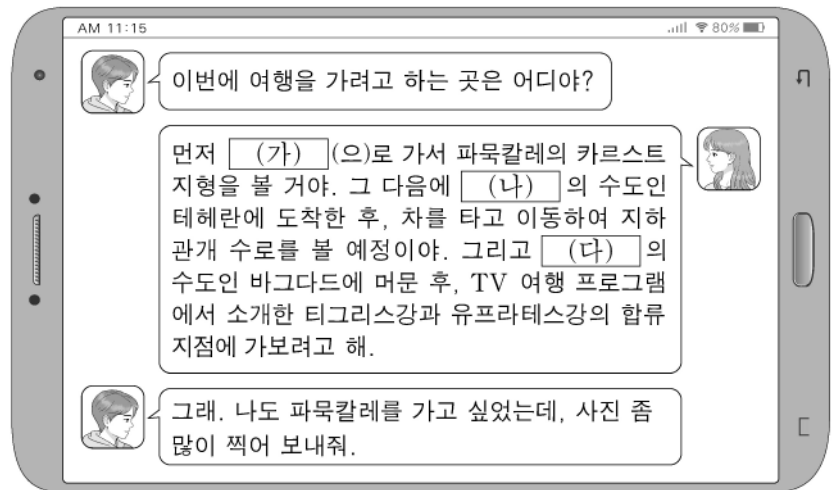


<보 기>

ㄱ. (다)에는 전 세계에서 인구가 가장 많은 국가가 있다.  
 ㄴ. 2020년 기준 (가)는 (나)보다 인구가 많다.  
 ㄷ. (라)는 (다)보다 인구 밀도가 높다.  
 ㄹ. 1960년 합계 출산율은 아프리카 > 라틴 아메리카 > 아시아 순으로 높다.

- ① ㄱ, ㄴ                      ② ㄱ, ㄷ                      ③ ㄷ, ㄹ  
 ④ ㄱ, ㄴ, ㄹ                ⑤ ㄴ, ㄷ, ㄹ

15. 다음은 여행 계획에 관한 두 학생 간 대화의 일부이다. (가)~(다) 국가에 대한 설명으로 옳은 것만을 <보기>에서 있는 대로 고른 것은?



<보 기>

ㄱ. (가)는 시아파보다 수니파의 신자가, (나)는 수니파보다 시아파의 신자가 많다.  
 ㄴ. (나)는 (다)보다 국토 면적이 좁다.  
 ㄷ. (가)와 (다)는 모두 지중해 연안에 위치한다.

- ① ㄱ                      ② ㄴ                      ③ ㄱ, ㄷ                      ④ ㄴ, ㄷ                      ⑤ ㄱ, ㄴ, ㄷ

# 4 (세계지리)

# 사회탐구 영역

16. 다음 글의 (가), (나)에 해당하는 국가를 지도의 A~E에서 고른 것은?

○ (가) 은/는 석유 수출국 기구(OPEC) 회원국이며 나이저강의 삼각주를 따라 원유와 가스의 생산량과 수출량이 많다. 그러나 원유를 정제하는 시설과 기술이 부족하여 석유 제품을 수입하고 있다.  
 ○ (나) 은/는 콩고 민주 공화국과 국경을 접하고 있으며, 아프리카의 주요 구리 생산국이다. 이 국가와 짐바브웨의 접경 지대에는 경치가 아름다운 잠베지강과 폭포가 있다.



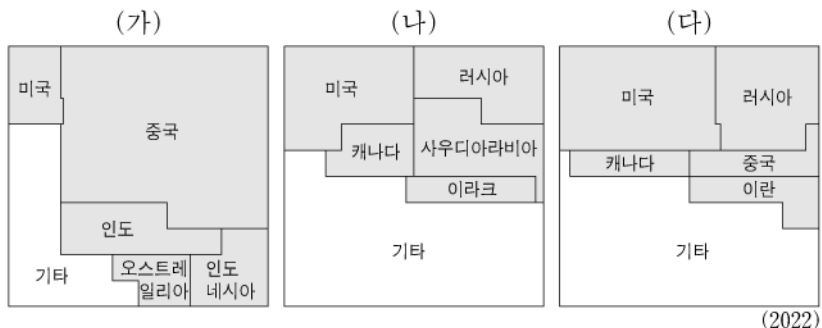
- |   |     |     |
|---|-----|-----|
|   | (가) | (나) |
| ① | A   | C   |
| ② | A   | D   |
| ③ | B   | C   |
| ④ | B   | D   |
| ⑤ | B   | E   |

17. (가)~(라) 종교에 대한 설명으로 옳은 것은? (단, (가)~(라)는 각각 불교, 이슬람교, 그리스도교, 힌두교 중 하나임.) [3점]

문순 아시아의 일부 지역에서는 다양한 종교로 인한 갈등과 분쟁이 발생하고 있다. 대표적인 사례로는 필리핀과 스리랑카를 들 수 있다. 필리핀은 국민의 대부분이 (가) 신자이다. 반면 미나오섬의 모로족은 대부분 (나) 를 믿으며 필리핀으로부터 분리·독립을 요구하고 있다. 또한 스리랑카에서는 (다) 신자가 대다수인 신타리족과 (라) 신자가 대다수인 타밀족 간 분쟁이 발생하였다.

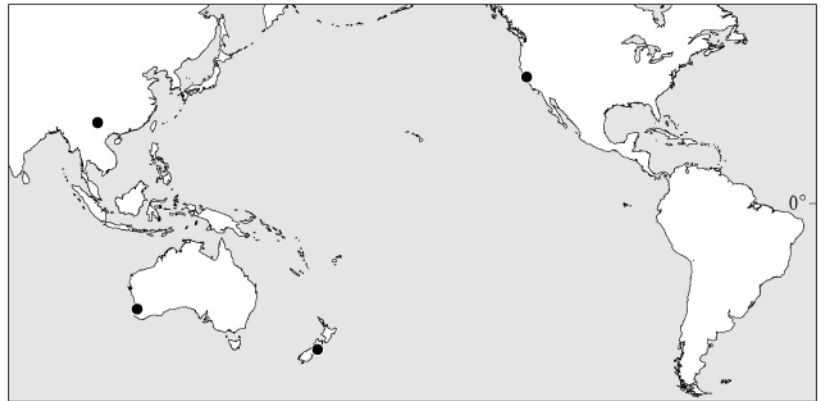
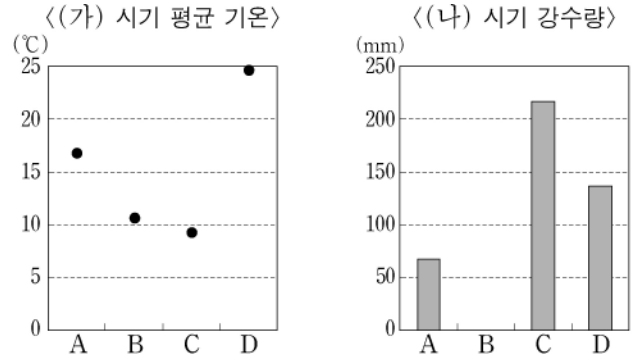
- (가)는 여러 신을 믿는 다신교이다.
- (다)의 대표적인 종교 경관은 모스크이다.
- (라)의 기원지는 서남아시아이다.
- 사하라 이남 아프리카에서는 (가)의 신자가 (나)의 신자보다 많다.
- 전 세계의 신자는 (다)가 (라)보다 많다.

18. 다음 자료는 1차 에너지원별 주요 생산국의 생산 비율을 나타낸 것이다. (가)~(다)에 대한 설명으로 옳은 것은? (단, (가)~(다)는 각각 석유, 석탄, 천연가스 중 하나임.) [3점]



- (가)는 최대 생산국과 최대 수출국이 동일하다.
- (나)는 산업용보다 수송용으로 소비되는 비율이 높다.
- (가)는 (나)보다 세계 1차 에너지 소비량에서 차지하는 비율이 높다.
- (나)는 (다)보다 상용화된 시기가 늦다.
- (가)~(다) 중 (다)는 연소 시 대기 오염 물질 배출량이 가장 많다.

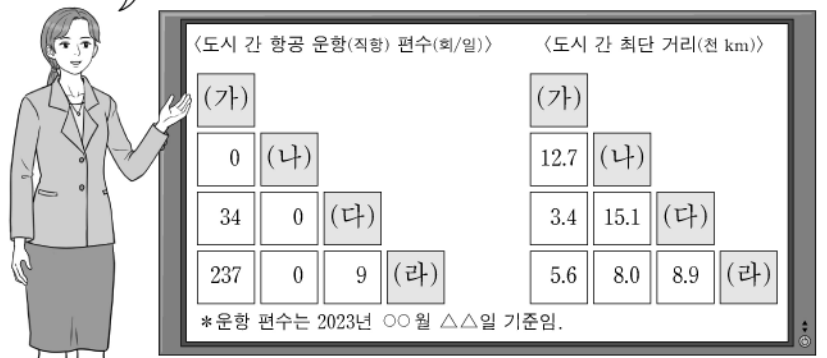
19. 그래프는 지도에 표시된 네 지역의 기후 특성을 나타낸 것이다. A~D 지역에 대한 설명으로 옳은 것은? (단, (가), (나) 시기는 각각 1월, 7월 중 하나임.)



- A는 북반구, B는 남반구에 위치해 있다.
- C는 지중해성 기후 지역, D는 서안 해양성 기후 지역에 속한다.
- A~D 중 여름 강수 집중률이 가장 높은 지역은 C이다.
- (가) 시기에 C는 D보다 정오의 태양 고도가 높다.
- (나) 시기에 A는 B보다 낮 길이가 길다.

20. 다음은 '세계 도시'의 학습 장면이다. 학생의 발표 내용 중 가장 적절한 것은?

(가)~(라)의 항공 운항 자료를 통해 추론한 내용을 발표해 볼까요?  
 단, (가)~(라)는 각각 뉴욕, 다카, 런던, 멕시코시티 중 하나입니다.



- 갑: (나)는 라틴 아메리카에서 인구가 가장 많은 도시예요.
- 을: (다)는 세계 도시 체계에서 최상위 계층의 도시예요.
- 병: (라)는 국제 연합(UN)의 본부가 위치하며, 세계 금융의 중심지예요.
- 정: (가)와 (다)는 모두 해당 국가의 수도예요.
- 무: 멕시코시티~런던의 최단 거리는 다카~런던의 최단 거리보다 길어요.

\* 확인 사항  
 ○ 답안지의 해당란에 필요한 내용을 정확히 기입(표기)했는지 확인 하시오.