

# 사회탐구 영역(동아시아사)

제 4 교시

성명

수험 번호


제 [ ] 선택

1

1. (가)에 들어갈 유물로 가장 적절한 것은?

**체험 활동 학습지**

동아시아의 신석기 문화를 찾아서



△△ 박물관

**활동하기**


동아시아 각 지역의 신석기 시대를 대표하는 유물에는 어떤 것이 있을까요? 각 전시관을 둘러보고, 학습지의 빈칸에 알맞은 유물 사진 스티커를 붙여 보세요.

한국관




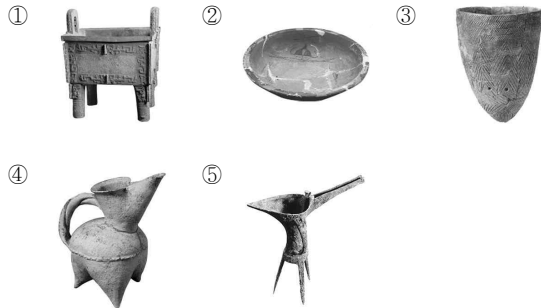
(가)

중국관



일본관





2. 교사의 질문에 대한 학생의 답변으로 가장 적절한 것은? [3점]

자료는 이 국가 율령 중 신기령의 일부입니다. 다이호 율령 등을 통해 중앙 집권 체제를 확립하기 위해 노력했던 이 국가의 통치 체제에 대해 말해볼까요?

신기관에서 천지의 신령에게 제사를 지낼 때에는 모두 신기령에 의거한다.  
...(중략)...  
신령에게 지내는 여러 제사에 필요한 물품과 제사의 방법 및 순서 등은 별식(別式)에 따른다.



- ① 천호제를 운영하였어요.
- ② 정당성 아래 6부를 설치하였어요.
- ③ 행정을 총괄하는 태정관을 두었어요.
- ④ 남면관제와 북면관제를 시행하였어요.
- ⑤ 국가감을 설치하여 인제를 양성하였어요.

3. (가) 국가에 대한 설명으로 옳은 것은?

- (가)의 목특이 고후\*를 모욕하는 편지를 보냈다. 격노한 고후는 목특을 공격하려 하였으나 여러 장군들이 “고조께서도 과거 평성에서 목특에게 포위당해 곤욕을 치렀습니다.”라며 만류하자 공격할 생각을 포기하고 그들과 화친하였다.
- 한의 조정에서는 위청에게 기병 3만을 이끌고 출병하도록 하였다. 한의 군사들이 한밤중에 진격해 (가)의 우현왕을 포위하자 깜짝 놀란 우현왕이 도망쳤다. 광성 등이 수백 리를 추격하였으나 우현왕을 따라잡지 못했다.

\* 고후: 한 고조의 황후

- ① 팔기제를 운영하였다.
- ② 슈고가 치안을 담당하였다.
- ③ 토번 등에 화번 공주를 보냈다.
- ④ 화폐를 반량전으로 통일하였다.
- ⑤ 최고 통치자를 선우라고 하였다.

4. 자료에 나타난 인구 이동을 알아보기 위한 탐구 활동으로 가장 적절한 것은?

- 660년 당의 유인원이 사비성에 남아 성을 지켰고, 신라 왕자 김인태가 그를 보좌하였다. 당의 소정방은 백제의 왕과 왕족, 신료 93명, 백성 1만 2천 명을 데리고 사비에서 배를 타고 당으로 돌아갔다. - 『삼국사기』 -
- 663년 일본 수군과 좌평 여자신을 비롯한 백제 백성들이 배를 띄워 비로소 일본으로 향하였다....(중략)... 665년 백제 백성 400여 명을 근강국 신진군에 살게 하였다. - 『일본서기』 -

- ① 슈인장이 발급된 목적을 파악한다.
- ② 천계령이 해제된 배경을 알아본다.
- ③ 오닌의 난이 발생한 원인을 살펴본다.
- ④ 정화의 함대가 이동한 경로를 조사한다.
- ⑤ 나·당 연합군의 활동이 끼친 영향을 분석한다.

5. (가) 국가에 대한 설명으로 옳은 것은? [3점]

아구다가 황제라 칭하고, 이름을 민(旻)으로 바꾸었으며, 국호를 (가) (이)라 하였다....(중략)... 그 땅이 서쪽은 바로 거란이요, 남쪽은 바로 우리 고려 땅이어서 예전에 거란과 우리 조정을 섬겼다. 때면 조회하러 올 때마다 담비 가죽, 좋은 말 등을 예물로 바쳤으며, 우리 조정에서도 은 등을 후히 주었다.

- ① 남송을 정복하였다.
- ② 맹안·모극제를 시행하였다.
- ③ 고려에 다루가치를 파견하였다.
- ④ 수도를 평성에서 휘양으로 옮겼다.
- ⑤ 후진으로부터 연운 16주를 할양받았다.

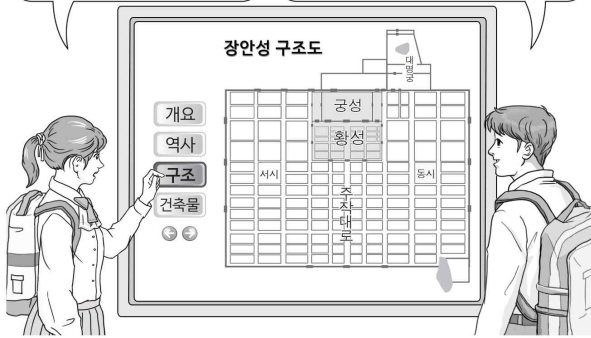
## 2 (동아시아사)

# 사회탐구 영역

6. 밑줄 친 '이 왕조'에 대한 설명으로 옳은 것은? [3점]

이 왕조의 수도 장안에는 북쪽에 황제가 거처하는 궁성이 있었으며, 황성의 남쪽으로 주작대교가 뻗어 있었어.

맞아. 주작대교를 중심으로 양쪽에 동시와 서시가 있었어. 특히 서시는 발해, 일본 등에서 온 사신과 상인이 방문하는 국제 시장으로 유명했다고 해.




- ① 북주와 북제로부터 조공을 받았다.
- ② 거란(요)과 전연의 맹약을 맺었다.
- ③ 일본 열도의 야마타이국과 교류하였다.
- ④ 베트남 북부에 안남 도호부를 설치하였다.
- ⑤ 호라즘을 무너뜨리고 동서 교역로를 장악하였다.

7. (가)에 대한 설명으로 옳은 것만을 <보기>에서 고른 것은?

**POSTCARD**

○○에게

나는 지금 필리핀 마닐라에 와 있어. 이곳은 16세기 후반 에스파냐가 점령을 한 이후 갈레온 무역의 중심지가 되었어. 에스파냐인은 갈레온 선을 이용하여 멕시코의 아카풀코에서 마닐라로 매년 대량의 (가) 을/를 가져와



중국의 비단, 도자기 등과 교환했다고 해. 이에 따라 막대한 양의 (가) 이/가 중국으로 흘러 들어갔지. 갈레온 선이 그려진 우표를 붙여서 보낼게.

친구 △△가

< 보기 >

- ㄱ. 삼포 왜란이 일어나는 원인이 되었다.
- ㄴ. 일조편법에서 세금 납부에 이용되었다.
- ㄷ. 정덕전에서 생산된 대표적인 품목이었다.
- ㄹ. 이와미 광산의 개발로 생산량이 증가하였다.


- ① ㄱ, ㄴ    ② ㄱ, ㄷ    ③ ㄴ, ㄷ    ④ ㄴ, ㄹ    ⑤ ㄷ, ㄹ

8. (가) 승려에 대한 설명으로 옳은 것은? [3점]

정관 6년(864), 엔랴쿠사의 좌주 전등대법사 (가) 이/가 죽었다. 그는 승화 5년(838) 일본에서 출발하여 중국 양저우로 갔다. ...(중략)... 승화 6년 일본 사신이 조공을 마치고 일본으로 돌아가려 하여 그도 배에 올랐다. ...(중략)... 갑자기 역풍이 일어나 등주 근방에 도착하여 장보고가 세운 적산법화원에서 겨울을 지냈다. 승화 7년 장보고 세력의 도움으로 여러 성지를 순례하였다. ...(중략)... 승화 14년 봄에 배를 타고 일본으로 돌아왔다.

- ① 왕오천축국전을 집필하였다.
- ② 쇼토쿠 태자의 스승이 되었다.
- ③ 입당구법순례행기를 저술하였다.
- ④ 대당서역기라는 여행기를 남겼다.
- ⑤ 참선을 중시하는 선종을 창시하였다.

9. (가) 학문이 동아시아 각국에 끼친 영향으로 적절하지 않은 것은?




이 비석은 일본 에히메현 오즈시에 세워진 홍유 강항 현창비이다. 이 비석의 안내문에는 정유재란 때 일본으로 끌려간 강항이 후지와라 세이카가 『사서오경왜훈』을 저술하는 데 도움을 준 사실 등이 기록되어 있다. 이를 통해 주희가 집대성한 (가) 이/가 일본에서 발전하는 데 강항이 기여하였음을 알 수 있다.

- ① 한국-서원이 세워지고 향약이 만들어졌다.
- ② 한국-장자 중심으로 제사를 지내는 것이 보편화되었다.
- ③ 중국-대의명분론과 화이관이 강조되었다.
- ④ 중국-성리대전이 편찬되어 널리 보급되었다.
- ⑤ 일본-헤이조교가 건설되었다.

10. 밑줄 친 '이 조약'에 대한 설명으로 옳은 것은?

풍자화로 보는 동아시아사



이 그림은 아편을 둘러싼 영국과 청의 갈등 상황을 풍자한 것이다. 영국은 청과의 무역으로 발생한 적자를 만회하기 위해 인도산 아편을 청에 밀매하였다. 청이 임칙서를 통해 아편을 몰수하고 단속을 강화하자 영국은 전쟁을 일으켰고, 전쟁에서 패한 청은 영국과 이 조약을 체결하여 상하이 등 5개 항구를 개방하였다.

- ① 홍콩 할양 규정이 포함되었다.
- ② 외국군의 베이징 주둔을 허용하였다.
- ③ 크리스티교 포교의 자유를 인정하였다.
- ④ 수신사(修信使) 파견의 계기가 되었다.
- ⑤ 미국의 중재로 포츠머스에서 조인되었다.

11. 밑줄 친 '이 시기'의 동아시아 문화에 대한 설명으로 옳은 것은?

동아시아 고전 시 읽기 해제

남성관희자(南城觀戲子)  
-강이천-

들리는 소리 남문 밖에  
무대를 가설하고 한판 논다는구나.  
노인 부축하고 어린애 끌고들  
구경꾼 구름처럼 몰리는데  
...(중략)...

사람들 웅기증기 성을 쌓고  
일만 눈 한 곳에 쏟렸더라.

---

**해제** 이 시는 판소리, 탈춤, 산대놀이 등의 공연이 성행하였던 이 시기에 쓰인 것으로, 한성의 남대문 밖에서 공연된 산대놀이를 보기 위해 수많은 사람들이 몰려든 상황을 묘사하고 있다.

- ① 한국 - 제왕운기가 저술되었다.
- ② 중국 - 대안탐이 축조되었다.
- ③ 중국 - 제자백가가 출현하였다.
- ④ 일본 - 우키요에가 유행하였다.
- ⑤ 일본 - 야요이 문화가 시작되었다.

12. 밑줄 친 '합작'이 이루어진 시기를 연표에서 옳게 고른 것은?

[3점]

이곳은 중국 국민당 제1차 전국 대표 대회가 열렸던 장소입니다. 이 대회에서 소련의 지원 아래 중국 공산당과 연합하여, 군벌의 지배와 제국주의 침략으로부터 중국을 구해야 한다는 내용의 선언이 채택되었습니다. 이로써 중국 국민당과 중국 공산당의 합작이 성립되었습니다.



	(가)	(나)	(다)	(라)	(마)
--	-----	-----	-----	-----	-----

중화민국 수립    5·4 운동    만주 사변    중·일 전쟁 발발    국·공 내전 발발    중화인민공화국 수립

- ① (가)    ② (나)    ③ (다)    ④ (라)    ⑤ (마)

13. 자료에 나타난 전쟁이 동아시아에 끼친 영향으로 옳은 것은?

조정에서는 김류와 최명길 등이 의논하여 사신을 심양에 보내 오랑캐의 뜻을 탐지하도록 하였다. 홍타이지가 사신에게 이르기를 “조선이 동짓달 25일 안으로 왕자와 대신을 보내지 않으면, 내가 동쪽으로 진격하리라.”라고 하였다. ...(중략)... 14일 오후에 임금이 탄 가마가 급하게 남대문을 나서 강화도로 향하는데, 적장 마부대가 기병 수백을 거느리고 이미 홍제월에 다다랐으므로 ...(중략)... 임금의 가마는 수구문으로 나와서 남한산성으로 들어갔다.

- ① 조선에서 인조반정이 일어났다.
- ② 조선에서 북벌론이 대두되었다.
- ③ 명에서 토목보의 변이 발생하였다.
- ④ 일본에서 산킨코타이제가 시행되었다.
- ⑤ 일본에서 가마쿠라 막부가 쇠퇴하였다.

14. 밑줄 친 '이 막부' 시기 동아시아 각국의 경제 상황으로 옳지 않은 것은? [3점]

이 메달은 일본과 네덜란드의 통상 400주년을 기념하여 발매된 것으로, 네덜란드 상관이 있었던 데지마가 표현되어 있다. 데지마는 이 막부가 크리스토프 금지령을 내린 이후 포르투갈인을 격리하기 위해 나가사키에 조성한 인공섬이다. 그러나 포르투갈인들이 포교 활동을 계속하자 이 막부는 그들을 추방하고 네덜란드 상관을 데지마로 옮겼다. 이후 이곳은 네덜란드와의 무역 거점이자 서양 문물을 접하는 창구로 활용되었다.

- ① 한국 - 대동법이 시행되었다.
- ② 중국 - 강남 지역에 시진이 발달하였다.
- ③ 중국 - 휘저우 상인이 전국적으로 활약하였다.
- ④ 일본 - 조카마치가 발전하였다.
- ⑤ 일본 - 중국과 감합 무역을 실시하였다.

15. 밑줄 친 '이 조약'이 체결된 배경으로 가장 적절한 것은? [3점]

러시아는 만주에 눈독을 들이고 있었으니 동아시아로 통하는 길을 탐냈던 것이다. 오랫동안 계획을 품고 있다가 이 조약의 체결로 일본이 랴오둥반도를 획득했다는 말을 듣고 크게 노하여 독일, 프랑스와 연계하여 일본에게 랴오둥반도는 결코 할양받을 수 없다고 힐책하였다. 결국 일본은 랴오둥반도를 돌려주게 되었다.

- ① 일본이 국제 연맹을 탈퇴하였다.
- ② 청이 일본과의 전쟁에서 패배하였다.
- ③ 관보이찌우가 동유 운동을 전개하였다.
- ④ 고종이 러시아 공사관으로 거처를 옮겼다.
- ⑤ 일본이 루거우차오 사건을 빌미로 중국을 침략하였다.

## 4 (동아시아사)

## 사회탐구 영역

16. (가) 도시에 대한 설명으로 옳은 것은?



그림에는 [가]에 세워진 기차역에 증기 기관차가 들어오는 모습이 표현되어 있다. 도쿄와 [가]을/를 연결하는 일본 최초의 철도가 개통된 이후, 일본 정부는 철도 확장에 힘써 산업 발전을 이루고자 하였다. 한편 [가]에서는 서양과의 문물 교류와 관련된 정보를 제공하기 위해 일본 최초의 일본어 일간지가 창간되기도 하였다.

- ① 초량 왜관이 설치되었다.
- ② 경사 대학당이 세워졌다.
- ③ 금릉 기기국이 설립되었다.
- ④ 윤봉길의 홍커우 공원 의거가 일어났다.
- ⑤ 미·일 수호 통상 조약으로 개항되었다.

17. (가), (나) 시기 사이에 있었던 사실로 옳은 것은? [3점]

(가)

**동아시아사 신문**

**애치슨 라인 발표**

미국의 애치슨 국무장관은 이틀 전 열린 상원 외교 위원회의 비밀 회의에서 미국의 태평양 방위선은 타이완의 동쪽에 있으며, 일본-오키나와-필리핀을 연결하는 선이라고 말하였다.

(나)

**동아시아사 신문**

**정전 협정 조인**

유엔군 대표와 공산측 대표는 27일 10시에 정전 협정을 조인하였으며, 22시에 전투가 정지되었다. 이로써 북한군의 남침으로 시작된 전쟁이 약 3년여 만에 그치게 되었다.

- ① 장면 정부가 수립되었다.
- ② 문화 대혁명이 시작되었다.
- ③ 미드웨이 해전이 일어났다.
- ④ 미·일 안보 조약이 체결되었다.
- ⑤ 베트남 민주 공화국이 수립되었다.

18. 밑줄 친 '반란'에 대한 설명으로 옳은 것은?

홍수전, 양수청이 이끄는 반란의 무리들은 모든 토지를 천왕의 토지라 말하고, 모든 재화는 천왕의 재화라 말하고 있다. 또한 예수의 주장만을 퍼뜨려 중국의 수천 년 예의와 인륜, 시서(詩書)를 모두 일거에 없애려 하고 있다.

- ① 청 왕조 타도를 내세웠다.
- ② 3·1 운동의 영향을 받았다.
- ③ 신축 조약이 체결되는 계기가 되었다.
- ④ 잡지 신청년을 통해 유교를 비판하였다.
- ⑤ 일본의 21개조 요구 철회를 주장하였다.

19. (가) 군대에 대한 설명으로 옳은 것만을 <보기>에서 고른 것은?

[3점]

○○ 기념관

기념관 소개  
관람 안내  
전 시  
소 장 품

이것은 중국 국민당의 지원을 받아 충칭에서 대한민국 임시 정부가 창설한 [가]의 대원 중이다. 대원증에는 김구 주석과 대원의 증명 사진, 대원 철칙, 대원 성명 등이 기재되어 있다.

< 보 기 >

- ㄱ. 우창 봉기를 일으켰다.
- ㄴ. 양세봉의 지휘를 받았다.
- ㄷ. 조선 의용대의 일부를 받아들였다.
- ㄹ. 미국과 연합하여 국내 진공 작전을 추진하였다.

- ① ㄱ, ㄴ    ② ㄱ, ㄷ    ③ ㄴ, ㄷ    ④ ㄴ, ㄹ    ⑤ ㄷ, ㄹ

20. (가)에 들어갈 내용으로 가장 적절한 것은? [3점]

**수행 평가 보고서**

3학년 ○반 이름: ○○○

1. 탐구 주제: [가]

2. 수집 자료: 전체 농가 중 인민공사에 가입한 농가 비율

\* 출처: 『중화인민공화국사』, 2016.

- ① 도이머이 정책의 성과
- ② 55년 체제의 붕괴 원인
- ③ 10월 유신 선포의 영향
- ④ 대약진 운동의 전개 과정
- ⑤ 한·일 기본 조약 체결의 결과

※ 확인 사항

답안지의 해당란에 필요한 내용을 정확히 기입(표기)했는지 확인하십시오.