

제 4 교시

탐구 영역(사회)

성명		수험번호					1		
----	--	------	--	--	--	--	---	--	--

1. 그림은 어느 동양 사상가와의 가상 인터뷰이다. 이 사상가의 입장으로 가장 적절한 것은?

- ① 인간다움의 실현은 효의 실천 없이도 가능하다.
- ② 효의 실천을 위해 물질적인 봉양을 배제해야 한다.
- ③ 동물을 잘 보살피는 것과 효는 본질적으로 동일하다.
- ④ 존경하는 마음을 바탕으로 부모를 정성껏 섬겨야 한다.
- ⑤ 부모에 대한 경제적 지원만으로 충분히 효를 실천할 수 있다.

2. 다음 글의 입장만을 <보기>에서 고른 것은?

해외로 이주한 한인들은 타국에서 차별과 편견으로 인해 힘겨운 시간을 보냈다. 우리는 이러한 한인들의 삶을 돌이켜 보아 우리 사회의 이주민들을 차별해서는 안 된다. 그리고 이주민들의 문화를 존중하고 그들의 입장을 이해하여 그들과 조화롭게 살기 위해 노력해야 한다.

- < 보 기 > —
- ㄱ. 이주민이 겪는 차별을 불가피한 것으로 보아야 한다.
 - ㄴ. 이주민의 고통에 대해 역지사지의 자세를 가져야 한다.
 - ㄷ. 이주민을 배려하고 우리 사회의 구성원으로 포용해야 한다.
 - ㄹ. 이주민의 문화를 우리 문화에 흡수하여 동화시켜야 한다.

- ① ㄱ, ㄴ ② ㄱ, ㄷ ③ ㄴ, ㄷ ④ ㄴ, ㄹ ⑤ ㄷ, ㄹ

3. 갑, 을의 입장으로 가장 적절한 것은?

- ① 갑: 과학 기술은 윤리적 판단으로부터 자유롭지 않다.
- ② 갑: 과학 기술에는 주관적인 가치가 개입될 수밖에 없다.
- ③ 을: 과학 기술은 선하지도 악하지도 않은 수단일 뿐이다.
- ④ 을: 과학 기술은 인류의 보편적 가치 실현에 기여해야 한다.
- ⑤ 갑, 을: 과학 기술을 가치 중립적인 것으로 보아야 한다.

4. 다음 가상 편지에서 강조하는 내용으로 가장 적절한 것은? [3점]

○○에게
 자네가 불의한 법을 따라야 할지 고민한다고 들었네. 내 생각을 말하자면 우리는 먼저 인간이어야 하고, 그다음에 국민이어야 하네. 법에 대한 존경심보다는 먼저 정의에 대한 존경심을 기르는 것이 바람직하지. 불의한 법이 그대에게 불의를 저지르게 한다면, 분명히 말하지만 그 법을 어기도록 하게. …(후략)

- ① 개인의 이익 실현을 목표로 삼아 법을 어겨야 한다.
- ② 준법의 의무가 불의한 법에 대한 저항보다 중요하다.
- ③ 국가의 법이 정의롭지 않더라도 비판을 해서는 안 된다.
- ④ 시민은 정의 실현을 위해 국가의 모든 법을 지켜야 한다.
- ⑤ 정의를 실현하려는 양심에 따라 불의한 법에 저항해야 한다.

5. 갑, 을의 입장에 대한 설명으로 가장 적절한 것은? [3점]

갑: 지금까지 철새와 습지를 보호하느라 주민이 재산권을 제대로 행사할 수 없었다. 자연은 인간의 도구이며, 인간의 욕구 충족에 기여하는 한에서 가치를 지닐 뿐이다. 저수지를 개발하여 주민의 욕구를 충족시켜야 한다.
 을: 저수지 개발 사업이 진행되면 습지의 생태계가 파괴되어 철새가 서식할 곳이 없어진다. 자연은 인간을 위한 도구가 아니며, 그 자체로 가치를 지닌다. 따라서 인간은 자연과 조화롭게 관계를 맺고 살아야 한다.

- ① 갑은 자연이 인간보다 본질적으로 우위에 있다고 본다.
- ② 갑은 인간의 이익을 위해 자연을 이용할 수 없다고 본다.
- ③ 을은 자연을 인간의 복지를 위해 지배해야 한다고 본다.
- ④ 을은 자연이 지닌 본래적 가치를 인정해야 한다고 본다.
- ⑤ 갑, 을은 인간과 자연을 상호 무관한 독립적 존재라고 본다.

6. 다음 신문 칼럼의 입장으로 가장 적절한 것은?

○○신문 ○○○○년 ○○월 ○○일

칼럼

오늘날 많은 사람들이 친구를 사귀는 데 어려움을 겪고 있다. 이와 관련하여 유교 사상의 가르침에 주목할 필요가 있다. 유교 사상에 따르면 마음을 알아주는 사람을 친구로 사귀어야 한다. 진정한 사귀는 겉모습만을 가지고 사귀는 것이 아니라 서로의 마음을 이해하는 것에서 비롯되기 때문이다. 또한 친구는 상대방에게 선한 행동을 권해야 한다. 친구 간의 진심 어린 충고는 성숙한 인격을 형성하는 데 도움이 되기 때문이다. …(후략)

- ① 친구를 사귄 때에는 외모를 가장 중시해야 한다.
- ② 친구가 도덕적 선택을 할 수 있도록 도와야 한다.
- ③ 진정한 친구라면 잘못을 보아도 모른 체해야 한다.
- ④ 친구 관계를 유지하기 위해 어떠한 비판도 삼가야 한다.
- ⑤ 도덕적인 행동을 하려면 친구의 조언은 항상 무시해야 한다.

7. 다음은 어느 선언문의 일부이다. 이 조항들이 강조하는 내용만을 <보기>에서 고른 것은? [3점]

제1조 모든 사람은 태어날 때부터 자유로우며 똑같은 존엄과 권리를 가진다. 사람은 이성과 양심을 타고났으므로 서로를 형제애의 정신으로 대해야 한다.

제29조 모든 사람은 자신의 권리와 자유를 온전하게 행사할 수 있다. 그러나 이를 제한할 수 있는 예외적인 경우가 있다. 즉, 타인의 권리와 자유를 보장하기 위한 법률과 사회 질서와 사회 전체의 복리를 위한 법률에 의해서 권리와 자유를 제한할 수 있다.


— < 보 기 > —

ㄱ. 개인의 권리뿐만 아니라 공동체의 이익도 중요하다.
 ㄴ. 인간은 천부적으로 동등한 권리를 부여받은 존재이다.
 ㄷ. 어떠한 경우에도 개인의 권리와 자유를 제한할 수 없다.
 ㄹ. 누구에게나 적용되는 보편적인 가치는 존재하지 않는다.


- ① ㄱ, ㄴ ② ㄱ, ㄷ ③ ㄴ, ㄷ ④ ㄴ, ㄹ ⑤ ㄷ, ㄹ

8. 다음 자료의 (가) 국가에 대한 옳은 설명만을 <보기>에서 고른 것은? [3점]

(가) 국가의 화폐



(가) 국가의 우편엽서



사자, 코뿔소, 코끼리 등의 동물이 그려져 있다. 킬리만자로산을 배경으로 다양한 야생 동물이 그려져 있다.


— < 보 기 > —

ㄱ. 사바나라 불리는 열대 초원이 펼쳐져 있다.
 ㄴ. 오아시스 주변에서 대추야자를 재배하는 주민이 많다.
 ㄷ. 야생 동물 및 독특한 생태계를 활용한 관광 산업이 발달했다.
 ㄹ. 난방 열기로 지반이 녹는 것을 막기 위해 지은 고상 가옥을 볼 수 있다.


- ① ㄱ, ㄴ ② ㄱ, ㄷ ③ ㄴ, ㄷ
- ④ ㄴ, ㄹ ⑤ ㄷ, ㄹ

9. 다음 자료의 ㉠~㉣ 중 옳은 설명만을 고른 것은? [3점]


관광 스탬프로 보는 대한민국 방방곡곡




㉠ 화강암이 지하수에 녹아 형성된 동굴



㉡ 파도의 퇴적작용으로 형성된 모래사장



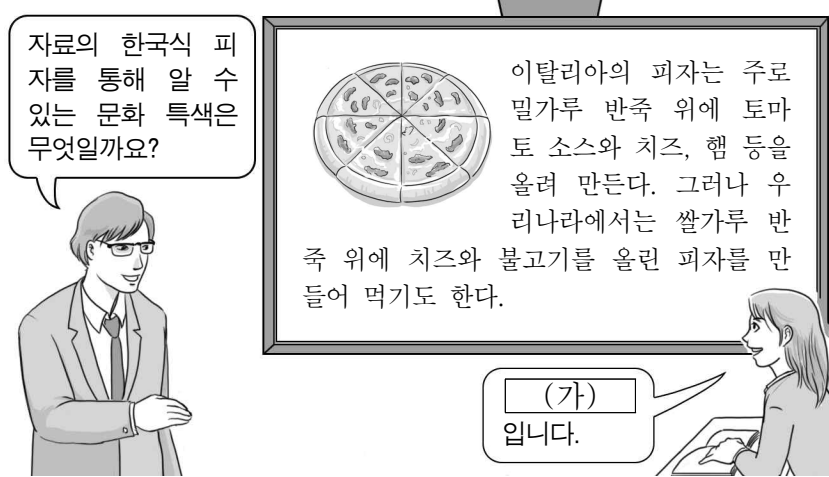
㉢ 용암이 분출하여 형성된 화산체



㉣ 하천의 침식작용으로 형성된 삼각주

- ① ㉠, ㉡ ② ㉠, ㉣ ③ ㉡, ㉣
- ④ ㉢, ㉣ ⑤ ㉣, ㉣

10. 다음은 수업 장면의 일부이다. (가)에 들어갈 용어로 가장 적절한 것은?



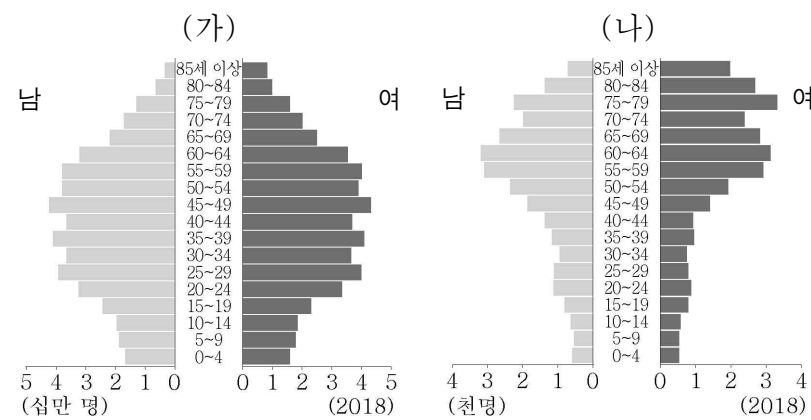
- ① 문화 융합 ② 문화 갈등 ③ 문화 동화
- ④ 문화 소멸 ⑤ 문화 획일화

11. 다음 자료는 여행 기록의 일부이다. 여행 지역의 기후 특색으로 옳은 것은?



- ① 눈이 많이 내린다.
- ② 일 년 내내 기온이 높다.
- ③ 강수량보다 증발량이 많다.
- ④ 사계절의 변화가 뚜렷하다.
- ⑤ 연중 편서풍의 영향을 받는다.

12. 그래프는 두 지역의 인구 구조를 나타낸 것이다. (가), (나) 지역에 대한 설명으로 옳지 않은 것은? (단, (가), (나)는 각각 서울특별시, 의성군 중 하나임.) [3점]



- ① (가)는 노년층에서 여자가 남자보다 많다.
- ② (나)는 노년층 인구가 유소년층 인구보다 많다.
- ③ (가)는 (나)보다 고령화 현상이 심하다.
- ④ (가)는 (나)보다 3차 산업 종사자 수 비율이 높다.
- ⑤ (가)는 서울특별시, (나)는 의성군이다.

13. 다음 자료의 (가) 자연재해에 대한 옳은 설명만을 <보기>에서 고른 것은?



< 보 기 >

ㄱ. 강한 바람과 많은 비를 동반한다.
ㄴ. 기후적 요인에 의한 자연재해이다.
ㄷ. 건물의 내진 설계를 통해 피해를 줄일 수 있다.
ㄹ. 판의 경계에 위치한 국가에서 발생 빈도가 높다.

- ① ㄱ, ㄴ ② ㄱ, ㄷ ③ ㄴ, ㄷ
- ④ ㄴ, ㄹ ⑤ ㄷ, ㄹ

14. 다음 자료의 (가) 현상이 심화될 경우 우리나라에서 나타날 수 있는 변화로 가장 적절한 것은? [3점]

< (가) (으)로 몸살을 앓는 지구촌 >



- ① 가을 단풍 시작일이 빨라질 것이다.
- ② 침엽수림 분포 면적이 넓어질 것이다.
- ③ 한류성 물고기의 어획량이 늘어날 것이다.
- ④ 여름철 열대야의 발생 일수가 증가할 것이다.
- ⑤ 사과 재배에 적합한 지역이 남쪽으로 이동할 것이다.

15. 밑줄 친 부분에 부각된 문화의 속성에 대한 진술로 옳은 것은?

청소년들 사이에 말 줄이기 풍조가 확산되고 있다. ‘팬아저(팬 아니어도 저장)’, ‘할말하않(할말은 많지만 하지 않음)’ 등이 대표적이며, ‘ㅇㅇ(응응)’, ‘ㅇㅈ(인정)’처럼 초성만 쓰는 경우도 흔하다. 이와 같은 말 줄이기 풍조의 확산은 인터넷 및 스마트폰의 보급 등과 연관되어 있다. 말을 줄여 쓰면 이동 중에도 메시지를 손쉽게 입력할 수 있고, 무선 통신 데이터 사용량도 줄일 수 있기 때문이다.

- ① 문화는 후천적인 학습을 통해 습득된다.
- ② 문화는 한 사회의 구성원들에게 공유된다.
- ③ 위 세대의 문화는 아래 세대에 전승되어 발전한다.
- ④ 문화는 한 사회와 다른 사회를 구별하는 기준이 된다.
- ⑤ 한 문화 요소의 변동은 다른 문화 요소의 변동을 초래한다.

16. 표는 A국의 노인을 대상으로 실시한 설문 조사 결과이다. 이에 대한 갑~무의 진술 중 가장 적절한 것은? [3점]

<본인이 현재 겪고 있는 가장 큰 어려움은 무엇입니까?>

(단위: %)

경제적 어려움	건강 문제	소일거리 없음	외로움	기타	계
43	27	20	7	3	100

- ① 갑: 노인들을 위한 일자리를 늘릴 필요가 있어.
- ② 을: 경제적 문제보다 정서적 고립을 호소하는 노인들이 많아.
- ③ 병: 국가보다는 가정의 노인 부양 기능을 강화할 필요가 있어.
- ④ 정: 노인층의 봉사 활동 참여는 노인들이 겪는 어려움을 덜어주지 못해.
- ⑤ 무: 건강한 노후를 보낼 수 있도록 법정 정년 나이를 앞당기는 것이 가장 시급해.

17. 밑줄 친 ㉠ ~ ㉣에 대한 설명으로 옳은 것은?

○○○ 방송국이 내놓은 펭귄 캐릭터 ㉠ △△는 당당함과 따뜻함을 두루 갖추었다는 평을 들으며 많은 인기를 얻고 있다. ㉡ 인터넷에는 ㉢ 팬들이 직접 제작한 엄청난 양의 관련 영상이 올라와 있으며, 관련 상품은 순식간에 매진된다. 이 같은 인기로 힘입어 △△는 온라인 채널을 넘어 타 방송사 ㉣ 텔레비전 프로그램까지 진출하였다.


- ① ㉠은 뉴 미디어를 통해서만 접할 수 있다.
- ② ㉡은 정보를 일방향으로 전달하는 매체이다.
- ③ ㉢은 대중이 문화의 소비자인 동시에 생산자가 될 수 있음을 보여준다.
- ④ ㉣은 청각 정보만을 전달하는 매체이다.
- ⑤ ㉣은 ㉡에 비해 정보의 신속한 전달이 용이한 매체이다.

18. 다음 글의 밑줄 친 ㉠ ~ ㉣에 대한 설명으로 옳은 것은?

○○아파트 주민들은 바로 앞 공사 현장에서 발생하는 소음과 먼지로 인해 많은 불편을 겪고 있다. 이에 대해 시공사인 ㉠ △△건설에 여러 차례 항의해 보았지만 바뀐 것은 없었다. 결국 ㉡ ○○아파트 주민들은 △△건설에 손해 배상을 청구하는 ㉢ 민사 소송을 제기하였다.

- ① ㉠은 원고, ㉡은 피고이다.
- ② ㉢은 ㉠과 달리 변호인의 도움을 받을 수 있다.
- ③ ㉣은 ㉠에 의해 기본적 권리를 침해당했다고 주장하고 있다.
- ④ ㉣의 목적은 ㉠의 유죄 여부를 가리는 것이다.
- ⑤ ㉠은 ㉡과 달리 ㉢에서 판결에 불복하더라도 항소할 수 없다.

19. 밑줄 친 상황이 가져올 과자 시장의 변화로 옳은 것은? (단, 과자는 수요 및 공급의 법칙을 따른다.) [3점]



균형 가격

균형 거래량

- | | | |
|---|----|--------|
| ① | 상승 | 증가 |
| ② | 상승 | 감소 |
| ③ | 상승 | 알 수 없음 |
| ④ | 하락 | 증가 |
| ⑤ | 하락 | 감소 |

20. 밑줄 친 ㉠ ~ ㉣에 대한 설명으로 옳지 않은 것은? [3점]

㉠ ○○○구청장은 넘쳐 나는 재활용 쓰레기를 처리하기 위해 ○○○구 외곽에 위치한 △△동에 자원 재활용 센터를 건립하겠다고 발표했다. 그러자 ㉡ △△동 주민들은 센터 건립의 필요성은 인정하면서도 자기 지역에 건립을 반대하며 ○○○구청장과 ㉢ ○○○구 의회 의원들에게 민원을 넣고 있다.

- ① ㉠은 지방 자치 단체의 집행 기관이다.
- ② ㉡은 집회를 통해 의사를 표출할 수 있다.
- ③ ㉢의 행위는 지역 이기주의 논란을 일으킬 수 있다.
- ④ ㉣은 지방 자치 단체의 예산안을 심의한다.
- ⑤ ㉠은 ㉢과 달리 지역 주민들의 선거에 의해 선출된다.

* 확인 사항

○ 답안지의 해당란에 필요한 내용을 정확히 기입(표기)했는지 확인하십시오.

고1 서울특별시교육청 주관 2020학년도 3월 고1 전국연합학력평가 답안지

4 교시 한국사/탐구영역 (사회/과학)

학교	고등학교
성명	

* 문제지 표지에 안내된 필적 확인 문구를 아래 '필적 확인란'에 정자로 반드시 기재하여야 합니다.

필적 확인란	
-----------	--

수험번호			
학교번호	학년	반	번호
	1		
0 0 0 0	0 0 0 0	0 0 0 0	0 0 0 0
1 1 1 1	0 1 1 1	1 1 1 1	1 1 1 1
2 2 2 2	2 2 2 2	2 2 2 2	2 2 2 2
3 3 3 3	3 3 3 3	3 3 3 3	3 3 3 3
4 4 4 4	4 4 4 4	4 4 4 4	4 4 4 4
5 5 5 5	5 5 5 5	5 5 5 5	5 5 5 5
6 6 6 6	6 6 6 6	6 6 6 6	6 6 6 6
7 7 7 7	7 7 7 7	7 7 7 7	7 7 7 7
8 8 8 8	8 8 8 8	8 8 8 8	8 8 8 8
9 9 9 9	9 9 9 9	9 9 9 9	9 9 9 9

감독관 확인	(서명 또는 날인)	반, 번호 등의 표기가 정확한지 반드시 확인 후 서명 또는 날인
-----------	------------	---

성명 (빈칸없이 왼쪽부터 기재)			
가	나	다	라
아	바	사	자
차	카	타	파
하	차	사	자
가	나	다	라
아	바	사	자
차	카	타	파
하	차	사	자
가	나	다	라
아	바	사	자
차	카	타	파
하	차	사	자
가	나	다	라
아	바	사	자
차	카	타	파
하	차	사	자

* 답안지 작성(표기)은 반드시 검은색 컴퓨터용 사인펜만을 사용하고, 연필 또는 사포 등의 필기구를 절대 사용하지 마십시오.
* 뒷면의 수험생 준수사항을 숙지하여야 하며 이를 준수하지 않을 경우 불이익을 받을 수 있습니다.

한국사	
문번	답란
1	① ② ③ ④ ⑤
2	① ② ③ ④ ⑤
3	① ② ③ ④ ⑤
4	① ② ③ ④ ⑤
5	① ② ③ ④ ⑤
6	① ② ③ ④ ⑤
7	① ② ③ ④ ⑤
8	① ② ③ ④ ⑤
9	① ② ③ ④ ⑤
10	① ② ③ ④ ⑤
11	① ② ③ ④ ⑤
12	① ② ③ ④ ⑤
13	① ② ③ ④ ⑤
14	① ② ③ ④ ⑤
15	① ② ③ ④ ⑤
16	① ② ③ ④ ⑤
17	① ② ③ ④ ⑤
18	① ② ③ ④ ⑤
19	① ② ③ ④ ⑤
20	① ② ③ ④ ⑤

사회	
문번	답란
1	① ② ③ ④ ⑤
2	① ② ③ ④ ⑤
3	① ② ③ ④ ⑤
4	① ② ③ ④ ⑤
5	① ② ③ ④ ⑤
6	① ② ③ ④ ⑤
7	① ② ③ ④ ⑤
8	① ② ③ ④ ⑤
9	① ② ③ ④ ⑤
10	① ② ③ ④ ⑤
11	① ② ③ ④ ⑤
12	① ② ③ ④ ⑤
13	① ② ③ ④ ⑤
14	① ② ③ ④ ⑤
15	① ② ③ ④ ⑤
16	① ② ③ ④ ⑤
17	① ② ③ ④ ⑤
18	① ② ③ ④ ⑤
19	① ② ③ ④ ⑤
20	① ② ③ ④ ⑤

과학	
문번	답란
1	① ② ③ ④ ⑤
2	① ② ③ ④ ⑤
3	① ② ③ ④ ⑤
4	① ② ③ ④ ⑤
5	① ② ③ ④ ⑤
6	① ② ③ ④ ⑤
7	① ② ③ ④ ⑤
8	① ② ③ ④ ⑤
9	① ② ③ ④ ⑤
10	① ② ③ ④ ⑤
11	① ② ③ ④ ⑤
12	① ② ③ ④ ⑤
13	① ② ③ ④ ⑤
14	① ② ③ ④ ⑤
15	① ② ③ ④ ⑤
16	① ② ③ ④ ⑤
17	① ② ③ ④ ⑤
18	① ② ③ ④ ⑤
19	① ② ③ ④ ⑤
20	① ② ③ ④ ⑤