




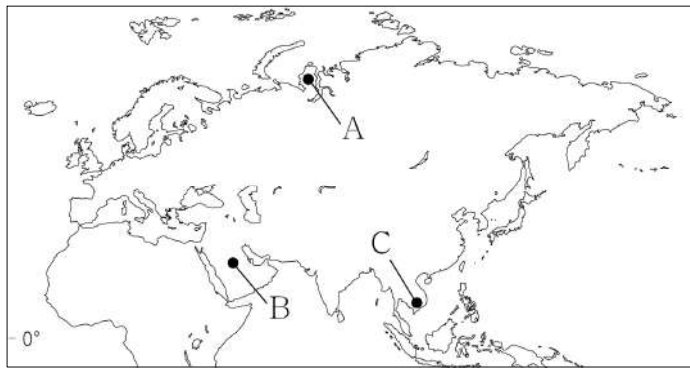
제 4 교시

사회탐구 영역(세계지리)

성명		수험번호				2				제 [] 선택
----	--	------	--	--	--	---	--	--	--	----------

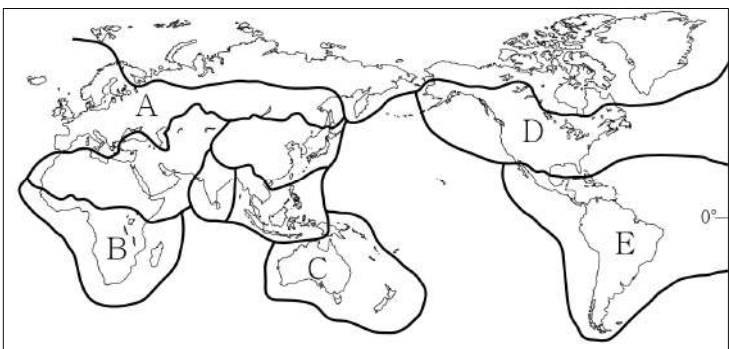
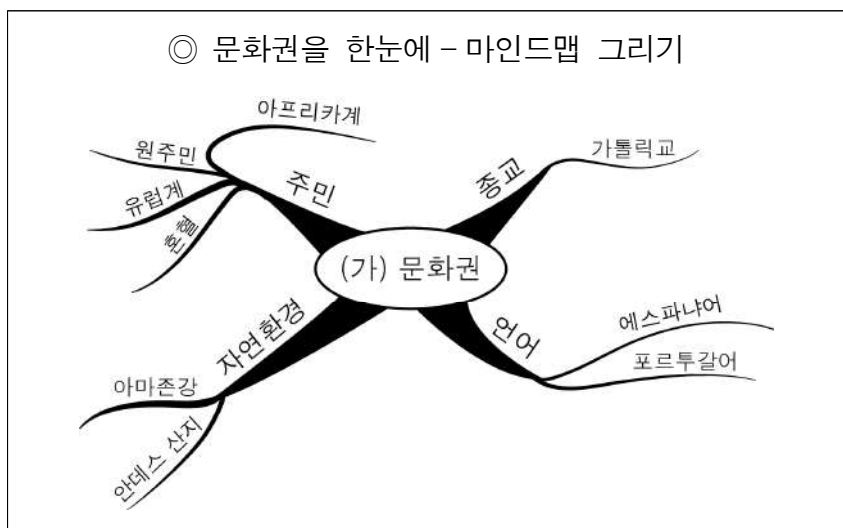
1. 다음 자료는 세 지역의 전통 의복을 소개한 것이다. (가)~(다) 지역을 지도의 A~C에서 고른 것은? [3점]

(가)	(나)	(다)
		
덥고 습한 기후에 적합한 얇고 가벼운 옷	뜨거운 햇볕을 막기 위해 헐렁하게 온몸을 감싸는 옷	혹독한 추위를 견디기 위해 동물의 털 가죽으로 만든 외투



- | | | | | | | | |
|---|-----|-----|-----|---|-----|-----|-----|
| | (가) | (나) | (다) | | (가) | (나) | (다) |
| ① | A | B | C | ② | B | A | C |
| ③ | B | C | A | ④ | C | A | B |
| ⑤ | C | B | A | | | | |

2. (가) 문화권을 지도의 A~E에서 고른 것은?



- ① A ② B ③ C ④ D ⑤ E

3. 다음은 형성 평가지의 일부이다. ㉠~㉡ 중 답이 옳게 표시된 것만을 고른 것은? [3점]

※ 그림은 두 종교의 대표적인 경관이다. (가), (나) 종교에 대한 내용이 맞으면 '예', 틀리면 '아니요'에 ✓표 하시오. (단, (가), (나)는 각각 크리스트교와 힌두교 중 하나임.)



다양한 신의 모습이 조각된 (가)의 사원




십자가와 종탑이 있는 (나)의 사원

- ① (가)는 남부 아시아에서 기원하였다.
예 아니요 ㉠
- ② (가)의 신도들은 성스러운 강에서 몸을 씻는 의식을 한다.
예 아니요 ㉡
- ③ (나)의 신도들은 돼지고기를 금기시한다.
예 아니요 ㉢
- ④ (나)는 주로 유럽, 아메리카 및 오세아니아 지역에서 믿는다.
예 아니요 ㉣

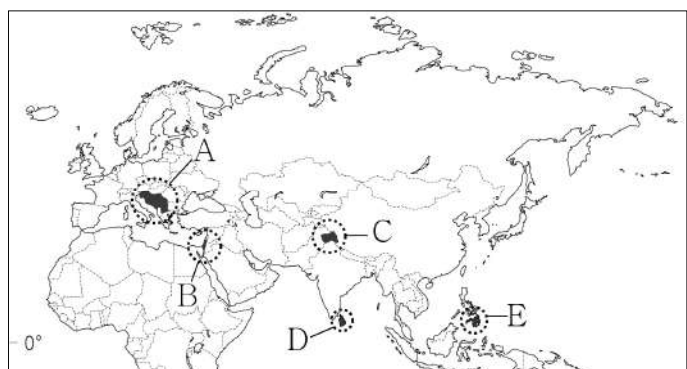
- ① ㉠, ㉡ ② ㉠, ㉢ ③ ㉡, ㉣ ④ ㉡, ㉣ ⑤ ㉢, ㉣

4. 다음 영화의 배경 지역을 지도의 A~E에서 고른 것은?

◎ 영화 소개 자료



영국으로부터 독립하는 과정에서 이슬람교와 힌두교 간의 갈등이 발생한 지역을 배경으로 한 영화로, 길 잃은 모슬렘 소녀가 힌두교 가족을 만나 종교적 갈등을 극복하고 집으로 돌아가는 과정을 휴머니즘으로 표현한 영화이다.



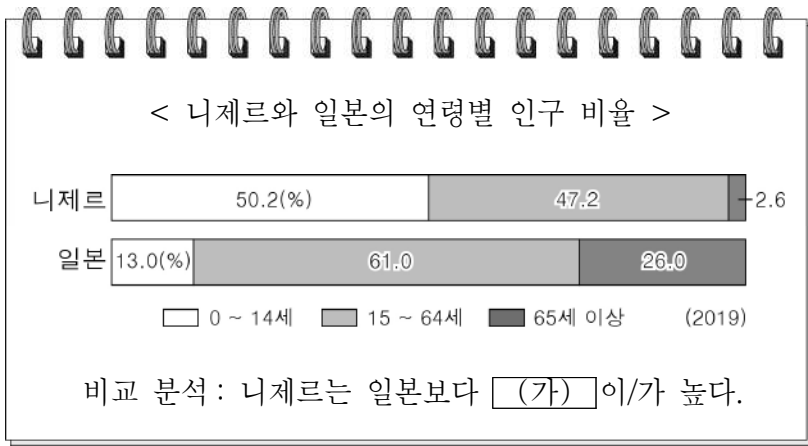
- ① A ② B ③ C ④ D ⑤ E

10. (가), (나)에 들어갈 내용으로 옳은 것은?

- **(가)** 은/는 회원국 간의 노동력, 자본, 상품의 자유로운 이동이 가능한 단일 시장을 형성하고 있다. 다수의 회원국이 단일 통화를 사용하고 있는 지역 경제 협력체이다.
- **(나)** 은/는 1995년 국가 간 무역 장벽을 제거하고 자유 무역을 확대하기 위해 설립된 국제기구이다. 공산품뿐만 아니라 농산물, 서비스 분야에서도 자유 무역을 추구한다.

- | | |
|------------------|-------------|
| (가) | (나) |
| ① 유럽 연합 | 국제 연합 |
| ② 유럽 연합 | 세계 무역 기구 |
| ③ 동남아시아 국가 연합 | 국제 연합 |
| ④ 동남아시아 국가 연합 | 경제 협력 개발 기구 |
| ⑤ 북아메리카 자유 무역 협정 | 세계 무역 기구 |

11. (가)에 들어갈 내용으로 옳지 않은 것은? [3점]



- | | |
|--------------|--------------|
| ① 중위 연령 | ② 인구 부양비 |
| ③ 합계 출산율 | ④ 인구의 자연 증가율 |
| ⑤ 유소년층 인구 비율 | |

12. 다음은 수업 장면의 일부이다. 교사의 질문에 적절하게 대답한 학생만을 고른 것은?

그림은 시기별 교통·통신의 발달을 나타낸 것입니다. 이로 인한 지구촌의 변화 모습을 발표해 볼까요?

과거

현재

다른 국가에서 열리는 스포츠 경기를 실시간으로 볼 수 있어요.

전자 상거래 활성화로 국제 교역량이 감소했어요.

가까운 이웃 나라로의 당일 출장이 가능해졌어요.

항공 교통의 발달로 세계 도시의 영향력이 약화됐어요.

- ① 갑, 을 ② 갑, 병 ③ 을, 병 ④ 을, 정 ⑤ 병, 정

13. (가)에 들어갈 내용으로 가장 적절한 것은? [3점]

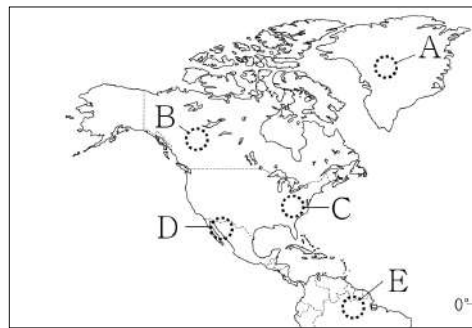
내가 사는 곳은 여름철에는 고온 건조하고 겨울철에는 온난 습윤해요. 그래서 **(가)**

우리 지역은 여름철에는 고온 다습하여 평야에서 벼농사를 지어요.

- ① 여름철에 경사진 밭에서 포도를 재배해요.
- ② 여름철에 플랜테이션 농장에서 커피를 수확해요.
- ③ 겨울철에 눈이 쌓인 벌판에서 순록을 유목해요.
- ④ 겨울철에 이동식 화전 농업으로 카사바를 재배해요.
- ⑤ 일 년 내내 사과리 방문객에게 여행 가이드를 해요.

14. 다음 자료와 관계 깊은 지역을 지도의 A~E에서 고른 것은?

챙이 있는 모자를 뜻하는 '솜브레로'는 그늘을 뜻하는 에스파냐어 '솜브라'에서 파생한 이름이다. 에스파냐에서 전래된 모자는 원래 챙이 짧았다. 하지만 햇살이 강하고 나무도 찾아보기 힘든 척박한 땅에 사는 이 지역 주민들이 얼굴에 그늘을 만들기 위해 챙이 넓은 모양으로 변형한 것이다.



- ① A
- ② B
- ③ C
- ④ D
- ⑤ E

15. (가), (나) 환경 문제에 대한 설명으로 옳지 않은 것은? (단, (가), (나)는 각각 열대림 파괴, 지구 온난화 중 하나임.)

- **(가)** 로 인해 히말라야산맥의 눈과 빙하가 크게 줄어들면서 인근 지역에 큰 문제가 발생했다. 일부 관광지에서는 식수 부족으로 외지인 방문을 꺼리게 되었고, 다른 농촌에서는 수자원 부족으로 작물 재배가 어려워졌다.
- 브라질에서는 경지 개간을 위한 불법 벌목과 방화로 인해 **(나)** 가 지속적으로 발생하고 있다. 최근 발생한 산불로 서울의 15배가 넘는 삼림이 잿더미로 변하였다. 국제 사회에서는 이를 방지하기 위한 다양한 활동을 펼치고 있다.

- ① (가)를 완화하기 위해 파리 협정이 체결되었다.
- ② (가)가 지속되면 해안 저지대의 침수 피해가 증가한다.
- ③ (나)로 인해 생물 종의 다양성이 증가된다.
- ④ (나)는 고위도보다 저위도 지역에서 주로 발생한다.
- ⑤ (나)로 인해 (가)가 심해질 우려가 있다.

16. (가), (나)에 대한 설명으로 옳지 않은 것은? (단, (가), (나)는 각각 석유, 석탄 중 하나임.) [3점]

- 사탕수수와 쌀이 주요 생산물인 가이아나에 (가) 생산의 행운이 찾아왔다. 가이아나는 인근 바다에서 이 자원을 채굴하는데, 국민 1인당 매장량은 주요 생산국인 사우디아라비아보다 많은 것으로 알려져 있다.
- 중국 산둥성에 위치한 (나) 광산이 붕괴되어 다수의 사상자가 발생하였다. 이 자원의 세계 최대 생산국인 중국에서는 광산 매몰 사고가 종종 발생하고 있다.

- ① (가)는 자동차 및 항공기의 주요 연료로 이용된다.
- ② (나)는 산업 혁명 당시 주요 에너지원이었다.
- ③ (가)는 (나)보다 국제 이동량이 많다.
- ④ (나)는 (가)보다 전 세계적으로 많이 소비된다.
- ⑤ (가), (나)는 모두 화석 에너지로 고갈의 우려가 있다.

17. 표에 대한 옳은 분석만을 <보기>에서 고른 것은?

<오스트레일리아의 주요 수출 상대국>

2001년			2018년		
국가	수출액 (억 달러)	비율 (%)	국가	수출액 (억 달러)	비율 (%)
일본	123	19.4	중국	740	29.2
미국	62	9.8	일본	262	10.3
대한민국	49	7.8	대한민국	136	5.4
중국	39	6.2	인도	101	4.0
뉴질랜드	37	5.9	미국	92	3.6

* 수출액이 많은 상위 5개국만 나타냄.

- < 보 기 >
- ㄱ. 미국으로의 수출액은 2001년이 2018년보다 많다.
 - ㄴ. 수출액 상위 5개국이 차지하는 비율은 2001년이 2018년보다 높다.
 - ㄷ. 2001~2018년 인도로의 수출액은 2배 이상 증가하였다.
 - ㄹ. 2001~2018년 수출액 증가 폭은 중국이 일본보다 크다.

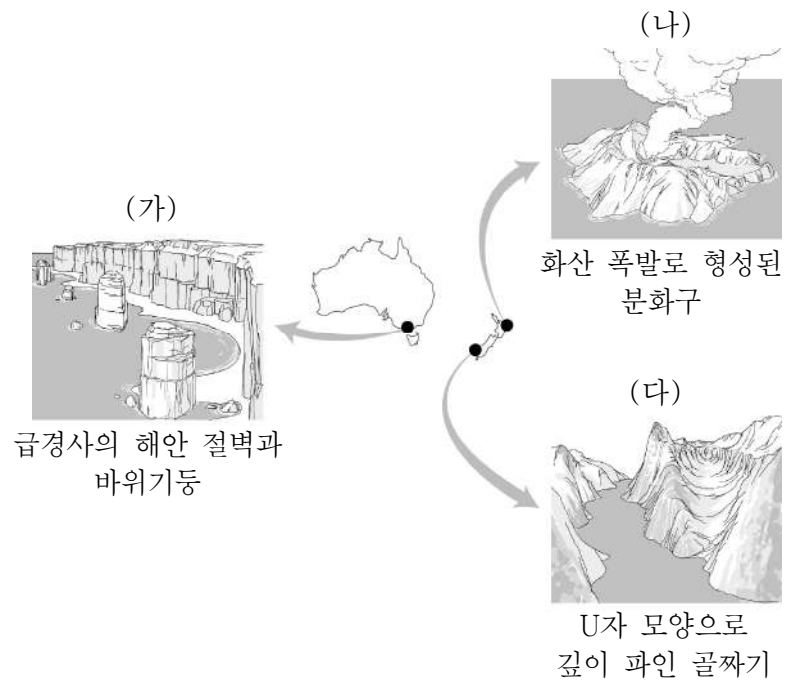
- ① ㄱ, ㄴ ② ㄱ, ㄷ ③ ㄴ, ㄷ ④ ㄴ, ㄹ ⑤ ㄷ, ㄹ

18. (가)~(다)에 들어갈 내용으로 가장 적절한 것은?

다국적 기업은 본부, 연구 개발, 제품 및 부품 생산 등의 기능과 시설을 여러 국가에 분산하여 입지시킨다. 특히 세계적인 다국적 기업의 경우, 본사는 주로 (가)에 입지하고, 연구 개발 시설의 주요 기능은 (나)이며, 생산 공장은 (다)이 풍부한 지역에 입지한다.

- | (가) | (나) | (다) |
|---------------|-----------|----------|
| ① 선진국의 대도시 | 신제품 개발 | 저임금 인력 |
| ② 선진국의 대도시 | 경영 전략 구상 | 전문 경영인 |
| ③ 선진국의 지방 도시 | 신제품 개발 | 전문 경영인 |
| ④ 개발 도상국의 대도시 | 경영 전략 구상 | 고급 기술 인력 |
| ⑤ 개발 도상국의 대도시 | 제품의 대량 생산 | 저임금 인력 |

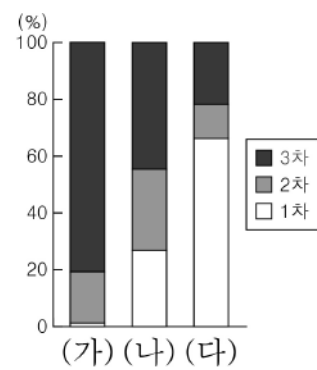
19. (가)~(다)에 대한 설명으로 옳지 않은 것은? [3점]



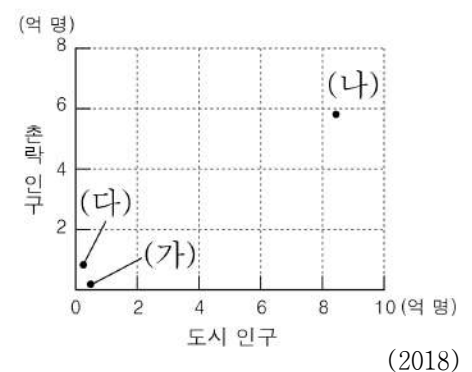
- ① (가)는 주로 파도의 침식 작용으로 형성되었다.
- ② (나)는 지하의 마그마가 분출하여 형성되었다.
- ③ (다)는 주로 빙하의 침식 작용으로 형성되었다.
- ④ 온천 개발은 (나)보다 (가) 주변이 유리하다.
- ⑤ (가), (나), (다)는 모두 관광 자원으로 활용 가능하다.

20. (가)~(다) 국가에 대한 옳은 설명만을 <보기>에서 고른 것은? (단, (가)~(다)는 각각 에티오피아, 영국, 중국 중 하나임.) [3점]

<산업별 종사자 수 비율>



<도시 및 촌락 인구>



- < 보 기 >
- ㄱ. (다)는 1차 산업보다 2차 산업 종사자 수가 많다.
 - ㄴ. (나)는 (가)보다 산업화에 진입한 시기가 이른다.
 - ㄷ. (나)는 (다)보다 도시화율이 높다.
 - ㄹ. (가)는 유럽, (나)는 아시아에 위치한다.

- ① ㄱ, ㄴ ② ㄱ, ㄷ ③ ㄴ, ㄷ ④ ㄴ, ㄹ ⑤ ㄷ, ㄹ

* 확인 사항

○ 답안지의 해당란에 필요한 내용을 정확히 기입(표기)했는지 확인하십시오.

고2 서울특별시교육청 주관
2020학년도 3월 고2 전국연합학력평가 답안지

4 교시 한국사/탐구영역
(사회/과학)

학교	고등학교
성명	

* 문제지 표지에 안내된 필적 확인 문구를 아래 '필적 확인란'에 정자로 반드시 기재하여야 합니다.

필적
확인란

수험번호									
학교번호				학년	반		번호		
				2					
	0	0	0		0	0	0	0	0
1	1	1	1		1	1	1	1	1
2	2	2	2		2	2	2	2	2
	3	3	3		3	3	3	3	3
	4	4	4		4	4	4	4	4
	5	5	5		5	5	5	5	5
	6	6	6		6	6	6	6	6
	7	7	7		7	7	7	7	7
	8	8	8		8	8	8	8	8
	9	9	9		9	9	9	9	9

성명 (빈칸없이 왼쪽부터 기재)									
ㄱ	가	ㄴ	나	ㄷ	다	ㄹ	라	ㅁ	마
ㄴ	나	ㄷ	다	ㄹ	라	ㅁ	마	ㅂ	바
ㄷ	다	ㄹ	라	ㅁ	마	ㅂ	바	ㅅ	사
ㄹ	라	ㅁ	마	ㅂ	바	ㅅ	사	ㅇ	오
ㅁ	마	ㅂ	바	ㅅ	사	ㅇ	오	ㅈ	차
ㅂ	바	ㅅ	사	ㅇ	오	ㅈ	차	ㅊ	카
ㅅ	사	ㅇ	오	ㅈ	차	ㅊ	카	ㅋ	قا
ㅇ	오	ㅈ	차	ㅊ	카	ㅋ	قا	ㆁ	아
ㅈ	차	ㅊ	카	ㅋ	قا	ㆁ	아		
ㅊ	카	ㅋ	قا	ㆁ	아				
ㅋ	قا	ㆁ	아						
ㆁ	아								

감독관
화인

(서명 또는 날인)

반, 번호 및 선택과목
번호 등의 표기가 정확
한지 반드시 확인 후
서명 또는 날인

사회탐구	생활과 윤리(11), 윤리와 사상(12), 한국지리(13), 세계지리(14), 동아시아사(15), 세계사(16), 정치와 법(17), 경제(18), 사회·문화(19)
과학탐구	물리학 I (20), 화학 I (21), 생명과학 I (22), 지구과학 I (23)

* 답안지 작성(표기)은 반드시 검은색 컴퓨터용 사인펜만을 사용하고, 연필 또는 샤프 등의 필기구를 절대 사용하지 마십시오.
* 뒷면의 수험생 준수사항을 숙지하여야 하며 이를 준수하지 않을 경우 불이익을 받을 수 있습니다.

한국사	
문번	답
1	1 2 3 4 5
2	1 2 3 4 5
3	1 2 3 4 5
4	1 2 3 4 5
5	1 2 3 4 5
6	1 2 3 4 5
7	1 2 3 4 5
8	1 2 3 4 5
9	1 2 3 4 5
10	1 2 3 4 5
11	1 2 3 4 5
12	1 2 3 4 5
13	1 2 3 4 5
14	1 2 3 4 5
15	1 2 3 4 5
16	1 2 3 4 5
17	1 2 3 4 5
18	1 2 3 4 5
19	1 2 3 4 5
20	1 2 3 4 5

제 1 선택	
문번	답
1	1 2 3 4 5
2	1 2 3 4 5
3	1 2 3 4 5
4	1 2 3 4 5
5	1 2 3 4 5
6	1 2 3 4 5
7	1 2 3 4 5
8	1 2 3 4 5
9	1 2 3 4 5
10	1 2 3 4 5
11	1 2 3 4 5
12	1 2 3 4 5
13	1 2 3 4 5
14	1 2 3 4 5
15	1 2 3 4 5
16	1 2 3 4 5
17	1 2 3 4 5
18	1 2 3 4 5
19	1 2 3 4 5
20	1 2 3 4 5

제 2 선택	
문번	답
1	1 2 3 4 5
2	1 2 3 4 5
3	1 2 3 4 5
4	1 2 3 4 5
5	1 2 3 4 5
6	1 2 3 4 5
7	1 2 3 4 5
8	1 2 3 4 5
9	1 2 3 4 5
10	1 2 3 4 5
11	1 2 3 4 5
12	1 2 3 4 5
13	1 2 3 4 5
14	1 2 3 4 5
15	1 2 3 4 5
16	1 2 3 4 5
17	1 2 3 4 5
18	1 2 3 4 5
19	1 2 3 4 5
20	1 2 3 4 5

선택
과목
번호

십의
자리

선택과목
번호를
반드시
확인 후
표기
(표기
오류 시
채점 불가)

선택
과목
번호

십의
자리

선택과목
번호를
반드시
확인 후
표기
(표기
오류 시
채점 불가)