

사회탐구 영역(세계지리)

제 4 교시

성명

수험 번호

3

제 [] 선택

1

세계지리

1. 다음은 방송 프로그램 기획서 내용 중 일부이다. (가), (나) 종교에 대한 설명으로 옳은 것은?

TV 속 여행 대결!

기획 의도 두 팀이 서로 다른 종교의 사원을 여행하며 세계의 다양한 종교 경관과 문화 소개

내용 구성

[(가)]의 사원을 여행하는 팀

- ▶ 촬영 국가: 쿠웨이트
- ▶ 촬영 장소: 그랜드 모스크



▶ 촬영 내용: 돔형 지붕과 첨탑, 사원에 장식된 아라베스크 문양을 감상하는 모습 등

[(나)]의 사원을 여행하는 팀

- ▶ 촬영 국가: 인도
- ▶ 촬영 장소: 스리미낙시 사원



▶ 촬영 내용: 수많은 신들의 조각상, 사원 안에서 각자의 신에게 기도하는 신자들의 모습 등

- ① (가)는 돼지고기를 금기시한다.
- ② (가)의 신자들은 윤회 사상을 믿는다.
- ③ (나)의 신자들은 라마단 기간에 낮 동안 금식한다.
- ④ (가)와 (나)의 발상지는 모두 남부 아시아에 위치한다.
- ⑤ (가)는 민족 종교, (나)는 보편 종교이다.

2. 다음 자료의 ㉠ ~ ㉢에 대한 옳은 설명만을 <보기>에서 고른 것은?



<㉠ 요르단의 전통 복장>



<㉡ 모로코의 전통 건축물>



<㉢ 말리의 낙타>



<㉣ 아랍에미리트의 대추야자>


< 보 기 >

㉠. ㉠은 잦은 강수와 강한 일사에 대비한 것이다.
 ㉡. ㉡은 지면의 습기와 해충을 차단하기 위한 고상 가옥이다.
 ㉢. ㉢은 과거 대상(隊商) 무역에 이용되었다.
 ㉣. ㉣은 오아시스 농업이나 관개 농업으로 재배된다.

- ① ㉠, ㉡ ② ㉠, ㉢ ③ ㉡, ㉣ ④ ㉢, ㉣ ⑤ ㉢, ㉣


3. 다음 자료의 (가) ~ (라) 지형에 대한 옳은 설명만을 <보기>에서 고른 것은?

(가)




<본머스의 사빈>

(나)




<에트르타의 시스택과 해식애>

(다)



<필라의 해안 사구>

(라)




<케르키라의 석호>

< 보 기 >

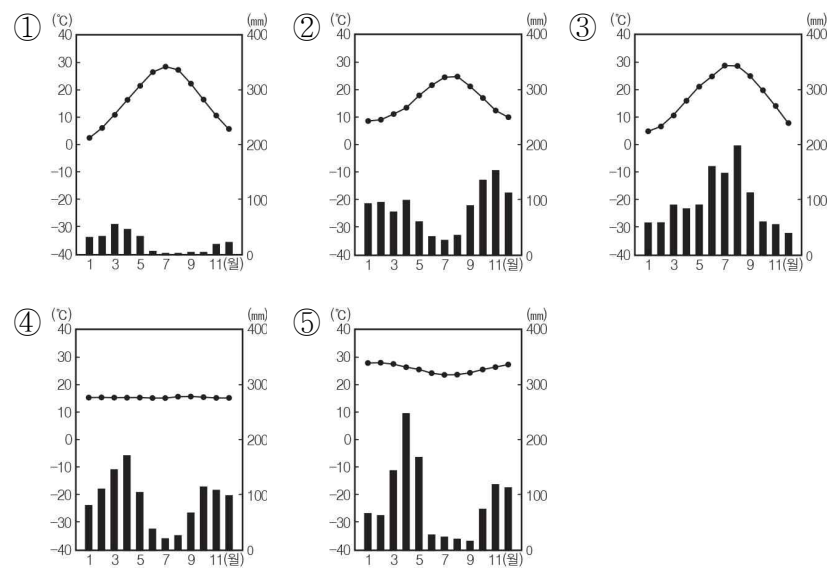
㉠. (가)는 주로 파랑의 침식 작용으로 형성된다.
 ㉡. (나)는 만보다 곳에서 주로 발달한다.
 ㉢. (다)는 바람에 의한 퇴적 작용으로 형성된다.
 ㉣. (라)의 호수 면적은 시간이 지날수록 확대된다.

- ① ㉠, ㉡ ② ㉠, ㉢ ③ ㉡, ㉣ ④ ㉢, ㉣ ⑤ ㉢, ㉣

4. 다음 자료는 세계 음식을 소개하는 방송 프로그램의 내용 중 일부이다. (가) 지역의 기후 그래프로 옳은 것은? [3점]



토마토 소스 파스타는 [(가)] 지역에서 유래 되었다고 합니다. 온대 기후가 나타나는 이 지역은 우리나라와 달리, 여름에는 고온 건조하여 토마토와 올리브가 재배되고 겨울에는 온난 습윤하여 밀이 재배됩니다. 이 작물들을 재료로 하여 토마토 소스 파스타가 만들어졌습니다.




2 (세계지리)

사회탐구 영역

5. 표의 (가) ~ (다)에 해당하는 모식도를 <보기>에서 고른 것은?

지형	형성 과정
(가)	한 방향으로부터 부는 우세한 바람에 의해 날린 모래가 퇴적되어 형성
(나)	유수에 의해 운반되던 물질이 급경사의 골짜기와 완경사의 평지가 만나는 곳에 퇴적되어 형성
(다)	바람을 타고 낮게 이동하는 모래에 의해 바위의 아랫부분이 집중적으로 침식되어 형성



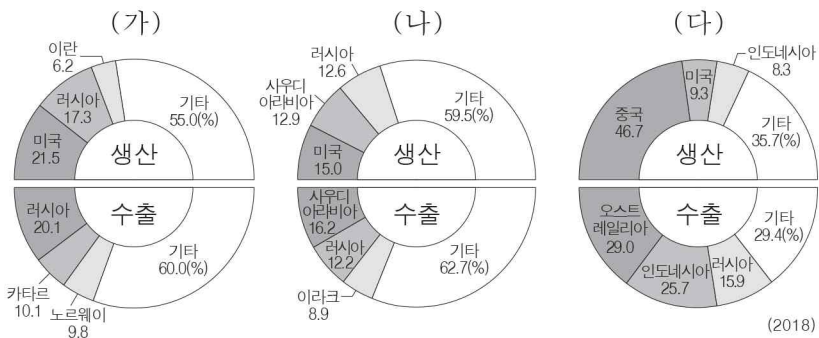
- | | | | | | |
|---------|---------|---------|---------|---------|-----|
| (가) | (나) | (다) | (가) | (나) | (다) |
| ① 가 나 다 | ② 가 나 다 | ③ 나 가 다 | ④ 나 다 가 | ⑤ 다 나 가 | |

6. 다음 글의 (가)에 들어갈 내용으로 가장 적절한 것은?

우리나라 ○○ 자동차 회사는 세계 여러 나라에서 자동차 판매량을 늘리기 위해 (가) 을/를 활용하고 있다. 예를 들어 러시아에서는 기온이 낮은 환경에서도 시동이 잘 걸리게 하는 배터리가 장착된 자동차를 판매한다. 브라질에서는 현지에서 많이 생산하는 바이오 에탄올을 휘발유와 혼용할 수 있는 엔진이 장착된 자동차를 판매한다.

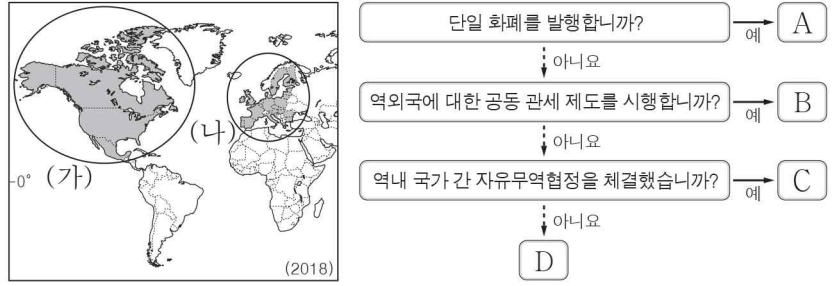
- ① 지리적 특성을 반영한 현지화 전략
- ② 대량 생산을 위한 생산 공정의 표준화
- ③ 제품 경쟁력 강화를 위한 장소 마케팅
- ④ 지역의 이름을 상표화한 지리적 표시제
- ⑤ 생산자의 정당한 이익을 보장하는 공정 무역

7. 그래프는 세 화석 에너지의 국가별 생산량 및 수출량 비중을 나타낸 것이다. (가) ~ (다)에 대한 설명으로 옳은 것은? (단, (가) ~ (다)는 각각 석유, 석탄, 천연가스 중 하나임.) [3점]




- ① (가)는 냉동 액화 기술의 발달로 소비량이 급증하였다.
- ② (나)는 산업 혁명 초기의 주요 에너지 자원이었다.
- ③ (다)는 주로 신생대 제3기층의 배사 구조에 매장되어 있다.
- ④ (가)는 (다)보다 연소 시 대기 오염 물질 배출량이 많다.
- ⑤ (나)는 (다)보다 상용화된 시기가 이른다.

8. 지도에 표시된 (가), (나) 경제 블록의 특징을 그림의 A ~ D에서 고른 것은?



- | | | | | | |
|-------|-------|-------|-------|-------|-----|
| (가) | (나) | (가) | (나) | (가) | (나) |
| ① A B | ② B C | ③ C A | ④ C D | ⑤ D A | |

9. 다음 자료의 밑줄 친 '이곳'의 기후 특징으로 옳은 것은? [3점]

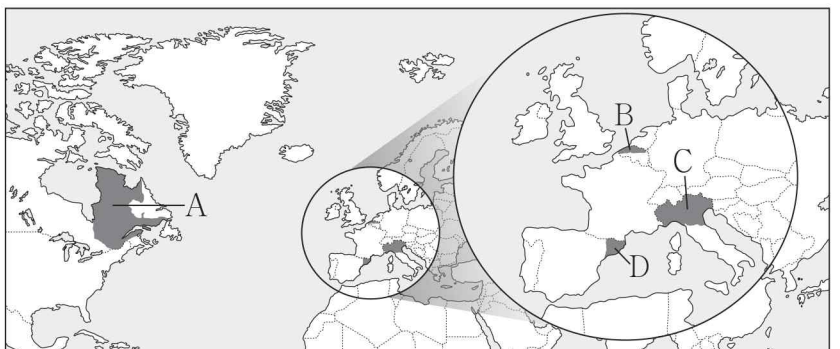


○○ 영화는 아기 사자가 동물들의 왕이 되기까지의 모험을 다루었다. 감독은 아프리카 케냐의 초원에서 작품의 영감을 얻었다고 한다. 이곳은 나무가 드문드문 분포하고 키가 큰 풀이 자라는 넓은 초원으로 사자, 기린, 얼룩말 등의 다양한 야생 동물이 살고 있다. 영화에서도 이러한 경관이 생생하게 담겨 볼거리를 더해 준다.

- ① 연중 봄과 같은 날씨가 나타난다.
- ② 기온의 연교차가 일교차보다 크다.
- ③ 건기와 우기가 뚜렷하게 나타난다.
- ④ 거의 매일 대류성 강수가 발생한다.
- ⑤ 편서풍의 영향을 받아 연중 습윤하다.

10. (가), (나)에 해당하는 지역을 지도의 A ~ D에서 고른 것은? [3점]

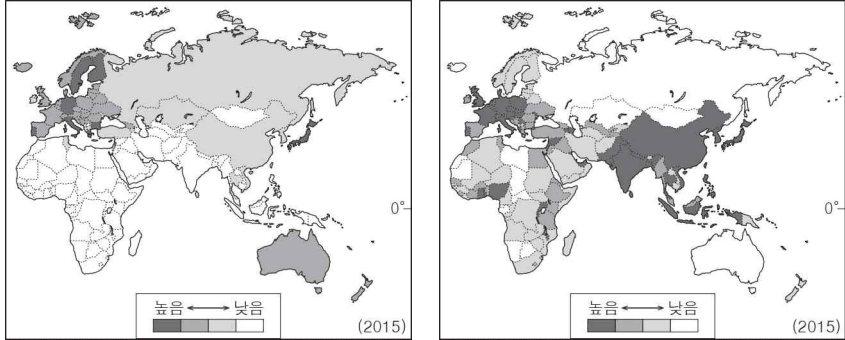
(가) 이 지역은 국가 내 다른 지역과 달리, 많은 주민이 영어보다 프랑스어를 사용하며 프랑스계 문화를 유지하고 있다. 이러한 이유로 1980년과 1995년 두 차례에 걸쳐 분리·독립에 대한 찬반을 묻는 주민 투표가 실시되기도 하였다.
(나) 이 지역은 알프스산맥 남쪽의 포강 유역 일대로, 국가 내 남부 지역과 달리 제조업이 발달하여 경제 수준이 높고, 역사·문화적으로도 다른 전통을 갖고 있다. 이러한 차이로 인해 '파다니아'라는 이름의 국가로 분리·독립하고자 하는 운동이 일어나기도 하였다.



- | | | | | | |
|-------|-------|-------|-------|-------|-----|
| (가) | (나) | (가) | (나) | (가) | (나) |
| ① A B | ② A C | ③ B C | ④ B D | ⑤ C D | |

11. (가), (나) 지도에 해당하는 인구 지표로 옳은 것은?

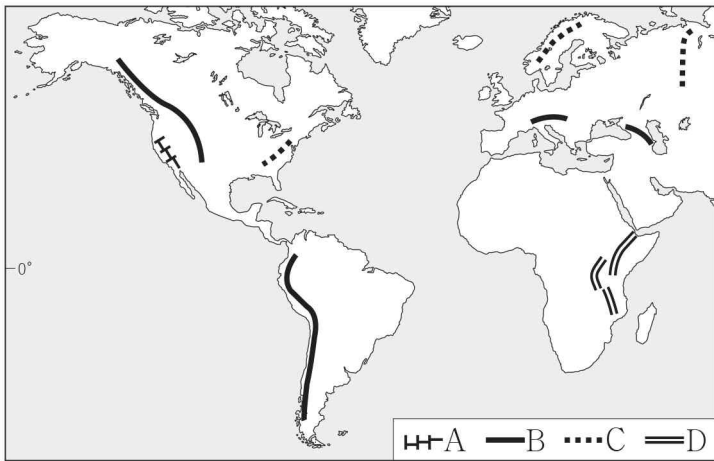
(가) (나)



(가) (나) (가) (나)

- ① 인구 밀도 노년층 비율
- ② 인구 밀도 합계 출산율
- ③ 노년층 비율 인구 밀도
- ④ 노년층 비율 합계 출산율
- ⑤ 합계 출산율 인구 밀도

12. 지도에 표시된 세계의 대지형 A ~ D에 대한 옳은 설명만을 <보기>에서 고른 것은? [3점]



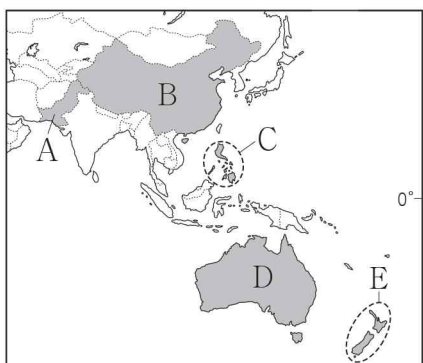
< 보기 >

- ㄱ. A는 고생대에 조산 운동으로 형성된 산지이다.
- ㄴ. B는 판이 서로 충돌하여 형성된 신기 습곡 산지이다.
- ㄷ. C는 두 개의 판이 어긋나 미끄러지는 경계이다.
- ㄹ. D는 대륙판이 갈라지면서 형성된 지구대이다.

- ① ㄱ, ㄴ
- ② ㄱ, ㄷ
- ③ ㄴ, ㄷ
- ④ ㄴ, ㄹ
- ⑤ ㄷ, ㄹ

13. 다음 글의 밑줄 친 '이 국가'를 지도의 A ~ E에서 고른 것은?

이 국가는 19세기에 유럽계 백인들이 본격적으로 이주해 오면서 원주민과 이주민 간 토지를 둘러싼 갈등이 발생하였으나, 20세기 이후 공존을 위한 노력이 이루어지고 있다. 원주민의 언어인 마오리어를 영어와 함께 국가 공용어로 지정하고 화폐, 공공 표지판 등에 마오리어를 공동으로 표기하고 있다. 또한 국가 대표 선수들은 국제 경기 전 원주민의 전통춤인 '하카(haka)'를 추며 결속력을 다지기도 한다.



- ① A
- ② B
- ③ C
- ④ D
- ⑤ E

14. 다음 자료는 온라인 학습 장면의 일부이다. 답글 ㉠ ~ ㉤ 중에서 옳은 내용만을 고른 것은?

세계지리 공부방

두 지도의 특징을 답글로 적어 주세요.

(가) (나)

<알 이드리스의 세계 지도> <메르카토르의 세계 지도>

답글(4)

↳ (가)는 지도의 위쪽이 동쪽입니다. ㉠

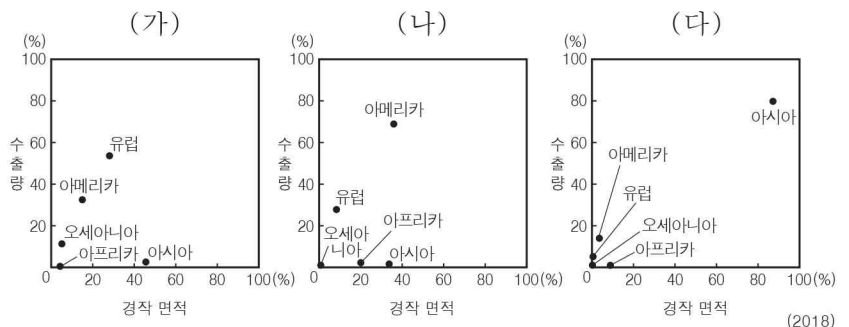
↳ (나)는 나침반을 이용한 항해에 유용합니다. ㉡

↳ (가)는 (나)보다 제작 시기가 이릅니다. ㉢

↳ (가), (나) 모두 아메리카 대륙이 표현되어 있습니다. ㉣

- ① ㉠, ㉡
- ② ㉠, ㉣
- ③ ㉡, ㉣
- ④ ㉡, ㉣
- ⑤ ㉢, ㉣

15. (가) ~ (다) 작물에 대한 설명으로 옳은 것은? (단, (가) ~ (다)는 각각 밀, 쌀, 옥수수 중 하나임.) [3점]



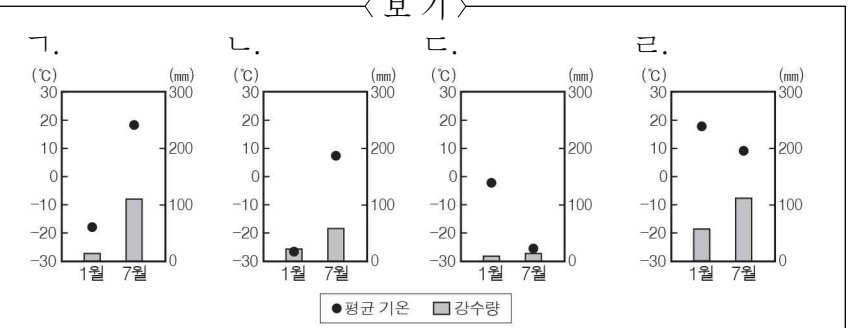
- ① (가)의 기원지는 아메리카이다.
- ② (나)는 대부분 아시아 계절풍 기후 지역에서 재배된다.
- ③ (가)는 (다)보다 국제 이동량이 적다.
- ④ (나)는 (다)보다 가축 사료로 이용되는 비중이 높다.
- ⑤ (다)는 (가)보다 내한성과 내건성이 우수하다.

16. (가), (나) 지역의 기후 그래프를 <보기>에서 고른 것은? [3점]

(가) 침엽수림과 포드졸 토양이 넓게 분포한다. 침엽수림을 활용한 목재·제지 공업이 발달하였고, 추위에 잘 견디는 밀, 호밀, 감자 등의 작물을 재배한다.

(나) 나무가 자라기 어려우며 짧은 여름 동안 작은 풀과 이끼류 등이 자란다. 농업이 거의 불가능하여 주민들은 순록, 바다 표범을 사냥하거나 물고기를 잡으며 살고 있다.

< 보기 >



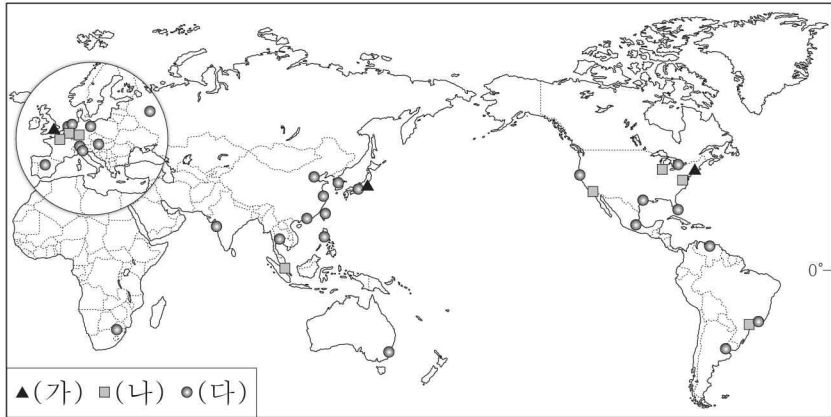
(가) (나) (가) (나) (가) (나)

- ① ㄱ ㄴ
- ② ㄱ ㄷ
- ③ ㄴ ㄷ
- ④ ㄹ ㄴ
- ⑤ ㄹ ㄷ

4 (세계지리)

사회탐구 영역

17. 지도는 세계 도시를 계층에 따라 구분하여 나타낸 것이다. (가) ~ (다) 세계 도시에 대한 옳은 설명만을 <보기>에서 고른 것은? [3점]

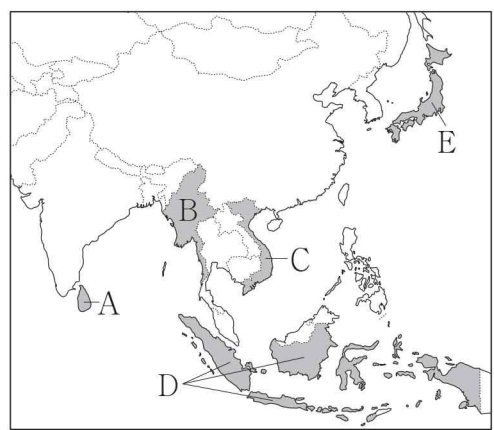


< 보기 >
 ㄱ. (가)에는 런던, 도쿄, 뉴욕이 있다.
 ㄴ. (가)는 (다)보다 생산자 서비스업 종사자 비율이 높다.
 ㄷ. (나)는 (다)보다 도시의 수가 많다.
 ㄹ. (다)는 (가)보다 도시당 다국적 기업의 본사 수가 많다.

- ① ㄱ, ㄴ ② ㄱ, ㄷ ③ ㄴ, ㄷ ④ ㄴ, ㄹ ⑤ ㄷ, ㄹ

18. 표의 (가) ~ (다)에 해당하는 국가를 지도의 A ~ E에서 고른 것은? [3점]

국가	특징
(가)	인도차이나 반도에 위치한 국가로, 커피의 주요 생산국이자 수출국이다. 주민들은 쌀로 만든 국수를 육수에 넣어 만든 '피'를 즐겨 먹고, 전통 의상으로 '아오자이'가 있다.
(나)	태평양에 위치한 섬나라로, 대표적인 음식으로는 쌀밥 위에 해산물 등을 얹어 만든 '스시'가 있다. 이 국가의 서북부 지역은 북서 계절풍에 의한 폭설에 대비하기 위해 경사가 가파른 지붕의 전통 가옥이 나타난다.
(다)	인도양에 위치한 섬나라로, 고온 다습한 계절풍의 영향을 받아 차(茶) 재배가 활발하며 세계적인 차 수출국이다. 이 국가에서 생산된 홍차는 섬의 이름을 따 '실론 차'라고도 부른다.



- | | | | | | | | |
|---|-----|-----|-----|---|-----|-----|-----|
| | (가) | (나) | (다) | | (가) | (나) | (다) |
| ① | A | D | C | ② | B | D | E |
| ③ | B | E | A | ④ | C | A | D |
| ⑤ | C | E | A | | | | |

19. 다음 자료의 A, B 지형에 대한 옳은 설명만을 <보기>에서 고른 것은?

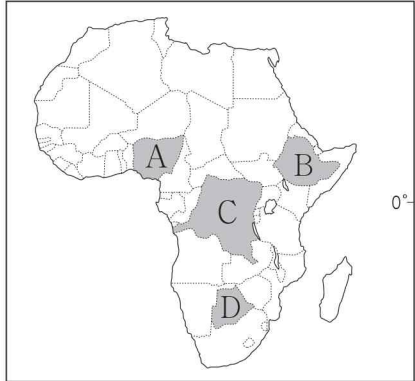
<붉은 후지산> 	<이강승경(漓江勝景)>
일본의 후지산을 판화로 표현하였다. 눈 쌓인 화구에서 산 아래 숲까지 대비되는 색을 사용하여 긴장감 있게 묘사하였다.	중국 구이린의 아름다운 산수를 수묵화로 표현하였다. 탐과 같이 우뚝 솟은 여러 개의 봉우리들을 인상 깊게 묘사하였다.

< 보기 >
 ㄱ. A는 마그마가 분출하여 형성되었다.
 ㄴ. A의 정상부에는 지표수에 의해 용식된 지형이 나타난다.
 ㄷ. B는 주로 습윤 기후 지역의 석회암 지대에서 나타난다.
 ㄹ. B는 해수면 상승으로 빙식곡이 바닷물에 잠겨 형성되었다.

- ① ㄱ, ㄴ ② ㄱ, ㄷ ③ ㄴ, ㄷ ④ ㄴ, ㄹ ⑤ ㄷ, ㄹ

20. (가), (나)에 해당하는 국가를 지도의 A ~ D에서 고른 것은? [3점]

(가) 이 국가는 천연 자원의 보고로 알려져 있다. 구리와 코발트가 풍부한 코퍼 벨트가 지나고 금, 주석, 콜탄, 다이아몬드 등의 매장량도 세계적이다. 하지만 풍부한 자원이 내전을 지속시키는 주요 원인이 되고 있고, 자원 개발 과정에서 고릴라와 같은 멸종 위기 동물의 서식지도 파괴되고 있다.
 (나) '즈와나 족의 땅'이라는 이름을 가진 이 국가는 아프리카에서 정치·경제적으로 안정된 국가 중 하나이다. 1966년 독립 이후 민족, 종교 문제로 인한 내전 없이 민주주의가 계속 유지되고 있으며, 전체 수출액의 상당한 부분을 차지하는 다이아몬드는 경제 성장의 원동력이 되고 있다.



- | | | |
|---|-----|-----|
| | (가) | (나) |
| ① | A | B |
| ② | B | C |
| ③ | B | D |
| ④ | C | A |
| ⑤ | C | D |

※ 확인 사항
 답안지의 해당란에 필요한 내용을 정확히 기입(표기)했는지 확인하십시오.