

제 4 교시

사회탐구 영역(정치와 법)

성명		수험번호				3				제 ( ) 선택
----	--	------	--	--	--	---	--	--	--	----------

1. 정치를 바라보는 갑, 을의 관점에 대한 설명으로 옳은 것은?



- ① 갑의 관점은 아파트 동 대표 회의를 정치로 보지 않는다.
- ② 을의 관점은 국가 형성 이전의 정치 현상을 설명하는 데 적합하다.
- ③ 갑의 관점은 을의 관점과 달리 입법부의 국정 감사권 행사를 정치로 본다.
- ④ 을의 관점은 갑의 관점과 달리 다원화된 현대 사회의 정치 현상을 설명하는 데 적합하다.
- ⑤ 갑의 관점과 을의 관점은 모두 사회적 희소가치의 배분 활동을 정치로 본다.

2. 우리나라 헌법 기관 A ~ D에 대한 설명으로 옳지 않은 것은?

- A는 국가 세입·세출의 결산을 검사하고, 그 결과를 B와 C에 보고한다.
- B는 D의 제청으로 국무 위원 중에서 행정 각부의 장(長)을 임명한다.
- C는 A의 장(長)이 직무 집행에 있어 헌법과 법률을 위배한 경우 탄핵 소추를 의결할 수 있다.

- ① A는 B에 소속되어 있지만 직무상으로는 독립된 기관이다.
- ② B는 C가 의결한 법률안에 대해 재의를 요구할 수 있다.
- ③ C는 A의 장(長) 및 D에 대한 임명 동의권을 가진다.
- ④ D는 국무 위원의 해임을 C에 건의할 수 있다.
- ⑤ 국무 회의에서 B는 의장, D는 부의장이다.

3. 자료는 서로 다른 전형적인 정부 형태를 채택한 갑국과 을국의 의회 구성을 나타낸 것이다. 이에 대한 설명으로 옳은 것은? (단, 행정부 수반의 소속 정당은 갑국의 경우 A당, 을국의 경우 b당이다.) [3점]

	<갑국>				<을국>			
	정당	A당	B당	C당	D당	정당	a당	b당
의석률 (%)		40	35	20	5	의석률 (%)	70	30

- ① 갑국의 의회 의원은 각료를 겸직할 수 있다.
- ② 을국의 행정부 수반은 의회 의원 중에서 선출된다.
- ③ 갑국은 을국과 달리 행정부 수반의 법률안 거부권이 인정된다.
- ④ 을국은 갑국과 달리 행정부 수반의 의회 해산권이 인정된다.
- ⑤ A당은 D당과 연합하여 연립 내각을 구성하였을 것이다.

4. 밑줄 친 ㉠~㉣에 대한 설명으로 옳은 것은?

<근로 계약서>

사용자 갑과 근로자 을(17세)은 다음과 같이 ㉠ 근로 계약을 체결한다.

1. 계약 기간: 2021년 1월 1일부터 2021년 2월 28일까지
2. 근무 장소/근무 내용: ○○치킨 매장/음식 서빙
3. 근로 시간: ㉡ 10시 ~ 18시(휴게 시간: 14시 ~ 15시)
4. 근무일/휴일: ㉢ 매주 6일 근무/월요일 휴무
5. 임금: ㉣ 시간당 8,000원, ㉤ 계약 종료일에 일괄 지급
6. 기타
  - 1) 매장 운영 상황에 따라 ㉤ 임금을 치킨 교환권으로 지급할 수 있음.

\* 2021년 법정 최저 임금은 시간당 8,720원임.

- ① ㉠은 을의 부모가 직접 체결할 수 있다.
- ② ㉡은 1일 법정 근로 시간을 초과한다.
- ③ ㉢과 ㉣을 고려할 경우 1주 법정 근로 시간을 초과한다.
- ④ 을은 ㉤에 합의하였으므로 법정 최저 임금을 요구할 수 없다.
- ⑤ ㉤은 ㉤과 달리 근로 기준법 위반이다.

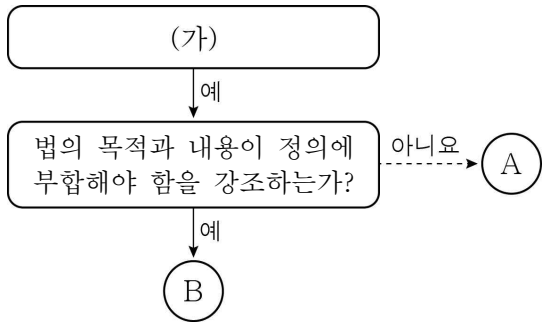
5. 자료는 우리나라 헌법 기관 A의 결정문 중 일부를 간략하게 나타낸 것이다. 이에 대한 설명으로 옳지 않은 것은? [3점]

**【당사자】**  
 제청 법원    □□ 지방 법원  
 제청 신청인    갑

**【이유】**  
 <제청 법원의 위헌 제청 이유>  
 이 사건의 법 조항은 거짓이나 그 밖의 부정한 수단으로 운전면허를 취득하면 구체적 사안의 개별성과 특수성 등을 고려할 여지없이, 보유하고 있는 모든 운전면허를 필요적으로 취소하도록 하고 있다. 이는 피해의 최소성 및 법익의 균형성 원칙에 반한다.

- ① 갑은 A에 제청 신청을 하였다.
- ② A에서는 위헌 법률 심판이 이루어졌다.
- ③ A가 위헌 결정을 하면 해당 법 조항은 효력을 상실한다.
- ④ 제청 법원은 해당 법 조항이 과잉 금지의 원칙에 위배된다고 판단하였다.
- ⑤ 갑의 제청 신청이 기각되었다면 갑은 헌법 소원 심판을 청구할 수 있다.

6. 그림은 법치주의의 유형 A, B를 구분한 것이다. 이에 대한 설명으로 옳은 것은?



- ① (가)에 '통치의 합법성을 중시하는가?'는 들어갈 수 없다.
- ② A는 B와 달리 위헌 법률 심사제의 필요성을 강조한다.
- ③ A는 B와 달리 독재 체제를 옹호하는 논리로 악용될 수 있다.
- ④ B는 A와 달리 인(人)의 지배를 강조한다.
- ⑤ B는 A와 달리 국민의 기본권 제한이 법률에 근거해야 함을 강조한다.

7. 다음 사례에 대한 법적 판단으로 옳은 것은? [3점]

A는 B가 소유한 건물을 임차하여 식당을 운영하고 있다. 어느 날 손님 C가 파손된 식당 바닥으로 인해 넘어져 전치 4주의 상해를 입었다. 한편, A의 식당 종업원인 D는 뜨거운 음식을 나르다가 실수로 엎질러 손님 E에게 전치 6주의 상해를 입혔다. C, E는 자신들이 입은 손해에 대해 A에게 배상을 요구하고 있다.

- ① C가 입은 손해에 대해 A는 무과실 책임을 진다.
- ② C는 자신이 입은 손해에 대해 A가 아닌 B에게 배상을 청구해야 한다.
- ③ D에게는 고의가 없었으므로 D는 E가 입은 손해에 대한 배상 책임이 없다.
- ④ D의 불법 행위 책임이 인정되어야 E는 A에게 손해 배상 책임을 물을 수 있다.
- ⑤ E는 A와 D에게 특수 불법 행위 중 공동 불법 행위자의 책임을 물을 수 있다.

8. 자료에 대한 설명으로 옳은 것은? (단, 질문에 대한 답은 '예' 또는 '아니요'이다.) [3점]

- A ~ C는 각각 시민 단체, 이익 집단, 정당 중 하나이다.
- '공직 선거에 후보자를 공천하는가?'라는 질문에 B, C의 답은 (가)로 같다.
- (나)라는 질문에 C와 달리 A, B의 답은 '예'로 같다.

- ① (가)에는 '예'가 들어간다.
- ② B가 시민 단체이면 (나)에 '대의제의 한계를 보완하는 역할을 하는가?'가 들어갈 수 있다.
- ③ C가 이익 집단이면 (나)에 '집단의 특수 이익보다 공익을 우선시하는가?'가 들어갈 수 있다.
- ④ B, C는 A와 달리 정치 사회화 기능을 수행한다.
- ⑤ A ~ C는 모두 자신들의 활동에 대한 정치적 책임을 진다.

9. 밑줄 친 ㉠ ~ ㉢에 대한 옳은 설명만을 <보기>에서 고른 것은?

- ○○군은 해수 담수화 수돗물 공급 사업을 추진하고 있는데, 일부 주민들은 이 사업이 지역 사회에 과도한 부담을 줄 것이라고 판단하여 이에 대한 지역 주민들의 찬반 의견을 묻는 ㉠투표 실시를 ㉡○○군수에게 청구하였다.
- △△시의 주민들은 생활 폐기물 에너지화 시설이 악취와 오염을 발생시킴에도 ㉢△△시 의회의 일부 의원들이 지역 현안을 방관하고 있다며 해당 의원들의 직을 상실시키기 위한 ㉡투표를 관할 선거 관리 위원회에 청구하였다.

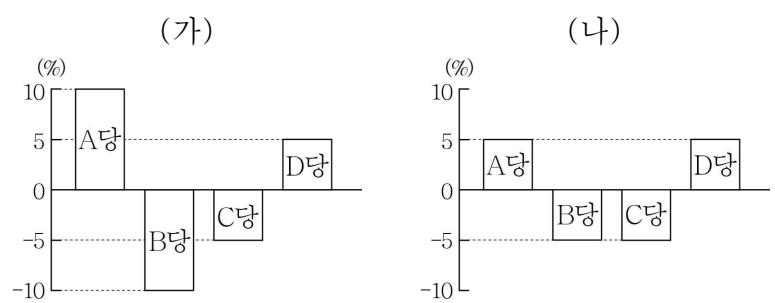
< 보기 >

- ㉠. ㉠은 지방 자치 단체의 자치 사무 처리에 대한 주민의 직접 참여 수단이다.
- ㉡. ㉡은 조례의 제정 및 개폐권을 가진다.
- ㉢. ㉢은 지방 자치 단체의 의결 기관이다.
- ㉣. ㉣을 통해 주민들은 자신의 지역구 국회 의원을 파면할 수 있다.

- ① ㉠, ㉡    ② ㉠, ㉢    ③ ㉡, ㉢    ④ ㉡, ㉣    ⑤ ㉢, ㉣

10. 자료에 대한 분석 및 추론으로 옳은 것은? [3점]

갑국 의회는 지역구 의원으로만 구성되어 있으나 차기 의회 의원 선거를 앞두고 선거 제도 개편을 고려하고 있다. 개편안은 현행의 의회 의원 정수(定數) 200석을 유지하되 지역구 의원과 비례 대표 의원을 각각 100명씩 선출하고, 비례 대표 의석은 전국을 하나의 선거구로 하여 정당 득표율에 따라 각 정당에 배분한다. 현행과 개편안의 지역구 선거구 수는 100개로 동일하고, 현행의 지역구 선거구당 당선자 수는 개편안의 2배이다. (가)와 (나)는 정당 득표율에서 의회 의석률을 뺀 값을 그래프로 나타낸 것이다. (가)는 최근 의회 의원 선거 결과이고 (나)는 개편안을 적용할 경우의 의회 의원 선거 결과이다. 최근 의회 의원 선거에서 정당 득표율은 A ~ D당이 순서대로 40%, 30%, 20%, 10%이다. 단, (가)와 (나)의 정당 득표율은 같다.



- ① 현행과 달리 개편안의 지역구 선거구 제도는 동일 선거구 내 당선자 간 표의 등가성 문제가 발생할 수 있다.
- ② 현행에서 최다 의석을 차지한 정당은 과소 대표된다.
- ③ 개편안에서 A당이 과반 의석을 차지한다.
- ④ B당은 A당과 달리 개편안에 찬성할 것이다.
- ⑤ 개편안의 지역구 의원 선거에서 D당은 C당과 달리 당선자를 배출하지 못한다.

11. 자료의 A~C에 대한 옳은 법적 판단만을 <보기>에서 고른 것은? [3점]

갑(17세)은 고가의 노트북을 매매하는 계약을 판매자 을과 체결하였다. 그런데 계약 당시 갑은 법정 대리인인 부모의 동의를 얻지 않았다. 한편 \_\_\_\_\_ (가)

<(가)에 들어갈 수 있는 상황 A~C>

A	B	C
을(17세)은 법정 대리인인 부모의 동의를 얻어 계약을 체결하였다.	을(30세)은 계약 체결 당시 갑이 미성년자임을 알지 못했다.	을(30세)은 갑이 위조한 부모 동의서를 보고 계약을 체결하였다.

< 보 기 >

ㄱ. A의 경우에 을의 부모는 갑의 부모와 달리 노트북 매매 계약을 취소할 수 없다.  
 ㄴ. B의 경우에 을은 노트북 매매 계약 체결의 의사 표시를 철회할 수 있다.  
 ㄷ. C의 경우에 갑의 부모는 노트북 매매 계약을 취소할 수 있다.  
 ㄹ. B와 달리 C의 경우에 을은 갑의 부모에게 노트북 매매 계약의 취소 여부를 확답해 줄 것을 촉구할 수 있다.

- ① ㄱ, ㄴ    ② ㄱ, ㄷ    ③ ㄴ, ㄷ    ④ ㄴ, ㄹ    ⑤ ㄷ, ㄹ

12. A~C에 대한 옳은 설명만을 <보기>에서 있는 대로 고른 것은? (단, A~C는 각각 총회, 안전 보장 이사회, 국제 사법 재판소 중 하나이다.)

교사: 국제 연합의 주요 기관 A~C에 대해 설명해 보세요.  
 갑: A는 국가 간의 분쟁을 해결하는 사법 기관입니다.  
 을: B와 C는 표결 시 1국 1표의 원칙이 적용됩니다.  
 병: C의 상임 이사국은 거부권을 가집니다.  
 교사: 모두 옳게 설명했어요.

< 보 기 >

ㄱ. 개인은 국가와 달리 A의 재판 당사자가 될 수 없다.  
 ㄴ. A는 판결을 이행하지 않는 당사국에 대해 직접 제재를 가할 수 있다.  
 ㄷ. C는 국제 평화와 안전 유지에 관한 국제 연합의 실질적 의사 결정 기관이다.  
 ㄹ. A의 재판관은 B와 C에서 선출한다.

- ① ㄱ, ㄴ    ② ㄱ, ㄷ    ③ ㄴ, ㄷ  
 ④ ㄱ, ㄷ, ㄹ    ⑤ ㄴ, ㄷ, ㄹ

13. 밑줄 친 ㉠~㉣에 대한 설명으로 옳은 것은?

갑은 상해죄 혐의로 ㉠ 구속 수사를 받은 후 ㉡ 기소되었다.

↓

1심 법원은 갑에게 징역 1년에 ㉢ 집행 유예 2년을 선고하였다.

↓

㉣ 2심 법원은 갑에게 징역 1년을 선고하였다.

↓

㉤ 3심 법원에서 2심 법원의 판결이 확정되었다.

- ① ㉠ 이전에 구속 적부 심사 제도가 활용되었을 것이다.  
 ② ㉡으로 인해 갑은 피의자에서 피고인이 된다.  
 ③ ㉣은 유예 기간 동안 일정한 범죄를 저지르지 않으면 면소된 것으로 간주한다.  
 ④ ㉣은 갑에게 징역이 부과되지 않는 자유형을 선고하였다.  
 ⑤ ㉤에서 판결이 확정된 후 갑은 형사 보상을 청구할 수 있다.

14. 우리나라 헌법의 기본 원리 (가)~(다)에 대한 옳은 설명만을 <보기>에서 고른 것은?

기본 원리	강조된 헌법 조항
(가)	모든 국민은 인간다운 생활을 할 권리를 가진다.
(나)	외국인은 국제법과 조약이 정하는 바에 의하여 그 지위가 보장된다.
(다)	대한민국의 주권은 국민에게 있고, 모든 권력은 국민으로부터 나온다.

< 보 기 >

ㄱ. (가)는 국가 권력 행사의 최소화를 강조한다.  
 ㄴ. (나)의 실현을 위해 모든 외국인에게 선거권을 인정한다.  
 ㄷ. 복수 정당제는 (다)의 실현 방안이다.  
 ㄹ. (다)는 (가)와 달리 근대 입헌주의 헌법에서부터 강조되었다.

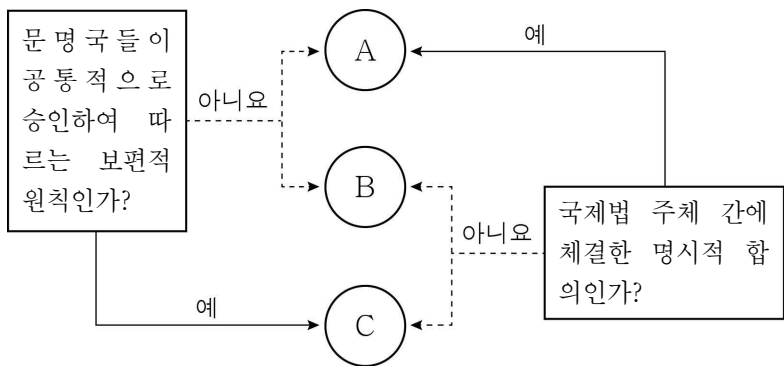
- ① ㄱ, ㄴ    ② ㄱ, ㄷ    ③ ㄴ, ㄷ    ④ ㄴ, ㄹ    ⑤ ㄷ, ㄹ

15. 다음 사례에 대한 법적 판단으로 옳은 것은? [3점]

○ 갑과 을은 혼인 후 A를 낳고 살았으나, 갑이 부정한 행위를 하여 협의상 이혼을 하였다.  
 ○ 병과 정은 혼인 후 B를 낳고 살았으나, 정이 부정한 행위를 하여 병의 청구로 재판상 이혼을 하였다.

- ① 을은 갑과 달리 혼인 중 취득한 재산에 대한 분할을 청구할 수 있다.  
 ② 병은 이혼의 책임이 있는 정을 상대로 정신상의 고통에 대한 손해 배상을 청구할 수 있다.  
 ③ 병, 정은 갑, 을과 달리 이혼 숙려 기간을 거쳤을 것이다.  
 ④ A에 대한 양육권을 을이 갖기로 한 경우, 갑은 A에 대한 면접 교섭권을 가질 수 없다.  
 ⑤ B가 미성년자라면 병과 정은 이혼으로 B에 대한 정의 친권은 상실된다.

16. 국제법의 법원(法源) A~C에 대한 옳은 설명만을 <보기>에서 고른 것은? (단, A~C는 각각 조약, 국제 관습법, 법의 일반 원칙 중 하나이다.)



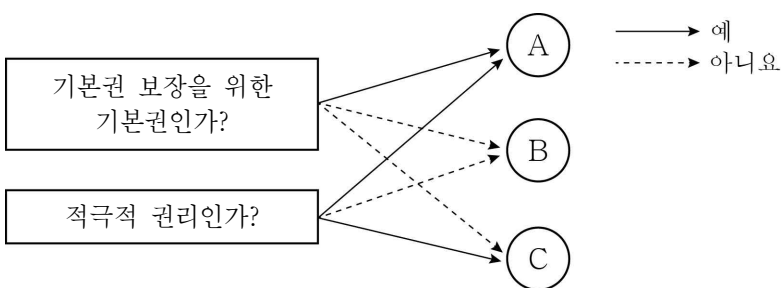
- < 보 기 >
- ㄱ. 국제기구는 A의 체결 당사자가 될 수 있다.
  - ㄴ. B는 원칙적으로 모든 국가에 대해 구속력을 가진다.
  - ㄷ. C의 예로 '국내 문제 불간섭'을 들 수 있다.
  - ㄹ. A는 B, C와 달리 국제 사법 재판소의 재판 준거가 된다.
- ① ㄱ, ㄴ    ② ㄱ, ㄷ    ③ ㄴ, ㄷ    ④ ㄴ, ㄹ    ⑤ ㄷ, ㄹ

17. 자료에 대한 설명으로 옳은 것은? (단, A~C는 각각 구성 요건 해당성, 위법성, 책임 중 하나이다.) [3점]

범죄가 성립하여 형벌을 부과하기 위해서는 A, B, C의 요건을 모두 갖추어야 한다. 이 중 하나의 요건이라도 충족시키지 못하면 범죄가 성립하지 않는다. 예를 들면 갑의 행위가 정당방위에 해당하면 B가 조각되어 범죄가 성립하지 않으며, 을의 행위가 저항할 수 없는 폭력에 의해 강요된 행위라면 C가 조각되어 범죄가 성립하지 않는다.

- ① A는 구성 요건 해당성, B는 책임, C는 위법성이다.
- ② 심신 상실자의 행위는 B가 조각되는 사유이다.
- ③ 정당 행위, 긴급 피난은 C가 조각되는 사유이다.
- ④ 12세인 자가 형벌 법령에 저촉되는 행위를 하면 C가 조각되지만 소년법상 보호 처분을 부과할 수 있다.
- ⑤ 16세인 자가 형벌 법령에 저촉되는 행위를 하여 A, B, C의 요건이 모두 갖추어졌다면 소년법상 보호 처분을 부과할 수 없다.

18. 그림의 기본권 유형 A~C로 옳은 것은? (단, A~C는 각각 자유권, 사회권, 청구권 중 하나이다.)



- |   |     |     |     |
|---|-----|-----|-----|
|   | A   | B   | C   |
| ① | 사회권 | 자유권 | 청구권 |
| ② | 사회권 | 청구권 | 자유권 |
| ③ | 자유권 | 사회권 | 청구권 |
| ④ | 청구권 | 사회권 | 자유권 |
| ⑤ | 청구권 | 자유권 | 사회권 |

19. 자료에 대한 옳은 설명만을 <보기>에서 고른 것은? [3점]

△△ 회사 직원인 갑은 수시로 근무지를 이탈하는 등 근무 태도가 불성실하다는 이유로 ㉠ 해고되었다. 다음은 갑이 부당 해고에 대한 구제를 받기 위해 제기한 ㉡ 소송의 판결문 중 일부이다.

원고: 갑  
피고: 중앙 노동 위원회 위원장  
주문: 원고의 청구를 기각한다.

- < 보 기 >
- ㄱ. △△ 회사가 중앙 노동 위원회에 재심 신청을 하였다.
  - ㄴ. 중앙 노동 위원회는 ㉠을 정당한 해고로 보았다.
  - ㄷ. 법원은 ㉠을 정당한 해고로 보았다.
  - ㄹ. ㉡은 해고 무효 확인 소송이다.

- ① ㄱ, ㄴ    ② ㄱ, ㄷ    ③ ㄴ, ㄷ    ④ ㄴ, ㄹ    ⑤ ㄷ, ㄹ

20. 자료에 대한 설명으로 옳은 것은? [3점]

수행 평가 과제

사례에 대한 법적 판단이 옳으면 '예', 틀리면 '아니요'를 쓰시오. (옳은 답을 쓰면 1점, 틀린 답을 쓰면 0점임.)

<사례>

A와 B는 혼인 신고를 하고 C를 낳았고, A의 친구인 D의 자녀 E를 친양자로 입양하였다. 이후 A는 교통사고를 당하여 사망하였는데, 사망 당시 A는 채무 없이 14억 원의 재산을 보유하고 있었고, 유언은 남기지 않았다.

사례에 대한 법적 판단	답란
법정 상속액은 B가 C보다 2억 원 많다.	예
친양자 입양으로 인해 D와 E의 친자 관계는 종료된다.	(가)
(나)	예
A, B와 C의 친자 관계는 인지 절차를 거쳐 형성되었다.	예
점수 합계	(다)

- ① (다)에 '4점'이 들어갈 수 있다.
- ② (다)에 '3점'이 들어가면 (가)에 '아니요'가 들어간다.
- ③ (다)에 '3점'이 들어가면 (나)에 'C와 E의 법정 상속액은 같다.'가 들어갈 수 없다.
- ④ (다)에 '3점'이 들어가면 (나)에 '친양자 입양에도 불구하고 E는 D의 성과 본을 유지한다.'가 들어갈 수 있다.
- ⑤ (가)에 '예'가 들어가고 (다)에 '2점'이 들어가면 (나)에 'A의 사망으로 B와 E의 친자 관계는 종료된다.'가 들어갈 수 있다.

\* 확인 사항

○ 답안지의 해당란에 필요한 내용을 정확히 기입(표기)했는지 확인하십시오.