

사회탐구 영역(세계지리)

제 4 교시

성명

수험 번호

3

제 [] 선택

1

1. 다음은 지리 수행 평가 보고서의 일부이다. (가)에 들어갈 그림으로 적절한 것은?

문학 작품의 배경이 된 지역을 찾아서

문학 작품

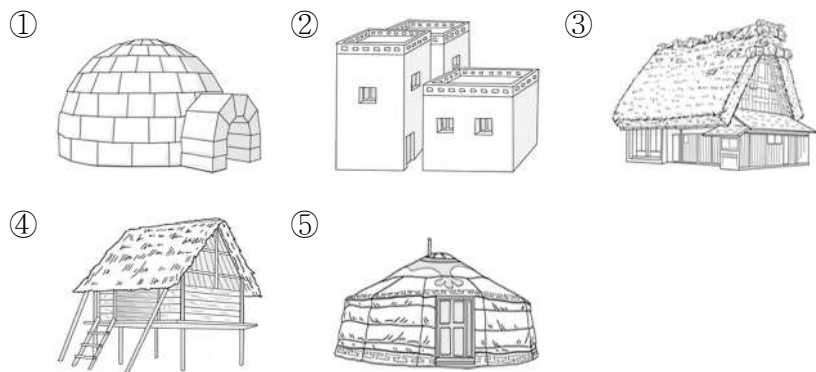
- 제목: 설국(雪國)
- 인상 깊은 문장: ‘국경의 긴 터널을 빠져나오자 눈의 고장이었다. 밤의 밑바닥이 하얗졌다.’

문학 작품의 배경이 된 지역 정보

- 지역: 일본 서부 산간 지대
- 기후 특성: 북서 계절풍과 산맥의 영향으로 폭설이 자주 내림.
- 전통 가옥의 모습과 특징

(가)

기후 특성이 반영된 독특한 모양의 지붕이 나타남.



2. 다음 자료는 ‘해안 지형’을 주제로 한 다큐멘터리 촬영 계획의 일부이다. ㉠~㉣에 해당하는 지형을 그림의 A~E에서 고른 것은?

#1

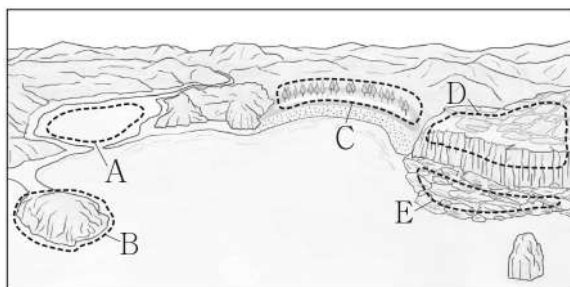
- 촬영 장면: 해수와 담수가 만나 형성된 독특한 생태계 모습
- 촬영 장소: ㉠ 후빙기 해수면 상승으로 만이 형성된 후사주가 만의 입구를 막아 형성된 지형

#2

- 촬영 장면: 바다에서 불어오는 바람을 막아 주는 방풍림의 모습
- 촬영 장소: ㉡ 사빈의 모래가 바람에 날려 쌓인 언덕 모양의 퇴적 지형

#3

- 촬영 장면: 농경지에서 작물을 수확하는 현지 주민의 모습
- 촬영 장소: ㉢ 지반의 융기 등으로 현재의 해수면보다 높은 곳에 위치하게 된 계단 모양의 지형



- | | | | |
|---|---|---|---|
| | ㉠ | ㉡ | ㉢ |
| ① | A | C | D |
| ② | A | C | E |
| ③ | A | E | B |
| ④ | C | B | D |
| ⑤ | C | B | E |

3. 다음 자료의 (가), (나)에 해당하는 국가를 지도의 A~D에서 고른 것은? [3점]

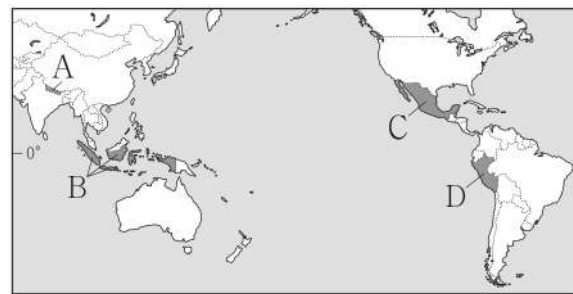
<화폐로 살펴보는 세계의 산지 이야기>

< (가) 의 화폐 >

이 화폐에는 세계에서 가장 높은 산과 힌두교 사원이 표현되어 있다. 또한 화폐의 뒷면에는 대륙판과 대륙판이 충돌하여 형성된 산맥을 배경으로 고산 지대에 서식하는 야크(yak)가 그려져 있다.

< (나) 의 화폐 >

이 화폐에는 잉카 문명의 유적지인 마추픽추가 그려져 있다. 이곳은 대륙판과 해양판이 충돌하여 형성된 산맥에 위치하며, 사방이 험준한 산으로 둘러싸인 고대 도시로 알려져 있다.



- | | | |
|---|-----|-----|
| | (가) | (나) |
| ① | A | C |
| ② | A | D |
| ③ | B | A |
| ④ | B | D |
| ⑤ | D | C |

4. 다음 글의 ㉠~㉣에 대한 옳은 설명만을 <보기>에서 고른 것은?

‘한국식 메이크업’이 여러 국가에서 유행하고 있다. ㉠ 사회 관계망 서비스(SNS)를 통해 한국식 메이크업 기법을 다룬 콘텐츠들이 세계의 많은 사람들 사이에서 공유되고 있으며, 한국의 화장품을 찾는 해외 수요도 증가하였다. 국내 화장품 기업들도 적극적으로 해외에 진출하고 있다. 국내의 A사는 ㉡ 우리나라에 본사를 두고 미국, 프랑스 등에 연구 센터, 중국에 생산 공장을 설립해 해외 시장 확대에 나섰다. 특히, 이 기업은 ㉢ 국가별 기후, 문화 등을 고려한 제품 개발에 노력하였고, ㉣ 타이에서는 덥고 습한 기후로 자극받은 피부를 진정시킬 수 있는 크림 제품을 출시하여 좋은 반응을 얻었다.

< 보기 >

- ㄱ. ㉠은 국경의 역할과 의미가 강화되면서 나타나는 현상이다.
- ㄴ. ㉡은 기업의 국제적 분업이 나타난 사례이다.
- ㄷ. ㉢은 지리 정보의 유형 중 공간 정보에 해당한다.
- ㄹ. ㉣은 지리적 특성을 반영한 현지화 전략이다.

- ① ㄱ, ㄴ ② ㄱ, ㄷ ③ ㄴ, ㄷ ④ ㄴ, ㄹ ⑤ ㄷ, ㄹ

2 (세계지리)

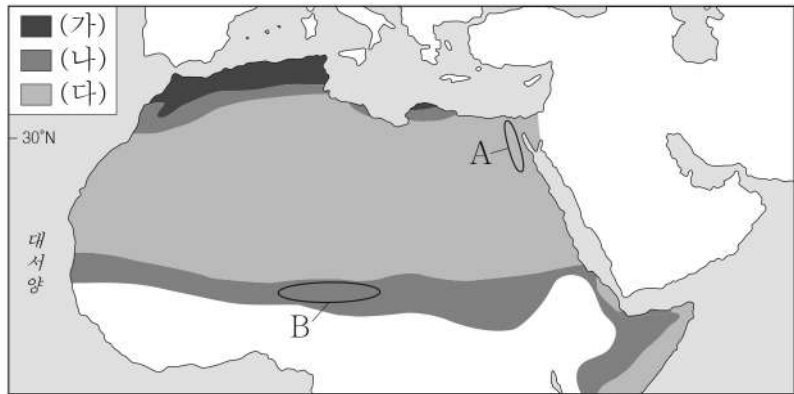
사회탐구 영역

5. 다음은 온라인 수업 장면의 일부이다. (가) 환경 문제에 대한 대책으로 가장 적절한 것은?

학생: (가) 문제를 널리 알리기 위해 환경 운동가는 (가)의 주요 집적 지역을 국가로 인정해 달라는 청원서를 국제 연합(UN)에 제출하였고, 여권과 화폐를 만들어 국민을 모집하였습니다. 여권에는 쉽게 분해되지 않는 물질로 고통받는 해양 생물들의 모습이 그려져 있습니다.

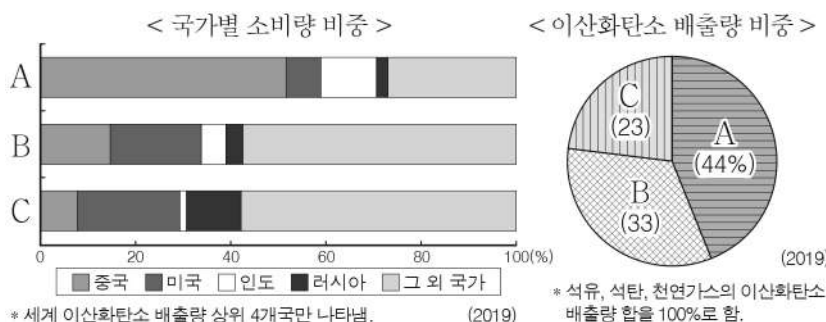
- ① 람사르 협약을 준수하여 습지를 보호한다.
- ② 사막 주변 지역의 녹지화 사업을 추진한다.
- ③ 플라스틱 제품과 비닐의 사용량을 줄인다.
- ④ 염화플루오린화탄소(CFCs)의 사용량을 줄인다.
- ⑤ 무분별한 벌목으로 인한 열대림의 파괴를 막는다.

6. 지도는 북부 아프리카 일대의 (가)~(다) 기후 지역을 나타낸 것이다. 이에 대한 설명으로 옳지 않은 것은? (단, (가)~(다)는 각각 사막, 스텝, 지중해성 기후 지역 중 하나임.) [3점]



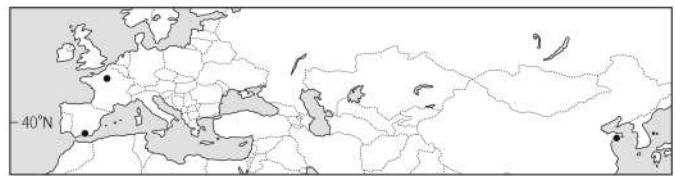
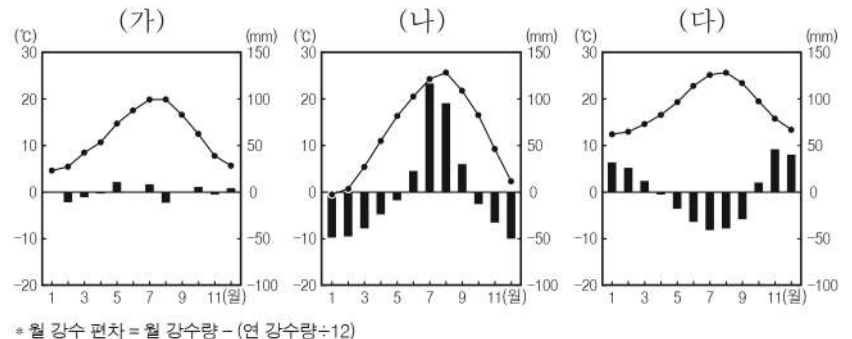
- ① (가)에서는 수목 농업이 이루어진다.
- ② (나)는 (다)보다 단위 면적당 가축 사육 두수가 적다.
- ③ (다)는 (가)보다 인구 밀도가 낮다.
- ④ A 지역에서는 외래 하천을 이용하여 대추야자, 밀 등을 재배한다.
- ⑤ B 지역에서는 오랜 가뭄과 과도한 방목 등으로 사막화가 진행 중이다.

7. 그래프의 A~C 화석 에너지에 대한 설명으로 옳은 것은? (단, A~C는 각각 석유, 석탄, 천연가스 중 하나임.) [3점]



- ① A는 신생대 제3기층의 배사 구조에 주로 매장되어 있다.
- ② B는 냉동 액화 기술의 개발 이후 소비가 급증하였다.
- ③ C는 산업 혁명 당시 주요 에너지원으로 이용되었다.
- ④ A는 B보다 수송용으로 이용되는 비중이 높다.
- ⑤ B는 C보다 세계 에너지 소비량에서 차지하는 비중이 높다.

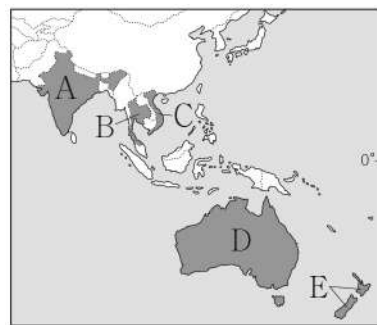
8. 그래프는 지도에 표시된 세 지역의 월 평균 기온과 월 강수 편차를 나타낸 것이다. (가)~(다) 지역에 대한 설명으로 옳은 것은? [3점]



- ① (가)는 대륙 동안에 위치한다.
- ② (나)는 여름보다 겨울에 강수량이 많다.
- ③ (가)는 (나)보다 하천 수위의 계절별 변동 폭이 크다.
- ④ (나)는 (다)보다 기온의 연교차가 작다.
- ⑤ (다)는 (가)보다 여름에 아열대 고압대의 영향을 강하게 받는다.

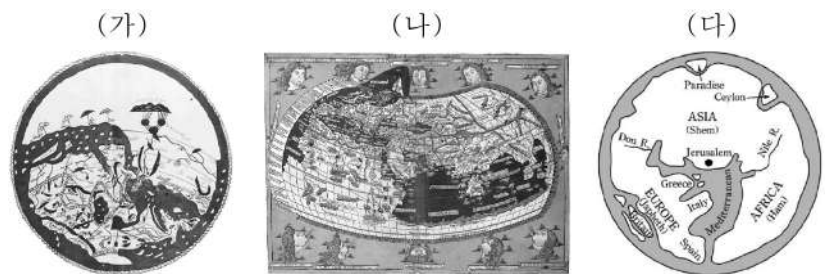
9. 다음 글의 (가)에 해당하는 국가를 지도의 A~E에서 고른 것은?

(가)에 유럽인들이 이주해 오면서 원주민인 애버리지니와의 갈등이 시작되었다. 백호주의를 내세운 유럽인들은 문명화 교육이라는 이름으로 원주민 자녀들을 부모들에게서 강제로 분리시켜 영어만을 사용하고 유럽식 문화를 받아들여도록 강요하였다. 20세기 중반까지 이러한 차별을 받은 희생자들을 '도둑맞은 세대'라고 부른다. 정부는 이들에 대한 차별의 역사를 계속 무시해 오다가, 2008년에 도둑맞은 세대에 대한 잘못된 대우를 공식적으로 사과하고 그들과 공존을 위해 노력하겠다고 발표했다.



- ① A
- ② B
- ③ C
- ④ D
- ⑤ E

10. (가)~(다) 지도에 대한 옳은 설명만을 <보기>에서 고른 것은?

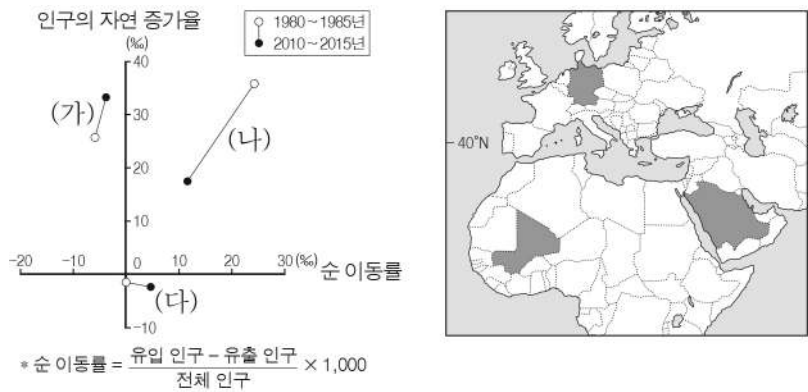


< 보기 >

- ㄱ. (가)는 크리스티오의 세계관이 반영되어 있다.
- ㄴ. (나)는 지구가 구체(球體)라는 인식을 반영하여 제작되었다.
- ㄷ. (가)는 지도의 위쪽이 동쪽, (다)는 지도의 위쪽이 남쪽이다.
- ㄹ. (가)~(다)에는 모두 지중해가 표현되어 있다.

- ① ㄱ, ㄴ ② ㄱ, ㄷ ③ ㄴ, ㄷ ④ ㄴ, ㄹ ⑤ ㄷ, ㄹ

11. 그래프는 지도에 표시된 세 국가의 인구 특성을 나타낸 것이다. (가)~(다) 국가에 대한 옳은 설명만을 <보기>에서 고른 것은? [3점]




< 보 기 >

ㄱ. (가)는 아시아에 위치한다.
 ㄴ. (가)는 (나)보다 1980~1985년에 인구의 순 유입이 많다.
 ㄷ. (나)는 (다)보다 산업화의 시작 시기가 늦다.
 ㄹ. (다)는 (가)보다 2010~2015년의 합계 출산율이 낮다.

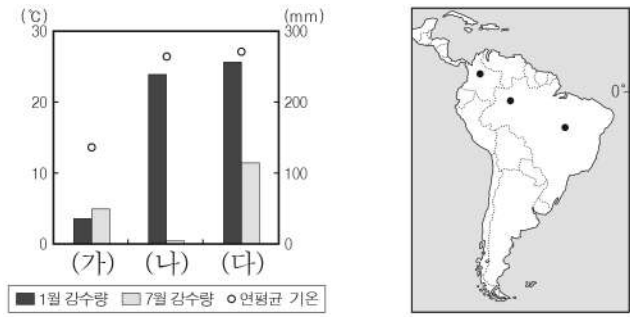
- ① ㄱ, ㄴ ② ㄱ, ㄷ ③ ㄴ, ㄷ ④ ㄴ, ㄹ ⑤ ㄷ, ㄹ

12. 다음은 학생과 교사가 어떤 지형에 대해 스무고개를 하고 있는 장면의 일부이다. (가) 지형에 해당하는 사진으로 옳은 것은?

학생	교사
한 고개 강수량보다 증발량이 많은 기후 지역에서 발달합니까?	예
두 고개 주로 유수(流水)의 영향을 받아 형성된 지형입니까?	아니요
세 고개 바람의 퇴적 작용이 지형 형성의 주된 원인입니까?	아니요
네 고개 이 지형은 (가)입니까?	예



13. 그래프는 지도에 표시된 세 지역의 기온과 강수량 특성을 나타낸 것이다. (가)~(다) 지역에 대한 설명으로 옳은 것은? [3점]

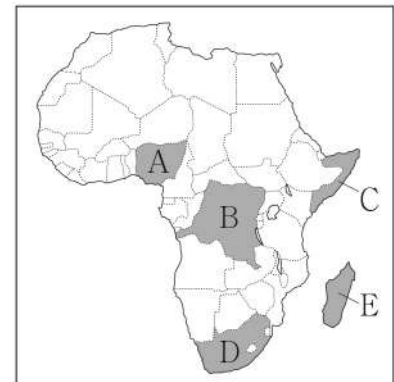


- ① (가)는 7월보다 1월에 정오의 태양 고도가 높다.
 ② (나)는 (다)보다 대륙성 강수 일수가 많다.
 ③ (다)는 (가)보다 해발 고도가 높다.
 ④ (나), (다)는 동일한 국가에 위치한다.
 ⑤ (가)~(다)는 모두 기온의 연교차가 일교차보다 크다.

14. 다음 신문 기사 (가)에 해당하는 국가를 지도의 A~E에서 고른 것은? [3점]

○○ 신문

(가)은/는 아프리카 최대 석유 생산국이며, 약 2억 명의 인구 대국이다. 높은 성장 가능성에도 불구하고 석유를 둘러싼 이권 다툼이 이어지고 북부와 남부 간 민족·종교 갈등이 계속되었다. 이러한 상황에서 예상치 못한 성장을 이룬 산업이 영화 산업이다. 계속된 분쟁과 불안정한 치안으로 낮은 시간 외출할 수 없었던 주민들에게 TV에서 방영하는 영화는 주요한 여가 수단이 되었다. 매년 수천 편의 저예산 영화가 제작되면서 영화 산업은 많은 일자리와 큰 수익을 창출하였다. 이 국가의 영화 산업은 국가명과 할리우드라는 단어를 합성하여 날리우드(Nollywood)라고 불리며, 새로운 성장 동력으로 자리잡고 있다.



- ① A
 ② B
 ③ C
 ④ D
 ⑤ E

15. 다음 자료는 온라인 비대면 여행 상품을 소개하는 화면의 일부이다. (가) 기후 지역의 식생에 대한 설명으로 옳은 것은?

https://○○○.geo/

GEO TOUR

관광권 | 호텔 | 온라인 여행

[상품명] (가) 기후의 유목민을 찾아 떠나요! ★★★★★ 5.0(82)

일 년 중 절반 이상이 얼어 있는 땅, 그곳에서 순록과 함께 살아가는 유목민들의 이야기를 온라인으로 만나 보세요. 실제 여행지에서 진행되는 현지 가이드의 실시간 설명으로 생동감 있는 여행을 경험할 수 있습니다.

예약하기

상품 소개

- 요금(1인): ○○,○○○원 / 소요 시간: ○○분
- 참여 방법: 앱 설치 후 정해진 시간에 안내되는 참여 링크로 입장

투어 미리보기

순록 가족을 손질하는 주민 하늘을 아름답게 수놓은 오로라

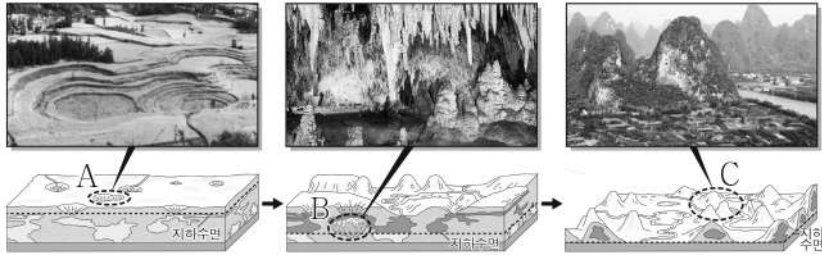
더 보기

- ① 잎이 작고 단단한 경엽수림이 주로 분포한다.
 ② 짧은 여름 동안 키 작은 풀과 이끼류 등이 자란다.
 ③ 활엽수와 침엽수가 섞인 혼합림이 주로 나타난다.
 ④ 수종이 다양한 상록 활엽수가 다층의 숲을 이룬다.
 ⑤ 키가 큰 풀이 자라는 초원에 관목이 드문드문 분포한다.

4 (세계지리)

사회탐구 영역

16. 다음 자료는 어떤 지형의 형성 과정을 나타낸 것이다. A~C 지형에 대한 옳은 설명만을 <보기>에서 고른 것은? [3점]

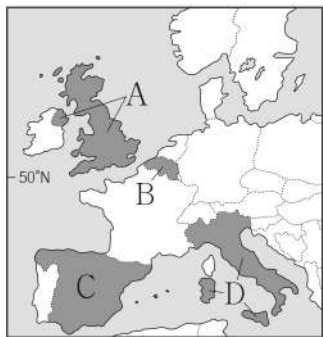


< 보기 >
 ㄱ. A는 화구의 함몰로 형성된 칼데라이다.
 ㄴ. B는 빗물이나 지하수에 의한 용식 작용으로 형성되었다.
 ㄷ. C는 점성이 큰 용암이 분출하여 형성되었다.
 ㄹ. A~C는 건조 기후 지역보다 습윤 기후 지역에서 잘 형성된다.

- ① ㄱ, ㄴ ② ㄱ, ㄷ ③ ㄴ, ㄷ ④ ㄴ, ㄹ ⑤ ㄷ, ㄹ

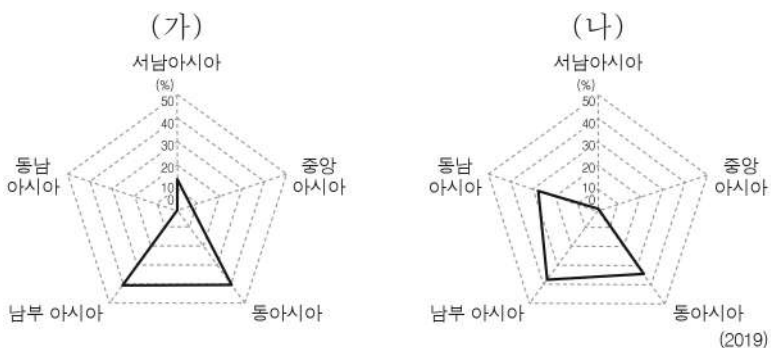
17. 다음 글의 (가), (나)에 해당하는 국가를 지도의 A~D에서 고른 것은?

(가) 4개 지역으로 구성된 입헌 군주국이다. 앵글로색슨족이 주류를 이루며, 민족·종교 갈등으로 스코틀랜드, 북아일랜드에서는 분리 독립을 추진하기도 하였다.
 (나) 네덜란드어를 주로 사용하는 플랑드르 지역과 프랑스어를 주로 사용하는 왈로니아 지역으로 나뉜다. 두 지역 간 경제 격차와 언어 갈등으로 플랑드르 주민들은 분리 독립을 주장하기도 하였다.



- | | (가) | (나) |
|---|-----|-----|
| ① | A | B |
| ② | A | D |
| ③ | B | A |
| ④ | C | B |
| ⑤ | C | D |

18. 그래프는 두 식량 작물의 아시아 대륙 내 지역별 생산량 비중을 나타낸 것이다. (가), (나)에 대한 옳은 설명만을 <보기>에서 고른 것은? (단, (가), (나)는 각각 밀, 쌀 중 하나임.) [3점]



< 보기 >
 ㄱ. (가)의 최대 수출국은 오세아니아에 위치한다.
 ㄴ. (나)는 계절풍 기후 지역에서 주로 재배된다.
 ㄷ. (가)는 (나)보다 국제 이동량이 많다.
 ㄹ. (나)는 (가)보다 내한성과 내건성이 우수하다.

- ① ㄱ, ㄴ ② ㄱ, ㄷ ③ ㄴ, ㄷ ④ ㄴ, ㄹ ⑤ ㄷ, ㄹ

19. 다음 자료의 (가) 종교에 대한 설명으로 옳은 것은?

할랄, 식품 기업 성장의 걸림돌인가? 디딤돌인가?

☐ (가) 신자들은 종교 율법에 따라 돼지고기를 먹지 않는다. 이처럼 신자들에게 허용되지 않는 음식을 하람(haram) 음식이라고 한다. 이와 달리 먹는 것이 허용된 음식이 할랄(halal) 음식이다. 이 종교는 세계에서 두 번째로 신자가 많아 판매 시장의 규모가 크다. <할랄 인증 마크> 이 시장에 진출하기 위한 식품 기업들에게 할랄 인증은 큰 걸림돌이다. 할랄 인증의 절차가 엄격하고 까다롭기 때문이다. 반면, 할랄 인증을 받은 식품은 절차가 까다로운 만큼 위생과 품질이 우수하다는 인식이 퍼져, 이 종교 신자가 아닌 사람들에게도 인기를 끌고 있다. 오히려, 할랄 인증이 기업 성장의 디딤돌이 될 수도 있는 것이다.

- ① 민족 종교에 해당한다.
 ② 십자가와 종탑이 대표적 경관이다.
 ③ 부다가야와 톰비나가 대표적인 성지이다.
 ④ 사원에는 다양한 신들의 모습이 조각되어 있다.
 ⑤ 신자들은 하루에 다섯 번씩 성지를 향해 예배를 한다.

20. 다음은 세계지리 수업 장면의 일부이다. 교사의 질문에 옳은 대답을 한 학생만을 고른 것은? [3점]

< 아메리카의 두 도시 이야기 >

국제 금융 기관이 밀집한 월가(街)가 위치하며 세계 경제 중심지로서의 역할을 수행하는 도시이다. 자유의 여신상, 브로드웨이 등이 있어 많은 관광객들이 방문한다. (가)

북아메리카에서 인구가 가장 많은 도시이며, 국가의 수도이다. 원주민의 고대 유적과 식민지 시대의 건축물이 공존하는 도시로 관광객들이 많이 방문한다. (나)

(가), (나) 도시에 대해 설명해 볼까요?

갑: (가)에는 국제연합 (UN) 본부가 위치합니다.
 을: (나)는 최상위 계층에 해당하는 세계 도시입니다.
 병: (가)는 (나)보다 세계 500대 다국적 기업의 본사 수가 많습니다.
 정: (나)는 (가)보다 생산자 서비스업 종사자 비율이 높습니다.

- ① 갑, 을 ② 갑, 병 ③ 을, 병 ④ 을, 정 ⑤ 병, 정

※ 확인 사항
 답안지의 해당란에 필요한 내용을 정확히 기입(표기)했는지 확인하십시오.