

제 4 교시

탐구 영역(사회)

성명		수험번호					1			
----	--	------	--	--	--	--	---	--	--	--

1. 다음 글의 입장으로 적절하지 않은 것은?

가족 간의 도리로 효(孝)와 자애(慈愛)를 들 수 있다. 우선 효는 자녀의 도리로서, 부모를 정성껏 공경하는 것이다. 경제적 지원만으로 부모님께 효를 다했다고 생각해서는 안 되며 진심 어린 섬김을 실천해야 한다. 다음으로 자애는 부모의 도리로서, 대가를 바라지 않고 자녀에게 아낌없이 사랑을 베푸는 것이다. 부모는 사랑하는 마음으로 헌신하면서 자녀를 올바른 길로 이끌어야 한다.

- ① 자녀는 가식적인 마음과 행동으로 부모를 섬겨서는 안 된다.
- ② 부모와 자녀는 서로를 존중하며 각자의 도리를 다해야 한다.
- ③ 자녀는 물질적 봉양만으로 도리를 다했다고 여겨서는 안 된다.
- ④ 부모는 자녀를 위해 헌신하며 아낌없는 사랑을 베풀어야 한다.
- ⑤ 부모는 자녀의 경제적 보답을 기대하며 사랑을 실천해야 한다.

2. 갑, 을의 입장으로 가장 적절한 것은? [3점]

사회 안에서 기존 문화와 이주민 문화가 모두 대등한 지위를 가지고 각자의 특성을 유지할 때 조화로운 사회를 실현할 수 있습니다.

사회 안에서 기존 문화와 이주민 문화가 함께 녹아들어 새로운 하나의 문화가 되어야 진정한 사회 통합을 실현할 수 있습니다.



- ① 갑: 다양한 문화의 고유한 정체성을 인정해야 한다.
- ② 갑: 문화 간의 우열을 구분하여 위계질서를 세워야 한다.
- ③ 을: 기존 문화를 버리고 이주민 문화로 대체해야 한다.
- ④ 을: 문화의 단일성이 아닌 문화의 다양성을 추구해야 한다.
- ⑤ 갑, 을: 이주민 문화를 기존 문화로 흡수하고 통합해야 한다.

3. 다음을 주장한 사상가의 입장에서 <사례> 속 A에게 제시할 조언으로 가장 적절한 것은?

도덕적 행위는 쾌락을 추구하는 경향성이나 욕구를 따르는 행위가 아니며, 단지 불쌍히 여기는 감정에 따라 남을 돕는 행위도 아니다. 도덕적 행위는 의무 의식에 따라 그 자체로 옳은 것을 실천하는 행위이다.

< 사 례 >  
아침에 급하게 등교하던 고등학생 A는 길에서 혼자 울고 있는 어린 아이를 보고 도와줘야 할지 고민하고 있다.

- ① 인간의 자연스러운 감정과 본능적 욕구에 따라 행동하세요.
- ② 충분한 보상과 대가를 받을 수 있는지 계산하고 행동하세요.
- ③ 자기 자신과 어린 아이의 이익이 최대가 되도록 행동하세요.
- ④ 주변 사람들로부터 칭찬받을 수 있는지 따져 보고 행동하세요.
- ⑤ 인간이라면 마땅히 행해야 할 도덕적 의무에 따라 행동하세요.

4. (가)를 주장한 사상가의 입장에서 볼 때, (나)의 ㉠에 들어갈 내용으로 적절한 것만을 <보기>에서 고른 것은?

(가)	인간은 도울 수 있는 모든 생명체를 도와주고 어떤 생명체에도 해가 되는 행동을 하지 않을 때 비로소 윤리적이다. 윤리적 인간은 생명체가 인간에게 얼마나 이익이 되는지를 묻지 않는다. 생명은 그 자체가 거룩하기 때문에 나뭇잎 하나를 함부로 따지 않고, 어떤 꽃도 망가뜨리지 않으며, 어떤 곤충도 밟아 죽이지 않도록 항상 주의해야 한다.
(나)	학생: 생명체를 대할 때 어떤 태도를 지녀야 합니까? 사상가: ㉠

< 보 기 >  
 가. 인간에게 유용한 생명체만을 도와야 합니다.  
 나. 동물이나 식물을 함부로 해치지 않아야 합니다.  
 다. 도구적 가치를 근거로 하여 생명체를 보호해야 합니다.  
 르. 생명의 존엄성을 깨닫고 모든 생명체를 사랑해야 합니다.

- ① 가, 나    ② 가, 다    ③ 나, 다    ④ 나, 르    ⑤ 다, 르

5. 그림의 강연자가 지지할 입장으로 가장 적절한 것은? [3점]

정의는 사회 제도의 제1 덕목입니다. 공정한 사회가 되려면 정의의 원칙이 필요합니다. 정의의 원칙에 따르면 우선 모든 사람은 양심의 자유나 종교의 자유와 같은 기본적인 자유를 평등하게 누려야 합니다. 다음으로 사회적·경제적 불평등 속에서는 사회적 약자에게 가장 큰 이익이 돌아가야 하고, 모든 구성원은 경쟁에 참여할 공정한 기회를 균등하게 보장받아야 합니다.



- ① 사회적 약자를 배려하는 제도를 시행해야 한다.
- ② 소득에 따라 직업에 대한 접근 기회를 제한해야 한다.
- ③ 특정 계층만이 사회 지도층 자리에 오를 수 있어야 한다.
- ④ 사회 정의 실현을 위해 빈부 격차가 모두 사라져야 한다.
- ⑤ 기본적인 자유를 개인의 능력에 따라 차등적으로 보장해야 한다.

6. 갑, 을의 입장으로 적절한 것만을 <보기>에서 고른 것은? [3점]

갑: 과학은 자연을 탐구하여 객관적 진리를 발견하는 것에만 주목해야 한다. 따라서 과학자는 자신의 연구가 사회에 미칠 영향에 대해 책임질 필요가 없다.  
 을: 과학은 자연에 대한 객관적 진리 발견 외에도 인류 복지 증진에 기여해야 한다. 따라서 과학자는 자신의 연구 결과가 사회에 미칠 영향에 대해 책임질 필요가 있다.

< 보 기 >  
 ㄱ. 갑: 과학자는 모든 연구 과정에서 사실 판단을 배제해야 한다.  
 ㄴ. 을: 과학자의 연구는 인류의 행복 실현에 이바지해야 한다.  
 ㄷ. 을: 과학자는 자신의 연구 결과에 대한 책임으로부터 자유로워야 한다.  
 ㄹ. 갑, 을: 과학자의 임무에는 자연에 대한 객관적 진리 탐구가 포함된다.

- ① ㄱ, ㄴ    ② ㄱ, ㄷ    ③ ㄴ, ㄷ    ④ ㄴ, ㄹ    ⑤ ㄷ, ㄹ

7. 다음 자료의 ㉠을 지도의 A~E에서 고른 것은? [3점]

**내가 ㉠ 여행하고 싶은 국가**

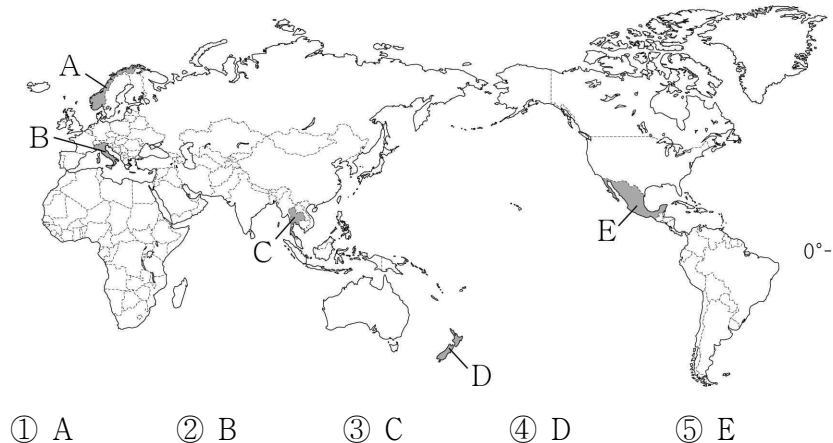
○○고등학교 △△△

1. 여행의 목적은?  
 레저, 휴양             고대 유적 방문  
 자연 경관 감상         현대적 도시 경관 답사


2. 여행하고 싶은 시기는?  
 1월 ~ 2월             7월 ~ 8월

3. 여행 시기에 선호하는 날씨는?  
 덥고 화창함             덥고 비가 내림  
 서늘하고 화창함         춥고 눈이 내림

4. 체험하고 싶은 현지의 전통 음식은?  
 타코                     연어 스테이크  
 파파야 샐러드           피자 와 파스타




8. 다음 자료의 (가)에 주민 생활 모습을 표현할 경우 가장 적절한 것은?



A 국가의 화폐(1992년 발행)

- ① 순록을 유목하는 모습  
 ② 올리브를 수확하는 모습  
 ③ 고무나무에서 수액을 채취하는 모습  
 ④ 라마와 알파카를 대규모로 키우는 모습  
 ⑤ 오아시스 주변에서 대추야자를 재배하는 모습

9. (가), (나) 지형의 형성 과정을 설명할 때, 공통적으로 포함되는 지형 형성 작용으로 옳은 것은?



(가) 시 스택과 시 아치(프랑스)            (나) 해안 절벽(제주도)

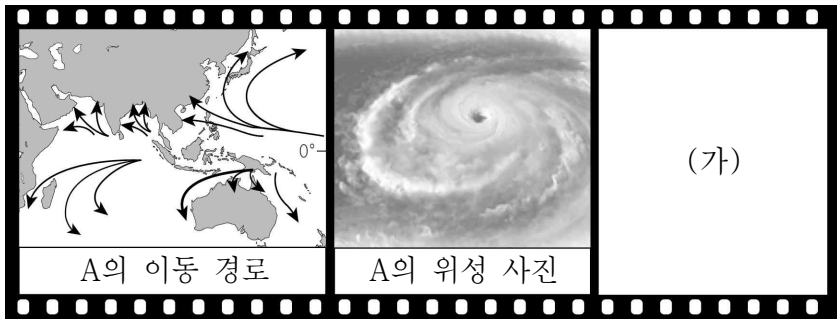
- ① 바람의 퇴적 작용            ② 빙하의 침식 작용  
 ③ 조류의 퇴적 작용            ④ 파랑의 침식 작용  
 ⑤ 파랑의 퇴적 작용

10. 다음 자료의 (가)에 들어갈 내용으로 가장 적절한 것은? [3점]

북부 아프리카에 위치한 국가인 말리에 독특한 형태의 모스크가 있다. 모스크의 상징인 돔 지붕과 첨탑 대신 평평한 지붕 위에 진흙탑이 올려져 있고, 초승달과 별 장식 대신 풍요와 번창을 의미하는 타조알 장식이 있다. 이처럼 문화는 다른 지역으로 전파되면서 원래의 모습이 변형되기도 한다. (가) 도 그러한 사례 중 하나이다.

- ① 세계 대부분의 국가에서 청바지를 입는 것  
 ② 라틴 아메리카 대부분의 국가에서 에스파냐어를 사용하는 것  
 ③ 멕시코의 과달루페에 검은 머리, 갈색 피부의 성모상이 있는 것  
 ④ 프랑스가 공공장소에서 히잡 착용을 금지하는 법을 제정한 것  
 ⑤ 인도에서 힌디어를 포함한 20여 개 언어를 공용어로 사용하는 것

11. A를 주제로 다큐멘터리를 제작할 때, (가)에 들어갈 장면으로 가장 적절한 것은?



- ① 침수된 집과 도로
- ② 물이 말라 갈라진 호수 바다
- ③ 용암이 흘러내리는 분화구
- ④ 지진으로 갈라진 도로
- ⑤ 도로에 가득 쌓인 눈

12. 다음 자료는 인구 이동의 사례이다. 이에 대한 옳은 설명만을 <보기>에서 고른 것은? [3점]

(가) 아프리카 소말리아에 살던 라흐마는 자기 집을 떠나야 했다. ㉠ 지속된 가뭄으로 강바닥이 드러나고 가축에게 먹일 풀이 말라 죽었기 때문이다. 난민촌에 거주하고 있는 그는 고향으로 돌아갈 날을 기다리고 있다.

(나) 베트남에 살던 응옥 뚜옌은 돈을 벌기 위해 ㉡ 싱가포르로 이주하였다. 그녀는 이곳에서 가사 도우미로 일하며 소득의 대부분을 베트남에 있는 가족에게 송금한다.

- < 보 기 >
- ㄱ. ㉠의 주요 발생 원인은 인구 증가이다.
  - ㄴ. ㉡은 인구 유입이 인구 유출보다 활발하다.
  - ㄷ. (가)는 환경적 요인, (나)는 경제적 요인으로 발생하였다.
  - ㄹ. (가), (나)는 모두 강제적 이동에 해당한다.

- ① ㄱ, ㄴ    ② ㄱ, ㄷ    ③ ㄴ, ㄷ    ④ ㄴ, ㄹ    ⑤ ㄷ, ㄹ

13. 신문 기사 내용과 같은 정책이 필요한 이유로 가장 적절한 것은?

○○ 신문

2021년 △월 △일

최근 우리나라 정부는 2030년까지 이산화 탄소 포집·저장 및 관련 기술 개발에 대규모로 투자할 계획을 발표했다. 이산화 탄소 포집·저장 기술이란 산업 시설에서 배출된 불순물 중 이산화 탄소만을 분리하여 액화한 후 저장하는 것을 말한다. 우리나라에서는 한국에너지기술연구원이 최초로 이산화 탄소 포집 기술을 개발하여 관련 기업에 기술을 이전해 주고 있다.

- ① 미세 먼지 감소                      ② 삼림 파괴 방지
- ③ 수질 오염 방지                      ④ 전자 쓰레기 감소
- ⑤ 지구 온난화 완화

14. 다음은 갑국의 정부 형태의 특징을 정리한 것이다. 이에 대한 설명으로 옳은 것은? (단, 갑국의 정부 형태는 전형적인 대통령제와 전형적인 의원 내각제 중 하나이다.) [3점]

- 국가 원수는 국가를 대표하는 상징적 존재이다.
- 행정부 수반인 총리(수상)는 의회 의원 중에서 선출된다.
- 총리는 내각을 구성하고 행정을 담당한다.

- ① 미국에서 채택된 정부 형태이다.
- ② 행정부 수반은 의회를 해산할 수 없다.
- ③ 의회 의원은 내각의 각료(장관)를 겸직할 수 있다.
- ④ 국가 원수는 독자적으로 국정을 운영할 권한이 있다.
- ⑤ 행정부의 내각은 의회 의원 선거 결과와 상관없이 구성된다.

15. 자료의 ㉠, ㉡에 들어갈 카드로 옳은 것은? [3점]

교사: 시민 단체, 이익 집단, 정당을 구분하는 탐구 활동을 해 보겠습니다. (가)가 정당만 될 수 있도록 ㉠, ㉡에 들어갈 수 있는 질문 카드를 찾아봅시다.

㉠

예 →

㉡

아니요 →

(가)

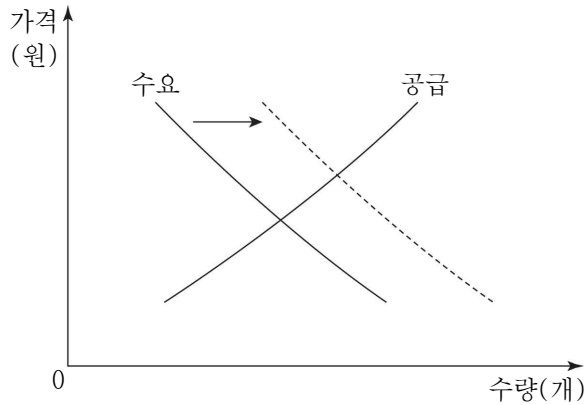
A  
정치권력 획득을 목적으로 하는가?

B  
자신들의 특수한 이익을 실현하고자 하는가?

C  
정치 과정에 참여하는 주체에 해당하는가?

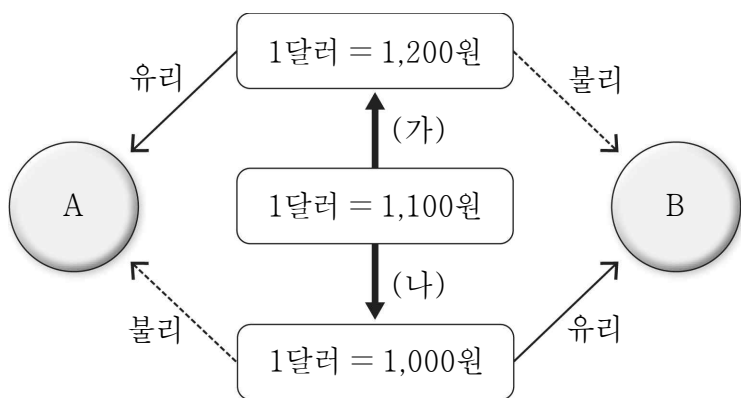
- ㉠    ㉡
- ①    A    B                      ②    A    C
- ③    B    A                      ④    B    C
- ⑤    C    A

16. 그림은 빵 시장의 변화를 나타낸 것이다. 이에 대한 설명으로 옳은 것은? (단, 떡은 빵의 대체재이다.)



- ① 빵의 공급량은 증가한다.
- ② 빵의 판매 수입은 감소한다.
- ③ 빵의 균형 가격은 하락한다.
- ④ 떡의 가격이 하락하면 나타날 수 있는 변화이다.
- ⑤ 빵의 생산 비용이 감소하면 나타날 수 있는 변화이다.

17. 그림은 원/달러 환율의 변동 (가), (나)에 따른 경제 주체 A, B의 유·불리를 나타낸 것이다. 이에 대한 설명으로 옳은 것은? [3점]



- ① (가)는 원/달러 환율 하락을 의미한다.
- ② (나)는 원화 대비 달러화 가치의 상승을 의미한다.
- ③ 미국 여행을 가려는 우리나라 사람은 A에 해당한다.
- ④ 미국산 원료를 수입하려는 우리나라 기업은 B에 해당한다.
- ⑤ 달러화를 원화로 환전하려는 우리나라 사람은 B에 해당한다.

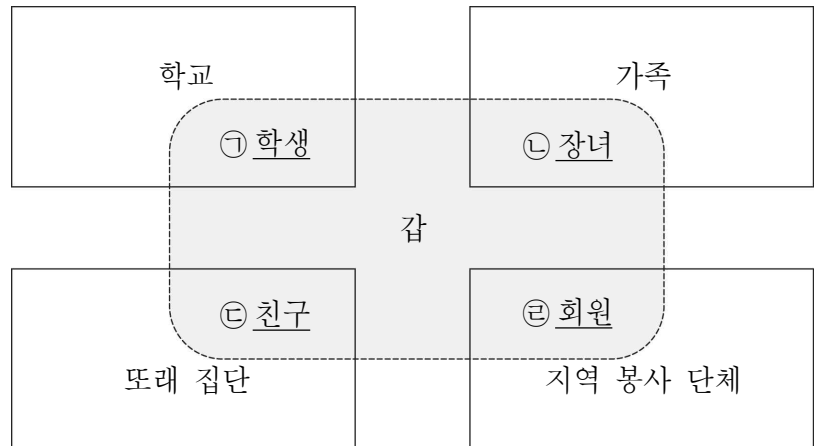
18. 다음 사례에서 부각되는 문화의 속성에 대한 옳은 진술만을 <보기>에서 고른 것은?

갑국에서 성인들은 얼굴에 강렬한 문신을 한다. 이를 처음 보는 외국 사람들은 매우 낯설게 여기지만 갑국 사람들은 이를 자연스럽게 받아들인다. 갑국의 부모들은 문신의 형태와 의미에 대해 어린 자녀들과 자주 이야기하며 성인이 되면 어떤 문신을 할지 함께 고민한다.

- < 보 기 >
- ㄱ. 한 사회의 구성원들은 그 사회의 문화를 공유한다.
  - ㄴ. 문화는 고정된 것이 아니라 시대에 따라 변화한다.
  - ㄷ. 문화는 선천적인 것이 아니라 후천적으로 학습된 것이다.
  - ㄹ. 문화의 한 요소가 변화하면 다른 요소들도 연쇄적으로 변화한다.

- ① ㄱ, ㄴ    ② ㄱ, ㄷ    ③ ㄴ, ㄷ    ④ ㄴ, ㄹ    ⑤ ㄷ, ㄹ

19. 그림에서 ㉠~㉣은 갑이 자신의 소속 집단에서 차지하고 있는 지위를 나타낸 것이다. 이에 대한 옳은 설명만을 <보기>에서 고른 것은?

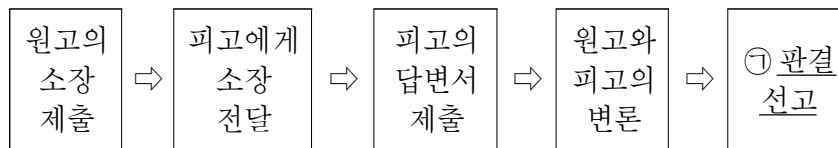


- < 보 기 >
- ㄱ. ㉠의 역할 행동에 대한 보상의 예로 모범 학생상 수상을 들 수 있다.
  - ㄴ. ㉢과 달리 ㉠은 태어날 때부터 자연적으로 주어지는 귀속 지위에 해당한다.
  - ㄷ. ㉠과 ㉢의 역할을 동시에 수행해야 하는 상황에서 두 역할이 충돌하는 경우는 역할 갈등에 해당한다.
  - ㄹ. ㉡과 ㉣은 모두 개인의 능력이나 노력으로 얻게 되는 성취 지위에 해당한다.

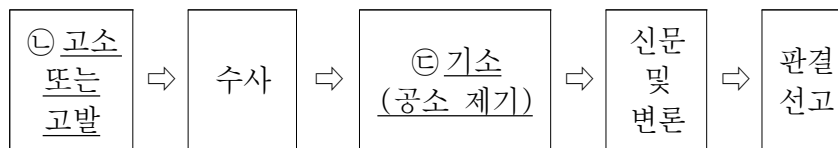
- ① ㄱ, ㄴ    ② ㄱ, ㄷ    ③ ㄴ, ㄷ    ④ ㄴ, ㄹ    ⑤ ㄷ, ㄹ

20. 그림에 대한 설명으로 옳은 것은? (단, (가), (나)는 각각 민사 소송, 형사 소송 중 하나이다.) [3점]

< (가)의 과정 >



< (나)의 과정 >



- ① ㉠에서 판사는 유·무죄를 판단한다.
- ② ㉡의 주체가 (나)에서 원고가 된다.
- ③ ㉢은 범죄 피해자가 할 수 있다.
- ④ (가)의 재판에는 배심원이 참여할 수 있다.
- ⑤ (가)는 민사 소송, (나)는 형사 소송이다.

**\* 확인 사항**  
 ○ 답안지의 해당란에 필요한 내용을 정확히 기입(표기)했는지 확인하십시오.