

제 4 교시

사회탐구 영역 (세계지리)

성명  수험번호      2    제 ( ) 선택

1. 다음 자료를 토대로 하나의 국가를 선택하여 정보 통신 서비스 센터를 개설하려고 한다. 가장 적합한 국가를 지도에서 고른 것은? (단, 합산 점수가 가장 높은 국가를 선택함.)

<평가 기준>

항목 점수	도시화율 (%)	인구 백 명당 휴대전화 등록 수 (회선)	해외 입국자 수 (십만 명)
1점	40 미만	100 미만	50 미만
2점	40 ~ 50	100 ~ 150	50 ~ 200
3점	50 이상	150 이상	200 이상

<국가 정보>


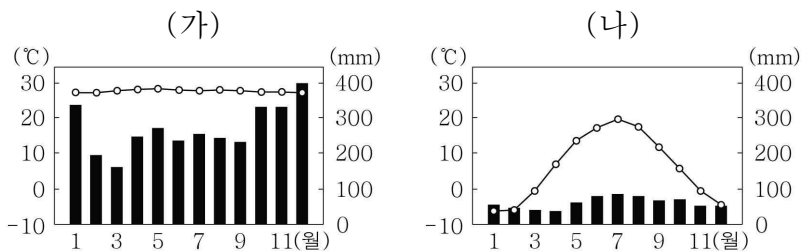
항목 국가	도시화율 (%)	인구 백 명당 휴대전화 등록 수 (회선)	해외 입국자 수 (십만 명)
미얀마	31	114	44
라오스	36	61	48
베트남	37	141	180
필리핀	47	155	83
말레이시아	77	140	261

(2019년)



- ① 미얀마                      ② 라오스                      ③ 베트남
- ④ 필리핀                      ⑤ 말레이시아

2. 그래프는 두 지역의 기온과 강수량을 나타낸 것이다. (가), (나) 지역의 식생 경관을 그림의 A~C에서 고른 것은? [3점]



- (가)    (나)                      (가)    (나)
- ①    A    B                      ②    A    C
- ③    B    A                      ④    B    C
- ⑤    C    A

3. 다음은 학생의 블로그 게시물이다. 지도에 표시된 지역의 랜드마크로 옳은 것만을 A~D에서 고른 것은?

**랜드마크로 본 지역!**

랜드마크는 한 지역을 대표하는 상징물로, 지역에 따라 건축물, 기념비 등 다양한 형태로 나타난다. 다음은 세계 주요 지역의 랜드마크를 나타낸 것이다.

- ① A, B    ② A, C    ③ B, C    ④ B, D    ⑤ C, D

4. 다음 자료의 (가), (나) 에너지에 대한 설명으로 옳은 것은? (단, (가), (나)는 각각 석유, 석탄 중 하나임.) [3점]

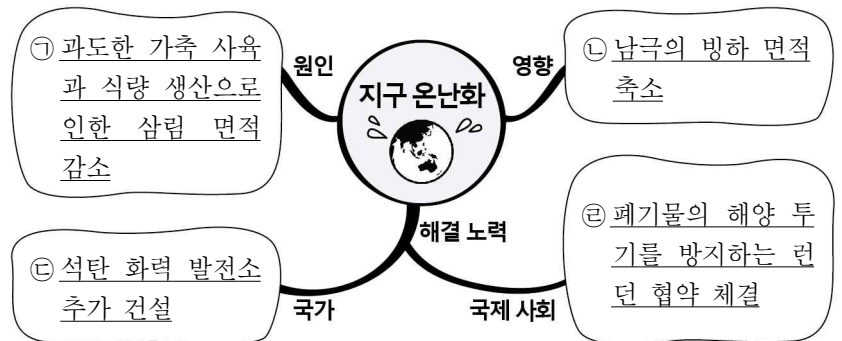
**인간에게 중요한 에너지 선발 대회**

난 (가)! 증기 기관차의 친구지! 산업 혁명기 에너지? 내 담당이지!

난 자동차의 친구! 현재 세계에서 가장 많이 쓰이는 1차 에너지는 누구? (나)!

- ① (가)는 주로 신기 조산대에 매장되어 있다.
- ② (나)의 세계 최대 수출 국가는 오스트레일리아이다.
- ③ (가)는 (나)보다 상업적으로 이용된 시기가 이른다.
- ④ (가)는 (나)보다 플라스틱 제조 원료로 많이 이용된다.
- ⑤ (가), (나) 모두 재생 가능한 에너지이다.

5. 다음은 학생이 작성한 마인드맵의 일부이다. ㉠~㉣ 중 옳은 내용만을 고른 것은?



- ① ㉠, ㉡                      ② ㉠, ㉣                      ③ ㉡, ㉣
- ④ ㉡, ㉢                      ⑤ ㉢, ㉣


세계지리

6. 다음 자료의 (가)에 들어갈 내용으로 옳은 것은?



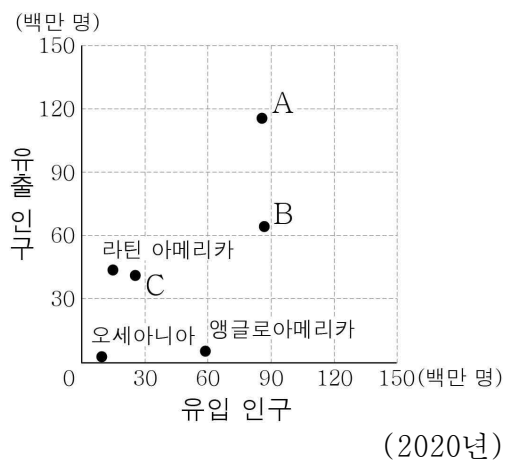
- ① 용암의 분출                      ② 바람의 퇴적 작용
- ③ 빙하의 침식 작용                ④ 파랑의 침식 작용
- ⑤ 하천의 퇴적 작용

7. 다음 자료의 (가) 종교에 대한 설명으로 옳은 것은? [3점]



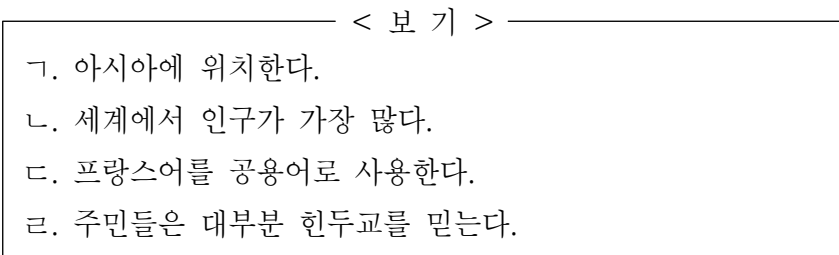
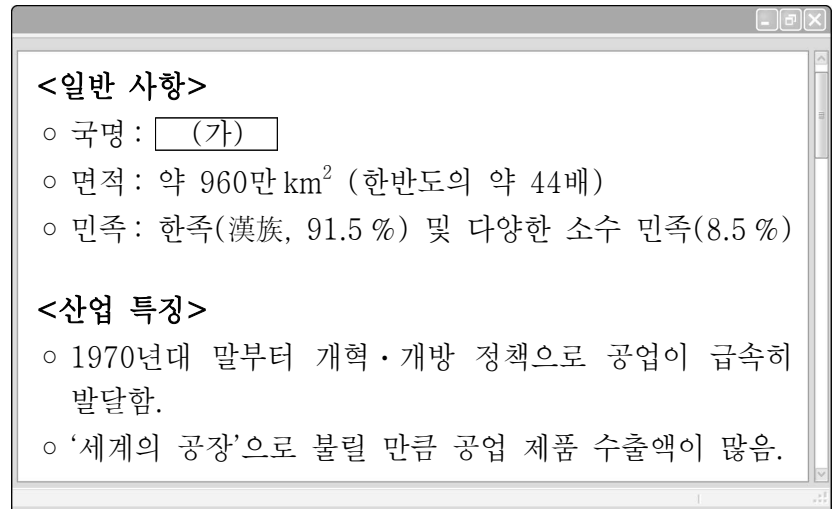
- ① 쿠란이 경전이다.
- ② 민족 종교에 해당한다.
- ③ 서남아시아에서 기원하였다.
- ④ 세계에서 신자 수가 가장 많다.
- ⑤ 윤회 사상과 개인의 해탈을 중시한다.

8. 그래프는 지역(대륙)별 인구 이주에 대한 것이다. A~C 지역(대륙)으로 옳은 것은? [3점]



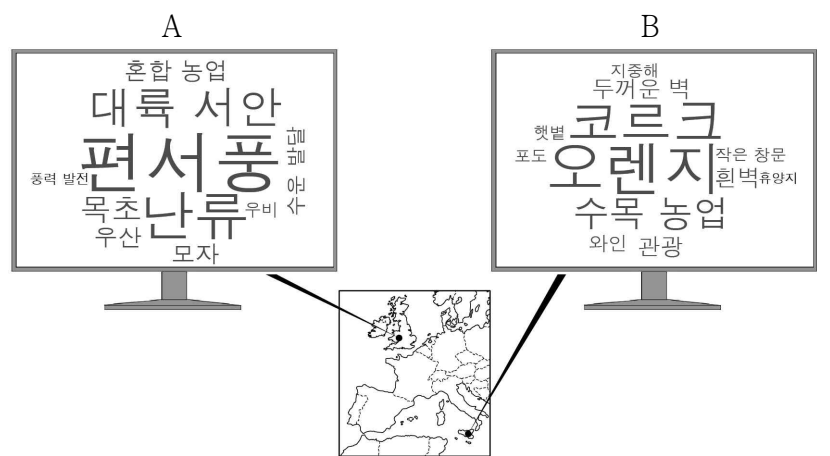
- |   | A    | B    | C    |
|---|------|------|------|
| ① | 유럽   | 아시아  | 아프리카 |
| ② | 유럽   | 아프리카 | 아시아  |
| ③ | 아시아  | 유럽   | 아프리카 |
| ④ | 아시아  | 아프리카 | 유럽   |
| ⑤ | 아프리카 | 유럽   | 아시아  |

9. 다음 자료는 어느 국가에 대한 정보를 검색한 내용이다. (가) 국가에 대한 옳은 설명만을 <보기>에서 고른 것은?

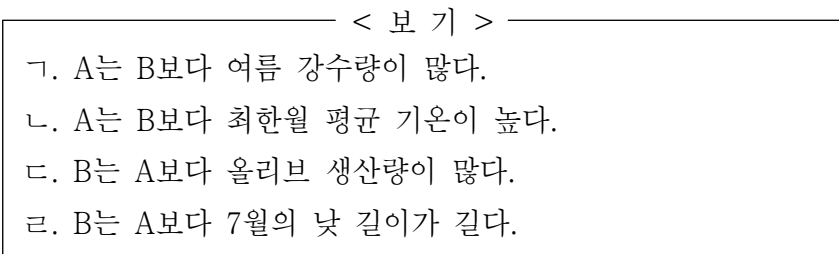


- ① ㄱ, ㄴ    ② ㄱ, ㄷ    ③ ㄴ, ㄷ    ④ ㄴ, ㄹ    ⑤ ㄷ, ㄹ

10. 다음 자료는 지도에 표시된 두 지역의 워드 클라우드이다. A, B 지역에 대한 옳은 설명만을 <보기>에서 고른 것은? [3점]



\* 워드 클라우드는 특정 주제와 관련해 사용된 단어의 빈도나 중요성을 글자 크기로 시각화하여 나타낸 것임.

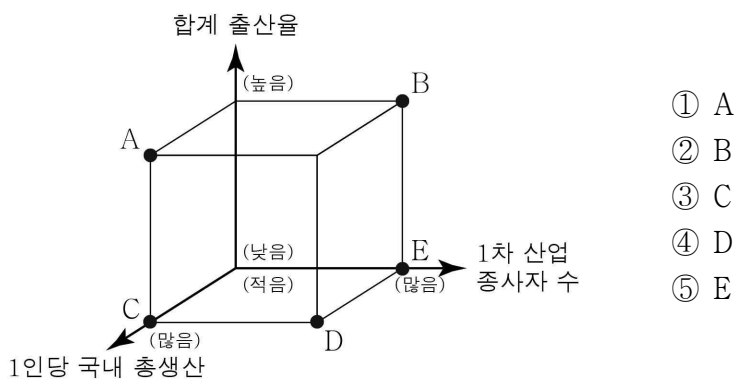


- ① ㄱ, ㄴ    ② ㄱ, ㄷ    ③ ㄴ, ㄷ    ④ ㄴ, ㄹ    ⑤ ㄷ, ㄹ

11. 표는 두 국가의 인구 및 경제 현황을 나타낸 것이다. (가) 국가와 비교한 (나) 국가의 상대적 특징을 그림의 A~E에서 고른 것은? (단, (가), (나)는 각각 독일, 필리핀 중 하나임.) [3점]

국가		(가)	(나)
총인구(백만 명)		110	84
국내 총생산(백억 달러)		36	381
연령별 인구 비율(%)	0~14세	30	14
	15~64세	64	64
	65세 이상	6	22
산업별 종사자 비율(%)	1차 산업	25	1
	2차 산업	18	27
	3차 산업	57	72

(2020년)

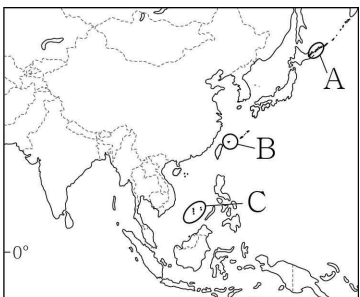


- ① A
- ② B
- ③ C
- ④ D
- ⑤ E

12. 다음 자료는 신문 기사의 일부이다. (가), (나) 지역을 지도의 A~C에서 고른 것은?

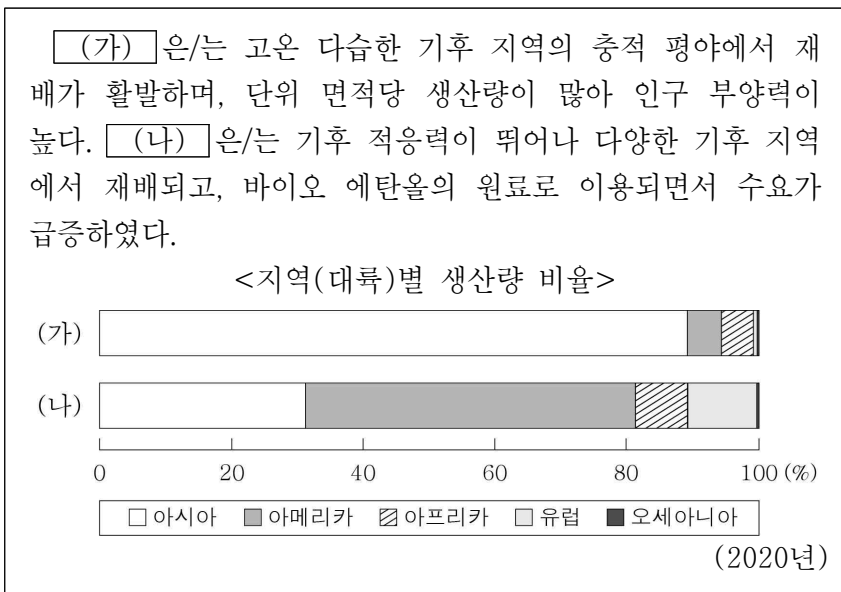
중국은 (가)의 약 90%에 대한 영유권을 주장하면서 베트남, 필리핀, 타이완, 말레이시아, 브루나이 등 주변국은 물론 미국을 비롯한 국제 사회와 마찰을 빚고 있다. 최근 필리핀은 (가)에 수개월간 정박하고 있는 중국 선박들의 즉각적인 철수를 요구하고 있다.  
- ○○신문, 2021년 4월 △△일 -

(나)은/는 일본이 실효 지배 중이지만, 중국 역시 자국 영토라는 입장을 굽히지 않고 있다. 최근 (나) 주변 해역에서 중국 해경 선박이 수시로 활동하면서 두 국가 간의 긴장감이 고조되고 있다.  
- □□신문, 2021년 10월 ◇◇일 -



- |   |     |     |
|---|-----|-----|
|   | (가) | (나) |
| ① | A   | B   |
| ② | B   | A   |
| ③ | B   | C   |
| ④ | C   | A   |
| ⑤ | C   | B   |

13. 다음 자료의 (가), (나) 식량 작물로 옳은 것은? [3점]



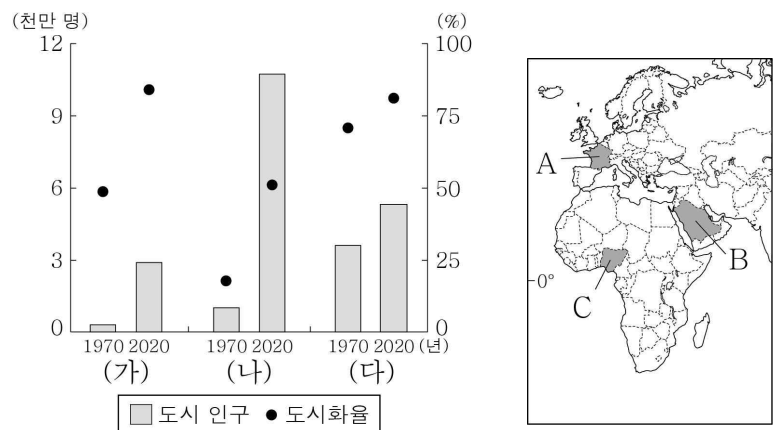
- |   |     |     |   |     |     |
|---|-----|-----|---|-----|-----|
|   | (가) | (나) |   | (가) | (나) |
| ① | 밀   | 쌀   | ② | 밀   | 옥수수 |
| ③ | 쌀   | 밀   | ④ | 쌀   | 옥수수 |
| ⑤ | 옥수수 | 쌀   |   |     |     |

14. 다음 글의 (가)에 들어갈 발전 양식에 대한 설명으로 옳은 것은?

'얼음의 땅'이라 불리는 아이슬란드는 북대서양에 위치한 섬나라이다. 모든 땅이 푹푹 얼어 있을 것 같지만, 활화산이 많고 땅속에서 뜨거운 김이 올라오는 간헐천을 흔히 볼 수 있다. 아이슬란드는 땅속의 열에너지를 활용한 (가)을 통해 많은 양의 전력을 공급하고 있다.

- ① 발전 후 폐기물 처리에 어려움이 크다.
- ② 판의 경계 지역에서 개발 잠재력이 크다.
- ③ 세계 전력 생산에서 차지하는 비율이 가장 높다.
- ④ 유량이 풍부하고 낙차가 큰 곳에서 발전이 유리하다.
- ⑤ 바람의 방향과 속도가 발전량에 미치는 영향이 크다.

15. 그래프는 세 국가의 도시 인구와 도시화율 변화를 나타낸 것이다. (가)~(다) 국가를 지도의 A~C에서 고른 것은? [3점]



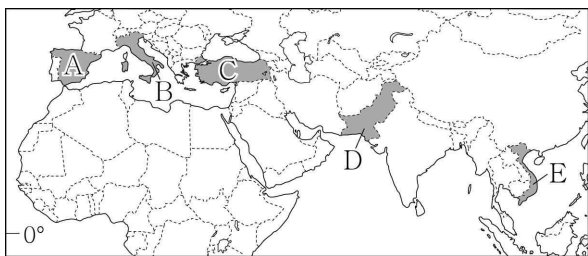
- |   |     |     |     |   |     |     |     |
|---|-----|-----|-----|---|-----|-----|-----|
|   | (가) | (나) | (다) |   | (가) | (나) | (다) |
| ① | A   | B   | C   | ② | A   | C   | B   |
| ③ | B   | A   | C   | ④ | B   | C   | A   |
| ⑤ | C   | A   | B   |   |     |     |     |

16. 다음 자료의 (가)에 들어갈 내용으로 가장 적절한 것은?

갑: 겨울 방학 때 ○○○ 국가에 여행을 가면 무엇을 하고 싶은지 이야기해 보자.  
 을: 나일강 주변에 있는 농장에 가서 관개 농업으로 재배된 대추야자를 먹고 싶어.  
 병: 아시아와 아프리카의 경계가 될 수 있는 수에즈 운하에 가서 배가 운하를 통과하는 모습을 보고 싶어.  
 정: \_\_\_\_\_ (가) \_\_\_\_\_ 을/를 보고 싶어.

- ① 눈과 얼음으로 만든 이글루
- ② 고대 문명의 유적인 피라미드
- ③ 마오리족 전사들의 전통 문화 공연
- ④ 이슬람교 최대 성지인 메카의 카바 신전
- ⑤ 커피를 대규모로 재배하는 플랜테이션 농장

17. 다음 자료는 어느 국가의 전통 음식을 만드는 장면이다. (가) 국가를 지도의 A~E에서 고른 것은? [3점]



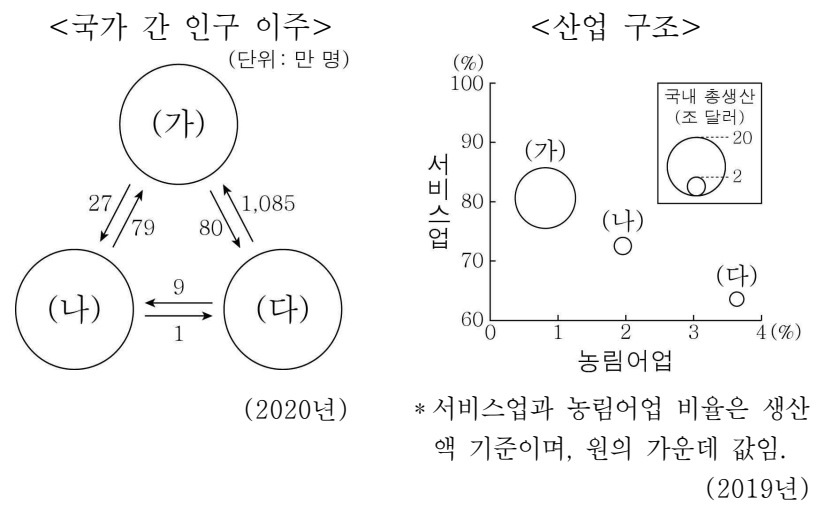
- ① A      ② B      ③ C      ④ D      ⑤ E

18. 다음 자료의 (가) 동물이 주로 서식하는 기후 지역에서 이루어지는 체험 관광 프로그램으로 가장 적절한 것은?

갑: 며칠 있으면 크리스마스입니다. 오늘은 산타의 단짝 루돌프에 대한 몇 가지 사실들을 알아보려고 합니다.  
 을: '루돌프 사슴코' 노래의 주인공 루돌프는 크리스마스 하면 떠오르는 동물이지요.  
 갑: 노래에 나오는 루돌프는 사실 (가) 입니다. (가) 은/는 작은 귀와 이중으로 덮힌 털이 특징이고, 북극해 연안의 주민들은 이 동물을 유목합니다.

- ① 푸른 차밭에서 녹차 잎 따기
- ② 사막의 배라고 불리는 낙타 타기
- ③ 천상의 커튼이라 불리는 오로라 감상하기
- ④ 울긋불긋한 단풍잎을 주워 책갈피 만들기
- ⑤ 푸른 바다의 산호 숲에서 열대어 사진 찍기

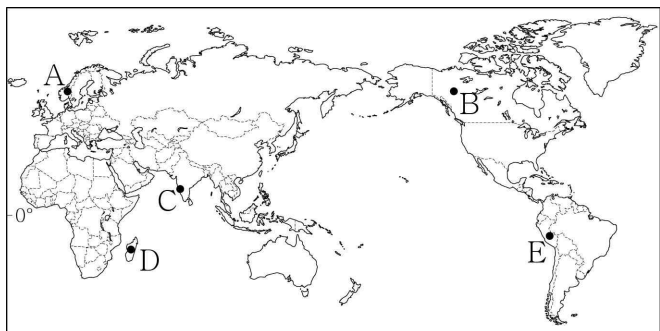
19. 다음 자료의 (가)~(다) 국가에 대한 옳은 설명만을 <보기>에서 고른 것은? (단, (가)~(다)는 각각 멕시코, 미국, 캐나다 중 하나임.) [3점]



< 보기 >  
 ㄱ. (가)는 (다)보다 항공·우주 산업이 발달하였다.  
 ㄴ. (나)와 (다)는 국경을 접하고 있다.  
 ㄷ. (가)~(다) 중 총인구는 (가)가 가장 많다.  
 ㄹ. (가)는 캐나다, (나)는 멕시코, (다)는 미국이다.

- ① ㄱ, ㄴ    ② ㄱ, ㄷ    ③ ㄴ, ㄷ    ④ ㄴ, ㄹ    ⑤ ㄷ, ㄹ

20. 다음 자료의 '이곳'을 지도의 A~E에서 고른 것은?



- ① A      ② B      ③ C      ④ D      ⑤ E

\* 확인 사항  
 ○ 답안지의 해당란에 필요한 내용을 정확히 기입(표기)했는지 확인하시오.