

2022학년도 4월 고3 전국연합학력평가 문제지

사회탐구 영역(세계지리)

제 4 교시

성명

수험 번호

3

제 [] 선택

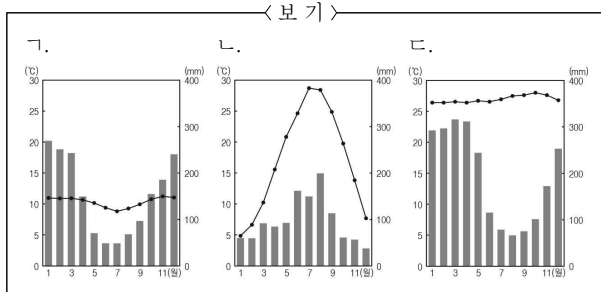
1

1. 다음 자료는 온라인 고지도 전시관 화면의 일부이다. (가), (나) 지도에 대한 설명으로 옳은 것은?



- ① (가)는 지도의 위쪽이 남쪽이다.
- ② (가)는 크리스토프 세계관이 반영되어 있다.
- ③ (나)는 지구가 구체(球體)라는 인식이 반영되어 있다.
- ④ (나)는 저위도에서 고위도로 갈수록 면적이 정확하게 표현되어 있다.
- ⑤ (가)와 (나)에는 모두 아메리카 대륙이 표현되어 있다.

2. 다음 자료는 여행 후 작성한 온라인 게시물이다. A, B 지역의 기후 그래프를 <보기>에서 고른 것은?



- | | | |
|-------|-------|-------|
| A B | A B | A B |
| ① ㉠ ㉡ | ② ㉠ ㉢ | ③ ㉡ ㉠ |
| ④ ㉡ ㉢ | ⑤ ㉢ ㉠ | |

3. 다음 자료는 여행 상품 화면의 일부이다. ㉠, ㉡에 대한 옳은 설명만을 <보기>에서 고른 것은? [3점]



< 보 기 >

㉠. ㉠은 칼데라이다.
 ㉡. ㉠의 기반암은 주로 석회암으로 구성되어 있다.
 ㉢. ㉡의 내부에서 중유석, 석순, 석주 등을 볼 수 있다.
 ㉣. ㉡은 화학적 풍화 작용보다 물리적 풍화 작용이 활발한 곳에서 잘 발달한다.

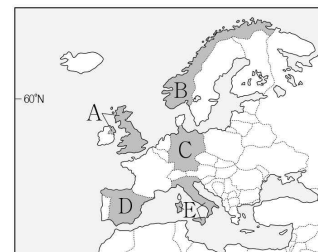
- ① ㉠, ㉡ ② ㉠, ㉢ ③ ㉡, ㉢ ④ ㉡, ㉣ ⑤ ㉢, ㉣

4. 다음 자료의 (가) 국가를 지도의 A ~ E에서 고른 것은?

(가), 전기차 보급률이 가장 높은 국가

(가)은/는 세계에서 전기차 보급률 <연료별 승용차 판매 비율>이 가장 높다. 그 이유로는 전기차 구매에 대한 다양한 혜택과 편리한 충전 인프라, 그리고 저렴한 전기요금을 들 수 있다. 이 국가는 빙하가 침식한 U자곡에 바닷물이 들어와 형성된 해안과 빙하호가 곳곳에 분포하는데, 이러한 지형의 큰 낙차와 풍부한 유량을 이용하여 크고 작은 규모의 수력 발전소를 많이 건설하였다. 수력 발전을 통해 생산된 전기는 소비자에게 저렴하게 공급되며, 국가 전체 전력 생산의 90% 이상을 차지하고 있다.

(2021, 단위: %)



- ① A
- ② B
- ③ C
- ④ D
- ⑤ E

2 (세계지리)

사회탐구 영역

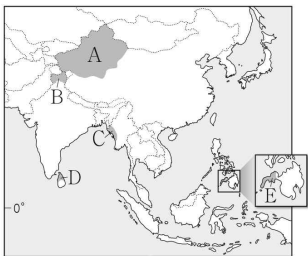
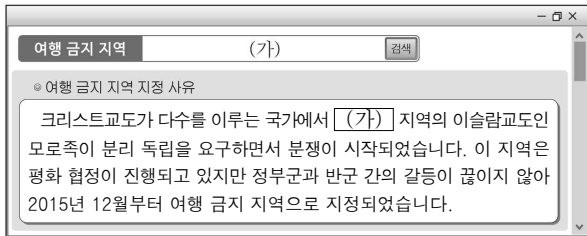
5. 표의 (가) ~ (다) 경제 협력체에 대한 설명으로 옳은 것은? (단, (가) ~ (다)는 각각 유럽 연합, 동남아시아 국가 연합, 미국·멕시코·캐나다 협정 중 하나임.) [3점]

| 구분 | 총인구 (백만 명) | 총면적 (만 km ²) | 총무역액 | | 역내 총생산 (백억 달러) |
|-----|---------------|-----------------------------|-------------------|-------------------|-------------------|
| | | | 역내 무역액 (백억 달러) | 역외 무역액 (백억 달러) | |
| (가) | 448 | 423 | 598 | 438 | 1,528 |
| (나) | 496 | 2,178 | 210 | 333 | 2,366 |
| (다) | 667 | 449 | 56 | 211 | 300 |

* 미국·멕시코·캐나다 협정(USMCA)은 북아메리카 자유 무역 협정(NAFTA)을 재협상하여 새롭게 체결한 협정임. (2020)

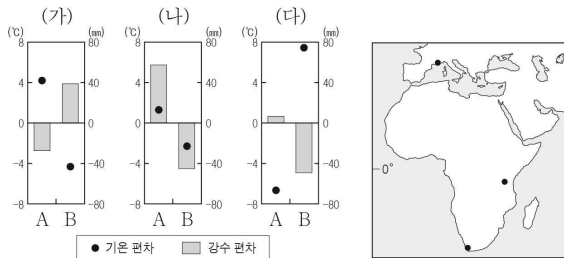
- ① (가)는 역내 생산 요소의 자유로운 이동이 보장된다.
- ② (나)는 (다)보다 회원국 수가 많다.
- ③ (다)는 (가)보다 정치·경제적인 통합 수준이 높다.
- ④ (가) ~ (다) 모두 역외 국가들에 대해 공동 관세를 부과한다.
- ⑤ 유럽 연합은 역외 무역액이 역내 무역액보다 많다.

6. 다음 자료는 여행 금지 지역을 검색한 화면의 일부이다. (가) 지역을 지도의 A ~ E에서 고른 것은?



- ① A
- ② B
- ③ C
- ④ D
- ⑤ E

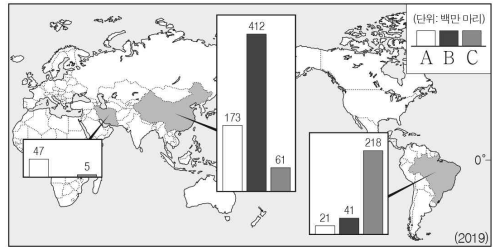
7. 그래프는 지도에 표시된 세 지역의 기후 특성을 나타낸 것이다. (가) ~ (다) 지역에 대한 설명으로 옳은 것은? (단, A, B는 각각 1월과 7월 중 하나임.) [3점]



* 기온 편차 = 월평균 기온 - 연평균 기온
** 강수 편차 = 월 강수량 - (연 강수량 ÷ 12)

- ① (가)는 최하월 평균 기온이 18°C 이상이다.
- ② (다)는 A 시기가 B 시기보다 낮은 길이가 길다.
- ③ (가)는 (나)보다 기온의 연교차가 작다.
- ④ (가)는 (다)보다 7월 강수 집중률이 높다.
- ⑤ (다)는 (나)보다 적도 수렴대의 영향을 많이 받는다.

8. 그래프는 지도에 표시된 세 국가의 가축 사육 두수를 나타낸 것이다. A ~ C 가축에 대한 설명으로 옳은 것은? (단, A ~ C는 각각 소, 양, 돼지 중 하나임.)



- ① A는 이슬람 문화권에서 식육이 금기시된다.
- ② B의 털은 모직 공업의 주원료로 이용된다.
- ③ A는 B보다 유목에 적합하다.
- ④ B는 C보다 아시아의 벵골 지역에서 노동력 대체 효과가 크다.
- ⑤ C는 A보다 세계 육류 소비량에서 차지하는 비율이 낮다.

9. 다음 자료의 (가), (나) 도시에 대한 옳은 설명만을 <보기>에서 고른 것은?



(가)은/는 세계적인 정치, 경제, 문화의 중심지이다. 도심인 맨해튼의 브로드웨이와 월 스트리트를 중심으로 밀집된 초고층 건물이 세계적으로 유명한 스카이라인을 이룬다.

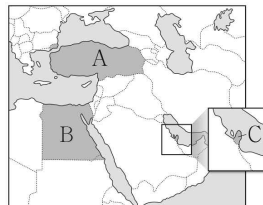
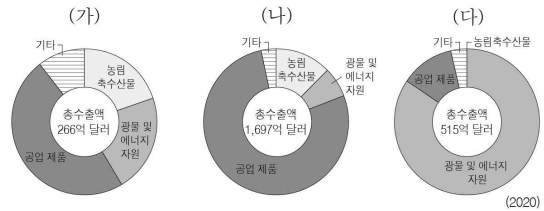
(나)은/는 에펠탑, 개선문 이 유명한 도시이다. 도시 서쪽 외곽에는 초고층 건물이 밀집된 라데팡스가 위치하는데, 고도가 낮은 상궤전차 거리와 대비되는 높은 스카이라인이 인상적이다.

< 보기 >

- ㄱ. (가)는 앵글로아메리카에 위치한다.
ㄴ. (나)에는 국제 연합(UN)의 본부가 있다.
ㄷ. (나)는 (가)보다 도시 발달의 역사가 길다.
ㄹ. (가), (나) 모두 해당 국가의 수도이다.

- ① ㄱ, ㄴ ② ㄱ, ㄷ ③ ㄴ, ㄷ ④ ㄴ, ㄹ ⑤ ㄷ, ㄹ

10. 그래프는 지도에 표시된 세 국가의 상품 수출 구조를 나타낸 것이다. (가) ~ (다) 국가를 지도의 A ~ C에서 고른 것은? [3점]



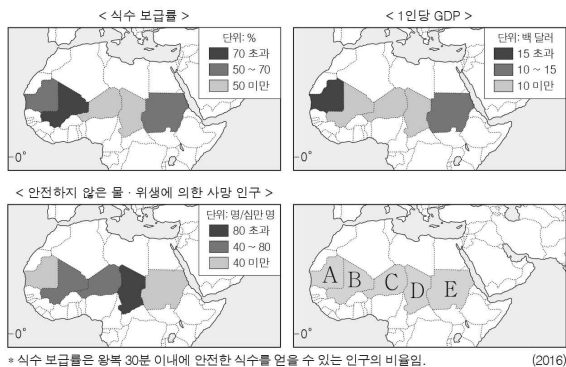
(가) (나) (다)

- ① A B C
- ② A C B
- ③ B A C
- ④ B C A
- ⑤ C A B

11. 다음 자료를 토대로 하나의 국가를 선정하여 식수 시설 개선 사업 비용을 지원하고자 한다. 가장 적합한 국가를 지도의 A~E에서 고른 것은? (단, 합산 점수가 가장 큰 국가를 선정함.) [3점]

<점수 산정 기준>

| 평가 항목 | 점수 | 식수 보급률 (%) | 1인당 GDP (백 달러) | 안전하지 않은 물·위생에 의한 사망 인구 (명/십만 명) |
|-------|---------|------------|----------------|---------------------------------|
| 1점 | 70 초과 | 15 초과 | 40 미만 | |
| 2점 | 50 ~ 70 | 10 ~ 15 | 40 ~ 80 | |
| 3점 | 50 미만 | 10 미만 | 80 초과 | |



- ① A ② B ③ C ④ D ⑤ E

12. 다음 자료는 지도에 표시된 세 산맥이 표현된 국가(國歌) 가사의 일부이다. (가)~(다) 산맥에 대한 옳은 설명만을 <보기>에서 고른 것은? [3점]

J ~ Wenn der Alpenfirn sich rötet, Betet, freie Schweizer ~ J
 [(가)]의 만년설이 붉게 물들 때면, 기도하라, 자유로운 스위스인이여
 - 스위스 국가 -

J ~ Vindhya, Himachala, Yamuna, Ganga, uchchala jaladhi taranga ~ J
 빈디아, [(나)], 야무나, 갠지스여, 온 곳에 파도치는 모든 대양이여
 - 인도 국가 -

J ~ Bolivar cruza el ande, Que riega dos océanos ~ J
 [(다)]을/를 건너는 볼리바르, 두 개의 대양에 의해 씻겨지고
 - 콜롬비아 국가 -

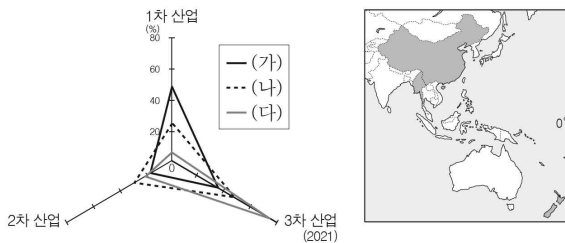


<보기>

- ㄱ. (가)는 고생대의 조산 운동으로 만들어진 산맥이다.
 ㄴ. (나)는 해양판과 대륙판이 충돌하여 형성되었다.
 ㄷ. (다)는 환태평양 조산대에 속한다.
 ㄹ. (다)는 (나)보다 화산 활동이 활발하다.

- ① ㄱ, ㄴ ② ㄱ, ㄷ ③ ㄴ, ㄷ ④ ㄴ, ㄹ ⑤ ㄷ, ㄹ

13. 그래프는 지도에 표시된 세 국가의 산업별 종사자 비율을 나타낸 것이다. (가)~(다) 국가에 대한 옳은 설명만을 <보기>에서 고른 것은?

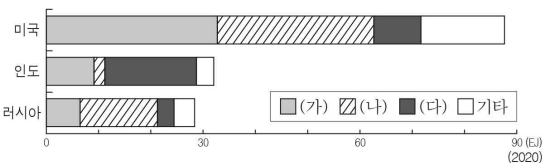


<보기>

- ㄱ. (가)는 세계에서 총인구가 가장 많다.
 ㄴ. (가)는 (다)보다 쌀 생산량이 많다.
 ㄷ. (다)는 (나)보다 국내 총생산(GDP)이 많다.
 ㄹ. (가)와 (나)는 국경을 접하고 있다.

- ① ㄱ, ㄴ ② ㄱ, ㄷ ③ ㄴ, ㄷ ④ ㄴ, ㄹ ⑤ ㄷ, ㄹ

14. 그래프는 세 국가의 1차 에너지원별 소비량을 나타낸 것이다. (가)~(다)에 대한 설명으로 옳은 것은? (단, (가)~(다)는 각각 석유, 석탄, 천연가스 중 하나임.) [3점]

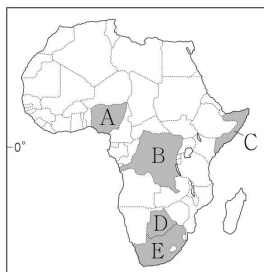


- ① (가)는 세계 1차 에너지 소비량에서 차지하는 비율이 가장 높다.
 ② (다)는 냉동 액화 기술의 발달로 사용량이 증가하였다.
 ③ (가)는 (나)보다 수송용으로 이용되는 비중이 낮다.
 ④ (나)는 (다)보다 연소 시 대기 오염 물질 배출량이 많다.
 ⑤ (다)는 (가)보다 상용화된 시기가 늦다.

15. 다음 글의 (가) 국가를 지도의 A~E에서 고른 것은?

우분투(ubuntu)! 갈등을 넘어 화해와 통합을 그리다

[(가)]의 최초 흑인 대통령인 넬슨 만델라는 우분투를 강조하며, 갈등을 넘어선 통합을 이끌었다. 원주민의 언어로 우분투는 '우리가 있기에 내가 있다.'라는 뜻이다. 아파르트헤이트 종식 이후, 넬슨 만델라는 인종 간의 오랜 갈등을 해소하기 위해 진실과 화해 위원회를 구성하여 차별에 가담한 백인의 참회를 이끌어 내고, 유색 인종의 상처를 보듬어 화해의 새 역사를 썼다.

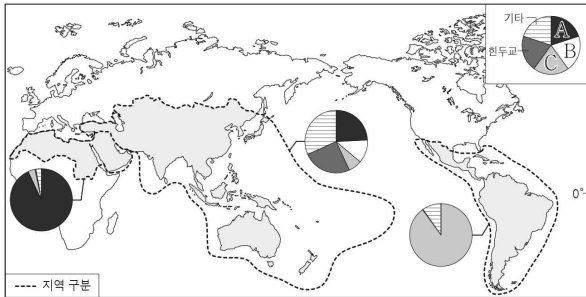


- ① A
 ② B
 ③ C
 ④ D
 ⑤ E

4 (세계지리)

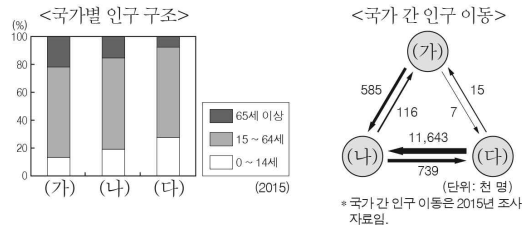
사회탐구 영역

16. 그래프는 지도에 표시된 세 지역의 종교별 신자 비율을 나타낸 것이다. A ~ C 종교에 대한 설명으로 옳은 것은? (단, A ~ C는 각각 불교, 이슬람교, 크리스티교 중 하나임.)



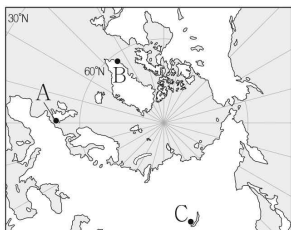
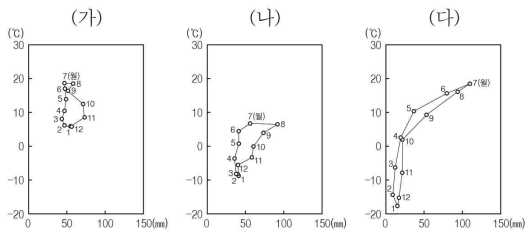
- ① A의 발상지는 남부 아시아이다.
- ② B는 라마단으로 불리는 금식 기간이 있다.
- ③ C의 대표적인 종교 경관으로 사리가 봉안된 탑과 불상이 있다.
- ④ A는 B보다 발생 시기가 이른다.
- ⑤ C는 A보다 전 세계 신자 수가 많다.

17. 그래프는 세 국가의 인구 특성을 나타낸 것이다. 이에 대한 설명으로 옳은 것은? (단, (가) ~ (다)는 각각 독일, 미국, 멕시코 중 하나임.) [3점]



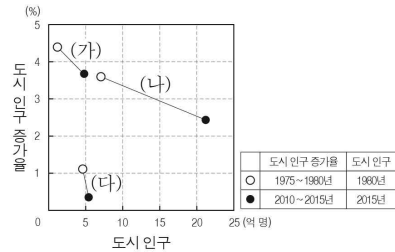
- ① (나)는 유럽 연합(EU)에 속한다.
- ② (가)는 (다)보다 중위 연령이 낮다.
- ③ (나)는 (다)보다 1인당 국내 총생산(GDP)이 많다.
- ④ (다)에서 (나)로 이주한 이들은 대부분 고소득 전문직에 종사한다.
- ⑤ 미국에서 독일로 이동한 인구는 미국에서 멕시코로 이동한 인구보다 많다.

18. 그래프는 세 지역의 기후 특성을 나타낸 것이다. (가) ~ (다)에 해당하는 지역을 지도의 A ~ C에서 고른 것은? [3점]



- | | (가) | (나) | (다) |
|---|-----|-----|-----|
| ① | A | B | C |
| ② | A | C | B |
| ③ | B | A | C |
| ④ | B | C | A |
| ⑤ | C | B | A |

19. 그래프는 세 지역(대륙)의 도시 인구 특성을 나타낸 것이다. 이에 대한 설명으로 옳은 것은? (단, (가) ~ (다)는 각각 유럽, 아시아, 아프리카 중 하나임.) [3점]



- ① (가)에는 최상위 계층의 세계 도시가 위치한다.
- ② (가)는 (다)보다 산업화 시기가 이른다.
- ③ (다)는 (나)보다 도시화율이 높다.
- ④ 1980년에 도시 인구는 유럽이 아시아보다 많다.
- ⑤ 2010 ~ 2015년의 도시 인구 증가율은 아시아가 가장 높다.

20. 다음 자료의 ㉠ ~ ㉣에 대한 옳은 설명만을 <보기>에서 고른 것은?

지형을 소재로 한 가상 공간 제작하기

○ 단원명 건조 및 냉·한대 기후 환경과 지형

○ 활동 방법 가상 공간 제작 앱을 활용해 지형이 포함된 가상 공간을 제작하고, 각 모듬이 만든 지형을 개인 아바타를 통해 감상함.

○ 모듬별 가상 공간 제작 콘셉트 및 구현할 주요 지형

| | |
|---|---|
| <p>1모듬 모래 바람이 부는 사막</p> <p>㉠ 이랫부분이 잘룩한 버섯 모양의 바위</p> | <p>2모듬 모래로 뒤덮인 사막</p> <p>㉡ 바람에 의해 쌓인 모래 언덕</p> |
| <p>3모듬 빙하 주변의 평원</p> <p>㉢ 모래·자갈들이 쌓인 다각형의 지형</p> | <p>4모듬 만년설이 쌓인 산</p> <p>㉣ 산 정상부의 뾰족한 봉우리</p> |

- < 보 기 >
- ㉠. ㉠은 주로 포상홍수에 의한 침식 작용으로 형성된다.
 - ㉡. ㉡이 연속적으로 발달한 지형을 바하다라고 한다.
 - ㉢. ㉢은 토양 속 수분의 동결과 융해가 반복되면서 형성된다.
 - ㉣. ㉣은 빙하의 침식 작용에 의해 형성된다.

- ① ㉠, ㉡ ② ㉠, ㉢ ③ ㉡, ㉣ ④ ㉡, ㉣ ⑤ ㉢, ㉣

※ 확인 사항
 답안지의 해당란에 필요한 내용을 정확히 기입(표기)했는지 확인하시오.