


제 4 교시

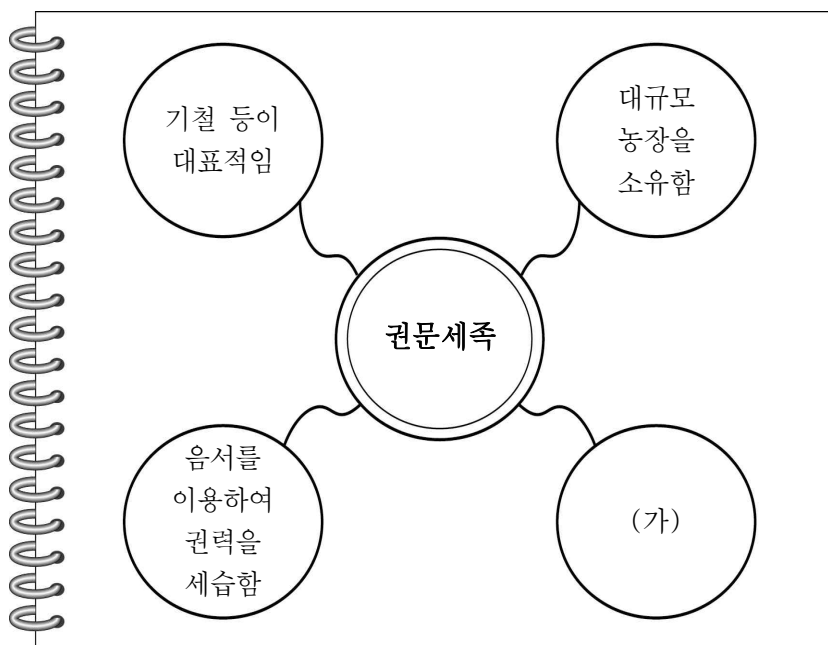
# 한국사 영역

1. (가) 시대에 볼 수 있는 모습으로 가장 적절한 것은?




- ① 청동 방울을 지닌 제사장
- ② 움집에서 불을 피우는 청년
- ③ 철을 댄 쟁기로 밭을 가는 농민
- ④ 채집과 사냥을 하며 이동 생활을 하는 무리
- ⑤ 흉년에 대한 책임을 지고 물러나게 된 국왕

2. (가)에 들어갈 내용으로 가장 적절한 것은? [3점]



- ① 북학론을 주장함
- ② 화랑으로 선발됨
- ③ 제가 회의에 참여함
- ④ 백제 부흥 운동을 주도함
- ⑤ 원 간섭기의 지배 세력임

3. 밑줄 친 '전쟁' 중에 있었던 사실로 옳은 것은?



- ① 이종무가 대마도를 정벌하였다.
- ② 이순신이 명량에서 크게 이겼다.
- ③ 을지문덕이 살수에서 승리하였다.
- ④ 강감찬이 귀주에서 대승을 거두었다.
- ⑤ 홍경래가 평안도 지역에서 난을 일으켰다.

4. (가)에 들어갈 내용으로 적절한 것은? [3점]

한국사 형성 평가

1학년 ○반 ○○○

■ 수업 주제: 무신 집권기 농민·천민의 저항

1. 다음 인물과 활동 내용을 옳게 연결하세요.

김사미	• 공주 명학소에서 차별과 수탈에 반발
만적	• 운문에서 농민을 이끌며 봉기
망이·망소이	• (가)

2. 다음 내용이 옳으면 ○, 옳지 않으면 ×를 표시하세요.

- ① 당의 침입에 맞서 저항
- ② 삼정 문란의 시정을 요구
- ③ 신라 말 지배층의 수탈에 항거
- ④ 외세의 침략과 정부의 개화 정책에 반발
- ⑤ 신분 해방을 목표로 노비들을 모아 봉기 도모

5. 다음 자료를 활용한 탐구 주제로 가장 적절한 것은?

- 소수림왕 2년에 전진의 왕 부견이 사신과 승려 순도를 보내 불상과 경문을 전하였다.
- 침류왕 1년에 승려 마라난타가 동진에서 오자 왕이 궁궐 안으로 맞아들여 머물게 하였다.
- 법흥왕 14년에 이차돈이 불법(佛法)을 위하여 제 몸을 희생하였다.

- ① 삼국 시대 불교의 수용
- ② 고려 전기 유학의 발달
- ③ 고려 후기 성리학의 확산
- ④ 조선 전기 유교 윤리의 보급
- ⑤ 조선 후기 붕당 정치의 전개

6. 다음 제도가 시행된 국가에서 있었던 사실로 옳은 것은?

- 진골의 방의 길이와 넓이는 24척을 넘지 못한다.
- 6두품의 방의 길이와 넓이는 21척을, 담장은 8척을 넘지 못한다.
- 5두품의 방의 길이와 넓이는 18척을, 담장은 7척을 넘지 못한다.
- 4두품에서 백성까지 방의 길이와 넓이는 15척을, 담장은 6척을 넘지 못한다.

- ① 별무반이 조직되었다.
- ② 과거제가 시행되었다.
- ③ 수원 화성이 축조되었다.
- ④ 화백 회의가 개최되었다.
- ⑤ 22담로에 왕족이 파견되었다.

7. 다음 명령을 내린 국왕의 재위 시기에 있었던 사실로 옳은 것은? [3점]



- ① 5소경이 설치되었다.
- ② 천리장성이 축조되었다.
- ③ 노비안검법이 실시되었다.
- ④ 국호가 조선으로 정해졌다.
- ⑤ 팔만대장경판이 조판되었다.

8. (가)에 들어갈 문화유산으로 옳은 것은?

학습 주제: 세종 대 민족 문화의 발전

(가) 양부일구 측우기 칠정산 >

새로 만든 소리 글자 28개  
백성들이 쉽게 읽고 쓸 수 있도록 하기 위해 제작

국가의 정책을 쉽게 알리는 데 활용

- ① 삼국사기                      ② 삼국유사                      ③ 훈민정음
- ④ 동의보감                      ⑤ 경국대전

9. (가) 국가에 대한 설명으로 옳은 것은?

대저 (가)의 역사로 말하면, 고구려가 멸망하여 폐허가 되자 대조영(고왕)이 유민 등을 수습하여 나라를 세웠다. 무왕이 중국의 등주를 공격하여 그 자사를 사살하였고 ... (중략)... 남쪽으로 일본과 교류하고 서쪽으로 돌궐과 통하였다.

- ① 해동성국으로 불렸다.
- ② 규장각을 설치하였다.
- ③ 금관가야를 병합하였다.
- ④ 수도를 평양으로 옮겼다.
- ⑤ 지방 행정 구역을 8도로 나누었다.

10. (가)에 들어갈 내용으로 가장 적절한 것은? [3점]

○○고등학교 1학년 ○반

Q 오늘은 (가)에 대해 배웠습니다. 학습한 내용을 댓글로 달아 주세요.

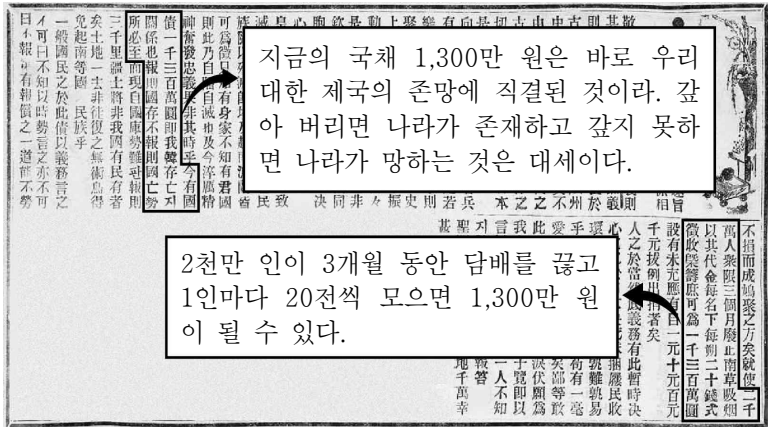
영조는 붕당의 근거지인 서원을 정리하였어요.

정조는 소론과 남인 세력을 등용하였어요.

왕권을 강화하기 위해 시행하였어요.

- ① 사회의 발생
- ② 탕평책의 추진
- ③ 삼국 통일의 완성
- ④ 세도 정치의 폐단
- ⑤ 서경 천도 운동의 전개

11. 다음 기사의 취지에 따라 전개된 운동에 대한 설명으로 옳은 것은? [3점]



- ① 서양과의 통상을 반대하였다.
- ② 수신사의 파견으로 이어졌다.
- ③ 구식 군인의 주도로 일어났다.
- ④ 사심관 제도가 시행되는 배경이 되었다.
- ⑤ 언론의 지원을 받아 전국적으로 확산되었다.

12. 다음 자료에서 학생이 선정한 인물에 대한 설명으로 옳은 것은?

**수행 평가**

1학년 ○반 ○○○

다음에서 한 명의 이름을 선택하고, 해당 인물의 활동을 담은 3행시를 지어 주세요.

김옥균, 박지원, 안중근, 전봉준, 정약용

[학생 답안]

선정 인물	작성한 시
○△□	○주 화약을 체결하고 △기의 뜻을 이루고자 하니 □엄한 백성의 뜻이 집강소에서 실현되리라.

- ① 거중기를 설계하였다.
- ② 갑신정변을 주도하였다.
- ③ 동학 농민군을 이끌었다.
- ④ 이토 히로부미를 처단하였다.
- ⑤ 청과의 통상 확대를 주장하였다.

13. (가) 운동에 대한 설명으로 옳은 것은? [3점]

**[연극 동아리 발표회]**

11월 3일 '학생 독립운동 기념일'을 맞아 오늘 오후 6시부터 (가) 을/를 소재로 한 연극을 온라인으로 중계하오니, 학교 홈페이지에 접속하셔서 시청 바랍니다.

- 구성 -

- 제 1 막: 나주역 사건, 한·일 학생 간 충돌이 일어난다.
- 제 2 막: 광주의 학생들, 식민지 노예 교육에 반대하다.
- 제 3 막: 학생들의 함성, 광주를 넘어 전국으로 뻗어 가다.

- ① 신간회의 지원을 받았다.
- ② 광무개혁의 토대가 되었다.
- ③ 임술 농민 봉기로 이어졌다.
- ④ 고종 강제 퇴위에 반대하였다.
- ⑤ 영남 지역의 유생들이 주도하였다.

14. (가) 단체에 대한 설명으로 옳은 것은? [3점]

종로 네거리에서 관민 공동회가 열렸는데, 19세였던 나도 학교의 대표로 참가하였다. 여기서 (가) 의 회원들은 철도와 광산을 비롯한 각종 이권을 외국인에게 주지 말 것을 주장하고 헌의 6조를 결의하였다. 이 때 회원들은 관리들이 지켜보는 앞에서 정부의 잘못을 비판하였는데, 그 모습은 꽤 인상적이었다.

- ① 독립문을 건립하였다.
- ② 새마을 운동을 이끌었다.
- ③ 한국광복군을 창설하였다.
- ④ 백운동 서원을 설립하였다.
- ⑤ 대동법의 시행을 건의하였다.

15. (가)에 들어갈 내용으로 가장 적절한 것은?

**'주제가 있는 답사' 안내**

○ 주제: (가)

- 병인양요와 신미양요를 중심으로 -

○ 일자: 2021. ○○. ○○.

○ 경로

○-----●-----●-----●-----○

출발    외규장각    초지진    정족산성 (전등사)    도착

- ① 삼별초의 항쟁지, 제주도
- ② 영국의 불법 점령지, 거문도
- ③ 외침 방어의 요충지, 강화도
- ④ 조선 수군의 큰 승리, 한산도
- ⑤ 장보고의 해상 활동 거점, 완도

16. 다음 신문에 나타난 시기에 있었던 사실로 옳은 것은? [3점]

**한국사신문**


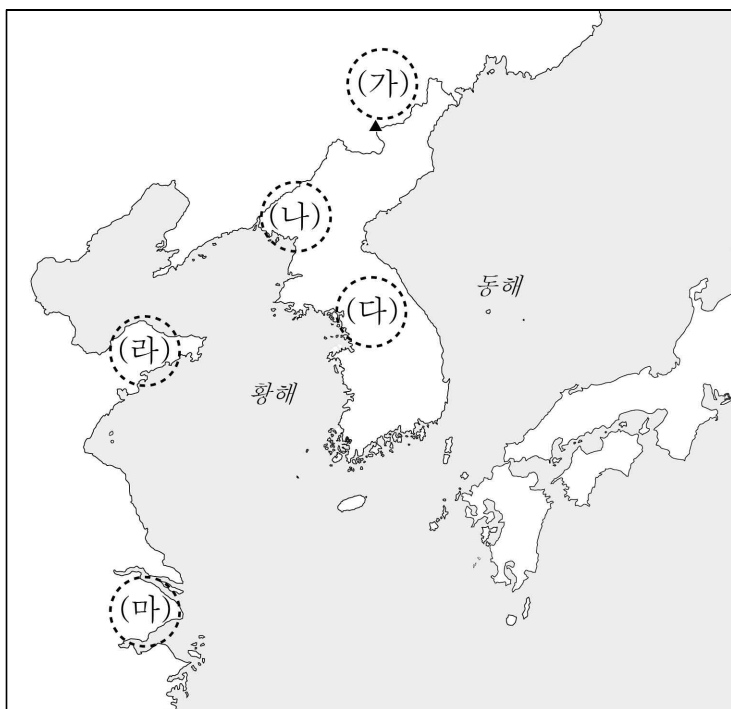
토지 조사 사업, 누구를 위한 사업인가

조선 총독부는 임시 토지 조사국을 설치한 이후 토지 조사 사업을 밀어붙이고 있다. 이 사업으로 조선 총독부의 지세 수입은 증가하고 있다. 반면, 다수의 소작농은 기존에 관습적으로 인정받던 경작권을 잃게 되는 등 경제적으로 많은 어려움에 처할 것으로 예상된다.

- ① 비변사가 설치되었다.
- ② 호포제가 시행되었다.
- ③ 균역법이 마련되었다.
- ④ 대한국 국체가 반포되었다.
- ⑤ 헌병 경찰 제도가 실시되었다.

17. 밑줄 친 ‘이 전투’가 있었던 지역을 지도에서 옳게 고른 것은?

왼쪽의 우표는 이 전투 승리 100주년을 기념하기 위해 발행되었다. 1920년 10월 김좌진, 홍범도 등이 이끄는 독립군 부대가 연합하여 이 전투에서 일본군을 크게 물리쳤다.

- ① (가)    ② (나)    ③ (다)    ④ (라)    ⑤ (마)

18. 밑줄 친 ‘이 약속’의 결과로 옳은 것은? [3점]

[용어 사전]

**늑약** (勒 억지로 할 늑, 約 약속할 약)

(의미) 억지로 맺은 조약

(예문) 1905년 일제가 강요한 이 약속으로 인하여 대한 제국이 외교권을 빼앗겼다.

- ① 척화비가 세워졌다.
- ② 통감부가 설치되었다.
- ③ 개경 환도가 이루어졌다.
- ④ 나당 연합군이 결성되었다.
- ⑤ 4군과 6진 지역이 개척되었다.

19. 다음 결의안이 채택된 시기를 연표에서 옳게 고른 것은?

안전 보장 이사회는 북한군의 무력 침략을 평화를 파괴하는 행위로 규정한다. 전투를 즉각 중지하고 군대를 즉시 38도선 이북으로 철수할 것을 북한에 촉구한다. ...(중략)... 안전 보장 이사회는 무력 침략을 격퇴하고 국제 평화와 안전을 회복하는 데 필요한 원조를 대한민국에 제공해 줄 것을 유엔 회원국에 권고하는 바이다.

	(가)	(나)	(다)	(라)	(마)
강화도 대한 제국 조약 체결					
국권 수탈					
8·15 광복					
대한민국 정부 수립					
6월 민주 항쟁					

- ① (가)    ② (나)    ③ (다)    ④ (라)    ⑤ (마)

20. (가)에 들어갈 내용으로 옳은 것은? [3점]

[가] (으)로 이승만 대통령이 하야함에 따라 허정 과도 정부가 수립되었다. 허정 과도 정부는 국민의 여론에 따라 내각 책임제와 국회 양원제를 골자로 하는 개헌을 단행하였다. 새 헌법에 따라 실시된 총선거에서 민주당이 승리하였고, 장면 내각이 출범하게 되었다.

- ① 3·1 운동                                      ② 4·19 혁명
- ③ 위정척사 운동                              ④ 브나로드 운동
- ⑤ 5·18 민주화 운동

\* 확인 사항

○ 답안지의 해당란에 필요한 내용을 정확히 기입(표기)했는지 확인하십시오.