


제 4 교시

사회탐구 영역(경제)

성명		수험번호				2				제 () 선택
----	--	------	--	--	--	---	--	--	--	----------

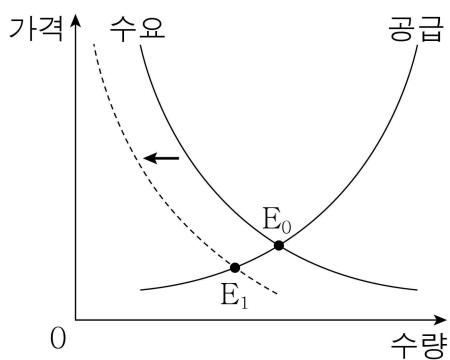
1. 교사의 질문에 대해 옳게 답변한 학생만을 <보기>에서 고른 것은?



< 보 기 >
 갑: 생산 요소를 제공한 대가로 소득을 얻는 활동을 소비라고 합니다.
 을: 정부는 시장에서 충분하게 공급되지 못하는 재화를 직접 공급하기도 합니다.
 병: 재화나 서비스를 새로 만들거나 가치를 증가시키는 활동을 생산이라고 합니다.
 정: 기업은 효용의 극대화, 가게는 이윤의 극대화를 추구하는 경제 주체에 해당합니다.

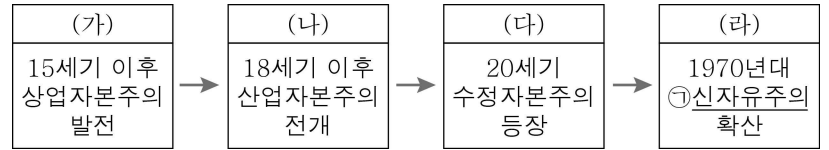
- ① 갑, 을 ② 갑, 병 ③ 을, 병 ④ 을, 정 ⑤ 병, 정

2. 그림에서 시장의 균형점이 E₀에서 E₁로 변동하는 사례로 옳은 것은? [3점]



- | | |
|--------------|----------------|
| ① 사과 시장 | 사과 가격 인상 |
| ② 반도체 시장 | 반도체 생산 기술 발전 |
| ③ 마스크 시장 | 신종 코로나 바이러스 확산 |
| ④ 국산 쇠고기 시장 | 수입 쇠고기 가격 인하 |
| ⑤ 휘발유 자동차 시장 | 휘발유 가격 인하 |

3. 그림은 자본주의의 역사적 전개 과정을 나타낸 것이다. 이에 대한 설명으로 옳은 것은?



- ① (가)에서는 자유 무역을 추구하는 중상주의 정책이 확산되었다.
 ② (나)에서는 정부가 시장에 적극적으로 개입하여 시장 실패 문제를 해결하고자 하였다.
 ③ (다)에서는 정부 지출 확대를 통해 경기 침체를 극복하려는 뉴딜 정책이 추진되었다.
 ④ (라)에서는 경제 대공황을 극복하기 위한 정부의 경제적 역할이 강조되었다.
 ⑤ (다)에서 발생한 빈부 격차 문제를 해결하기 위해 ㉠이 등장하였다.

4. 자료에 대한 옳은 설명만을 <보기>에서 고른 것은?

○ 갑은 ㉠ 중고품 거래 시장에 자신이 타고 다니던 자전거를 20만 원에 내놓았다. 하지만 사겠다는 사람이 없어 ㉡ 가격을 17만 원으로 낮췄더니 3명의 구매 희망자가 나타났다.
 ○ 을은 대학 졸업을 앞두고 대학원에 진학할지 취업할지 고민하다가 취업하기로 결정한 후, ○○사에서 주최하는 ㉢ 취업 박람회에 참가하여 △△기업에 이력서를 제출하였다.

< 보 기 >
 가. 을과 같은 사람이 늘어나면 노동의 공급이 증가한다.
 나. ㉡에서 갑은 수요자이다.
 다. ㉢은 가격 하락에 따른 수요량의 증가를 보여준다.
 리. ㉣은 재화와 서비스가 거래되는 생산물 시장이다.

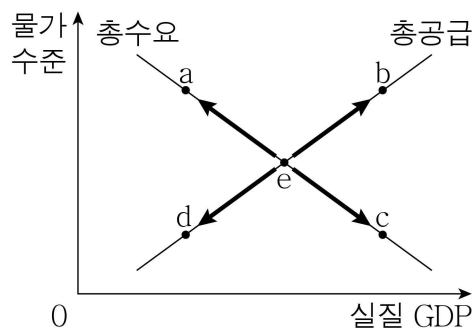
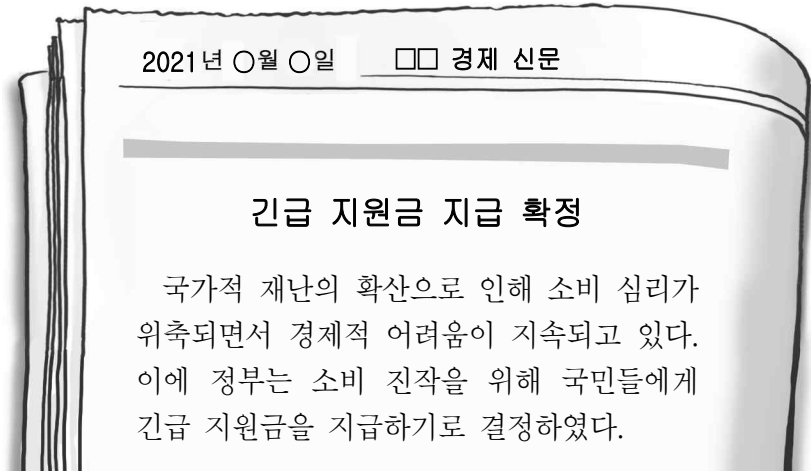
- ① 가, 나 ② 가, 다 ③ 나, 다 ④ 나, 리 ⑤ 다, 리

5. 사례에서 공통적으로 추론할 수 있는 국내 총생산의 한계로 가장 적절한 것은?

○ 갑국에서는 빈집을 대상으로 하는 범죄가 급증하면서 보안 서비스 업체의 매출이 늘어나 국내 총생산이 증가하였다.
 ○ 을국에서는 자연재해로 인한 피해가 발생했음에도 불구하고 피해 복구 비용이 급증하여 국내 총생산은 증가하였다.

- ① 국민의 삶의 질을 정확히 반영하지 못한다.
 ② 지하 경제의 거래 규모를 파악하지 못한다.
 ③ 소득의 분배 상태를 정확하게 보여주지 못한다.
 ④ 자가 소비를 위한 생산 활동은 포함되지 않는다.
 ⑤ 재화와 서비스의 품질 변화를 완벽히 측정하지 못한다.

6. 자료의 정부 정책 시행에 따른 국민 경제 균형점 e의 변화 방향으로 옳은 것은? (단, 다른 조건은 변함이 없다.) [3점]



- ① a ② b ③ c ④ d ⑤ 변화 없음

7. 자료에 대한 옳은 분석만을 <보기>에서 고른 것은? [3점]

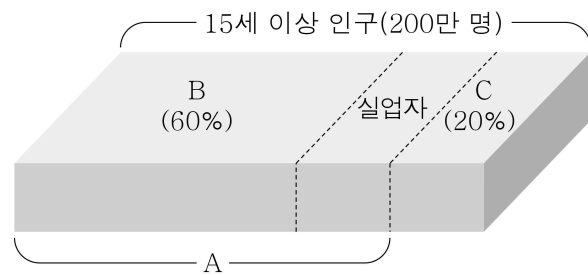
다음은 ○○커피 전문점에서 적용하고 있는 판매 방식이다. (단, ○○커피 전문점은 한 종류의 커피만 판매하며, 커피 1잔 가격은 5,000원이다.)

판매 방식	세부 내용
A	1잔씩 구매 → 1잔에 5,000원
B	○○커피 전문점 멤버십에 가입(가입비 1,000원) → 5잔 구매 후 다음 1잔 무료
C	5잔 구매 가능한 이용권 구매(1잔씩 주문 가능) → 5잔 이용권 가격 20,000원

< 보 기 >
 ㄱ. 커피 1잔만 소비할 경우 B를 선택하는 것이 합리적이다.
 ㄴ. 커피 5잔을 소비할 경우 A를 선택하는 것이 합리적이다.
 ㄷ. 40,000원으로 소비 가능한 커피의 최대 수량은 10잔이다.
 ㄹ. 60,000원으로 소비 가능한 커피의 최대 수량은 C가 B보다 많다.

- ① ㄱ, ㄴ ② ㄱ, ㄷ ③ ㄴ, ㄷ ④ ㄴ, ㄹ ⑤ ㄷ, ㄹ

8. 그림은 갑국의 2020년 고용 지표 관련 인구 구성이다. 이에 대한 설명으로 옳지 않은 것은? (단, A~C는 각각 경제 활동 인구, 비경제 활동 인구, 취업자 중 하나이다.) [3점]



* 취업률(%) = (B / 경제 활동 인구) × 100
 * 고용률(%) = (B / 15세 이상 인구) × 100

- ① 실업자는 40만 명이다.
 ② 경제 활동 참가율은 80%이다.
 ③ 취업률은 75%, 고용률은 60%이다.
 ④ A는 경제 활동 인구이다.
 ⑤ 직장을 구하다가 구직을 단념한 사람은 B에서 C로 이동한다.

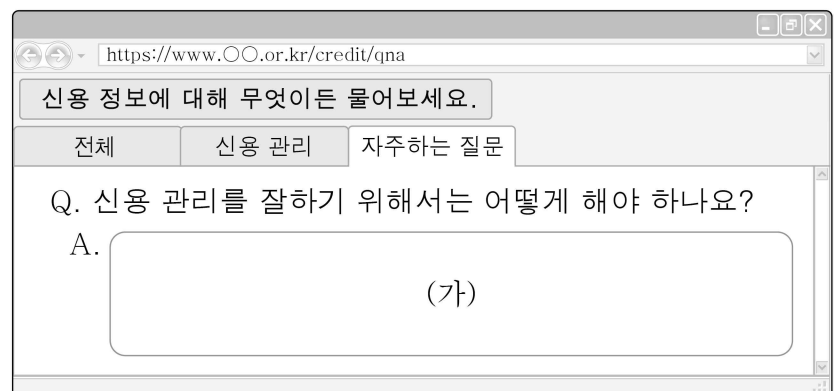
9. (가), (나) 사례에 대한 옳은 설명만을 <보기>에서 고른 것은?

(가) 사람들이 유료 독감 예방 접종을 하여 독감의 확산 가능성이 낮아졌다.
 (나) X재를 생산하는 공장에서 폐수를 정화하지 않고 방류하여 인근 하천이 오염되었다.

< 보 기 >
 ㄱ. (가)는 자원이 효율적으로 배분된 사례이다.
 ㄴ. (나)에서는 X재가 사회적 최적 수준보다 많이 생산된다.
 ㄷ. (나)는 (가)와 달리 시장 실패에 해당한다.
 ㄹ. (가)는 긍정적 외부 효과, (나)는 부정적 외부 효과의 사례이다.

- ① ㄱ, ㄴ ② ㄱ, ㄷ ③ ㄴ, ㄷ ④ ㄴ, ㄹ ⑤ ㄷ, ㄹ

10. 빈칸 (가)에 들어갈 내용으로 적절하지 않은 것은?



- ① 통신비나 공과금을 연체하지 않습니다.
 ② 주로 거래하는 은행을 지정하여 거래합니다.
 ③ 본인의 상환 능력을 고려하여 자금을 대출받습니다.
 ④ 신용카드를 많이 발급받아 현금 서비스를 이용합니다.
 ⑤ 본인의 소득 수준을 고려하여 계획을 세워 지출합니다.

11. 밑줄 친 환율 변동에 대한 옳은 설명만을 <보기>에서 고른 것은? (단, 다른 조건은 일정하다.) [3점]

지난해 12월부터 원/달러 환율이 하락하기 시작하여 이번 달에도 하락 추세가 멈추지 않고 있다. 전문가들은 앞으로도 이러한 추세가 지속될 것으로 내다보았다.

- < 보 기 >
- ㄱ. 달러화 대비 원화의 가치는 하락한다.
 - ㄴ. 한국인의 미국 여행 경비 부담은 감소한다.
 - ㄷ. 미국에서 원자재를 수입하는 한국 기업의 경제적 부담은 감소한다.
 - ㄹ. 미국에 유학 중인 자녀에게 송금하는 한국인 부모의 경제적 부담은 증가한다.

- ① ㄱ, ㄴ ② ㄱ, ㄷ ③ ㄴ, ㄷ ④ ㄴ, ㄹ ⑤ ㄷ, ㄹ


12. 표는 X재 시장의 수요와 공급을 나타낸 것이다. 이에 대한 옳은 분석만을 <보기>에서 고른 것은? [3점]

가격(원)	100	150	200	250	300
수요량(개)	1,600	1,500	1,200	1,000	500
공급량(개)	900	1,000	1,200	1,500	2,000

- < 보 기 >
- ㄱ. 가격이 250원일 때, 500개의 초과 공급이 발생한다.
 - ㄴ. 가격이 150원일 때와 300원일 때, 거래 금액은 동일하다.
 - ㄷ. 균형 가격은 200원에서, 균형 거래량은 2,400개에서 결정된다.
 - ㄹ. 모든 가격 수준에서 수요량이 200개씩 증가할 경우, 균형 가격은 50원 상승한다.

- ① ㄱ, ㄴ ② ㄱ, ㄷ ③ ㄴ, ㄷ ④ ㄴ, ㄹ ⑤ ㄷ, ㄹ

13. 그림을 통해 추론할 수 있는 노트북 시장의 변화로 옳은 것은? (단, 노트북 시장은 수요와 공급 법칙을 따른다.)



- | | | |
|---|--------------|---------------|
| | <u>균형 가격</u> | <u>균형 거래량</u> |
| ① | 상승 | 감소 |
| ② | 상승 | 증가 |
| ③ | 하락 | 감소 |
| ④ | 하락 | 불분명 |
| ⑤ | 불분명 | 증가 |

14. 표는 갑의 2월 한 달 동안의 모든 수입과 지출 내역이다. 이에 대한 설명으로 옳은 것은? [3점]

(단위: 만 원)

구분	수입		지출	
	내역			
	월급	300	근로 소득세	20
	정기 예금 이자	10	식비, 통신비	150
	복권 당첨금	50	건강 보험료	10
	합계	360	합계	180

* 처분 가능 소득 = 수입 - 비소비 지출

* 비소비 지출: 소비의 목적이 아닌 조세나 공적 연금 납입금처럼 법 또는 제도에 의해서 의무적으로 지출해야 하는 비용

- ① 저축은 10만 원이다.
- ② 근로 소득은 300만 원이다.
- ③ 소비 지출액은 180만 원이다.
- ④ 재산 소득은 발생하지 않았다.
- ⑤ 처분 가능 소득은 180만 원이다.

15. 다음은 경제 수행 평가의 일부이다. ㉠~㉣에 들어갈 응답으로 옳은 것은? [3점]

경제 수행 평가	2학년 ○반 ○○번 ○○○		
경제학자가 되어 응답하기			
<p>■ 다음은 어느 경제학자가 쓴 글의 일부이다. 당신이 이 경제학자라고 가정하고 아래의 주장에 동의하면 '예', 동의하지 않으면 '아니요'를 쓰시오.</p>			
<p>우리가 맛있는 저녁 식사를 할 수 있는 것은 푸줏간 주인이나 제빵사들의 박애심 덕분이 아니다. 오히려 그들의 돈벌이에 관한 관심 덕분이다. 돈을 벌기 위해 열심히 일하는 것이 사회 전체에도 이익을 가져다준다. 개인은 사적 이익을 추구하고 이 과정에서 그들이 의도하지 않은 어떤 목적을 달성하기 위해 '보이지 않는 손'에 이끌려 자신이 의도치 않았던 목표를 달성하게 된다.</p>			
주장	응답	배점	채점
이윤 동기에 의한 경제적 유인을 강조한다.	㉠	5점	5
민간 경제 주체의 경제 활동의 자유를 인정해야 한다.	㉡	5점	5
정부의 적극적인 시장 개입이 경제 발전의 전제 조건이다.	㉢	5점	5
합계		15점	15

- | | | | |
|---|-----|-----|-----|
| | ㉠ | ㉡ | ㉢ |
| ① | 예 | 예 | 예 |
| ② | 예 | 예 | 아니요 |
| ③ | 예 | 아니요 | 예 |
| ④ | 아니요 | 예 | 아니요 |
| ⑤ | 아니요 | 아니요 | 아니요 |

16. 자료에 대한 설명으로 옳은 것은? [3점]

표는 갑국과 을국의 X재와 Y재 1개 생산에 필요한 노동량을 나타낸 것이다. 교역은 갑국과 을국 사이에서만 이루어지며, 양국은 비교 우위 재화에 특화하여 교역한다. 양국의 생산 요소는 노동뿐이며, 노동의 양은 100명으로 동일하다.

	재화	X재	Y재
국가			
갑국		4명	5명
을국		2명	2명

- ① 갑국의 Y재 1개 생산의 기회비용은 X재 4/5개이다.
- ② 갑국은 X재 20개, Y재 10개를 동시에 생산할 수 있다.
- ③ 을국은 X재 생산에 절대 우위와 비교 우위를 모두 가진다.
- ④ Y재로 표시한 X재 1개 생산의 기회비용은 갑국이 을국보다 크다.
- ⑤ 양국이 교역할 경우 갑국은 X재, 을국은 Y재 생산에 특화하게 된다.

17. 다음 대화 내용에 대한 옳은 설명만을 <보기>에서 고른 것은? (단, 갑과 을은 각각 정기 예금, 주식, 채권 중 하나에만 투자한다.)

갑: 시세 차익을 기대할 수는 없지만 이자 수익을 기대할 수 있는 금융 상품에 투자했어.
 을: 배당금과 시세 차익을 기대할 수 있는 금융 상품에 투자했어.

< 보 기 >

ㄱ. 갑이 투자한 금융 상품은 예금자 보호 제도의 적용을 받는다.
 ㄴ. 을은 높은 수익이 기대되는 금융 상품에 투자하였다.
 ㄷ. 갑과 을 모두 국가가 발행 주체인 금융 상품에 투자하였다.
 ㄹ. 갑은 채권, 을은 주식에 투자하였다.

- ① ㄱ, ㄴ ② ㄱ, ㄷ ③ ㄴ, ㄷ ④ ㄴ, ㄹ ⑤ ㄷ, ㄹ

18. 밑줄 친 ㉠, ㉡에 대한 옳은 설명만을 <보기>에서 고른 것은?

바닷가에서 흔히 볼 수 있는 모래가 첨단 산업에 사용된다는 사실을 아는 사람은 많지 않다. ㉠콘크리트 골재로 사용되는 모래는 시장 가치가 낮은 반면, ㉡화학 처리를 거쳐 첨단 산업 원료로 사용되는 모래는 수요 증가로 시장 가치가 매우 높다.

< 보 기 >


ㄱ. ㉠은 무상재이다.
 ㄴ. ㉡은 시장에서 거래되지 않는다.
 ㄷ. ㉠은 ㉡에 비해 희소성이 작다.
 ㄹ. ㉠과 ㉡은 모두 경제적 가치를 가진다.

- ① ㄱ, ㄴ ② ㄱ, ㄷ ③ ㄴ, ㄷ ④ ㄴ, ㄹ ⑤ ㄷ, ㄹ

19. 교사의 질문에 대한 학생의 응답으로 가장 적절한 것은?

다음 사례들을 통해 알 수 있는 기업의 역할에 대해 말해 볼까요?

- ○○기업
- 저소득층 학생들에게 장학금 10억 원 지급
- ◇◇기업
- 매출액의 1%를 환경 보호 기금으로 조성하여 기부



- ① 새로운 일자리를 창출해요.
- ② 불공정한 거래 행위를 규제해요.
- ③ 혁신을 통해 경제 발전에 기여해요.
- ④ 사회적 책임을 다하기 위해 사회 공헌 활동을 해요.
- ⑤ 사회 간접 자본의 공급을 통해 경제 활동의 기반을 조성해요.

20. 자료에 대해 옳게 설명한 학생만을 <보기>에서 고른 것은? [3점]

표는 다른 조건이 일정하다는 가정 하에, A와 B의 상황에 대한 각 질문의 답변 중 일부를 보이지 않게 음영 처리한 것이다. A와 B는 각각 '지속적 물가 상승'과 '지속적 물가 하락' 중 하나이고, 답변은 모두 옳다.

질문	답변(예/아니오)	
	A	B
화폐 가치가 하락하는가?		예
(가)		
(나)	예	아니오
답변 중 '예'의 개수	1개	2개

< 보 기 >

갑: A로 인해 초인플레이션이 나타날 수 있습니다.
 을: A는 '지속적 물가 하락', B는 '지속적 물가 상승'입니다.
 병: (가)에는 '돈을 빌린 사람보다 돈을 빌려준 사람이 불리해지는가?'가 들어갈 수 있습니다.
 정: (나)에는 '실물 자산을 소유한 사람보다 금융 자산을 소유한 사람이 유리해지는가?'가 들어갈 수 없습니다.

- ① 갑, 을 ② 갑, 병 ③ 을, 병 ④ 을, 정 ⑤ 병, 정

*** 확인 사항**

○ 답안지의 해당란에 필요한 내용을 정확히 기입(표기)했는지 확인하십시오.