

제 4 교시

사회탐구 영역 (세계지리)

성명  수험번호      2    제 [ ] 선택

1. 다음은 수업 노트의 일부이다. (가)에 들어갈 내용으로 가장 적절한 것은?

○ 주제: (가)

○ 정의: 정치·경제·사회·문화 등의 분야에서 세계가 하나의 공동체로 통합되는 현상


○ 배경: 교통·통신의 발달에 따른 시공간 압축

○ 영향

- 세계 각국의 상호 의존성 증대
- 다양한 세계 문화의 활발한 교류

- ① 세계화                      ② 지역화                      ③ 경제 블록
- ④ 장소 마케팅              ⑤ 지리적 표시제

2. 그림은 어느 기후 지역의 생활 모습을 표현한 것이다. 이 지역의 전통 음식으로 가장 적절한 것은? [3점]



\* 지면에서 띄운 송유관과 두툼한 털옷을 입은 유목민

- ① 돼지고기로 만든 소시지
- ② 순록의 날고기를 말린 육포
- ③ 밀로 만든 납작한 빵과 양고기
- ④ 망고와 파파야를 곁들인 샐러드
- ⑤ 다양한 향신료를 사용한 볶음밥

3. 다음 자료의 (가) 환경 문제가 지속될 경우 나타날 수 있는 현상으로 옳지 않은 것은?

**1.5℃가 무너지면 모두가 무너집니다!**

(가) (으)로 인해 동식물은 물론 인간까지 도미노처럼 생존을 위협받고 있습니다. 우리 모두의 삶터인 지구를 지키기 위해 평균 기온 상승 폭을 2100년까지 1.5℃ 이내로 억제하기로 세계 각국의 대표들이 파리 협정에서 약속하였습니다.

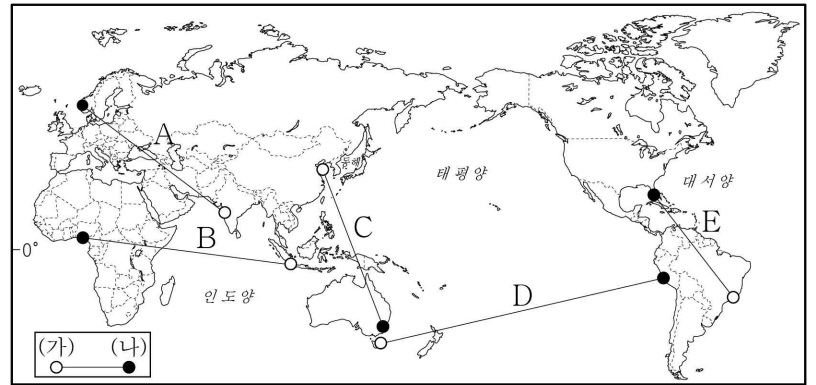
- ① 남극의 빙하 분포 범위가 확대된다.
- ② 영구 동토층의 분포 범위가 축소된다.
- ③ 해수면 상승으로 해안 저지대가 침수된다.
- ④ 열대성 해충으로 인한 질병 발생률이 증가한다.
- ⑤ 기상 이변에 따른 가뭄, 홍수 등의 피해가 증가한다.

4. 다음 자료는 두 지역의 크리스마스 모습이다. (가), (나) 지역을 옳게 연결한 선을 지도의 A~E에서 고른 것은? [3점]



(가) 산타클로스가 야외 눈썰매장에서 아이들과 함께 눈썰매를 타고 있다.

(나) 산타클로스가 해변에서 해수욕을 즐기는 아이들에게 선물을 주고 있다.

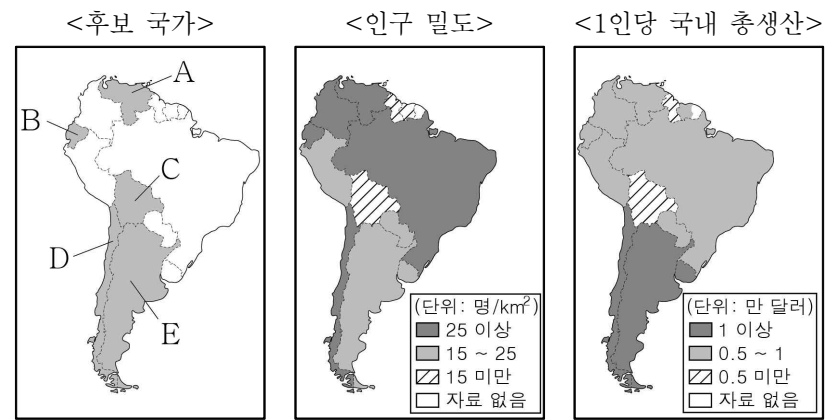


- ① A                      ② B                      ③ C                      ④ D                      ⑤ E

5. 다음 <조건>을 모두 만족하는 국가에 ○○기업이 해외 지점을 설립하고자 한다. 가장 적합한 국가를 지도의 A~E에서 고른 것은?

**< 조 건 >**

- 인구 밀도가 25명/km<sup>2</sup> 이상인 국가에 설립함.
- 1인당 국내 총생산(GDP)이 1만 달러 이상인 국가에 설립함.



(2018년)

- ① A                      ② B                      ③ C                      ④ D                      ⑤ E

6. 다음 자료의 ㉠~㉣에 대한 옳은 설명만을 <보기>에서 고른 것은? [3점]

㉠ 산호충의 석회질 유해가 쌓여 형성된 섬 주변에서 열대어가 해엄치는 모습을 볼 수 있다.

다양한 해양 스포츠를 즐기는 사람들과 ㉡ 길게 펼쳐진 모래사장을 볼 수 있다.

해안 절벽 앞에 ㉢ 기둥 모양의 바위인 시 스택이 늘어선 모습을 볼 수 있다.

< 보 기 >

ㄱ. ㉠은 수심이 깊고 수온이 낮은 해안에 주로 분포한다.  
 ㄴ. ㉡은 주로 조류의 퇴적 작용으로 형성되었다.  
 ㄷ. ㉢은 파랑의 침식 작용으로 형성되었다.  
 ㄹ. ㉣은 만, ㉤은 곳에서 잘 발달한다.

- ① ㄱ, ㄴ    ② ㄱ, ㄷ    ③ ㄴ, ㄷ    ④ ㄴ, ㄹ    ⑤ ㄷ, ㄹ

7. 다음 공모전에 제출된 학생의 작품 중 주제에 적합한 것만을 <보기>에서 고른 것은?

<지형 경관 그리기 공모전 안내>

주    제: 세계의 빙하 지형  
 응모 자격: 전국의 고등학생  
 제출 방법: 홈페이지 참조

< 보 기 >

ㄱ. U자곡이 침수된 피오르

ㄴ. 동굴 천장에 매달린 종유석

ㄷ. 산 정상부의 뾰족한 호른

ㄹ. 버섯 모양의 바위

- ① ㄱ, ㄴ    ② ㄱ, ㄷ    ③ ㄴ, ㄷ    ④ ㄴ, ㄹ    ⑤ ㄷ, ㄹ

8. 다음 자료는 관광 안내문의 일부이다. (가)에 들어갈 내용으로 가장 적절한 것은?

극한의 자연을 체험하러 떠나요!

○ 체험 프로그램

- (가)
- 사구에서 즐기는 모래 썰매
- 오아시스에서 대추야자 먹기

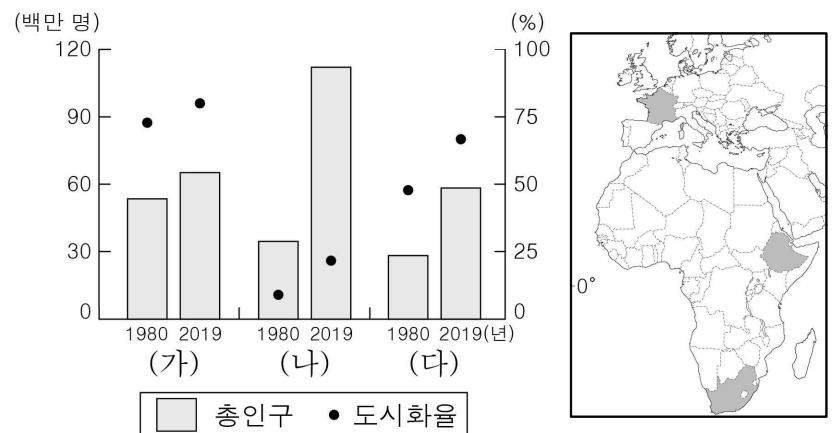
○ 준비물

- 강한 햇볕에 대비한 자외선 차단제
- 챙이 긴 모자와 선글라스

- ① 사막의 배라고 불리는 낙타 타기  
 ② 타이가의 오솔길을 걸으며 산림욕하기  
 ③ 눈 덮인 얼음 위를 달리는 개 썰매 타기  
 ④ 열대림의 나무 위를 연결한 구름다리 걷기  
 ⑤ 야생 동물의 숨결을 느껴 보는 사파리 체험

9. 그래프는 지도에 표시된 세 국가의 총인구와 도시화율 변화를 나타낸 것이다. (가)~(다) 국가에 대한 설명으로 옳은 것은?

[3점]



- ① (가)는 아프리카 대륙에 위치한다.  
 ② (나)는 2019년에 총인구가 도시 인구보다 많다.  
 ③ (다)는 1980년에 도시화의 종착 단계로 진입하였다.  
 ④ (가)는 (나)보다 2019년 합계 출산율이 높다.  
 ⑤ (가)는 (다)보다 1980~2019년에 도시 인구가 많이 증가하였다.

10. 그림은 지도에 표시된 두 지역의 경관을 그린 것이다. (가), (나) 지역에 대한 설명으로 옳은 것은?

(가)


곧 비가 올 듯한 구름 낀 하늘, 젖소가 노니는 넓은 목초지

(나)

강렬하게 내리쬐는 태양, 누렇게 메마른 풀과 푸른 올리브 잎

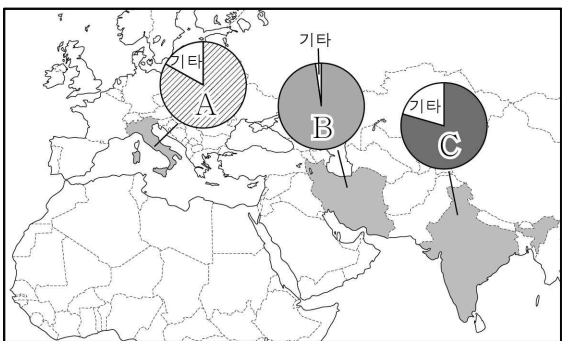
- ① (가)에서는 오렌지 재배가 활발하게 이루어진다.  
 ② (나)는 여름 강수량이 겨울 강수량보다 많다.  
 ③ (가)는 (나)보다 연평균 기온이 높다.  
 ④ (나)는 (가)보다 태양광 발전에 유리하다.  
 ⑤ (가), (나) 모두 계절풍의 영향을 많이 받는다.

11. 다음 자료의 (가), (나) 종교를 지도의 A~C에서 고른 것은? [3점]



(가) 신자들이 영혼을 정화하기 위해 갠지스강에서 목욕하는 모습  
 (나) 신자들이 십자가 앞에 모여 찬송가를 부르며 미사를 드리는 모습

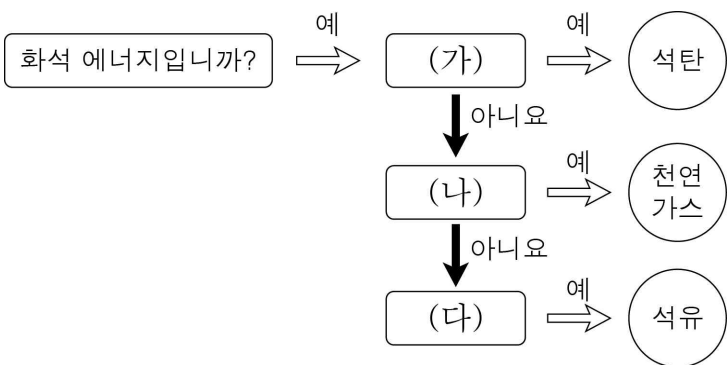
<주요 국가의 종교별 신자 수 비율>



- |   |     |     |
|---|-----|-----|
|   | (가) | (나) |
| ① | A   | B   |
| ② | A   | C   |
| ③ | B   | A   |
| ④ | C   | A   |
| ⑤ | C   | B   |

\* 국가별 1위 이외의 종교는 기타로 처리함. (2010년)

12. 그림의 (가)~(다)에 들어갈 옳은 내용을 <보기>에서 고른 것은?



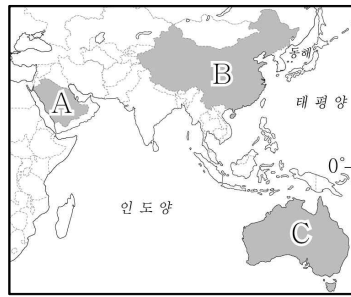
<보기>  
 ㄱ. 주로 고생대 지층에 매장되어 있습니까?  
 ㄴ. 냉동 액화 기술의 발달로 소비량이 급증하였습니까?  
 ㄷ. 세계 1차 에너지 소비 구조에서 차지하는 비율이 가장 높습니까?

- |   |     |     |     |
|---|-----|-----|-----|
|   | (가) | (나) | (다) |
| ① | ㄱ   | ㄴ   | ㄷ   |
| ② | ㄱ   | ㄷ   | ㄴ   |
| ③ | ㄴ   | ㄱ   | ㄷ   |
| ④ | ㄴ   | ㄷ   | ㄱ   |
| ⑤ | ㄷ   | ㄱ   | ㄴ   |

13. 표는 세 국가의 수출 현황을 나타낸 것이다. (가)~(다) 국가를 지도의 A~C에서 고른 것은? [3점]

국가	수출 현황 총수출액 (십억 달러)	상품별 수출액 비율(%)			
		농림축수산물	광물 및 에너지	공업 제품	기타
(가)	294.4	1.4	67.2	18.5	12.9
(나)	2,486.7	3.3	3.2	93.2	0.3
(다)	257.1	14.2	66.5	11.2	8.1

(2018년)



- |   |     |     |     |
|---|-----|-----|-----|
|   | (가) | (나) | (다) |
| ① | A   | B   | C   |
| ② | A   | C   | B   |
| ③ | B   | A   | C   |
| ④ | B   | C   | A   |
| ⑤ | C   | A   | B   |

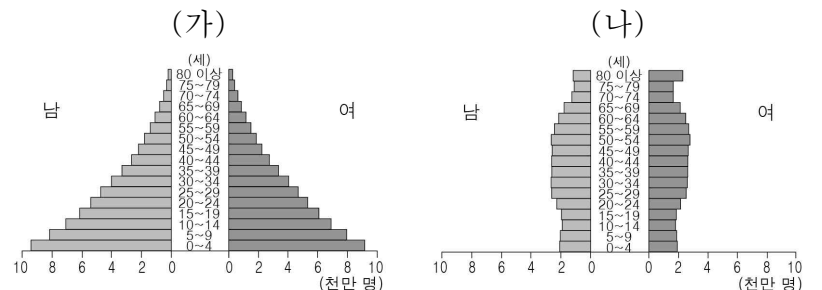
14. 다음 자료의 A, B 작물에 대한 옳은 설명만을 <보기>에서 고른 것은? (단, A, B는 각각 밀, 쌀 중 하나임.)



<보기>  
 ㄱ. A의 세계 최대 생산 국가는 베트남이다.  
 ㄴ. B의 기원지는 아메리카이다.  
 ㄷ. A는 B보다 국제 이동량이 많다.  
 ㄹ. A는 밀, B는 쌀이다.

- ① ㄱ, ㄴ    ② ㄱ, ㄷ    ③ ㄴ, ㄷ    ④ ㄴ, ㄹ    ⑤ ㄷ, ㄹ

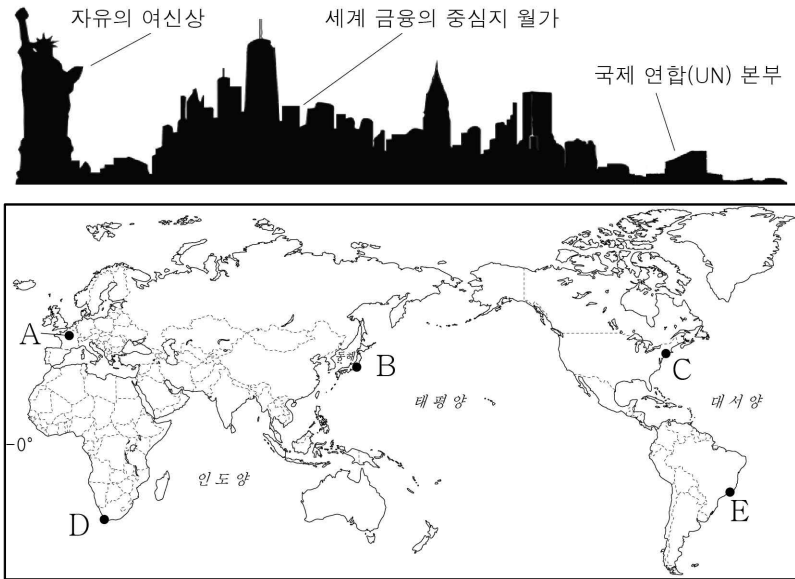
15. 그래프는 두 지역(대륙)의 연령별 인구 구조를 나타낸 것이다. (가), (나)에 대한 설명으로 옳은 것은? (단, (가), (나)는 각각 아프리카, 유럽 중 하나임.) [3점]



(2015년)

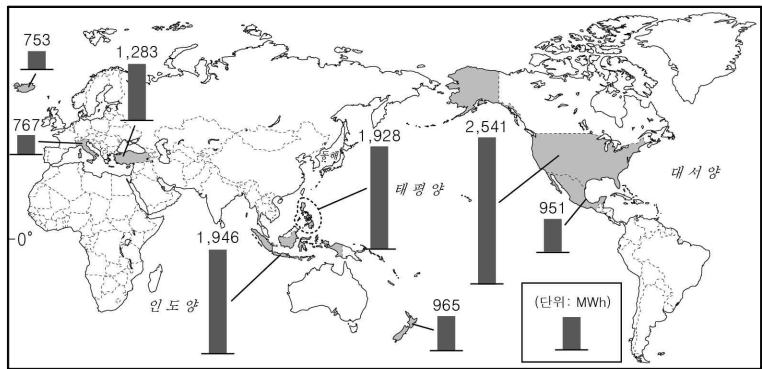
- ① (가)는 노년층 인구가 유소년층 인구보다 많다.  
 ② (나)는 노년층에서 남성이 여성보다 많다.  
 ③ (가)는 (나)보다 기대 수명이 길다.  
 ④ (가)는 (나)보다 지역(대륙) 내 3차 산업 종사자 비율이 높다.  
 ⑤ (가)는 아프리카, (나)는 유럽이다.

16. 그림은 어느 도시의 모습을 상징적으로 나타낸 것이다. 이 도시를 지도의 A~E에서 고른 것은?



- ① A    ② B    ③ C    ④ D    ⑤ E

17. 지도는 어느 신·재생 에너지의 국가별 발전 설비 용량을 나타낸 것이다. 이 신·재생 에너지에 대한 설명으로 옳은 것은? [3점]

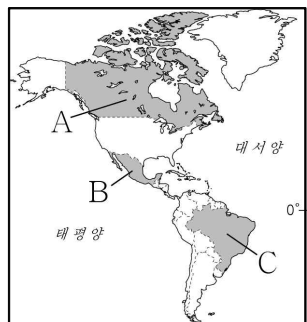


\* 상위 8개 국가만 나타냄. (2018년)

- ① 기후 조건에 따른 발전량의 변동 폭이 크다.
- ② 조수 간만의 차이가 큰 지역이 생산에 유리하다.
- ③ 판의 경계부에 위치한 지역에서 개발 잠재력이 높다.
- ④ 유량이 풍부하고 낙차가 큰 지역이 개발에 유리하다.
- ⑤ 바람이 많이 부는 산지나 해안 지역이 생산에 유리하다.

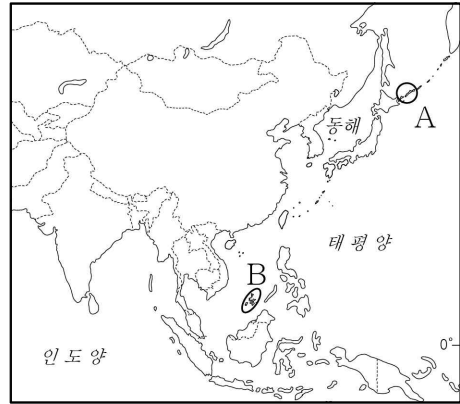
18. 다음 자료의 (가), (나) 국가를 지도의 A~C에서 고른 것은?

- (가) 은/는 세계 최대의 커피 생산 국가이며, 소 사육 두 수도 세계에서 가장 많다. 그러나 소를 키우기 위한 목초지를 조성하면서 열대림이 파괴되고 있다.
- (나) 은/는 옥수수로 만든 토르티야를 활용한 전통 음식이 발달하였다. 유럽 열강의 식민 지배 이전에는 아스테카, 마야 등 고대 문명이 발달하였다.



- |   |     |     |
|---|-----|-----|
|   | (가) | (나) |
| ① | A   | B   |
| ② | A   | C   |
| ③ | B   | A   |
| ④ | C   | A   |
| ⑤ | C   | B   |

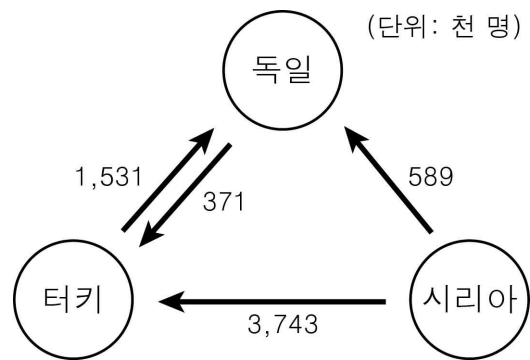
19. 지도의 A, B 지역에서 발생하는 분쟁에 대한 옳은 설명만을 <보기>에서 고른 것은? [3점]



- < 보기 >
- ㄱ. A는 현재 러시아가 실효 지배하고 있다.
  - ㄴ. B의 분쟁 원인은 종교 갈등이다.
  - ㄷ. B는 A보다 분쟁 당사국의 수가 많다.
  - ㄹ. A, B 모두 분쟁 당사국에 일본이 포함된다.

- ① ㄱ, ㄴ    ② ㄱ, ㄷ    ③ ㄴ, ㄷ    ④ ㄴ, ㄹ    ⑤ ㄷ, ㄹ

20. 그림은 세 국가 간 인구 이동을 나타낸 것이다. 이에 대한 옳은 설명만을 <보기>에서 고른 것은? [3점]



\* 천 명 미만은 표시하지 않음.  
\*\* 2019년 조사 자료임.

- < 보기 >
- ㄱ. 시리아에서 터키로의 인구 이동은 자발적 성격이 강하다.
  - ㄴ. 시리아에서 독일로 이동하는 사람들은 주로 이슬람교 신자이다.
  - ㄷ. 터키에서 독일로 이동하는 사람들은 주로 고임금 전문직에 종사한다.
  - ㄹ. 터키에서 독일로 이동하는 사람의 수가 독일에서 터키로 이동하는 사람의 수보다 많다.

- ① ㄱ, ㄴ    ② ㄱ, ㄷ    ③ ㄴ, ㄷ    ④ ㄴ, ㄹ    ⑤ ㄷ, ㄹ

\* 확인 사항  
○ 답안지의 해당란에 필요한 내용을 정확히 기입(표기)했는지 확인하십시오.