


제 4 교시

과학탐구 영역(물리학 I)

성명		수험번호				2				제 () 선택
----	--	------	--	--	--	---	--	--	--	----------

1. 그림은 번지 점프하는 사람을 보며 학생 A, B, C가 대화하는 모습을 나타낸 것이다.



제시한 내용이 옳은 학생만을 있는 대로 고른 것은?

- ① A ② B ③ A, B ④ A, C ⑤ B, C

2. 그림 (가)는 원소 X로만 이루어진 고온의 기체에서 방출된 빛의 스펙트럼을, (나)는 저온의 혼합 기체를 통과한 백열등 빛의 스펙트럼을 나타낸 것이다.



이에 대한 옳은 설명만을 <보기>에서 있는 대로 고른 것은?

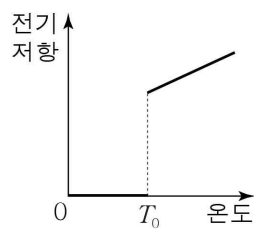
[3점]

< 보 기 >

ㄱ. (나)는 흡수 스펙트럼이다.
 ㄴ. 저온의 혼합 기체에는 X가 포함되어 있다.
 ㄷ. 백열등은 (나)의 검은 선에 해당하는 파장의 빛들을 방출하지 않는다.

- ① ㄱ ② ㄴ ③ ㄱ, ㄷ ④ ㄴ, ㄷ ⑤ ㄱ, ㄴ, ㄷ

3. 그림은 신소재 A의 전기 저항을 온도에 따라 나타낸 것이다. 온도가 T_1 일 때 A의 전기 저항은 0이다.



이에 대한 옳은 설명만을 <보기>에서 있는 대로 고른 것은?

< 보 기 >

ㄱ. $T_1 > T_0$ 이다.
 ㄴ. A를 이용하면 열이 발생하지 않는 전선을 만들 수 있다.
 ㄷ. A는 자기 공명 영상 장치(MRI)에서 강한 자기장을 만드는 데 사용될 수 있다.

- ① ㄱ ② ㄷ ③ ㄱ, ㄴ ④ ㄴ, ㄷ ⑤ ㄱ, ㄴ, ㄷ

4. 다음은 에너지 전환에 대해 학생과 교사가 나눈 대화이다.

학생: 우리 몸은 생명 활동에 필요한 에너지를 어디에서 얻나요?
 교사: 주로 음식물에 저장된 화학 에너지로부터 필요한 에너지를 얻어요.
 학생: 음식물 속 화학 에너지는 어떻게 만들어지나요?
 교사: 태양 에너지 중 빛에너지가 식물의 ㉠에 의해 화학 에너지로 전환되지요.
 학생: 그럼 태양 에너지는 어떻게 만들어지나요?
 교사: 태양에서 ㉡의 일부가 에너지로 전환되는 수소 핵융합 반응으로 만들어져요.

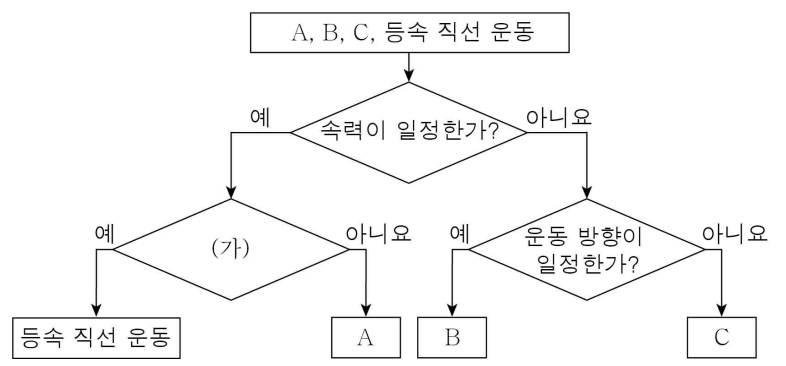
이에 대한 옳은 설명만을 <보기>에서 있는 대로 고른 것은?

< 보 기 >

ㄱ. '호흡'은 ㉠으로 적절하다.
 ㄴ. '질량'은 ㉡으로 적절하다.
 ㄷ. 태양 에너지는 우리 몸의 생명 활동에 필요한 에너지의 근원이다.

① ㄱ ② ㄷ ③ ㄱ, ㄴ ④ ㄴ, ㄷ ⑤ ㄱ, ㄴ, ㄷ

5. 그림은 물체의 운동 4가지를 분류한 것이다. A, B, C는 각각 자유 낙하 운동, 등속 원운동, 포물선 운동 중 하나이다.



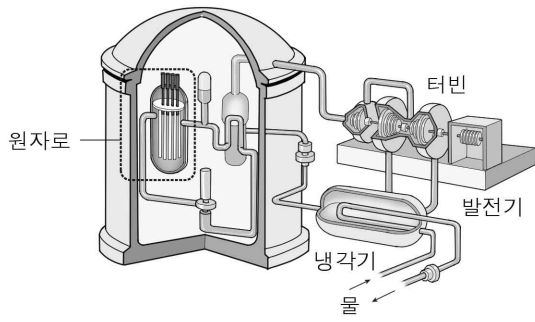
이에 대한 옳은 설명만을 <보기>에서 있는 대로 고른 것은?

< 보 기 >

ㄱ. '물체에 작용하는 알짜힘이 0인가?'는 (가)로 적절하다.
 ㄴ. B에서 물체에 작용하는 알짜힘의 방향은 운동 방향에 수직이다.
 ㄷ. C는 등속 원운동이다.

- ① ㄱ ② ㄴ ③ ㄱ, ㄷ ④ ㄴ, ㄷ ⑤ ㄱ, ㄴ, ㄷ

6. 그림은 핵발전소의 구조를 나타낸 것이다.



이에 대한 옳은 설명만을 <보기>에서 있는 대로 고른 것은?

- < 보 기 >
- ㄱ. 핵발전 과정에서 방사성 폐기물이 발생한다.
 ㄴ. 원자로에서는 핵에너지가 열에너지로 전환된다.
 ㄷ. 냉각수 확보를 위해 바다 근처에 건설하는 것이 유리하다.
- ① ㄱ ② ㄷ ③ ㄱ, ㄴ ④ ㄴ, ㄷ ⑤ ㄱ, ㄴ, ㄷ

7. 다음은 조력 발전에 대한 신문 기사의 일부이다.

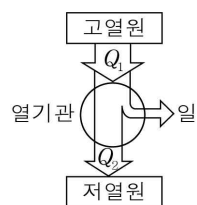
○○신문 ○○○○년 ○월 ○일

조력 발전은 신재생 에너지로, 기후 위기에 대응하는 해법으로 주목받고 있다. 우리나라의 서해안은 크고 작은 만이 발달해 있고, 밀물과 썰물 때 해수면의 높이차가 ①. 따라서 조력 발전을 하기에 적합하다. 그러나 방조제로 바다를 막기 때문에 갯벌 생태계에 영향을 준다는 비판도 존재한다.

이에 대한 옳은 설명만을 <보기>에서 있는 대로 고른 것은?

- < 보 기 >
- ㄱ. '작다'는 ①으로 적절하다.
 ㄴ. 조력 발전은 자원 고갈의 염려가 없다.
 ㄷ. 조력 발전은 파력 발전에 비해 발전량을 예측하기 쉽다.
- ① ㄱ ② ㄷ ③ ㄱ, ㄴ ④ ㄴ, ㄷ ⑤ ㄱ, ㄴ, ㄷ

8. 그림은 외부에 일을 하는 열기관의 에너지 흐름을 나타낸 것이다. 표는 열기관 A, B가 고열원에서 흡수하는 열량 Q_1 , 저열원으로 방출하는 열량 Q_2 와 A, B의 열효율을 나타낸 것이다.

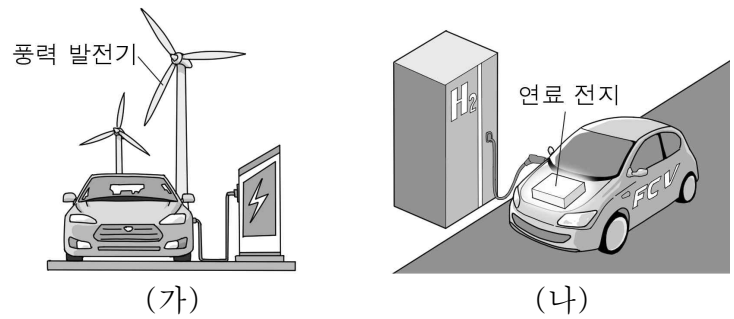


열기관	Q_1	Q_2	열효율
A	$10E_0$	㉠	e
B	$15E_0$	$9E_0$	$2e$

㉠은? [3점]

- ① $2E_0$ ② $3E_0$ ③ $6E_0$ ④ $7E_0$ ⑤ $8E_0$

9. 그림 (가)는 전기 자동차에 풍력 발전기에서 생산된 전기를 충전하는 모습을, (나)는 연료 전지로 작동하는 자동차에 수소를 충전하는 모습을 나타낸 것이다.



이에 대한 옳은 설명만을 <보기>에서 있는 대로 고른 것은?

- < 보 기 >
- ㄱ. 풍력 발전기의 발전량은 날씨의 영향을 받는다.
 ㄴ. 연료 전지에서 반응이 일어날 때 물(H_2O)이 생성된다.
 ㄷ. 풍력 발전기와 연료 전지는 모두 전자기 유도 현상을 이용하여 전기 에너지를 생산한다.
- ① ㄱ ② ㄷ ③ ㄱ, ㄴ ④ ㄴ, ㄷ ⑤ ㄱ, ㄴ, ㄷ

10. 다음은 전자기 유도 실험이다.

[실험 과정]

- 그림과 같이 코일의 중심축을 따라 자석을 일정한 속도 v 로 움직이며 자석이 점 p에 도달하는 순간 유도 전류의 세기와 방향을 측정한다.
- 다음과 같이 자석의 구성만을 바꾸어 실험 I, II, III을 진행한다. 자석의 크기와 세기는 모두 동일하다.


[실험 결과]

실험	I	II	III
전류의 세기	I_0	$2I_0$	㉠
전류의 방향	㉡	㉢	?

이에 대한 옳은 설명만을 <보기>에서 있는 대로 고른 것은? [3점]

- < 보 기 >
- ㄱ. ㉠은 I_0 보다 크다.
 ㄴ. ㉡과 ㉢은 같다.
 ㄷ. II에서 자석과 코일 사이에는 서로 미는 자기력이 작용한다.
- ① ㄱ ② ㄷ ③ ㄱ, ㄴ ④ ㄱ, ㄷ ⑤ ㄴ, ㄷ

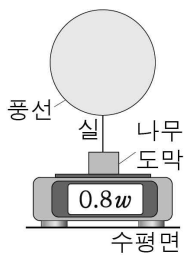
11. 그림은 수상 태양광 발전에 대해 학생 A, B, C가 대화하는 모습을 나타낸 것이다.



제시한 내용이 옳은 학생만을 있는 대로 고른 것은?

- ① A ② C ③ A, B ④ B, C ⑤ A, B, C

12. 그림과 같이 헬륨 기체가 든 풍선과 무게가 w 인 나무 도막이 실로 연결되어 저울 위에 정지해 있다. 저울의 측정값은 $0.8w$ 이다.

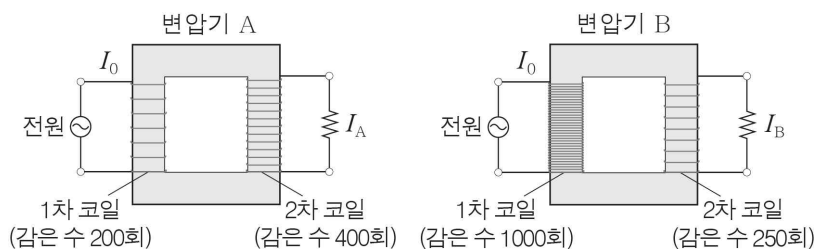


이에 대한 옳은 설명만을 <보기>에서 있는 대로 고른 것은? (단, 실의 질량, 모든 마찰은 무시한다.) [3점]

- < 보 기 > —
- ㄱ. 나무 도막에 작용하는 중력의 크기는 실이 나무 도막을 당기는 힘의 크기보다 크다.
 - ㄴ. 풍선에 작용하는 중력과 풍선이 실을 당기는 힘은 작용 반작용 관계이다.
 - ㄷ. 저울이 나무 도막을 떠받치는 힘의 크기는 실이 나무 도막을 당기는 힘의 크기의 4배이다.

- ① ㄱ ② ㄴ ③ ㄱ, ㄷ ④ ㄴ, ㄷ ⑤ ㄱ, ㄴ, ㄷ

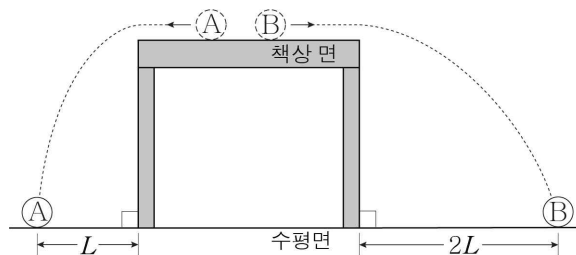
13. 그림은 교류 전원이 연결된 1차 코일, 저항이 연결된 2차 코일로 구성된 변압기 A와 B를 나타낸 것이다. A, B의 1차 코일에 흐르는 전류의 세기는 I_0 으로 같고, 저항에 흐르는 전류의 세기는 각각 I_A , I_B 이다.



$I_A : I_B$ 는? (단, 변압기에서의 에너지 손실은 무시한다.) [3점]

- ① 1:8 ② 1:4 ③ 1:2 ④ 2:1 ⑤ 8:1

14. 그림과 같이 물체 A, B가 수평면과 나란한 책상 면에서 서로 반대 방향으로 각각 등속도 운동한 후 책상 면을 떠나 수평면에 도달한다. 책상 면에서 A, B의 운동량의 크기는 같고, A, B가 책상 면을 떠나는 순간부터 수평면에 도달할 때까지 수평 방향으로 이동한 거리는 각각 L , $2L$ 이다.



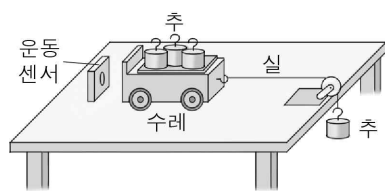
이에 대한 옳은 설명만을 <보기>에서 있는 대로 고른 것은? (단, 물체의 크기, 공기 저항은 무시한다.) [3점]

- < 보 기 > —
- ㄱ. 책상 면을 떠나는 순간부터 수평면에 도달할 때까지 걸린 시간은 B가 A보다 크다.
 - ㄴ. 책상 면에서의 속력은 B가 A의 2배이다.
 - ㄷ. 질량은 B가 A의 2배이다.

- ① ㄱ ② ㄴ ③ ㄱ, ㄷ ④ ㄴ, ㄷ ⑤ ㄱ, ㄴ, ㄷ

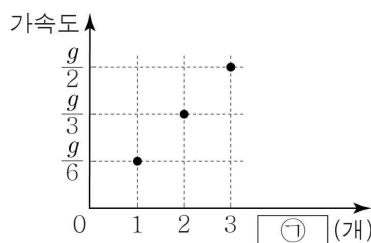
15. 다음은 뉴턴 운동 법칙에 대한 실험이다.

- [실험 과정]
- (가) 그림과 같이 수평한 책상 위에 수레, 질량이 100 g 인 추 4개, 운동 센서를 장치한다.
 - (나) 정지해 있던 수레를 가만히 놓아 운동하는 수레의 가속도를 측정한다.
 - (다) 수레 위 추의 수와 실에 매달린 추의 수를 바꾸어 가며 (나)를 반복한다.



실험	수레 위 추의 수	실에 매달린 추의 수
I	3	1
II	2	2
III	1	3

[실험 결과]



수레의 질량과 ㉠으로 가장 적절한 것은? (단, g 는 중력 가속도이고, 실의 질량, 공기 저항, 모든 마찰은 무시한다.) [3점]

- 수레의 질량 ㉠
- ① 200 g 수레 위 추의 수
 - ② 300 g 수레 위 추의 수
 - ③ 200 g 실에 매달린 추의 수
 - ④ 300 g 실에 매달린 추의 수
 - ⑤ 400 g 실에 매달린 추의 수

16. 다음은 범퍼카에 대한 설명이다.

범퍼카는 서로 부딪치면서 놀 수 있는 놀이기구이다. 충돌할 때 범퍼카가 받는 충격량은 범퍼카의 ㉠ 의 변화량과 같다. 이때 고무로 된 범퍼는 힘을 받는 시간을 ㉡ 하여 범퍼카에 작용하는 평균 힘의 크기를 ㉢ 시킨다.



㉠, ㉡, ㉢에 들어갈 내용으로 가장 적절한 것은?

- | | | | |
|-------|----|----|---|
| | ㉠ | ㉡ | ㉢ |
| ① 운동량 | 길게 | 증가 | |
| ② 운동량 | 길게 | 감소 | |
| ③ 운동량 | 짧게 | 증가 | |
| ④ 속도 | 길게 | 감소 | |
| ⑤ 속도 | 짧게 | 증가 | |

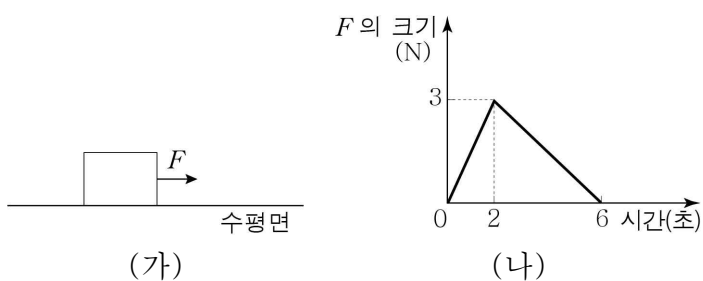
17. 표는 전력망 A, B의 송전 전력, 송전 전압, 송전선의 저항, 송전선에서 손실되는 전력을 나타낸 것이다.

전력망	송전 전력	송전 전압	송전선의 저항	손실 전력
A	$100P_0$	V_0	r	㉠
B	$150P_0$	V_0	$2r$	㉡

㉠ : ㉡은? [3점]

- ① 2 : 9 ② 1 : 3 ③ 4 : 9 ④ 9 : 8 ⑤ 4 : 1

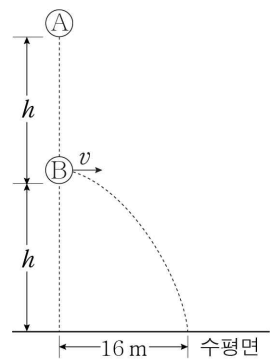
18. 그림 (가)는 0초일 때 마찰이 없는 수평면에 정지해 있는 물체에 수평면과 나란하게 일정한 방향으로 힘 F 가 작용하는 모습을, (나)는 F 의 크기를 시간에 따라 나타낸 것이다. 2초일 때 물체의 속력은 v 이다.



6초일 때 물체의 속력은?

- ① 0 ② v ③ $2v$ ④ $3v$ ⑤ $4v$

19. 그림과 같이 0초일 때 물체 A를 수평면으로부터 높이 $2h$ 인 지점에서 가만히 놓는 순간 물체 B를 높이 h 인 지점에서 수평 방향으로 속도 v 로 던진다. B는 2초일 때 수평면에 도달하며, 0초부터 2초까지 B가 수평 방향으로 이동한 거리는 16 m이다.

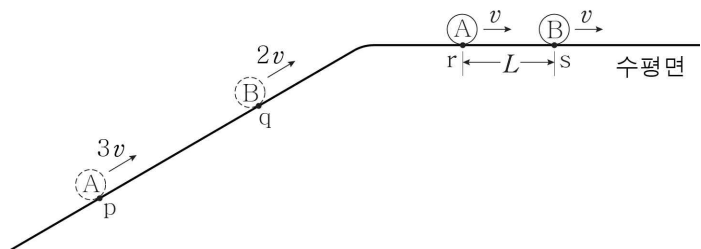


이에 대한 옳은 설명만을 <보기>에서 있는 대로 고른 것은? (단, 물체의 크기, 공기 저항은 무시한다.) [3점]

- < 보기 >
- ㄱ. $v = 8 \text{ m/s}$ 이다.
 ㄴ. 1초일 때, 연직 방향 속력은 B가 A보다 크다.
 ㄷ. 2초일 때, A의 높이는 h 이다.

- ① ㄱ ② ㄴ ③ ㄱ, ㄷ ④ ㄴ, ㄷ ⑤ ㄱ, ㄴ, ㄷ

20. 그림과 같이 물체 A, B가 빗면 위에서 등가속도 운동을 하여 점 p, q를 각각 $3v$, $2v$ 의 속력으로 동시에 지난 후, 수평면 위의 점 r, s를 v 의 속력으로 동시에 지난다. r과 s 사이의 거리는 L 이다.



이에 대한 옳은 설명만을 <보기>에서 있는 대로 고른 것은? (단, A와 B는 동일 연직면에서 운동하고, 물체의 크기, 공기 저항, 모든 마찰은 무시한다.) [3점]

- < 보기 >
- ㄱ. A가 r에서 s까지 운동하는 데 걸리는 시간은 $\frac{L}{v}$ 이다.
 ㄴ. 빗면에서 B의 가속도의 크기는 $\frac{v^2}{L}$ 이다.
 ㄷ. p와 q 사이의 거리는 $\frac{5}{2}L$ 이다.

- ① ㄱ ② ㄷ ③ ㄱ, ㄴ ④ ㄴ, ㄷ ⑤ ㄱ, ㄴ, ㄷ

* 확인 사항

○ 답안지의 해당란에 필요한 내용을 정확히 기입(표기)했는지 확인하십시오.