

제 4 교시

사회탐구 영역(세계사)

성명  수험번호      2    제 ( ) 선택

1. (가) 문명에 대한 설명으로 옳은 것은?

**세계사 수행 평가**

2학년 ○반 ○○번 이름: ○○○

- 과제: 메소포타미아, 이집트, 인도, 중국 문명 중 하나를 선택하여 그 문명의 특징이 잘 나타나도록 화폐 도안하기
- 선택한 문명: (가)
- 도안 설명

앞면	뒷면
피라미드와 그 앞의 스피크스를 함께 그려 넣음.	나일강과 강변의 파피루스를 함께 그려 넣음.

- 화폐 도안

- 지구라트를 건설하였다.
- 사자의 서를 제작하였다.
- 모헨조다로 유적을 남겼다.
- 파르테논 신전을 건축하였다.
- 갑골에 점복의 내용을 기록하였다.

2. (가) 인물에 대한 설명으로 옳은 것은?


**역사 속 명마 이야기**

**1. 부케팔로스**

마케도니아의 필리포스 2세가 명마라고 알려진 말을 구하였으나, 그 말이 너무 사나워 누구도 길들일 수 없었다. 그러나 그의 아들인 (가)이/가 이 말을 잘 길들이자 필리포스 2세는 크게 기뻐하며, “아들아! 너의 그릇에 맞는 왕국을 만들어라. 마케도니아는 네게 너무 좁구나!”라고 말한 뒤 그 말을 아들에게 주었다. 이후 부케팔로스라고 불린 이 말은 (가)의 기마로서 이소스 전투 등 수많은 전투를 함께하였다. (가)은/는 부케팔로스를 기리기 위해 ‘알렉산드리아 부케팔로스’라는 도시를 건설하였다고 한다.

- 크리스트교를 공인하였다.
- 도편 추방제를 마련하였다.
- 아우구스투스라는 칭호를 부여받았다.
- 아케메네스 왕조 페르시아를 정복하였다.
- 교황으로부터 서로마 황제의 관을 받았다.

3. (가) 시대에 있었던 사실로 옳은 것은? [3점]



이 우표들은 (가) 시대에 창건된 도다이사를 소개하기 위하여 제작되었다. 도다이사는 불교의 힘을 빌려 국가를 안정시키려는 쇼무 천황에 의해 창건되었다. 높이 약 15m의 청동 대불과 이 불상이 안치되어 있는 대불전은 도다이사의 대표적인 문화유산이다.

- 청일 전쟁이 일어났다.
- 이와쿠라 사절단이 파견되었다.
- 헤이조쿄가 수도로 번영하였다.
- 산킨코타이 제도가 시행되었다.
- 두 차례에 걸쳐 몽골이 침입하였다.

4. (가)에 들어갈 내용으로 가장 적절한 것은?

**중국 황제 다큐멘터리 기획안**

- 제목: (가)
- 기획 의도: 5대 10국 시대의 혼란 속에서 새 왕조를 세운 조광윤의 삶과 정책을 조명한다.
- 구성
  - 1부: 무장(武將)에서 황제가 되다.
  - 2부: 절도사의 권한을 회수하다.
  - 3부: 과거제를 개혁하고 문치주의를 내세우다.

- 수 양제의 대외 진출
- 진시황제의 중국 통일
- 송 태조의 황제권 강화
- 칭기즈 칸의 정복 활동
- 강희제의 반청 세력 진압

5. (가) 왕조에 대한 설명으로 옳은 것은? [3점]

치열한 전투가 밤낮으로 반복되었다. 1258년 2월 몽골군이 도시의 벽에 올라 (가)의 수도인 바그다드를 장악하였다. (가)의 칼리프가 도시 바깥으로 나가 홀라구를 알현하였다. ...(중략)... 1주간의 약탈을 통해 홀라구는 전리품을 모으고 도시를 떠나면서 칼리프와 그 아들을 끌고 갔다.

- 교초를 발행하였다.
- 다이카 개신을 단행하였다.
- 올림피아 제전을 개최하였다.
- 탈라스 전투에서 승리하였다.
- 조로아스터교를 국교로 정하였다.

세계사

6. 밑줄 친 ‘이 황제’가 실시한 정책으로 옳은 것은?

이 민요는 한에 의해 자신들의 거점을 잃은 흉노의 슬픔을 노래한 것입니다. 한의 이 황제는 광거병, 장건 등에게 명을 내려 흉노를 공격하였습니다. 그 결과 흉노는 자신들의 생활 근거지였던 기련산, 연지산을 한에 빼앗기게 되었습니다.

“우리는 기련산을 잃어 가축을 먹일 수도 없고, 우리는 연지산을 잃어 여인들의 얼굴을 물들일 수도 없다.”

\* 연지산 : 입술이나 뺨에 바르는 연지의 원료인 홍화가 자라던 곳



- ① 육유를 반포하였다.
- ② 분서갱유를 단행하였다.
- ③ 이자성의 난을 진압하였다.
- ④ 통제거 등 대운하를 건설하였다.
- ⑤ 소금, 철 등의 전매제를 실시하였다.

7. (가) 국왕에 대한 설명으로 옳은 것은?



이 그림은 태양왕 (가)와/과 재상 콜베르가 고블랭 제작소를 시찰하는 모습을 담고 있다. 당시 고블랭 제작소는 콜베르에 의해 왕실 장식품 제작소로 육성되었는데, 이는 (가)의 중상주의 정책에 따라 외국산 태피스트리\* 등의 수입을 제한하고 국내 산업을 발전시키기 위함이었다.

\* 태피스트리 : 그림을 짜 넣은 장식용 직물

- ① 밀라노 칙령을 공포하였다.
- ② 카노사의 굴욕을 당하였다.
- ③ 베르사유 궁전을 건축하였다.
- ④ 콜럼버스의 항해를 후원하였다.
- ⑤ 네르친스크 조약을 체결하였다.

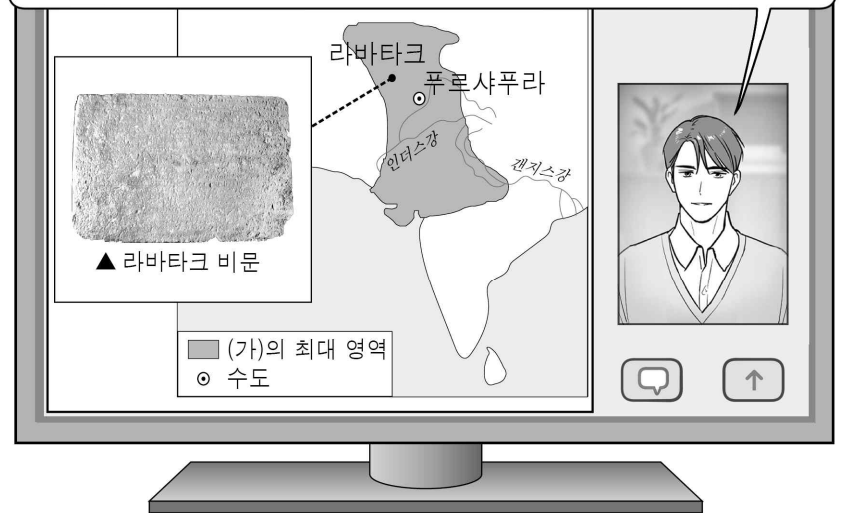
8. 자료에 대한 탐구 활동으로 가장 적절한 것은? [3점]

벵골 주민은 벵골 분할에 아주 큰 불만을 품고 있습니다. 벵골 분할은 영국인의 잔인하고도 어리석은 행동입니다. 이러한 행동이 언젠가는 바로잡힐 것으로 기대하고 있습니다. ...**(중략)**... 경제적 혼란 상태에 있는 우리 나라에서 스와데시(국산품 애용)를 강력하게 추진할 필요가 있다고 생각합니다.  
- 콜카타 대회 의장의 연설 -

- ① 삼국 간섭의 배경을 이해한다.
- ② 호세 리살의 생애를 알아본다.
- ③ 청년 튀르크당의 주장을 분석한다.
- ④ 인도 국민 회의의 활동을 조사한다.
- ⑤ 태평천국 운동의 전개 과정을 살펴본다.

9. (가) 왕조에서 있었던 사실로 옳은 것은? [3점]

이 라바타크 비문에는 ‘인도의 어떤 유력자라도 카니슈카에 종속된다’, ‘왕 중의 왕, 승리자’ 등의 내용이 담겨 있습니다. 이 비문은 (가)의 전성기를 이끈 카니슈카왕이 영토를 확대했음을 보여주고 있습니다.



- ① 시박사가 설치되었다.
- ② 예니체리가 창설되었다.
- ③ 헤이안교가 조성되었다.
- ④ 대승 불교가 유행하였다.
- ⑤ 앙코르 와트가 건립되었다.

10. 밑줄 친 ‘우리 나라’의 민족 운동으로 옳은 것은? [3점]

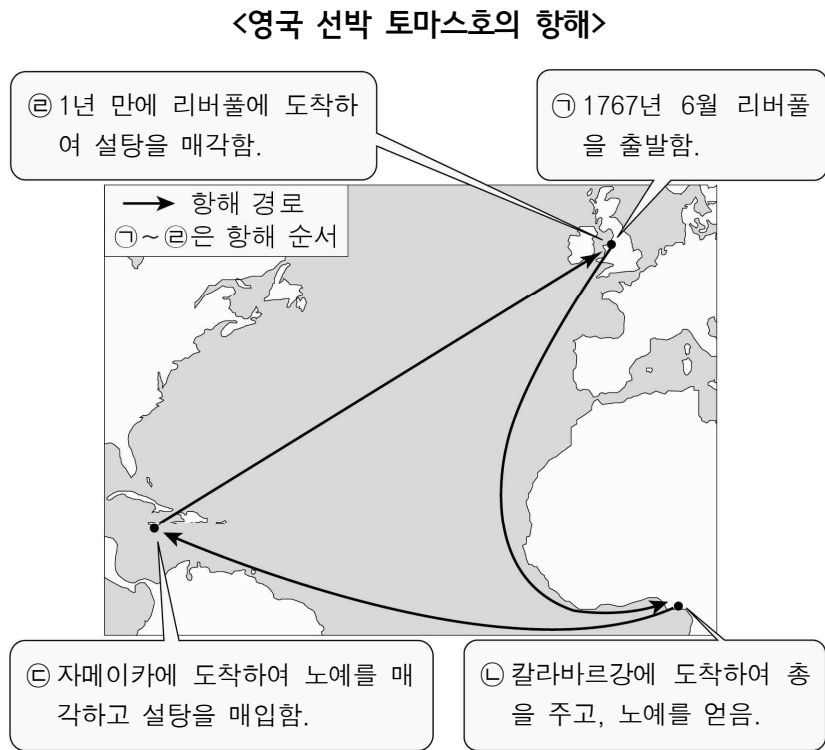
판보이쩌우 선생님, 선생님께서 이끄는 단체의 사람들이 중국 동맹회에 가입하기를 바랍니다. 중국 동맹회가 혁명에 성공하면 귀국이 프랑스로부터 독립하도록 돕겠습니다.

쑨원 선생님, 중국 동맹회가 먼저 우리 나라를 도와주시시오. 우리가 독립하면 북부 지역을 혁명의 근거지로 활용할 수 있도록 약속하겠습니다.



- ① 탄지마트가 추진되었다.
- ② 세포이의 항쟁이 발생하였다.
- ③ 의화단이 부칭멸양을 내세웠다.
- ④ 볼리바르가 독립 운동을 이끌었다.
- ⑤ 호찌민이 반제국주의 운동을 전개하였다.

11. 자료를 활용한 탐구 활동으로 가장 적절한 것은?



- ① 감합 무역의 실시 배경을 알아본다.
- ② 페니키아인의 교역 거점을 찾아본다.
- ③ 마르코 폴로의 이동 경로를 살펴본다.
- ④ 대서양을 중심으로 전개된 무역을 조사한다.
- ⑤ 바르샤바 조약 기구[WTO]의 설립 목적을 파악한다.

12. (가) 왕조에서 있었던 사실로 옳은 것은? [3점]

**고사성어 사전**

문생천자(門生天子) 🔍

**설명**

이 고사성어는 환관 양복공에 의해 웅립된 (가)의 소종이 오히려 환관을 멀리하자, 양복공이 황제를 가리켜 '은혜를 모르는 문생천자'라고 말한 데서 유래하였다. 과거 시험관이 급제자(문생)를 결정하듯 환관이 황제(천자) 즉위를 좌우한다는 의미이다. 안사의 난을 전후하여 군진제와 조용조가 붕괴되고 각 지방의 군 사령관들이 독립적인 세력으로 성장하면서 (가)의 통치 질서가 무너지고 황제권이 약화된 상황을 잘 보여준다.

- ① 당삼채가 제작되었다.
- ② 이갑제가 실시되었다.
- ③ 팔기군이 조직되었다.
- ④ 제자백가가 출현하였다.
- ⑤ 채윤(채륜)이 제지술을 개량하였다.

13. (가) 왕조에서 볼 수 있는 모습으로 가장 적절한 것은? [3점]

**세계 도시 탐방**

▲ 스마랑의 정화 동상

- 도시: 스마랑(三寶壟, 삼보롱)
- 위치: 인도네시아 자와섬
- 설명: 정화의 본명인 '삼보'에서 도시 이름이 유래하였다. (가)의 환관 정화는 영락제 때부터 추진된 대규모 항해를 지휘하여 동남아시아와 인도 및 동아프리카 해안까지 진출하였다. 그 과정에서 이곳을 거처간 것으로 알려져 있다.

- ① 자금성 건설에 동원되는 농민
- ② 고구려 원정을 명령하는 황제
- ③ 메이지 유신을 추진하는 관료
- ④ 사고전서 편찬에 참여하는 학자
- ⑤ 황건적의 난을 피해 도망가는 호족

14. (가), (나) 시기 사이에 있었던 사실로 옳은 것은? [3점]

(가)	(나)
<p>세계사 신문</p> <p><b>새 헌법 제정</b></p> <p>2년 전 인권 선언을 발표한 국민 의회가 입헌 군주제 등의 내용을 담은 헌법을 제정하였다.</p>	<p>세계사 신문</p> <p><b>『나폴레옹 법전』 편찬</b></p> <p>나폴레옹이 개인의 자유와 사유 재산권의 보호 등 혁명 정신이 반영된 법전을 편찬하였다.</p>

- ① 빈 체제가 성립되었다.
- ② 통령 정부가 수립되었다.
- ③ 레판토 해전이 발발하였다.
- ④ 보스턴 차 사건이 일어났다.
- ⑤ 피의 일요일 사건이 발생하였다.

15. (가)에 들어갈 내용으로 가장 적절한 것은?

**세계사 복습 OX 퀴즈**

영국이 인도산 아편을 청에 밀수출하여 청의 피해가 극심해졌다. 이에 청은 임칙서를 파견하여 아편 단속을 실시하였는데 영국은 이를 구실로 전쟁을 일으켰다. 이 전쟁은 영국의 승리로 끝났고 그 결과 (가)

**정답** ○

다음 문제 풀기 →

- ① 비단길이 개척되었다.
- ② 난징 조약이 체결되었다.
- ③ 황소의 난이 발생하였다.
- ④ 국공 내전이 시작되었다.
- ⑤ 5·4 운동이 전개되었다.

16. 다음 편지를 활용한 탐구 주제로 가장 적절한 것은?

케네디 대통령 귀하  
 귀하는 미국에서 90 마일 떨어진 곳에 미사일이 있어 문제라고 말합니다. 하지만 터키 역시 우리와 인접해 있습니다. 귀하는 쿠바의 무기가 공격용이라고 주장하며 철수를 요구하면서도 우리 바로 옆에 있는 터키에 공격용이라고 불릴만한 무기를 배치했습니다. ...**(중략)**... 저는 다음과 같이 제안합니다. 우리는 쿠바의 시설을 철수시킬 의향이 있습니다. 귀국 정부도 터키의 유사한 시설을 철수하겠다고 약속하길 바랍니다.  
 흐루쇼프

- ① 냉전 체제의 전개
- ② 변법자강 운동의 추진
- ③ 제1차 세계 대전의 배경
- ④ 대공황 극복을 위한 노력
- ⑤ 신자유주의 경제 체제의 대두

17. 자료에 나타난 운동으로 옳은 것은?

당신들 의회가 우리 노동자들의 많은 요청을 꺼리고 있으니 청원자들은 이 명백한 악을 바로 잡을 것을 요구한다. 21세 이상 모든 남자의 선거권 인정, 비밀 투표제 시행, 의원의 재산 자격 조항 폐지, 의원에게 보수 지급, 인구 비례에 따른 동등한 선거구 설정, 매년 선거 실시 등의 내용을 담은 「인민헌장」이라고 이름 붙인 문서를 변경, 삭제, 추가 없이 즉시 법으로 정할 것을 요구한다.

- ① 대약진 운동                      ② 와하브 운동
- ③ 차티스트 운동                  ④ 인클로저 운동
- ⑤ 브나로드 운동

18. (가) 전쟁 중에 있었던 사실로 옳은 것은?

**탐구 활동 안내**


- 주제: 영화 속에 묘사된 **(가)**
- 방법: **(가)**을/를 소재로 한 영화를 통해 전쟁의 양상을 알아본다.
- 예시 영화

영화 제목	주요 내용
베스테르플라테 전투	독일의 폴란드 침공
진주만	일본의 진주만 공습
스탈린그라드	소련과 독일 사이에 벌어진 전투
지상 최대의 작전	연합군의 노르망디 상륙 작전


- ① 국제 연맹이 출범하였다.
- ② 파쇼다 사건이 일어났다.
- ③ 독일이 파리를 점령하였다.
- ④ 베를린 장벽이 설치되었다.
- ⑤ 일본이 만주 사변을 일으켰다.

19. (가) 제국에 대한 설명으로 옳은 것은? [3점]

**문장(紋章)으로 보는 세계사**



▲ **(가)**의 문장



▲ 이반 3세의 인장

14세기 경부터 사용된 **(가)**의 쌍두 독수리 문장은 유럽과 아시아에 걸친 이 제국의 영토를 상징하는 것으로 알려져 있다. 한때 변역을 누렸던 이 제국은 1453년 메흐메트(메메트) 2세에 의해 수도 콘스탄티노폴리스가 점령되면서 멸망하였다. 이후 모스크바 대공국의 이반 3세는 이 제국 마지막 황제의 조카딸과 결혼하고 쌍두 독수리의 문장을 담은 인장을 사용하면서 이 제국의 후계자임을 자처하였다.

- ① 타지마할을 건설하였다.
- ② 백년전쟁에서 승리하였다.
- ③ 티무르에 의해 건국되었다.
- ④ 베스트팔렌 조약을 체결하였다.
- ⑤ 유스티니아누스 법전을 편찬하였다.

20. 밑줄 친 '나'에 대한 설명으로 옳은 것은? [3점]

1985년 소련 공산당 서기장이 된 나는 우리가 더 이상 것처럼 살 수 없다는 것을 깨달았습니다. ...**(중략)**... 우리가 국내외적으로 피할 수 없는 재앙에 직면했다는 깨달음은 역사적인 선택을 할 수 있게 해 주었습니다. 페레스트로이카는 우리 국민을 상식으로 되돌려 놓았고 세계에 우리를 개방할 수 있게 해 주었습니다. 아울러 국가의 내부 발전과 대외정책에서 정상적인 관계를 회복시켰습니다.

- ① 대륙 봉쇄령을 내렸다.
- ② 문화 대혁명을 일으켰다.
- ③ 마셜 계획을 추진하였다.
- ④ 95개조 반박문을 발표하였다.
- ⑤ 시장 경제 요소를 도입하였다.

**\* 확인 사항**  
 ○ **답안지의 해당란에 필요한 내용을 정확히 기입(표기)했는지 확인하십시오.**