



제 4 교시

사회탐구 영역 (세계지리)

성명		수험번호				2			제 ( ) 선택
----	--	------	--	--	--	---	--	--	----------

1. 다음 자료에 대한 설명으로 옳은 것만을 <보기>에서 고른 것은? (단, ㉠, ㉡은 각각 지리적 표시제, 지역 브랜드의 사례 중 하나임.)

	
포르투갈 포르투에서는 ㉠ 'Porto.'라는 로고와 도시를 재해석한 디자인 홍보물을 쉽게 볼 수 있다.	프랑스 노르망디는 유럽 연합(EU)의 원산지 보호 명칭으로 등록된 ㉡ '카망베르 드 노르망디' 치즈가 유명하다.


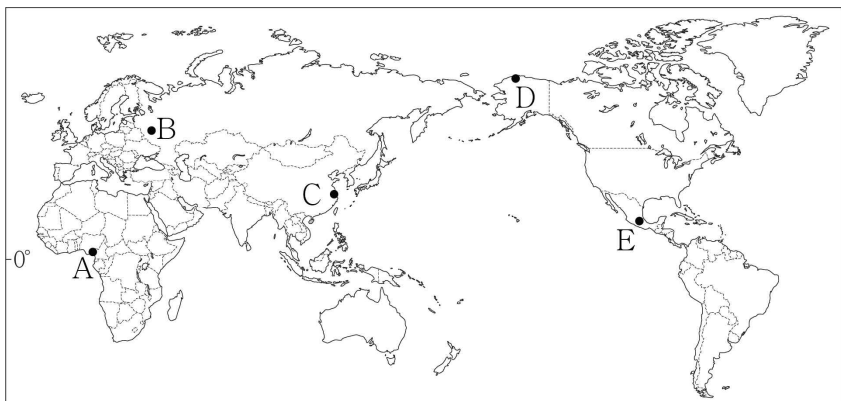
< 보 기 >

㉠. ㉠은 지역의 인지도를 높여 준다.  
 ㉡. ㉡은 다국적 기업에서 생산된 치즈에만 상품명으로 사용할 수 있다.  
 ㉢. ㉠은 지역 브랜드, ㉡은 지리적 표시제의 사례이다.  
 ㉣. ㉠, ㉡은 모두 지역의 고유성을 약화시킨다.

- ① ㉠, ㉡    ② ㉠, ㉢    ③ ㉡, ㉣    ④ ㉡, ㉣    ⑤ ㉢, ㉣

2. 다음 자료는 여행기의 일부이다. 여행 지역을 지도의 A~E에서 고른 것은?


이곳은 연중 봄과 같은 날씨가 나타나 두꺼운 옷이 필요 없고 긴 셔츠로 일 년을 보낼 수 있다. 아침엔 긴팔로, 낮엔 소매를 걷어서 반팔로, 저녁엔 소매를 내려서 다시 긴팔로 입으면 된다. 기온의 연교차는 거의 없지만, 기온의 일교차가 크기 때문이다. 이곳의 전통 음악 밴드인 마리아치가 챙이 넓은 모자와 망토를 착용하는 것도 이와 관련이 있다. 모자는 직사광선을 막아 주고, 망토는 체온을 유지시켜 준다.

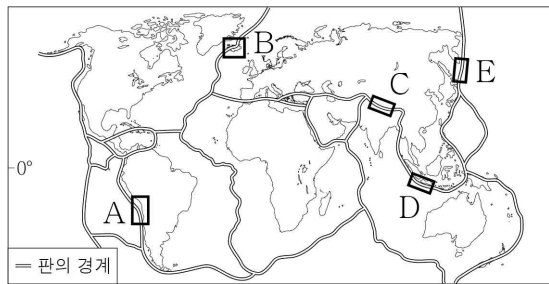
- ① A    ② B    ③ C    ④ D    ⑤ E

3. 다음은 지각판 경계에 대한 검색 내용이다. 검색 결과에 해당하는 지역을 지도 A~E에서 고른 것은?

GeoTV    세계의 주요 지각판 경계



매년 조금씩 땅이 벌어져요.  
 이곳은 두 지각판이 서로 반대 방향으로 벌어지는 경계이다. 이로 인해 화산 활동이 활발하고 간헐천과 지열 발전소를 볼 수 있다.





- ① A  
 ② B  
 ③ C  
 ④ D  
 ⑤ E

4. 다음 자료는 다큐멘터리 제작 계획서이다. (가) 지역에 대한 설명으로 옳은 것만을 <보기>에서 고른 것은? [3점]

유네스코 인류 무형 문화유산을 찾아서

- 기획 의도: 자연환경의 영향을 받아 형성된 문화유산 조사
- 촬영 지역: (가)
- 촬영 계획

촬영할 장면 1  낙타 경주, 낙타와 관련된 사회적 관습과 축제	촬영할 장면 2  대추야자와 관련된 지식과 기술, 전통과 관습
--	---

< 보 기 >

㉠. 연중 기온이 높고 강수량이 많다.  
 ㉡. 연 강수량보다 연 증발량이 많다.  
 ㉢. 일 년 내내 편서풍의 영향을 받는다.  
 ㉣. 전통 가옥은 벽이 두껍고 지붕이 평평한 흙벽돌집이다.

- ① ㉠, ㉡    ② ㉠, ㉢    ③ ㉡, ㉣    ④ ㉡, ㉣    ⑤ ㉢, ㉣

세계지리

5. 그림은 세 지역의 전통 가옥을 나타낸 것이다. (가)~(다)를 볼 수 있는 지역을 지도의 A~C에서 고른 것은?

(가) (나) (다)

A B C

① A B C  
 ② A C B  
 ③ B A C  
 ④ C A B  
 ⑤ C B A

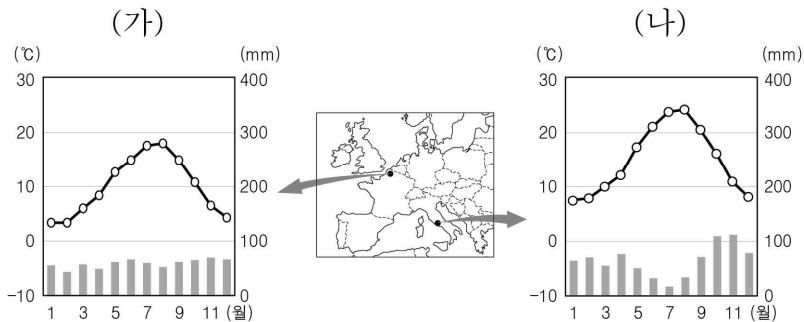
6. 다음 자료의 (가)에 들어갈 내용으로 가장 적절한 것은?

주제 : (가)

- 사례 1: 영국 리버풀은 한때 해상 무역으로 유명한 항구 도시였지만, 현대 해상 운송에는 적합하지 않아 화물 수송 경쟁력의 약화로 쇠락하였다. 그러나 오래된 항구 시설을 철거하지 않고 문화 자원으로 활용하면서 도시가 활기를 띠게 되었다.
- 사례 2: 에스파냐 빌바오는 과거 철강 산업이 발달한 공업 도시였으나, 철강 산업의 쇠퇴로 지역 경제가 어려워졌다. 그러나 구겐하임 미술관을 유치한 후, 문화와 예술의 도시로 탈바꿈되면서 관광객이 늘어나고 도시 경제가 활성화되었다.

- ① 산업화      ② 슬럼화      ③ 역도시화  
 ④ 도시 재생      ⑤ 인구 공동화

7. (가), (나) 지역에 대한 설명으로 옳은 것은? [3점]



- ① (가)에서 가축은 주로 이목의 형태로 사육된다.  
 ② (나)의 대표적인 농업은 혼합 농업이다.  
 ③ (가)는 (나)보다 연중 강수가 고른 편이다.  
 ④ (나)는 (가)보다 연평균 기온이 낮다.  
 ⑤ (가), (나)는 모두 계절풍의 영향을 많이 받는다.

8. 다음 자료는 학생이 작성한 노트의 일부이다. (가), (나) 종교에 대한 설명으로 옳은 것은? [3점]

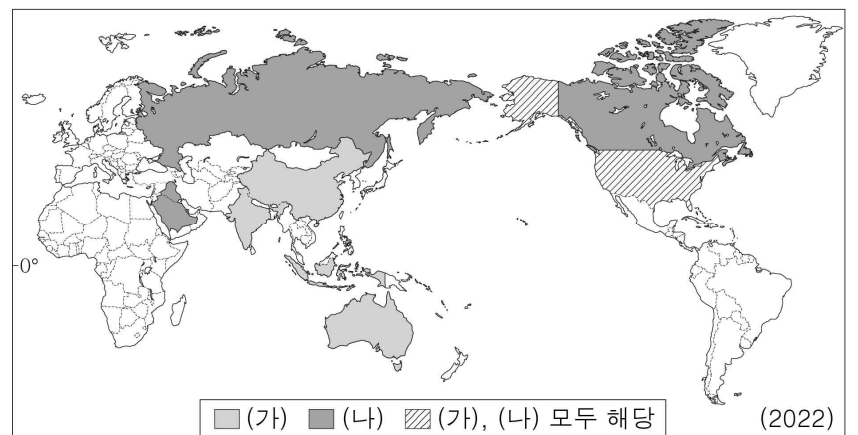
<싱가포르의 다양한 종교 건축물>

(가) (나)

- 큰 십자가가 달린 뾰족한 종탑
- 스테인드글라스로 장식된 창문
- 초승달과 별 모양의 장식이 있는 돔형 지붕
- 아라베스크 무늬로 장식된 벽면

- ① (가)는 성지 순례를 종교적 의무로 한다.  
 ② (나)는 소를 신성하게 여기며 소고기를 금기시한다.  
 ③ (가)는 (나)보다 세계 신자 수가 많다.  
 ④ (가)는 유일신교, (나)는 다신교이다.  
 ⑤ (가), (나)는 모두 남부 아시아에서 기원하였다.


9. 지도는 (가), (나) 에너지 자원의 생산량 상위 5개국을 나타낸 것이다. (가), (나)에 대한 설명으로 옳은 것만을 <보기>에서 고른 것은? (단, (가), (나)는 각각 석유, 석탄 중 하나임.) [3점]



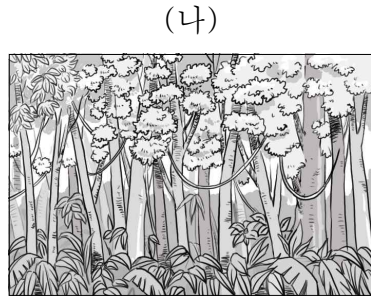
- < 보 기 >
- ㄱ. (가)는 주로 고생대 지층에 매장되어 있다.
  - ㄴ. (나)는 세계 1차 에너지 소비 구조에서 차지하는 비율이 가장 높다.
  - ㄷ. (가)는 (나)보다 상용화된 시기가 늦다.
  - ㄹ. (나)는 (가)보다 산업용으로 이용되는 비율이 높다.

- ① ㄱ, ㄴ    ② ㄱ, ㄷ    ③ ㄴ, ㄷ    ④ ㄴ, ㄹ    ⑤ ㄷ, ㄹ

10. 그림은 두 지역의 식생 경관을 나타낸 것이다. (가), (나) 지역에 대한 설명으로 옳은 것만을 <보기>에서 고른 것은? [3점]



타이가로 불리는 침엽수림



크고 작은 나무들이 다층을 이룬 상록 활엽수림

< 보 기 >

ㄱ. (가)에서는 대류성 강수가 자주 발생한다.  
 ㄴ. (나)는 기온의 연교차보다 일교차가 크다.  
 ㄷ. (가)는 (나)보다 고위도에 위치한다.  
 ㄹ. (가), (나)는 모두 플랜테이션이 활발하다.

- ① ㄱ, ㄴ    ② ㄱ, ㄷ    ③ ㄴ, ㄷ    ④ ㄴ, ㄹ    ⑤ ㄷ, ㄹ

11. 다음 자료의 밑줄 친 지형의 형성에 가장 큰 영향을 미친 요인으로 옳은 것은?

**특급 열차를 타고 알프스로 떠나요**

특급 열차를 타고 알프스산맥의 절경을 감상해 보세요. 통유리창으로 마티호른을 포함한 높고 뾰족한 산봉우리와 U자곡을 볼 수 있습니다.

- ① 바람의 퇴적 작용                      ② 빙하의 침식 작용  
 ③ 파랑의 침식 작용                      ④ 하천의 퇴적 작용  
 ⑤ 석회암의 용식 작용

12. 다음 자료의 (가)에 들어갈 내용으로 가장 적절한 것은?

(가) 문제를 해결하기 위한 노력에 대해서 말해 볼까요?

영국 ○○○ 발전소는 굴뚝에서 배출되는 이산화 탄소를 포집해 북해 해저의 저장소로 수송할 계획입니다.

노르웨이 △△△ 공장은 대체 연료와 탄소 포집 시스템을 도입하여 2030년까지 탄소 배출량을 절반으로 줄일 계획입니다.

- ① 사막화                      ② 오존층 파괴                      ③ 전자 쓰레기  
 ④ 지구 온난화                      ⑤ 미세 플라스틱

13. 다음 자료에 대한 설명으로 옳은 것은? [3점]

2026년 월드컵을 공동 개최하는 A~C는 서로 지리적으로 가까워서 상호 간에 경제적 목적을 이루기 위해 ㉠ 북아메리카 자유 무역 협정을 맺었다. 2020년에는 이를 개정한 협정이 발효되었고, ㉡ 회원국 간 긴밀한 협력을 하고 있다.

- ① C는 B보다 1인당 국내 총생산이 많다.  
 ② A~C 중 총인구는 A가 가장 많다.  
 ③ A~C는 모두 앵글로아메리카 문화권에 속한다.  
 ④ ㉠으로 A~C 간의 무역량은 증가하였다.  
 ⑤ A~C는 ㉡을 위해 단일 통화를 만들어 사용하고 있다.

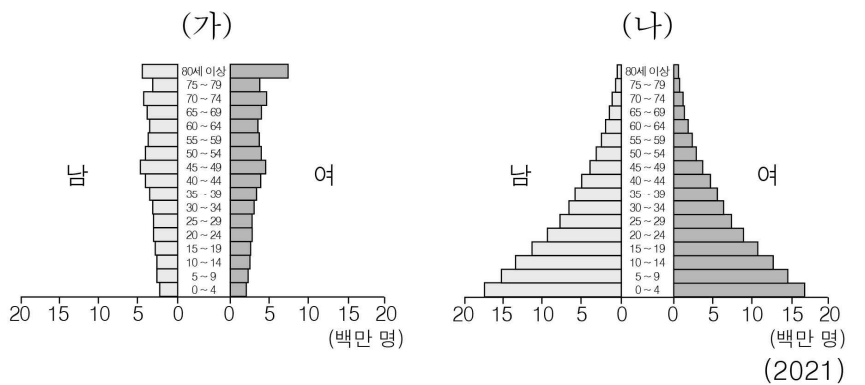
14. 다음 자료의 (가)에 해당하는 국가를 지도의 A~E에서 고른 것은?

(가) , 정열과 삼바의 국가로 초대합니다

- 주요 방문 도시
  - 아마존의 관문 마나우스
  - 아름다운 항구 도시 리우데자네이루
- 포함 사항
  - 포르투갈어 통역 가이드
  - 아마존 열대 우림 투어
  - 리우 카니발 관람

- ① A                      ② B                      ③ C                      ④ D                      ⑤ E

15. 그래프는 두 국가의 인구 구조를 나타낸 것이다. (가)와 비교한 (나)의 상대적 특징으로 옳은 것은? (단, (가), (나)는 각각 나이지리아, 일본 중 하나임.) [3점]



- ① 기대 수명이 짧다.  
 ② 합계 출산율이 낮다.  
 ③ 유소년 부양비가 낮다.  
 ④ 1인당 국내 총생산이 높다.  
 ⑤ 3차 산업 종사자 비율이 높다.

16. (가), (나) 식량 작물에 대한 설명으로 옳은 것은? (단, (가), (나)는 각각 쌀, 옥수수 중 하나임.)



(가)를 모내기하는 모습이 그려진 캄보디아 화폐

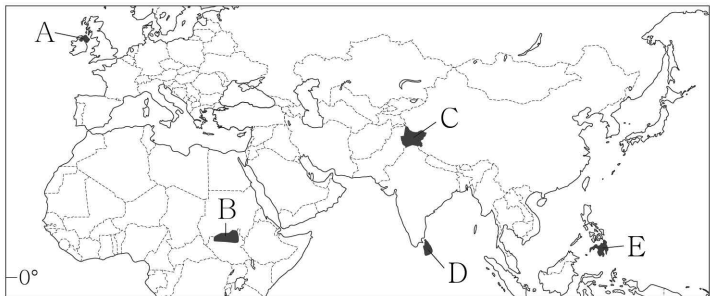


(나)를 들고 있는 손이 그려진 멕시코 화폐

- ① (가)는 중국이 최대 생산국이다.
- ② (나)는 아시아가 기원지이다.
- ③ (가)는 (나)보다 바이오 에너지로 이용되는 비율이 높다.
- ④ (나)는 (가)보다 국제 이동량이 적다.
- ⑤ (가), (나)는 모두 이동식 경작으로 재배된다.

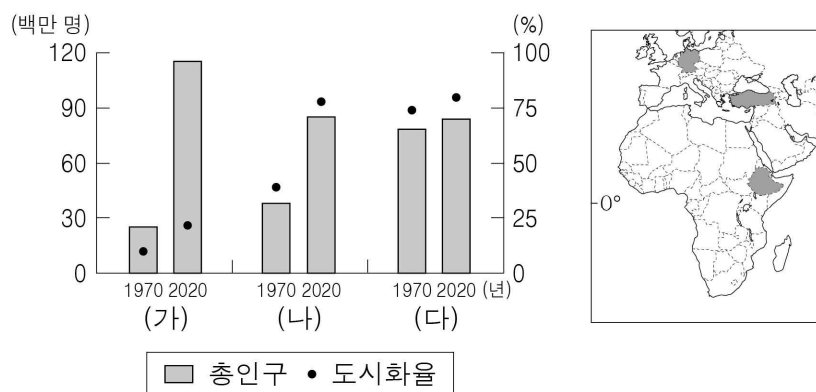
17. 다음 소설의 배경이 된 지역을 지도의 A~E에서 고른 것은?

소설 『말리의 일곱 개의 달』은 힌두교도인 타밀족과 불교도인 신타리족 사이의 분쟁을 소재로 한다. 소설의 배경이 된 지역은 영국의 식민 지배를 받았고, 독립 이후에도 민족, 종교 간 갈등에 시달렸다. 주인공 말리는 저승으로 가기 전, 다음 생을 살 수 있는 망각의 빛으로 들어가지 않고 자신의 죽음을 파헤친다.



- ① A      ② B      ③ C      ④ D      ⑤ E

18. 그래프는 지도에 표시된 세 국가의 총인구와 도시화율 변화를 나타낸 것이다. (가)~(다) 국가에 대한 설명으로 옳은 것은? [3점]



- ① (가)는 2020년에 도시화의 종착 단계에 있다.
- ② (나)는 아프리카에 위치한다.
- ③ (다)는 1970년에 촌락 인구가 도시 인구보다 많다.
- ④ (가)는 (나)보다 2020년 도시 인구가 많다.
- ⑤ (나)는 (다)보다 1970~2020년에 도시 인구 증가율이 높다.

19. (가), (나) 도시에 대한 설명으로 옳은 것만을 <보기>에서 고른 것은? [3점]

	(가)	(나)
도로망		
특징	자유의 여신상이 유명하며 국제 연합[UN] 본부가 있다.	버킹엄 궁전이 유명하며 산업 혁명의 중심지였다.

— < 보 기 > —

ㄱ. (가)는 해당 국가의 수도이다.  
 ㄴ. (나)에는 유럽 연합[EU] 본부가 있다.  
 ㄷ. (가)는 (나)보다 도심과 주변 지역 간 건물의 높이 차이가 크다.  
 ㄹ. (나)는 (가)보다 도시의 역사가 길다.

- ① ㄱ, ㄴ      ② ㄱ, ㄷ      ③ ㄴ, ㄷ      ④ ㄴ, ㄹ      ⑤ ㄷ, ㄹ

20. 다음 자료는 인터넷 검색 결과이다. ㉠~㉢에 대한 설명으로 옳은 것만을 <보기>에서 있는 대로 고른 것은? [3점]

사그라다 파밀리아 Q x

출발 현재 위치

도착 사그라다 파밀리아

◦ 좌표

㉠ 41°40'N, 2°17'E

◦ 개요

㉡ 사그라다 파밀리아는 안토니 가우디가 설계한 성당으로 유명하다.

도착 사그라다 파밀리아

㉢ 최적 경로

출발 현재 위치

— < 보 기 > —

ㄱ. ㉠은 공간 정보에 해당한다.  
 ㄴ. ㉡은 주로 원격 탐사로 수집된 정보이다.  
 ㄷ. ㉢은 종이 지도에 비해 축척을 변경하기 어렵다.  
 ㄹ. ㉢은 수치화된 지리 정보를 컴퓨터가 분석한 결과이다.

- ① ㄱ, ㄷ      ② ㄱ, ㄹ      ③ ㄴ, ㄹ
- ④ ㄱ, ㄴ, ㄷ      ⑤ ㄴ, ㄷ, ㄹ

**\* 확인 사항**

◦ 답안지의 해당란에 필요한 내용을 정확히 기입(표기)했는지 확인하십시오.