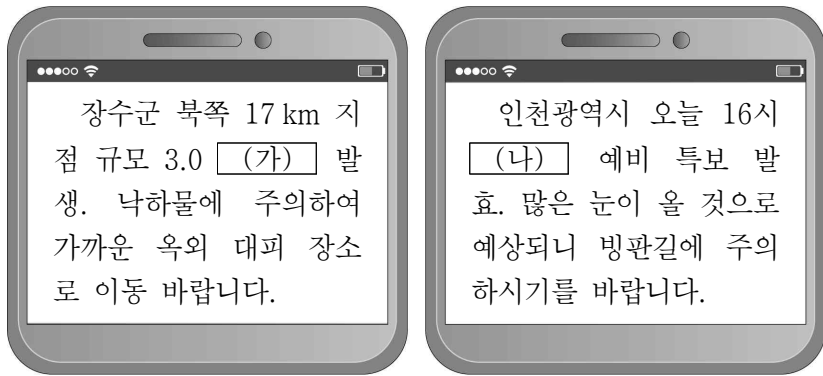


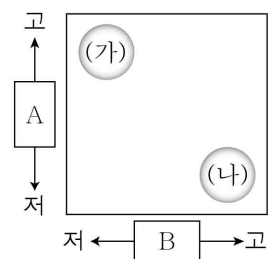
6. 다음 자료는 두 자연재해에 관한 재난 안전 문자 내용이다. (가), (나)에 대한 설명으로 옳은 것은? (단, (가), (나)는 각각 대설, 지진 중 하나임.)



- ① (가)는 난방용 에너지 소비량의 급증을 유발한다.
- ② (나)는 내진 설계를 통해 피해를 줄일 수 있다.
- ③ (나)는 기후적 요인에 의해 발생하는 자연재해이다.
- ④ (가)는 (나)보다 특정 계절에 집중적으로 발생한다.
- ⑤ (나)는 (가)보다 해일 피해를 유발하는 경우가 많다.

7. 다음 자료의 (가), (나) 소매 업태의 상대적 특성을 그림으로 나타낼 때 A, B에 들어갈 항목으로 옳은 것은? (단, (가), (나)는 각각 백화점, 전자 상거래업 중 하나임.) [3점]

소매 업태	사업체 수 (개)	종사자 수 (명)	매출액 (조 원)
(가)	97	12,171	11
(나)	27,641	89,101	28



* '고'는 큼, 높음, 많음을, '저'는 작음, 낮음, 적음을 의미함. (2019)

- | | |
|-----------------|---------------|
| A | B |
| ① 택배업 성장에 미친 영향 | 소비자의 평균 이용 빈도 |
| ② 택배업 성장에 미친 영향 | 물품 구매의 시간적 제약 |
| ③ 물품 구매의 시간적 제약 | 사업체당 종사자 수 |
| ④ 사업체당 종사자 수 | 택배업 성장에 미친 영향 |
| ⑤ 소비자의 평균 이용 빈도 | 물품 구매의 시간적 제약 |

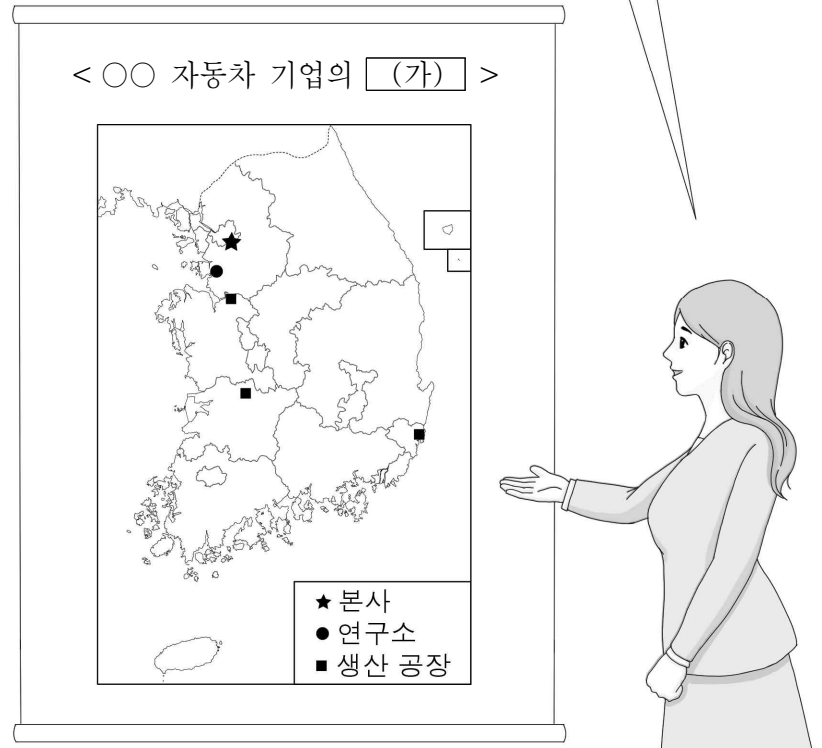
8. 다음 자료의 (가)~(다)에 대한 설명으로 옳은 것은? (단, (가)~(다)는 각각 수력, 태양광, 풍력 중 하나임.) [3점]

구분	발전에 유리한 지역	주요 발전소 건설 지역
(가)	해안이나 산지 지역	제주, 대관령, 태백 등
(나)	대하천의 중·상류 지역	충주, 춘천, 화천 등
(다)	일조량이 풍부한 지역	해남, 고흥, 영광 등

- ① (가)는 강한 바람이 지속적으로 부는 곳이 발전에 유리하다.
- ② (나)는 여름철보다 겨울철에 발전량이 많다.
- ③ (다)는 전남보다 강원도의 발전량이 많다.
- ④ (가)는 (나)보다 전력 생산에 이용된 시기가 이른다.
- ⑤ (다)는 (가)보다 발전 시 소음으로 인한 피해가 크다.

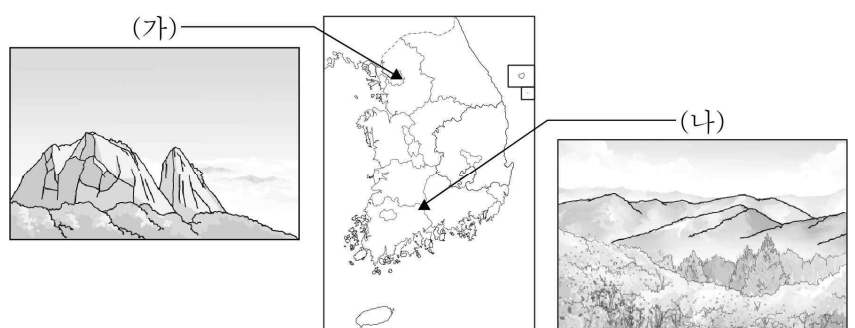
9. 다음은 한국지리 수업 장면의 일부이다. (가)에 들어갈 내용으로 가장 적절한 것은?

기업은 성장하면서 경영의 효율성을 높이기 위해 본사, 연구소, 생산 공장을 각각 적합한 지역에 배치하는데, 이를 (가) (이)라고 합니다. 지도를 통해서 살펴볼까요?



- ① 탈공업화
- ② 공간적 분업
- ③ 집적 불이익
- ④ 공업의 이중 구조
- ⑤ 공업의 지역적 편제

10. 다음 자료의 (가), (나) 산에 대한 설명으로 옳은 것만을 <보기>에서 고른 것은? (단, (가), (나)는 각각 북한산과 지리산 중 하나임.) [3점]



< 보 기 >
 ㄱ. (가)의 주된 기반암은 화강암이다.
 ㄴ. (나)는 우리나라에서 가장 높은 산이다.
 ㄷ. (나)는 (가)보다 산 정상부의 식생 밀도가 높다.
 ㄹ. (가), (나)는 모두 태백산맥의 일부이다.

- ① ㄱ, ㄴ ② ㄱ, ㄷ ③ ㄴ, ㄷ ④ ㄴ, ㄹ ⑤ ㄷ, ㄹ

