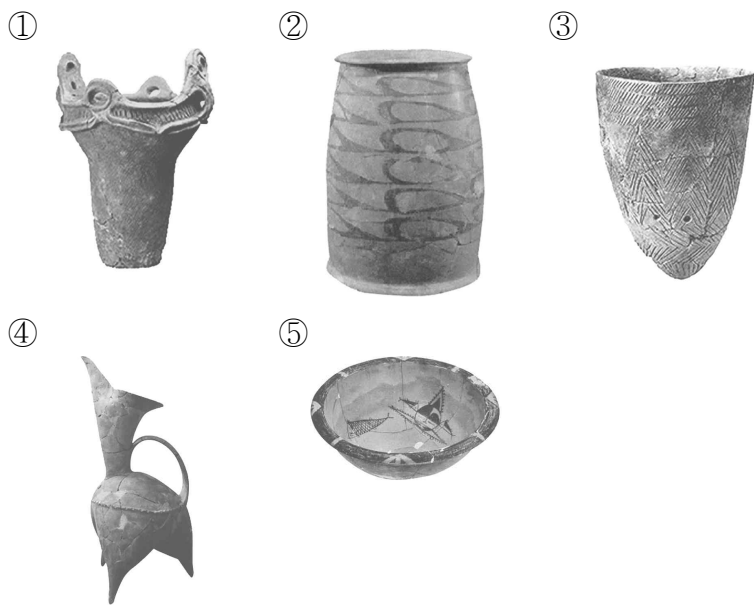
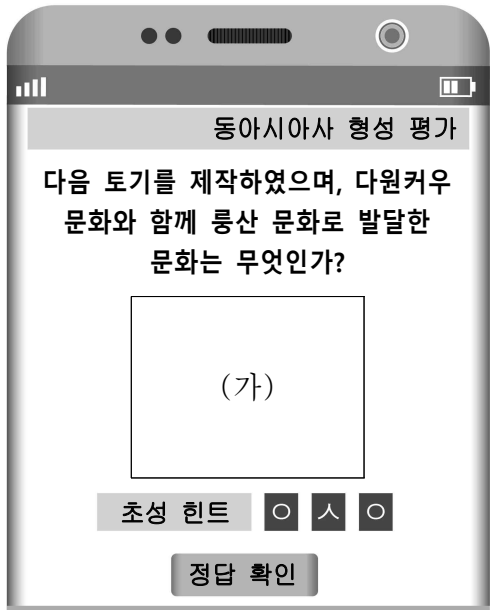


제 4 교시


사회탐구 영역(동아시아사)

성명		수험번호					3				제 () 선택
----	--	------	--	--	--	--	---	--	--	--	----------

1. (가)에 들어갈 문화유산으로 옳은 것은?



2. (가)에 들어갈 내용으로 가장 적절한 것은?



- ① 야율아보기의 부족 통합
- ② 쇼토쿠 태자의 불교 진흥
- ③ 위만의 이주와 집권 과정
- ④ 북위 효문제의 한화 정책
- ⑤ 한 무제의 통치 체제 정비

3. 밑줄 친 '황제'에 대한 설명으로 옳은 것은?

6국을 무너뜨리고 천하를 차지한 황제는 흉노를 공격하려 하였다. 이사가 아뢰기를 “흉노는 성곽에 살지도 않고 옮겨 다니는 것이 새와 같아서 제압하기가 어렵습니다.”라고 반대하였다. 하지만 황제는 군대를 보내 흉노를 공격하여 황허강 북쪽으로 몰아내었다.

- ① 분서갱유를 단행하였다.
- ② 삼번의 난을 진압하였다.
- ③ 정화의 함대를 파견하였다.
- ④ 고조선을 공격하여 무너뜨렸다.
- ⑤ 히미코에게 친위왜왕의 칭호를 주었다.

4. (가) 국가에 대한 설명으로 옳은 것은? [3점]

○ (가)의 황제가 거란(요)의 법을 폐지하고 세금을 줄이며 맹안과 모극을 설치하라는 조서를 내렸다.
○ (가)이/가 화북으로 세력을 확대하자 고려는 거란(요)의 연호를 폐지하였다.

- ① 남비엣을 멸망시켰다.
- ② 사고전서를 편찬하였다.
- ③ 백강 전투에 참여하였다.
- ④ 고유 문자를 사용하였다.
- ⑤ 안남 도호부를 설치하였다.

5. 밑줄 친 '귀국'에서 볼 수 있는 모습으로 가장 적절한 것은?

[3점]

정당성 좌윤 등 일행 105인을 사신으로 파견합니다. 귀국은 동쪽으로 멀리 있어, 우리 발해와 거리가 만 리나 됩니다. 하지만 태양이 동쪽으로 떠서 비추면 갈 수 있는 바다의 길이 드러납니다. 양국 간의 관계를 두터이 하고자 사신을 보내고 이를 귀국의 태정관에 문서로 알립니다.

- ① 성균관에서 공부하는 유생
- ② 선우의 명령을 받드는 좌현왕
- ③ 제사를 지내는 신기관의 관리
- ④ 독서삼품과를 준비하는 국학의 학생
- ⑤ 어사대에 관리 감찰을 지시하는 황제

동아시아사

6. 밑줄 친 '황제'의 재위 시기에 있었던 사실로 옳은 것은? [3점]

- 황제가 고려에서 건조한 선박을 동원하여 일본을 정벌하
라 명하였다. 그리고 장수 혼도 등에게 군대를 통솔하게
하였다.
- 황제가 일본 정벌군을 돌아오게 하였다. 적들의 저항에 부
딛히고 폭풍우에 휩쓸린 탓에 살아남아 고려에 도착한 몽
골군과 고려군이 열에 한둘에 불과하였다.

- ① 남송이 멸망하였다.
- ② 지정은제가 실시되었다.
- ③ 오닌의 난이 발생하였다.
- ④ 전연의 맹약이 체결되었다.
- ⑤ 곤여만국전도가 제작되었다.

7. (가) 국가에 대한 설명으로 옳은 것은? [3점]

<p>840년 8월 23일 예불을 마치고 주작대로 동쪽에 위치한 종교 담당 관청을 찾아갔다. (가) 의 수도 장안에서 불법을 배우기 위해 스승을 만나 고자 한다는 내용의 글을 제출하였다.</p>	<p>845년 9월 22일 신라인 이신혜는 우리 일본에서 8년을 머물다가 장보고와 함께 (가) (으)로 왔다. 지금은 법화 원에서 우리 일행과 함께 살면서 통역 등을 도와주 고 있다.</p>
------------------------------------------------------------------------------------------------------------------------------------------	----------------------------------------------------------------------------------------------------------------------------------------

- ① 전 왕조를 공격하였다.
- ② 장건을 대월지에 파견하였다.
- ③ 금에 은 등의 물품을 보냈다.
- ④ 일본과 감합 무역을 전개하였다.
- ⑤ 신라와 함께 고구려를 멸망시켰다.

8. (가) 유학 경향에 대한 설명으로 옳은 것은?

그는 일찍이 주희가 저술한 『사서집주』를 공부하였으나 이후 육경과 공자·맹자의 글을 읽으며 주희가 말하는 이(理), 성(性) 등의 뜻이 육경과는 크게 다르다는 것을 깨달았다. 왜냐하면 육경에서는 “이(理)가 모든 사물 속에 있다.”라고 하는데, 주희의 학설을 따르는 (가) 학자들은 “사람이 태어날 때 받은 이(理)가 성(性)이므로, 성(性)이 곧 이(理)다.”라고 하였기 때문이다.

- ① 다이카 개신에 영향을 주었다.
- ② 수행을 통한 해탈을 추구하였다.
- ③ 서원과 향약을 통해 확산되었다.
- ④ 심즉리와 지행합일을 주장하였다.
- ⑤ 한 무제 때 관학으로 채택되었다.

9. (가) 전쟁 중에 있었던 사실로 옳은 것은?

[문학으로 읽는 동아시아사]

국치비가(國恥悲歌)

조정을 바라보니 무신들이 많기도 하구나.
어렵고 치욕스러운 화친*은 누구를 위해 한 것인가?
슬프다. ...(중략)...

구중궁궐 달 밝은 밤에 우리 임금의 근심이 정말 많으리니
멀리 오랑캐 땅의 왕자**를 잊을쏘나.
그 외에도 억만창생 백성들을 못내 걱정하시느구나.

* 국왕이 삼전도에서 적에 항복하여 군신 관계를 맺은 일을 의미함.
** 적의 수도 심양에 인질로 잡혀간 소현세자와 봉림대군을 의미함.

작품 해설: 조선 후기 이정환이 남긴 시조로, (가) (으)로 인해 국가적 치욕을 당한 사대부의 비분강개한 심정이 담겨 있다.

- ① 삼별초가 대몽 항쟁을 전개하였다.
- ② 강홍립이 후금의 군대에 항복하였다.
- ③ 조·명 연합군이 평양성을 탈환하였다.
- ④ 조선군이 남한산성에서 청군과 맞섰다.
- ⑤ 서희가 거란(요) 장수와 외교 담판을 벌였다.

10. (가), (나) 국가에 대한 설명으로 옳은 것은? [3점]

- 동아시아 도시 탐방 -

닝보에 남겨진 국제 무역의 흔적을 찾아서

고려사행관


(가) 이가 설치한 고려 사신의 숙소. 설치된 지 약 10년 만에 고려가 금과 군신 관계를 맺은 후 고려 사신의 방문이 줄어들며 점차 유명무실해짐.

과사관

아라비아 상인들이 머물던 민간의 여관. 바닷길을 통한 원거리 교역이 활발하였음을 알 수 있음.

시막사

해상 무역을 담당하던 관청. (나) 을 /를 세운 홍무제가 해금 정책을 시행하면서 기능이 중지됨.



- ① (가) - 별무반을 편성하였다.
- ② (가) - 토변에 화변공주를 보냈다.
- ③ (나) - 북로남왜의 어려움을 겪었다.
- ④ (나) - 산킨코타이 제도를 실시하였다.
- ⑤ (가), (나) - 자국 상선에 슈인장을 발급하였다.

11. (가) 국가에 대한 설명으로 옳은 것은? [3점]

이것은 (가)의 화가 빌렘 칼프가 중국 도자기를 소재로 그린 정물화입니다. (가)은/는 17세기부터 바타비아, 나가사키 등을 거점으로 삼아 중국제 도자기를 유럽에 대량으로 실어 날랐습니다.



- ① 일본의 난학 발전에 영향을 끼쳤다.
- ② 청에 매카트니 사절단을 파견하였다.
- ③ 마카오를 근거지로 명과 교류하였다.
- ④ 마닐라를 갈레온 무역의 거점으로 삼았다.
- ⑤ 프랑스, 독일과 함께 삼국 간섭을 일으켰다.

12. 밑줄 친 '막부' 시기의 동아시아 문화로 옳은 것은?

요즘 스모 열기가 뜨거워. 막부의 쇼군께서 관람하신 뒤로 더욱 인기가 많아졌어.

맞아. 인기 스모 선수의 초상화는 우키요에로 제작되어 날개 돋친 듯이 팔리더군.



- ① 한국 - 판소리와 탈춤이 유행하였다.
- ② 중국 - 경사 대학당이 건립되었다.
- ③ 중국 - 현장이 대당서역기를 남겼다.
- ④ 일본 - 도다이사가 창건되었다.
- ⑤ 일본 - 긴자에 서양식 거리가 조성되었다.

13. 자료가 작성된 시기를 연표에서 옳게 고른 것은? [3점]

3일 전, 이 나라의 헌법이 공포되었습니다. 이는 천황이 헌법 제정 및 의회 개설을 공개적으로 약속한 지 거의 8년 만의 일입니다. 그날 저는 미국 정부를 대표하여 근대적 입헌제도가 마련된 것을 축하하였습니다. 이에 천황은 동아시아에서 처음으로 제정된 이 헌법이 새로운 정치 풍토를 만들고, 양국 간 우호를 돈독하게 하는 계기가 될 것이라고 답변하였습니다.

(가)	(나)	(다)	(라)	(마)
미일 화친조약 체결	메이지 정부 수립	일본 제국 의회 설립	을사조약 강제 체결	워싱턴 회의 개최

중일 전쟁 발발

① (가) ② (나) ③ (다) ④ (라) ⑤ (마)

14. 밑줄 친 '전쟁'에 대한 설명으로 옳은 것은? [3점]

자료는 청의 황제가 임칙서에게 보낸 글입니다. 이를 통해 황제는 전쟁이 일어난 원인을 임칙서의 탓으로 돌리고 있음을 알 수 있습니다.

밖으로 오랑캐와의 통상을 단절하려 하였으나 그렇게 되지 않았고, 안으로 아편과 관련된 죄인들을 체포하였으나 아편 역시 일소되지 않았다. ...(중략)... 그대의 노력이 도움 되지 않았을 뿐 아니라 도리어 전쟁을 유발하였으니, 짐이 어찌 실망을 억누를 수 있겠는가.



- ① 포츠머스 조약의 체결로 종결되었다.
- ② 공행 무역이 폐지되는 계기가 되었다.
- ③ 미드웨이 해전으로 전세가 역전되었다.
- ④ 동학 농민 운동의 전개 과정에서 발발하였다.
- ⑤ 외국 군대가 베이징에 주둔하는 결과를 가져왔다.

15. (가) 군사 조직에 대한 설명으로 옳은 것만을 <보기>에서 고른 것은?

문화재 검색

(가) 총사령부 성립 전례식 서명문

○ 분류 : 등록 문화재
○ 지정(등록)일 : 2021.10.13.
○ 소재지 : 독립기념관
○ 제작 연도 : 1940년

이 문화재는 중국 충칭 가릉빈관에서 개최된 대한민국 임시 정부 산하의 (가) 총사령부 성립 전례식에 참석한 인사들이 남긴 서명문이다. 이 행사에는 다수의 중국 국민당 고위 인사와 서양 외교 사절 등이 참석하였다. 이를 통해 대한민국 임시 정부가 중국 국민당을 비롯한 국제 사회의 협조 속에 군대 창설을 준비하였음을 알 수 있다.

- < 보 기 >
- ㄱ. 국내 진공 작전을 계획하였다.
 - ㄴ. 조선 의용대의 일부를 편입시켰다.
 - ㄷ. 군벌 타도를 목표로 북벌을 단행하였다.
 - ㄹ. 파리 평화 협정으로 베트남에서 철수하였다.

- ① ㄱ, ㄴ ② ㄱ, ㄷ ③ ㄴ, ㄷ
- ④ ㄴ, ㄹ ⑤ ㄷ, ㄹ

16. (가) 도시에 대한 학생의 발표로 가장 적절한 것은? [3점]

동아시아사 신문 ○○○○년 △△월 □□일

일본 최초의 철도 개통

어제 오전, 도쿄와 (가) 을/를 잇는 철도의 개통식이 개최되었다. 천황은 일행과 함께 도쿄 신바시역에 준비된 특별 기차에 탑승하였고, 약 1시간 뒤 종착지인 (가) 역에 도착하여 개통식에 참석하였다. 이때 그는 기차가 민생의 편리와 국가 경제 발전에 유용하다는 취지의 조칙을 내렸다. 이는 철도 부설에 대한 반대 여론을 가라앉히기 위한 선언으로 해석된다.

- ① 원자 폭탄이 투하된 곳입니다.
- ② 아주 화친회가 창립된 곳입니다.
- ③ 영국 상인이 신보를 창간한 곳입니다.
- ④ 북촌의 부인들이 여권통문을 발표한 곳입니다.
- ⑤ 미일 수호 통상 조약의 결과 개항된 곳입니다.

17. (가)에 들어갈 내용으로 가장 적절한 것은?

의화단 운동이 끼친 영향 중 하나는 혁명 세력의 급성장이 다. 의화단 운동의 결과 체결된 신축 조약으로 청 조정의 무능이 드러난 상황에서 청을 타도하고 공화정을 세우자는 혁명파의 주장이 자연스럽게 민간에 확산하였다. 청 조정은 뒤늦게 입헌 군주제를 도입하는 등 개혁을 추진하였으나 민심의 지지를 받기 어려웠다. 결국 재정 확보를 위한 조정의 철도 국유화 조치에 대해 반발이 커지면서 (가)

- ① 5·4 운동이 일어났다.
- ② 우창에서 신군이 봉기하였다.
- ③ 중국 공산당이 대장정을 감행하였다.
- ④ 독립 협회가 만민 공동회를 개최하였다.
- ⑤ 하급 무사들이 존왕양이 운동을 전개하였다.

18. 밑줄 친 '이 조약'에 대한 설명으로 옳은 것은? [3점]

오늘날 일본은 공산주의의 위협을 받고 있습니다. 이 조약의 발효로 연합국 최고 사령부의 점령이 종료되면 일본에 군사적 공백이 생길 것입니다. 따라서 새로운 안전 보장 대책을 모색해야 합니다.



- ① 영일 동맹의 폐기를 명시하였다.
- ② 6·25 전쟁이 전개되는 중에 체결되었다.
- ③ 홍콩이 영국에 할양되는 결과를 가져왔다.
- ④ 이와쿠라 사절단의 파견에 영향을 끼쳤다.
- ⑤ 일본과 타이완의 국교가 단절되는 원인이 되었다.

19. 자료에 나타난 운동이 끼친 영향으로 가장 적절한 것은?

우리 땅도 전부 인민공사 명의로 재분배되고, 집 앞에 손바닥만 한 자유 경작지만 남았네. 며칠 되지도 않아서 집에 있는 술까지 인민공사가 다 가져갈 줄을 누가 알았겠나. 들어보니 강철을 만들기 위해서라는군.

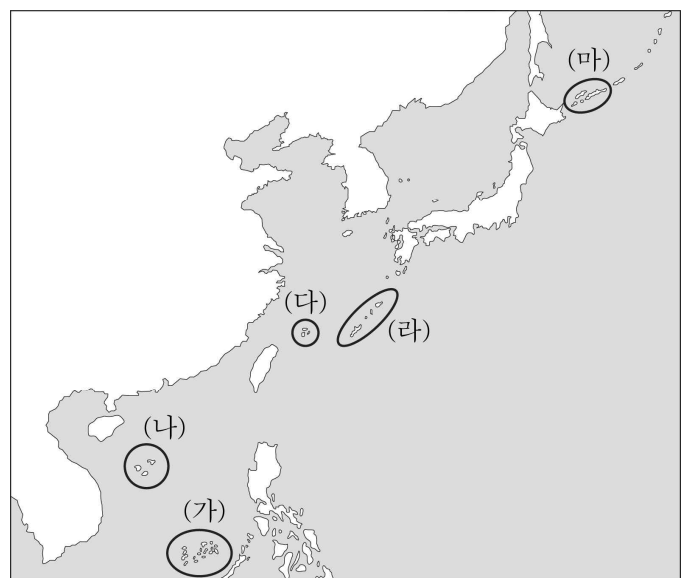
- ① 천수이벤이 총통에 선출되었다.
- ② 이승만이 대통령직에서 사임하였다.
- ③ 장제스가 타이완에 계엄령을 내렸다.
- ④ 마오쩌둥의 권력 기반이 약화되었다.
- ⑤ 호소카와가 이끄는 비자민당 연립 내각이 수립되었다.

20. 밑줄 친 '이 지역'을 지도에서 옳게 고른 것은?

○○고등학교

프로젝트형 봉사 활동 보고서

활동명	동아시아 평화 공존 캠페인		
학년 - 반	3 - 1	이름	○○○
활동 기간	2024.3.11. ~ 2024.3.28. 총 (5)시간		
활동 영역	캠페인 활동		
주요 활동 내용			
<p>이 지역을 둘러싼 세 나라의 갈등을 다룬 신문 기사를 활용하여 동아시아 평화 공존을 촉구하는 짧은 영상을 만들고 누리소통망[SNS]에 게시하였다.</p> <p style="text-align: center;"><활용한 신문 기사의 제목></p> <ul style="list-style-type: none"> · 타이완, '영유권 수호' 무력 불사(○○○신문) · 중국, 군사 조치 가능성 검토(○○○○신문) · 일본, 접근하는 타국 선박 실력 저지(○○일보) 			



- ① (가) ② (나) ③ (다) ④ (라) ⑤ (마)

*** 확인 사항**
○ 답안지의 해당란에 필요한 내용을 정확히 기입(표기)했는지 확인하십시오.