


제 4 교시

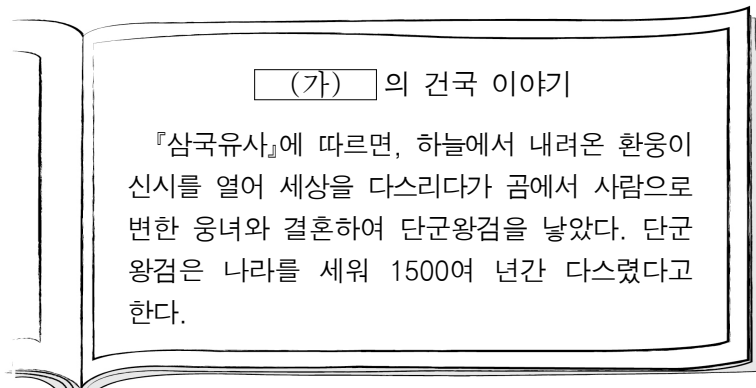
한국사 영역

1. 교사의 질문에 대한 학생의 답변으로 옳은 것은?



- ① 고인들을 축조하였어요.
- ② 철제 농기구를 사용하였어요.
- ③ 빗살무늬 토기를 제작하였어요.
- ④ 사유 재산과 계급이 발생하였어요.
- ⑤ 주로 무리 지어 이동 생활을 하였어요.

2. (가) 나라에 대한 설명으로 옳은 것은?



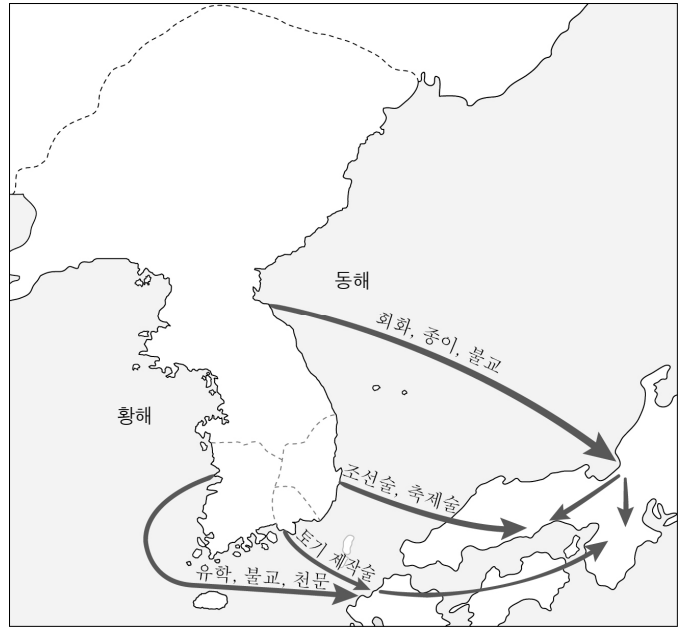
- ① 8조법을 만들었다.
- ② 별무반을 조직하였다.
- ③ 기인 제도를 시행하였다.
- ④ 민정 문서를 작성하였다.
- ⑤ 영고라는 제천 행사를 열었다.

3. 밑줄 친 '이 왕'의 업적으로 옳은 것은?

이 왕은 국호를 고려라 하고 송약(개경)으로 수도를 옮겼다. 북진 정책을 추진하여 청천강에서 영흥만까지 영토를 확장하였으며, 백성의 생활을 안정시키고자 세울을 낮추고 흑창을 설치하였다. 호족 견제와 지방 통치 보완을 위한 정책을 실시하였고, 『정계』, 『계백료서』를 지어 국왕과 신하의 구분을 엄격히 하였다.

- ① 과거제 도입
- ② 9서당 10정 조직
- ③ 사심관 제도 시행
- ④ 12목에 지방관 파견
- ⑤ 정동행성 이문소 폐지

4. 지도를 활용한 탐구 주제로 가장 적절한 것은?




- ① 삼별초의 항쟁
- ② 장보고의 해상 활동
- ③ 위만 조선의 중계 무역
- ④ 삼국과 가야 문화의 일본 전파
- ⑤ 홍건적과 왜구의 침입 및 격퇴

5. 다음 문화유산을 남긴 나라에 대한 설명으로 옳은 것은? [3점]

우리 역사의 흔적을 찾아서


역사 저널

◎ 정효 공주 묘(중국 지린성 소재)



벽돌로 만든 무덤 속에 벽화를 그린 당나라 양식과 돌로 공간을 줄여 가면서 평행고임 구조로 천장을 쌓는 고구려 양식이 결합되어 있다.


◎ 이불병좌상(중국 지린성 출토)



법화경을 설법하는 석가여래와 그 설법이 진리임을 증명해 주는 다보여래가 나란히 앉아 있는 불상으로 고구려의 영향을 받았다.

- ① 해동성국이라 불리었다.
- ② 민며느리제의 풍습이 있었다.
- ③ 무천이라는 제천 행사를 열었다.
- ④ 만장일치제의 화백 회의가 있었다.
- ⑤ 안시성 전투에서 당의 공격을 물리쳤다.

6. (가) 왕의 업적으로 옳은 것은? [3점]



이 비석은 □(가) 이/가 아버지인 광개토 대왕의 업적을 기리기 위해 세운 것이다. 비석에는 광개토 대왕이 북으로 요동, 남으로 백제, 신라와 가야 지역까지 영향력을 확대하였다는 내용 등이 기록되어 있어 고구려의 대외 팽창 정책을 알 수 있다.

광개토 대왕의 뒤를 이은 □(가) 은/는 백제의 수도 한성을 함락시키고, 신라를 공격하여 한강 이남까지 영토를 확장하였다.

▲ 광개토 대왕릉비

- ① 국학을 설치하였다.
- ② 평양으로 천도하였다.
- ③ 황룡사 9층 목탑을 세웠다.
- ④ 마립간이라는 칭호를 사용하였다.
- ⑤ 당의 산둥반도를 선제 공격하였다.

7. (가)에 들어갈 내용으로 옳은 것은?



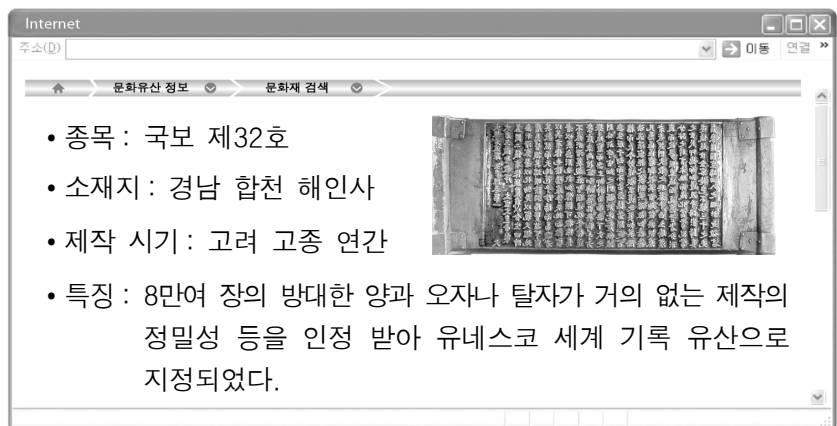
통일 신라의 경제 정책에 대해 말해 볼까요?

신문왕은 □(가)

그것은 귀족들의 경제 기반을 약화하기 위한 것이었어요.

- ① 녹읍을 폐지하였어요.
- ② 경시서를 설치하였어요.
- ③ 상평창을 설치하였어요.
- ④ 노비안검법을 시행하였어요.
- ⑤ 전민변정도감을 설치하였어요.

8. 다음 문화유산이 제작된 목적으로 가장 적절한 것은?



Internet 주소(주소) 문화유산 정보 문화재 검색

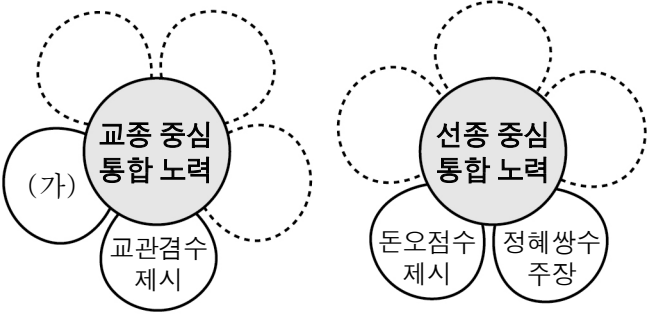
- 종목: 국보 제32호
- 소재지: 경남 합천 해인사
- 제작 시기: 고려 고종 연간
- 특징: 8만여 장의 방대한 양과 오자나 탈자가 거의 없는 제작의 정밀성 등을 인정 받아 유네스코 세계 기록 유산으로 지정되었다.

- ① 영토 확장을 기념하기 위해
- ② 이차돈의 순교를 기념하기 위해
- ③ 부처의 힘으로 몽골을 물리치기 위해
- ④ 유교 경전의 학습과 실천을 맹세하기 위해
- ⑤ 고구려 시조 주몽의 일대기를 기록하기 위해

9. (가)에 들어갈 내용으로 옳은 것은? [3점]

< 고려 시대 불교 통합 노력 >

- 학생 활동: 꽃잎 카드를 이용하여 학습 내용 정리하기
- 활동 방법: 핵심 주제와 관련 있는 카드끼리 칠판 위에 붙이기




- ① 세속 오계 제시
- ② 풍수지리설 도입
- ③ 해동 천태종 창시
- ④ 왕오천축국전 저술
- ⑤ 수선사 결사 운동 전개

10. (가) 국가의 경제 상황으로 옳은 것은? [3점]

■ 체험 활동 소감문 ■

2학년 △반 000



▲ 소은병(활구)

지난 주말 다녀온 한국은행 화폐박물관에서 아주 특이한 모양의 화폐를 보았다. 그것은 □(가) 때 만들어진 소은병으로 고액 거래의 수단으로 사용되었다고 한다. ... (중략) ... 이제부터 다양한 모양의 옛날 화폐에 관심을 가지고 조사해 보아야겠다.

- ① 청해진을 설치하였다.
- ② 농경과 목축을 시작하였다.
- ③ 경주에 동시전을 설치하였다.
- ④ 낙랑과 왜에 철을 수출하였다.
- ⑤ 벽란도가 국제 무역항으로 번성하였다.

11. (가) 왕의 업적으로 옳은 것은?

한국사 신문 0000년 0월 0일

기획 특집 ■ 조선의 종묘에서 고려의 왕을 만나다



사진은 종묘의 망묘루 동쪽 별당에 모셔져 있는 노국 대장 공주와 (가)의 영정이다.

14세기 중반 원이 쇠퇴하던 시기를 이용하여 (가)은/는 자주성 회복과 권문세족을 억압하는 정책을 추진하고자 하였다.

이에 신돈을 등용하여 권문세족이 빼앗은 토지와 노비를 본래의 주인에게 돌려주거나 양민으로 해방시켰다.

- ① 동북 9성을 쌓았다.
- ② 과전법을 시행하였다.
- ③ 대가야를 정복하였다.
- ④ 쌍성총관부를 공격하였다.
- ⑤ 독서삼품과를 실시하였다.

12. (가) 제도에 대한 설명으로 옳은 것은? [3점]

고려는 후삼국 통일 후 공신과 군인들에게 공로에 따라 차등을 두어 역분전을 지급하였다. 이후 고려의 토지 제도는 중앙 집권 체제가 정비됨에 따라 관리의 지위를 18등급으로 나누어 수조권을 지급하는 (가) (으)로 체계화되었다. 그러나 (가)은/는 문벌 귀족이 불법적으로 대토지를 소유함으로 인해 제대로 운영되지 못하였고, 이러한 현상은 무신 정변 이후 농장의 확대로 더욱 가속화되었다.


- ① 백성에게 정전을 지급하였다.
- ② 전지와 시지를 나누어 주었다.
- ③ 봄에 곡식을 빌려주고 가을에 갚게 하였다.
- ④ 노동력을 징발할 수 있는 권리를 부여하였다.
- ⑤ 신진 사대부의 경제 기반 마련을 위해 시행되었다.

13. 밑줄 친 '왕'의 업적으로 옳은 것은? [3점]

다음에서 설명하는 백제의 왕은 누구일까요?

신라 진흥왕과 함께 고구려를 공격하여 한때 한강 유역의 일부를 되찾았으나 ... (중략) ... 신라를 공격하다가 관산성 전투에서 사망하였습니다.

한국사 퀴즈 대회



- ① 태학을 설립하였다.
- ② 정방을 폐지하였다.
- ③ 우산국을 정벌하였다.
- ④ 북한산 순수비를 세웠다.
- ⑤ 국호를 남부여로 바꾸었다.

14. 표를 통해 알 수 있는 제도에 대한 설명으로 옳은 것은? [3점]

등급	관등명	골품				복색
		진골	6두품	5두품	4두품	
1	이별찬	■				자색
2	이 찬	■				
3	잡 찬	■				
4	파진찬	■				
5	대야찬		■			비색
6	아 찬		■			
7	일길찬		■			
8	사 찬			■		청색
9	급별찬			■		
10	대나마				■	황색
11	나 마				■	
12	대 사					
13	사 지					
14	길 사					
15	대 오					
16	소 오					
17	조 위					

- ① 원시 사회의 청소년 집단에서 기원하였다.
- ② 세습 가능한 공음전을 귀족에게 지급하였다.
- ③ 호족의 자제를 인질로 수도에 머물게 하였다.
- ④ 혈통에 따라 관등과 일상생활까지 제한하였다.
- ⑤ 당의 3성 6부제를 받아들였으나 운영 방식은 독자적이었다.

15. (가)에 들어갈 내용으로 가장 적절한 것은?

고려 시대 백정은 어떤 사람들이었어?

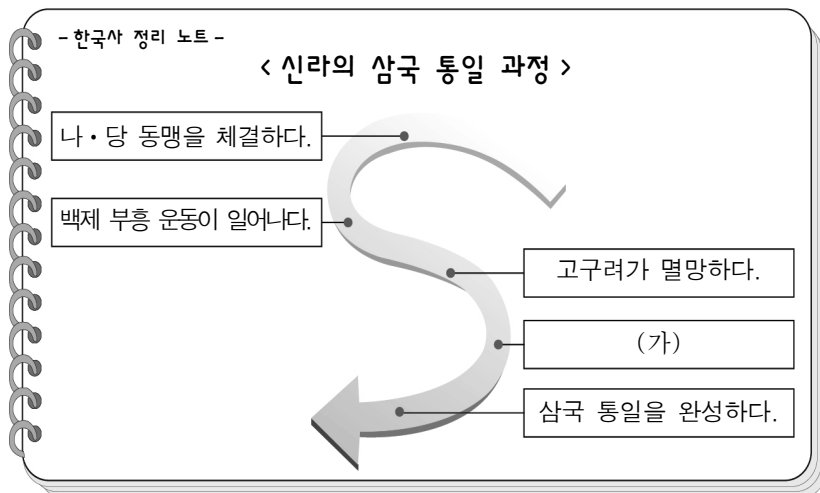
양민의 대다수를 차지한 농민으로 (가)

백정은 과거에 응시할 수 있는 자격이 있었어?

응, 주로 잡과에 응시하였어.

- ① 음서의 특권을 누렸어.
- ② 조세, 공납, 역을 부담하였어.
- ③ 매매, 증여, 상속의 대상이었지.
- ④ 왕실과 중첩된 혼인 관계를 맺었지.
- ⑤ 직역을 세습하고 그 대가로 토지를 받았어.


16. (가)에 들어갈 내용으로 옳은 것은? [3점]



- ① 후백제가 건국되다.
- ② 강동 6주를 획득하다.
- ③ 천리장성을 축조하다.
- ④ 만적의 난이 일어나다.
- ⑤ 매소성 전투에서 승리하다.

17. (가)에 들어갈 내용으로 옳은 것은?

◆ 내가 만든 역사 인물 카드 ◆



- 생몰 : 617년 ~ 686년
- 주요 활동
 - 일심 사상, 화쟁 사상을 주장함
 - (가)
- 기타: 당으로 유학 가던 도중 해골에 고인 물을 마신 뒤 큰 깨달음을 얻어 되돌아왔다는 일화와 요석 공주와의 사이에서 설총을 낳았다는 이야기가 전해짐

- ① 성리학을 소개함
- ② 석굴암을 조성함
- ③ 제왕운기를 저술함
- ④ 묘청의 난을 진압함
- ⑤ 불교 대중화를 위해 힘씀

18. (가) 시기에 있었던 사실로 옳은 것은? [3점]

<무신 집권자의 변천>

집권 시기	1170	1174	1179	1183	1196	1219	1249	1257	1258	1268	1270
집권자	이방	정중부	경대승	이민	최충현	최우	최항	최의	김준	임연	임유무

(가)

- ① 남진 정책이 추진되었다.
- ② 위화도 회군이 일어났다.
- ③ 원종과 애노의 난이 일어났다.
- ④ 전국이 9주 5소경으로 정비되었다.
- ⑤ 최고 권력 기구로 교정도감이 있었다.

19. 지도와 같이 행정 구역을 나누었던 국가의 지방 제도에 대한 설명으로 옳은 것은? [3점]




- ① 발해와의 교역로로 신라도가 있었다.
- ② 지방관이 파견되지 않은 속현이 있었다.
- ③ 지방에 22담로를 두고 왕족을 파견하였다.
- ④ 마가, 우가, 저가, 구가 등이 사출도를 다스렸다.
- ⑤ 영역을 침범하면 노비나 소, 말 등으로 배상하였다.

20. 밑줄 친 '이 시대'의 사회 모습으로 옳지 않은 것은?

<탐구 활동 보고서>

2학년 △반 ○○○

• 주제 : 묘지명을 통해 본 여성의 삶



▲ 염경애 묘지명

'아내 이름은 경애다.'라고 시작하는 이 묘지명은 1148년 최루백이 쓴 것이다. 묘지명에는 염경애가 죽은 후 수도 개경에 있는 친정 아버지 무덤 옆에 묻혔다는 것과 염경애의 딸이 남편을 잃은 후 친정에 와서 살았다는 내용이 기록되어 있다. 이를 통해 이 시대 여성들은 결혼 후에도 친정의 한 구성원으로 여겨졌음을 알 수 있다.

- ① 장남이 부모의 제사를 전담하였다.
- ② 일부일처제의 혼인 관계가 일반적이었다.
- ③ 부모의 재산을 자녀에게 균등하게 상속하였다.
- ④ 사위가 처가에서 생활하는 경우도 적지 않았다.
- ⑤ 남녀 구분 없이 태어난 순서대로 호적에 기재하였다.

* 확인 사항

- 답안지의 해당란에 필요한 내용을 정확히 기입(표기)했는지 확인하시오.