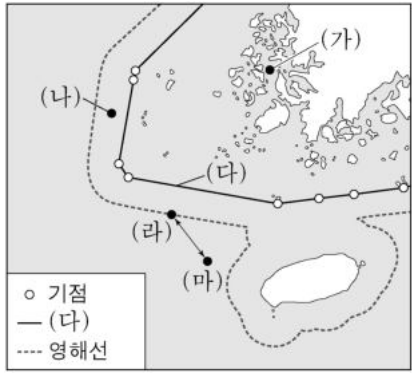


제 4 교시

사회탐구 영역 (한국지리)

성명 수험 번호 - 제 [] 선택

1. 지도의 (가)~(마)에 대한 설명으로 옳은 것만을 <보기>에서 고른 것은?

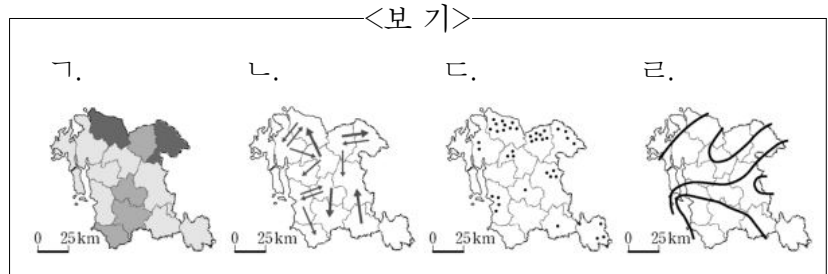


<보 기>
 가. (가)에서 간척 사업이 이루어지면 영해의 범위가 확대된다.
 나. (나)는 우리나라의 주권이 미치는 수역이다.
 다. (다)는 직선 기선이다.
 라. (라)와 (마)의 최단 경로는 한·일 중간 수역을 지난다.

- ① 가, 나 ② 가, 다 ③ 나, 다 ④ 나, 라 ⑤ 다, 라

2. (가), (나) 통계 자료를 각각 한 장의 지도로 표현할 때, 가장 적합한 통계 지도 유형을 <보기>에서 고른 것은?

(가)		(나)				
(단위: %)		(단위: 명)				
지역	인구 증가율	전입 전출	○○군	△△군	□□시	...
○○군	-2	○○군	-	124	320	...
△△군	2	△△군	32	-	250	...
□□시	4	□□시	10	5	-	...
⋮	⋮	⋮	⋮	⋮	⋮	-



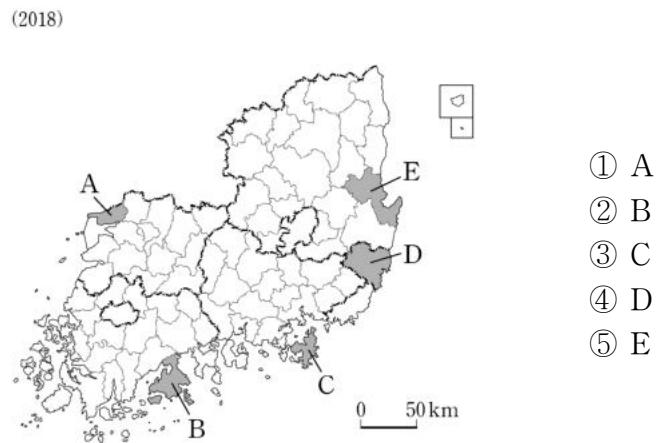
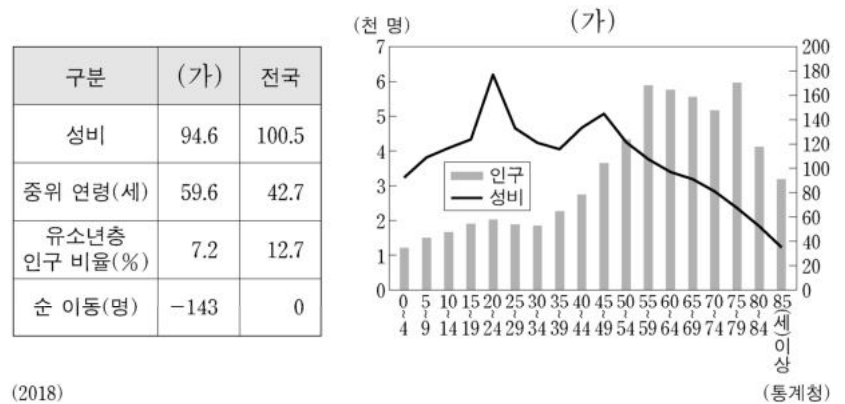
- | | | | |
|-------|-------|-------|-------|
| (가) | (나) | (가) | (나) |
| ① 가 나 | ② 가 다 | ③ 나 다 | ④ 나 라 |
| ⑤ 다 라 | | | |

3. 다음은 문화재청의 명승 소개 자료이다. ㉠~㉤에 대한 설명으로 옳지 않은 것은?

- 『영월 한반도 지형』은 굽이쳐 흐르는 ㉠ 하천의 침식 작용과 퇴적 작용에 의해 만들어진...
- 『남해 금산』은 ㉡ 화강암으로 이루어진 기암괴석이 뛰어난 자연경관을 만들어내며...
- 『단양 도담삼봉』은 ㉢ 석회암의 용식 작용으로 형성된 원추 모양의 봉우리로...
- 『부안 채석강·적벽강 일원』은 변산반도에서 ㉣ 바다 쪽으로 돌출된 지역으로...
- 『순천만』은 남해안에 발달한 ㉤ 연안 습지 중 우리나라를 대표할 만하며...

- ① ㉠은 칼데라를 형성하는 주요 요인이다.
 ② ㉡은 마그마가 관입하여 형성된 암석이다.
 ③ ㉢은 고생대 조선 누층군에 주로 분포한다.
 ④ ㉣은 파랑의 침식 작용이 퇴적 작용보다 활발한 곳이다.
 ⑤ ㉤은 육지와 바다의 접이 지대로서 생물 종 다양성이 높다.

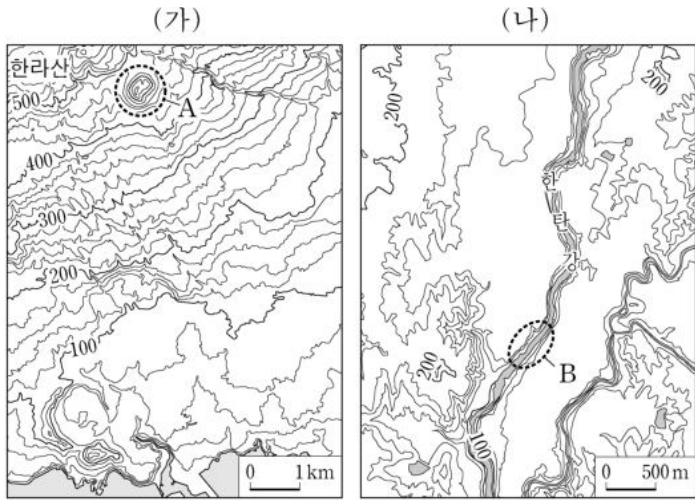
4. 다음 자료는 (가) 지역의 인구 특성에 대한 것이다. (가) 지역을 지도의 A~E에서 고른 것은? [3점]



2 (한국지리)

사회탐구 영역

5. (가), (나) 지역에 대한 설명으로 옳지 않은 것은? [3점]



- ① A는 소규모 화산 활동으로 형성된 오름이다.
- ② B에서는 하천 침식으로 인해 형성된 협곡이 나타난다.
- ③ (가)에서 전통 취락은 주로 해안 지역을 중심으로 발달하였다.
- ④ (나)에서는 수리 시설의 확충으로 대규모의 논농사가 가능해졌다.
- ⑤ (가), (나)에는 화백색을 띠는 성대 토양이 주로 분포한다.

6. 다음은 수도권 도시에 대한 학습 노트의 일부이다. (가), (나)를 지도의 A~D에서 고른 것은?

(가)의 특징

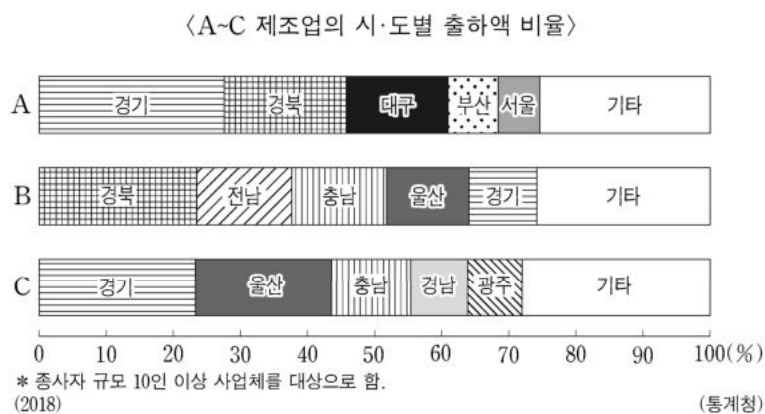
- 수도권의 관문 역할을 함.
- 우리나라 최대 규모의 국제공항과 서해안의 대표적 항구가 있음.

(나)의 특징

- 남북한을 연결하는 경의선이 지나는 곳에 위치함.
- 수도권 2기 신도시가 위치하고 있으며 출판 단지가 입지함.

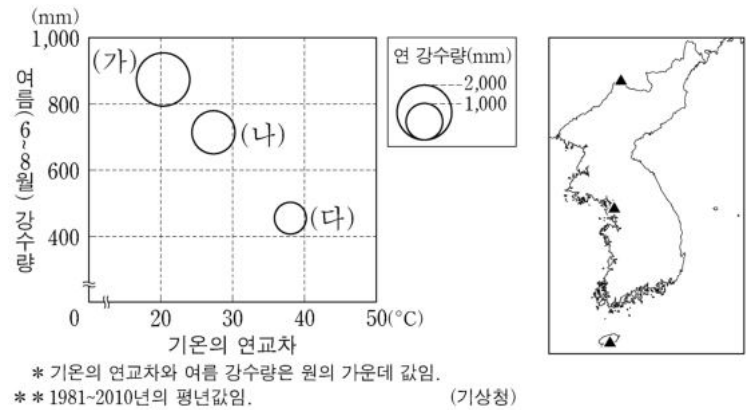
- | | | | |
|---|-----|-----|---|
| | (가) | (나) | |
| ① | B | A | ② |
| ③ | C | A | ④ |
| ⑤ | D | B | B |

7. 그래프의 A~C에 대한 설명으로 옳은 것은? (단, A~C는 각각 1차 금속, 섬유 제품(의복 제외), 자동차 및 트레일러 제조업 중 하나임) [3점]



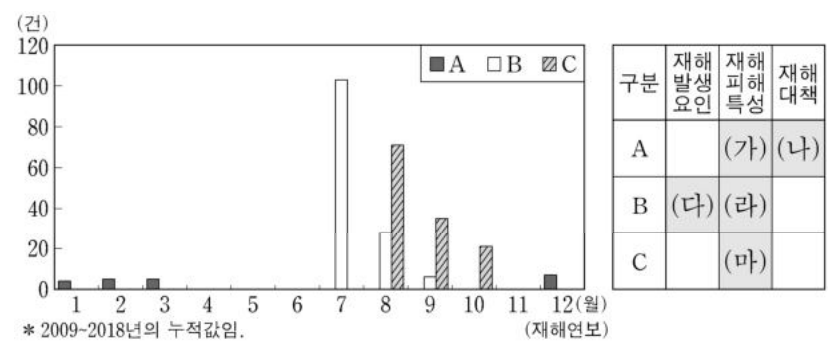
- ① A는 대량의 원료를 수입하는 적환지 지향 공업이다.
- ② B는 노동 집약적인 경공업이다.
- ③ C는 집적 이익이 중요한 조립형 공업이다.
- ④ A는 B보다 자본 집약적인 성격이 강하다.
- ⑤ B는 C에서 생산된 최종 제품을 주요 재료로 이용한다.

8. 그래프는 지도에 표시된 세 지역의 기후 자료이다. (가)~(다) 지역에 대한 설명으로 옳은 것은?



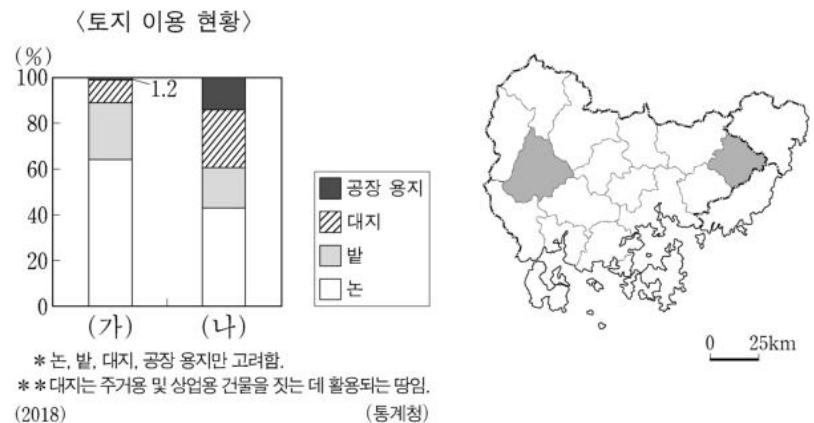
- ① (가)의 최한월 평균 기온은 0°C 미만이다.
- ② (나)의 전통 가옥에는 대부분 정주간이 있다.
- ③ (가)는 (다)보다 바다의 영향을 많이 받는다.
- ④ (다)는 (나)보다 봄꽃의 개화 시기가 이른다.
- ⑤ (가)~(다) 중 여름 강수 집중률이 가장 높은 곳은 (가)이다.

9. 그래프는 A~C 자연재해의 월별 발생 건수를 나타낸 것이다. (가)~(마)에 들어갈 내용으로 옳지 않은 것은? (단, A~C는 각각 대설, 태풍, 호우 중 하나임.) [3점]



- ① (가) - 빙판길 교통 장애와 농업 시설물 붕괴를 유발함.
- ② (나) - 제설 장비를 갖추어 대비함.
- ③ (다) - 장마 전선에 남서 기류가 유입할 경우 잘 발생함.
- ④ (라) - 최근 10년간의 총피해액은 경북이 경기보다 큼.
- ⑤ (마) - 강한 바람으로 선박 및 항공기 운항에 지장을 줌.

10. 그래프의 (나) 지역에 대한 (가) 지역의 상대적 특성으로 옳은 것은? (단, (가), (나)는 각각 지도에 표시된 두 지역 중 하나임.)



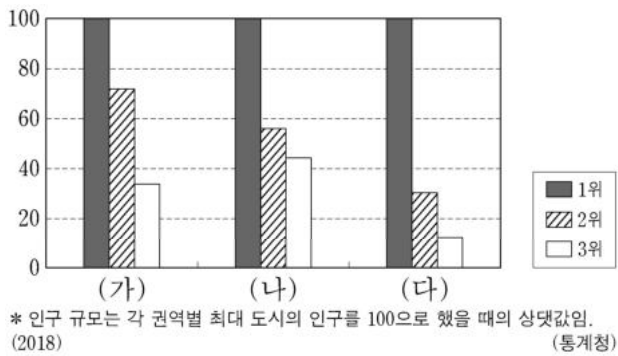
- ① 제조업 출하액이 많다.
- ② 아파트 거주 가구 비율이 높다.
- ③ 전체 가구 중 농가 비율이 높다.
- ④ 최근 10년 내 신축된 주택 수가 많다.
- ⑤ 부산으로 연결되는 버스 운행 횟수가 많다.

11. 다음 글의 (가), (나)에 해당하는 지역으로 옳은 것은?

○ 화석 에너지 중에서 대기 오염 물질의 배출량이 상대적으로 적은 천연가스는 (가) 앞바다에서 2018년 기준 소량 생산된다.
○ 조력 발전은 조차가 큰 해안이 유리하며, (나)의 시화호 조력 발전소가 대표적이다.

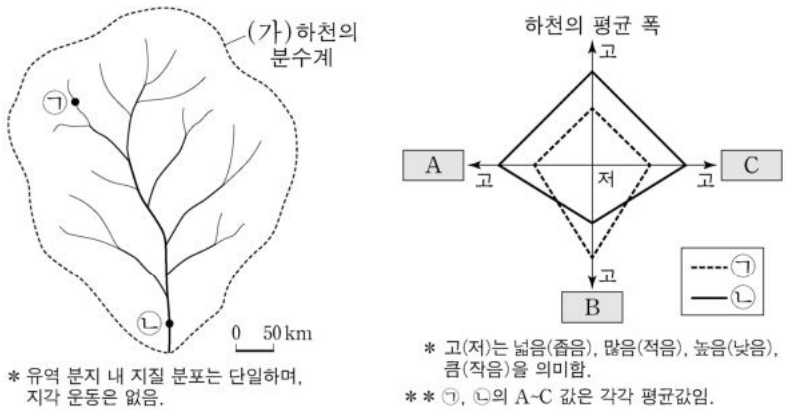
- | | | | |
|------|-----|------|-----|
| (가) | (나) | (가) | (나) |
| ① 강원 | 경기 | ② 경기 | 강원 |
| ③ 경기 | 울산 | ④ 울산 | 강원 |
| ⑤ 울산 | 경기 | | |

12. 그래프는 (가)~(다) 권역별 인구 상위 3개 도시의 인구 규모를 상대적으로 나타낸 것이다. (가)~(다) 권역에 대한 설명으로 옳은 것은? (단, (가)~(다) 권역은 각각 수도권, 영남권, 충청권 중 하나임.) [3점]



- ① (나) 권역의 인구 규모 2위 도시는 광역시이다.
- ② (가) 권역은 (나) 권역보다 총인구가 많다.
- ③ (가) 권역과 (다) 권역의 행정 구역 경계는 맞닿아 있다.
- ④ (나) 권역은 (다) 권역보다 지역 내 총생산이 많다.
- ⑤ (가) 권역은 충청권, (나) 권역은 영남권, (다) 권역은 수도권이다.

13. 다음 자료는 (가) 하천의 유역 분지와 ㉠, ㉡ 지점의 상대적 특성을 나타낸 것이다. A~C에 들어갈 내용으로 옳은 것은? [3점]



- | | | | |
|---|----------|------------|------------|
| | <u>A</u> | <u>B</u> | <u>C</u> |
| ① | 유량 | 하상 고도 | 퇴적물의 원마도 |
| ② | 유량 | 퇴적물의 원마도 | 퇴적물의 입자 크기 |
| ③ | 하상 고도 | 유량 | 퇴적물의 원마도 |
| ④ | 하상 고도 | 퇴적물의 입자 크기 | 유량 |
| ⑤ | 퇴적물의 원마도 | 하상 고도 | 퇴적물의 입자 크기 |

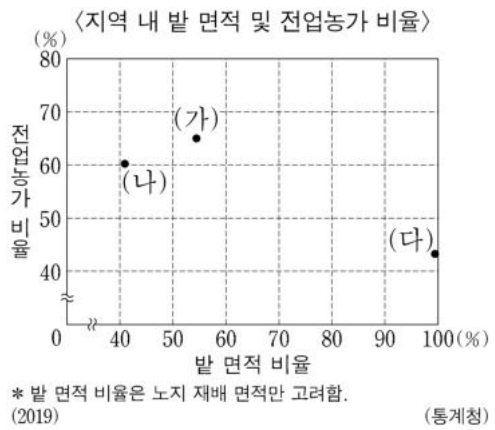
14. 다음은 온라인 수업 장면의 일부이다. (가) 지형에 대한 답글의 내용이 옳은 학생만을 고른 것은?

지리 선생님: 강릉시 강동면 일대에는 해발 고도 70m 내외에서 넓고 평탄한 지형면이 책상 또는 계단 모양으로 나타납니다. (가) 지형에 대한 특징을 답글로 남겨주세요.

답: 서해안보다 동해안 지역에서 잘 나타나요.
을: 공룡 발자국 화석을 많이 발견할 수 있어요.
병: 둥근 자갈과 모래로 구성된 퇴적층이 나타나요.
정: 과거 파식대가 지반 침강에 의해 형성되었어요.

- ① 갑, 을 ② 갑, 병 ③ 을, 병 ④ 을, 정 ⑤ 병, 정

15. 그래프의 (가)~(다) 지역에 대한 설명으로 옳은 것만을 <보기>에서 고른 것은? (단, (가)~(다)는 각각 경북, 전남, 제주 중 하나임.) [3점]

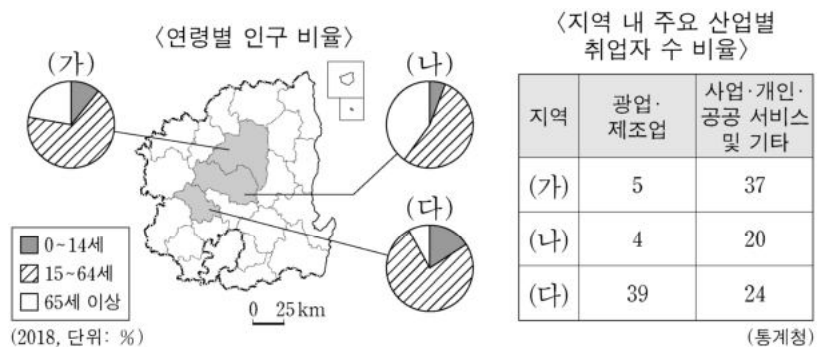


<보 기>

ㄱ. (가)는 (나)보다 과일 생산량이 많다.
ㄴ. (가)는 (다)보다 지역 내 겸업 농가 비율이 높다.
ㄷ. (나)는 (다)보다 전체 농가 수가 많다.
ㄹ. (가)~(다) 중 논 면적은 (다)가 가장 넓다.

- ① ㄱ, ㄴ ② ㄱ, ㄷ ③ ㄴ, ㄷ ④ ㄴ, ㄹ ⑤ ㄷ, ㄹ

16. 다음 자료의 (가)~(다) 지역에 대한 설명으로 옳은 것은? [3점]



- ① (나)는 전자 산업이 발달한 공업 도시이다.
- ② (다)는 도청 소재지이다.
- ③ (나)는 (가)보다 노령화 지수가 높다.
- ④ (다)는 (나)보다 지역 내 1차 산업 취업자 수 비율이 높다.
- ⑤ (가)~(다) 중 총 부양비는 (다)가 가장 높다.

4 (한국지리)

사회탐구 영역

17. 다음은 한국지리 수업 장면이다. 발표 내용이 옳은 학생만을 고른 것은?

자료를 보고 '북한의 주요 식량 작물'에 관한 내용에 대해 발표해 볼까요?

북한의 경지 면적은 남한보다 넓다. 산지가 많고, (가) (으)로 인해 북한에서는 논농사보다 밭농사가 주로 이루어진다. 경지 면적 중 밭이 차지하는 비율은 약 70% 정도이다. 그 결과 식량 작물별 생산에 있어 남북한의 차이가 나타난다.

(주요 식량 작물별 남북한 생산량 비율)

작물	북한 (%)	남한 (%)
A	~35	~65
B	~90	~10
C	~70	~30

* A-C 작물은 각각 서류(감자 등), 쌀, 옥수수 중 하나임.
** * 작물의 구성비는 각 작물별 남북한 생산량 합계에서 차지하는 비율임. (통계청) (2018)

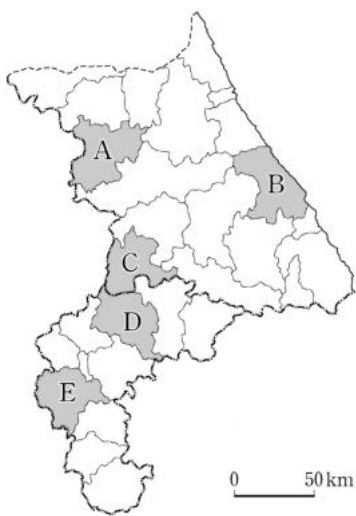
갑: (가)에는 '겨울이 길고 추운 기후적 특징'이 들어갈 수 있어요.
을: 북한에서 A는 관서 지방의 평야 지대에서 주로 생산되고 있어요.
병: 북한의 최근 식량 작물 생산량은 C가 A보다 많아요.
정: A는 밭에서, B와 C는 논에서 주로 생산을 해요.

- ① 갑, 을 ② 갑, 병 ③ 을, 병 ④ 을, 정 ⑤ 병, 정

18. (가), (나) 지역을 지도의 A~E에서 고른 것은?

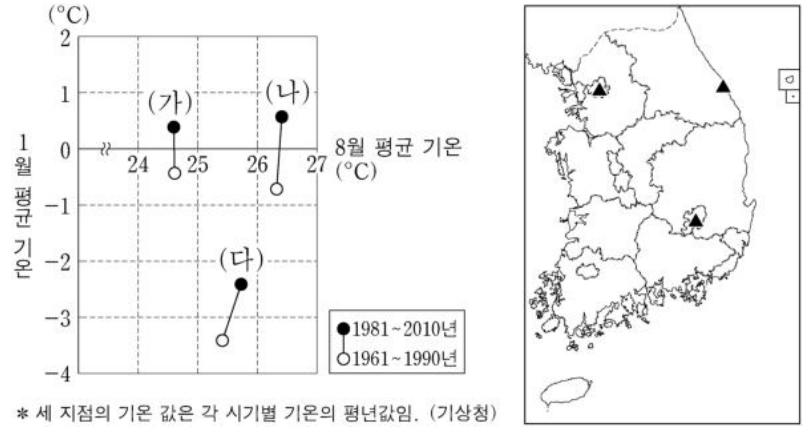
○ (가) 은/는 '강원'이라는 지명의 유래가 된 도시 중 하나로서 현재 강원도의 인구 1위 도시이다. 국토의 균형 발전을 목표로 최근 의료 기기 산업 클러스터가 조성되었다. 이곳은 다수의 고속 국도가 통과하며 고속 철도의 정차역이 있어 교통이 편리하다.

○ (나) 은/는 '충청'이라는 지명의 유래가 된 도시 중 하나로서 충북 도청 소재지이다. 이곳의 생명 과학 산업 단지에는 질병 관리 본부를 비롯한 관련 기관과 기업이 입지하여 클러스터를 이룬다. 이곳은 다수의 고속 국도가 교차하며 국제공항과 고속 철도역이 입지해 있다.



- | | | |
|---|-----|-----|
| | (가) | (나) |
| ① | A | D |
| ② | B | D |
| ③ | B | E |
| ④ | C | D |
| ⑤ | C | E |

19. 그래프는 지도에 표시된 세 지역의 기온 변화를 나타낸 것이다. 이에 대한 분석으로 옳은 것만을 <보기>에서 고른 것은? [3점]

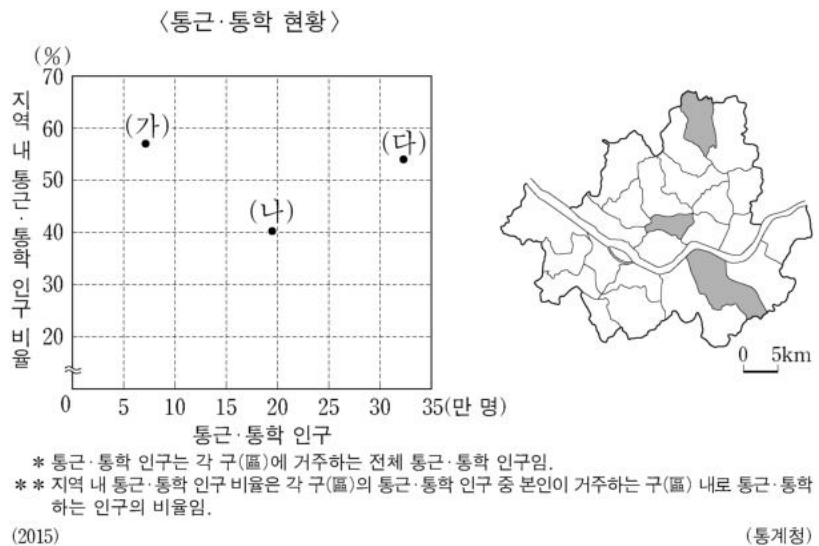


<보 기>

ㄱ. 평균 기온의 변화는 1월보다 8월이 더 뚜렷하다.
 ㄴ. 8월 평균 기온 상승 폭이 가장 큰 곳은 서울이다.
 ㄷ. 대구는 강릉보다 1월 평균 기온의 상승 폭이 더 크다.
 ㄹ. (가)와 (다)의 위도 차이가 (가)와 (나)의 위도 차이보다 더 크다.

- ① ㄱ, ㄴ ② ㄱ, ㄷ ③ ㄴ, ㄷ ④ ㄴ, ㄹ ⑤ ㄷ, ㄹ

20. 그래프의 (가)~(다) 지역에 대한 설명으로 옳은 것만을 <보기>에서 고른 것은? (단, (가)~(다)는 각각 지도에 표시된 세 구(區) 중 하나임.) [3점]



<보 기>

ㄱ. (가)는 (나)보다 주간 인구 지수가 높다.
 ㄴ. (가)는 (나)보다 상업 지역의 평균 지가가 높다.
 ㄷ. (가)는 (다)보다 초등학교 수가 많다.
 ㄹ. (나)는 (다)보다 금융 기관 수가 많다.

- ① ㄱ, ㄴ ② ㄱ, ㄷ ③ ㄴ, ㄷ ④ ㄴ, ㄹ ⑤ ㄷ, ㄹ

* 확인 사항
 ○ 답안지의 해당란에 필요한 내용을 정확히 기입(표기)했는지 확인 하시오.