

제 4 교시

사회탐구 영역 (한국지리)

성명	수험번호	3	제 [] 선택
----	------	---	----------

1. 자료는 한국지리 수업 시간에 학생이 정리한 내용의 일부이다. 이에 대한 옳은 설명만을 <보기>에서 고른 것은?

도시 내부의 지역 분화

1. 의미: 도시 내부가 기능에 따라 여러 지역으로 나뉘는 현상

2. 지역 분화 요인
㉠ 접근성, 지대, 지가

3. 지역 분화 과정
집심 현상, ㉡ 이심 현상

<보 기>

ㄱ. ㉠은 (나)가 (가) 지역보다 높다.
 ㄴ. ㉡의 사례로 공장, 학교 등이 해당된다.
 ㄷ. (가)는 (나)지역보다 주간 인구 지수가 높다.
 ㄹ. (나)는 (가)지역보다 생산자 서비스업의 집중도가 높다.

- ① ㄱ, ㄴ ② ㄱ, ㄷ ③ ㄴ, ㄷ ④ ㄴ, ㄹ ⑤ ㄷ, ㄹ

2. 지도에 표시된 A, B에 대한 설명으로 옳지 않은 것은?

김대건의 조선전도(1846)

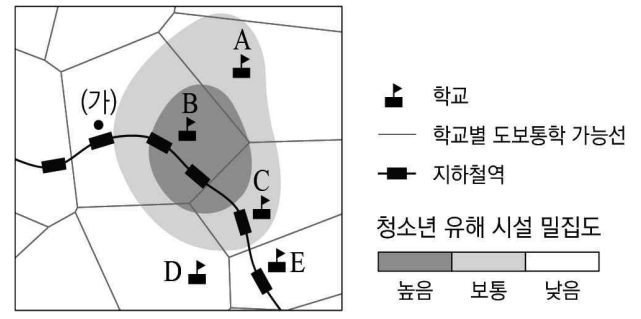
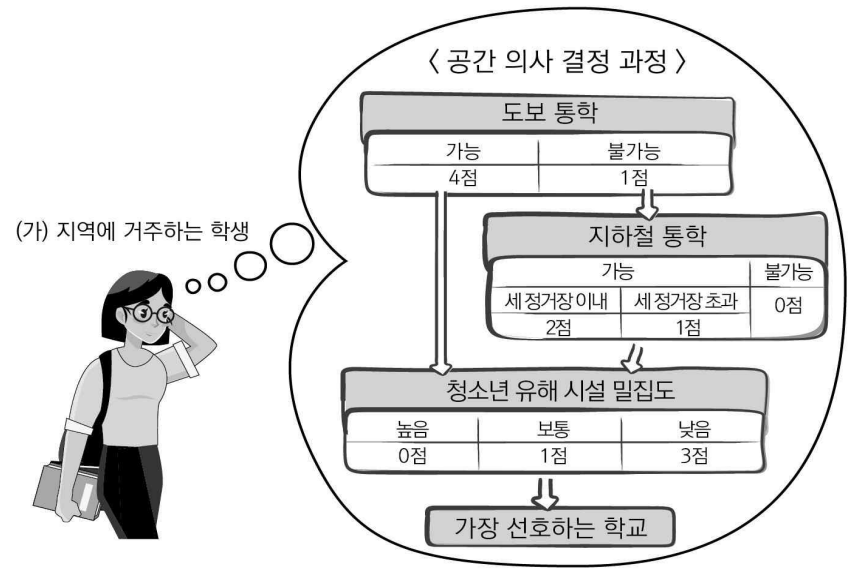
* oulengto는 울릉도, ousan은 독도를 의미함.

마르코 폴로의 여행 지도(1744)

* EASTERN SEA는 동해를 의미함.

- ① A는 신생대에 형성된 화산섬이다.
 ② A는 최종 빙기에 육지와 연결되어 있었다.
 ③ A는 우리나라에서 일출 시각이 가장 이르다.
 ④ B의 명칭은 '일본해'보다 먼저 사용되었다.
 ⑤ 현재 B의 우리나라 동해안은 영해 설정 시 대부분 통상 기선을 적용한다.

3. 자료는 공간 의사 결정 과정의 사례이다. 학생이 가장 선호하는 학교를 지도의 A~E에서 고른 것은? (단, 의사 결정은 화살표 방향을 따라 이루어지며, 각 항목 점수의 합이 가장 큰 곳을 선택함.) [3점]



- ① A ② B ③ C ④ D ⑤ E

4. 자료는 모듈별 여행 계획서의 일부이다. 각 모듈의 여행 지역을 지도의 A~D에서 고른 것은? [3점]

<호남 지방의 축제 여행 계획>

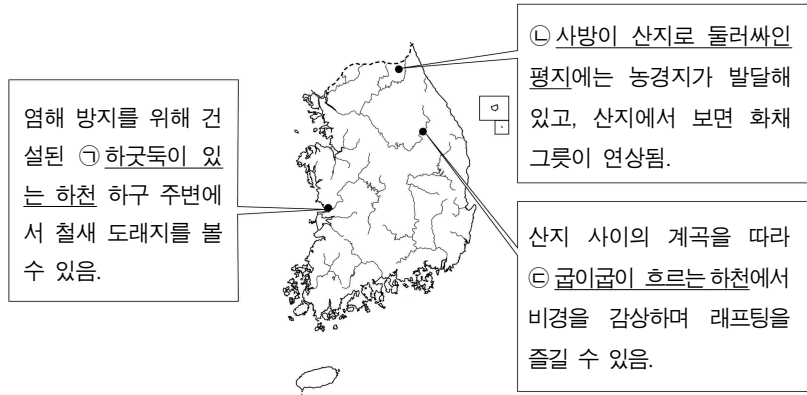
- 기간: ○○○○년 △~□□월
- 활동 내용 및 여행 지역

모듈	활동 내용	여행 지역
1모듈	광활한 평야와 벼농사를 소재로 한 지평선 축제에 참가하기	
2모듈	환경 친화적인 고장이라는 점을 부각하기 위해 깨끗한 환경에서만 서식하는 나비를 테마로 한 축제 참가하기	
3모듈	조수 간만의 차가 큰 해안의 특성을 활용한 신비의 바닷길 축제와 해전의 승리를 재현하는 명랑대첩 축제 참가하기	
4모듈	지리적 표시제에 등록된 녹차를 활용한 다향제 참가하기	

- | | 1모듈 | 2모듈 | 3모듈 | 4모듈 |
|---|-----|-----|-----|-----|
| ① | A | B | C | D |
| ② | A | B | D | C |
| ③ | A | D | C | B |
| ④ | B | A | C | D |
| ⑤ | B | D | A | C |

한국지리

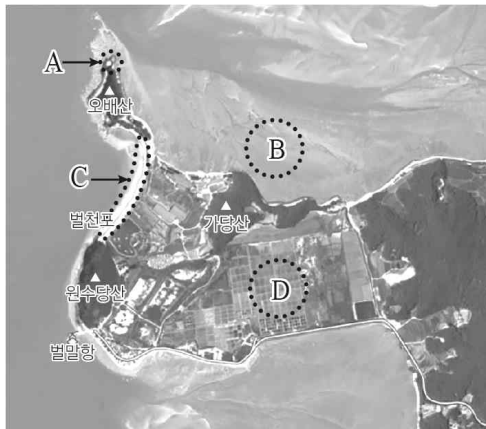
5. 밑줄 친 ㉠~㉣에 대한 옳은 설명만을 <보기>에서 고른 것은?



<보 기>
 가. ㉠ 하구에는 대규모의 삼각주가 형성되어 있다.
 나. ㉡은 암석의 차별적 풍화와 침식으로 형성된다.
 다. ㉢은 측방 침식보다 하방 침식이 우세하다.
 리. ㉣은 ㉠보다 평균 유량이 많다.

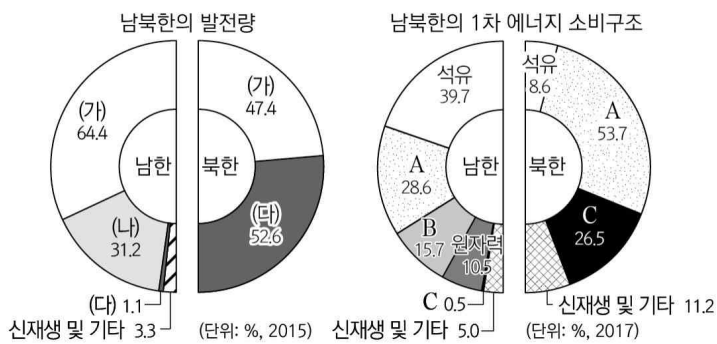
- ① 가, 나 ② 가, 다 ③ 나, 다 ④ 나, 리 ⑤ 다, 리

6. 위성사진에 표시된 A~D에 대한 설명으로 옳은 것은?



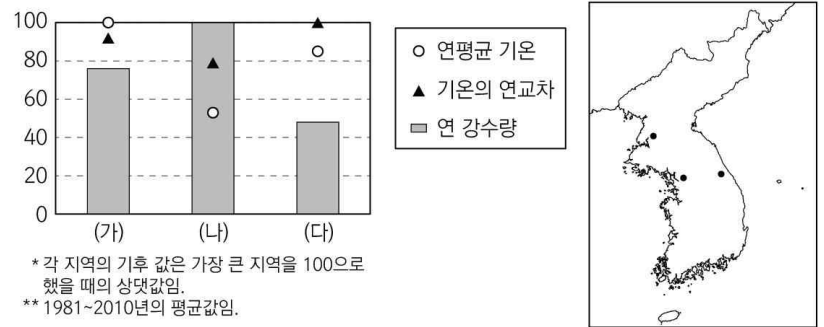
- ① A는 파랑 에너지가 분산되는 곳이다.
 ② B는 파랑과 연안류의 퇴적 작용으로 형성되었다.
 ③ C는 지반의 융기로 형성된 평탄면이다.
 ④ D는 서해안보다 동해안에서 넓게 조성된다.
 ⑤ C는 B보다 퇴적물의 평균 입자 크기가 크다.

7. 그래프는 남북한 에너지 현황을 나타낸 것이다. 이에 대한 설명으로 옳은 것은? (단, (가)~(다)는 각각 수력, 원자력, 화력 중 하나이며, A~C는 각각 석탄, 수력, 천연가스 중 하나임.) [3점]



- ① (가)는 (나)보다 온실가스 배출량이 적다.
 ② (나)는 C를 발전 에너지원으로 사용한다.
 ③ (다)는 (가)보다 입지의 자연적 제약이 작다.
 ④ A는 북한이 남한보다 수입 의존도가 높다.
 ⑤ 남한에서 B는 (가)의 연료로 사용된다.

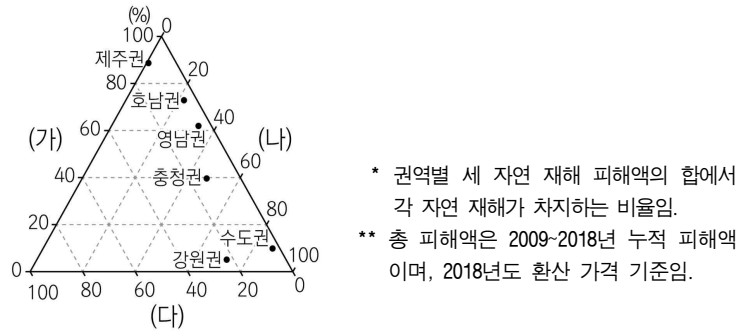
8. 그래프는 지도에 표시된 세 지역의 기후 자료이다. (가)~(다) 지역에 대한 옳은 설명만을 <보기>에서 고른 것은? [3점]



<보 기>
 가. (가)는 (나)보다 해발 고도가 높다.
 나. (나)는 (다)보다 겨울철 강수량이 많다.
 다. (다)는 (가)보다 봄꽃의 개화 시기가 이른다.
 리. (가), (나)는 남한, (다)는 북한에 위치한다.

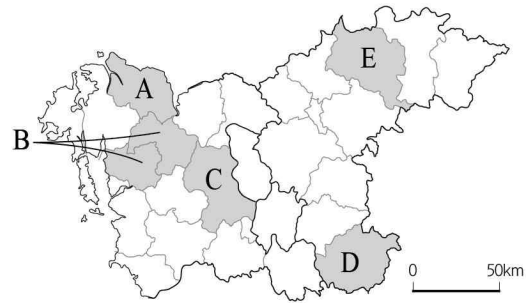
- ① 가, 나 ② 가, 다 ③ 나, 다 ④ 나, 리 ⑤ 다, 리

9. 그래프는 권역별 자연 재해 피해액 비중을 나타낸 것이다. 이에 대한 설명으로 옳은 것은? (단, (가)~(다)는 각각 대설, 태풍, 호우 중 하나임.) [3점]



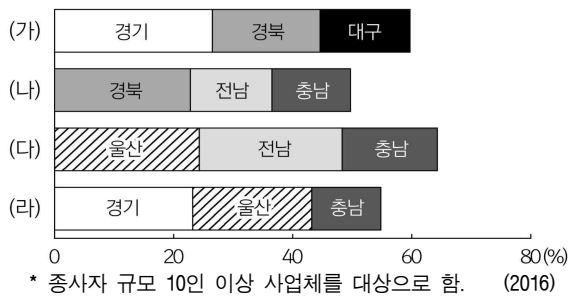
- ① (가)는 주로 장마 전선의 정체에 따라 발생한다.
 ② (나)를 대비한 전통 가옥 시설로 우데기가 있다.
 ③ (다)는 겨울철보다 여름철에 발생하는 빈도가 높다.
 ④ (나)는 (다)보다 연 강수량에서 차지하는 비중이 크다.
 ⑤ (가)~(다) 중 연평균 피해액 규모는 (다)가 가장 크다.

10. 지도에 표시된 A~E 지역의 특성을 고려한 탐구 주제로 적절하지 않은 것은?



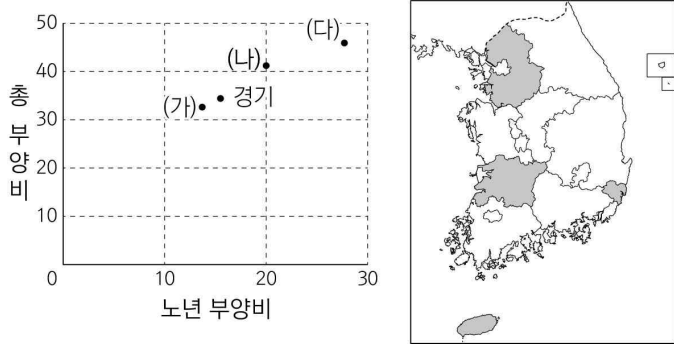
- ① A - 제철 공업이 지역 경제에 미치는 영향
 ② B - 도청 이전에 따른 지역 경관의 변화
 ③ C - 세계 문화 유산 지정에 따른 관광 산업 발달
 ④ D - 생명 과학 분야 중심으로의 산업 구조 고도화
 ⑤ E - 기업 도시 선정 이후 지역 개발 현황

11. 그래프는 주요 제조업의 시·도별 출하액 비중을 상위 3개 지역만 나타낸 것이다. (가)~(라) 제조업에 대한 설명으로 옳은 것은? (단, (가)~(라)는 각각 1차 금속, 섬유 제품(의복 제외), 자동차 및 트레일러, 화학 물질 및 화학 제품(의약품 제외) 제조업 중 하나임.)



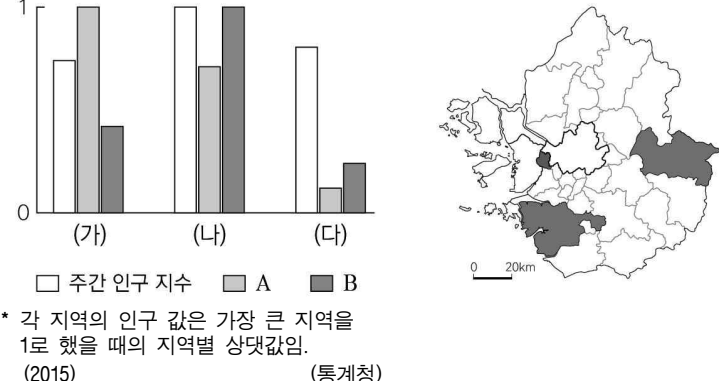
- ① (가)는 원료의 해외 의존도가 높은 기초 소재 공업이다.
- ② (나)는 총 생산비 중 노동비가 차지하는 비중이 가장 크다.
- ③ (다)는 조선 공업과 더불어 대표적인 조립형 공업이다.
- ④ (라)는 공업의 입지 유형 중 집적 지향형에 해당된다.
- ⑤ (라)는 (가)보다 우리나라 산업화를 주도한 시기가 이른다.

12. 그래프는 지도에 표시된 네 지역의 인구 특징을 나타낸 것이다. (가)~(다)에 대한 설명으로 옳은 것은? (단, (가)~(다)는 지도에 표시된 지역 중 하나임.) [3점]



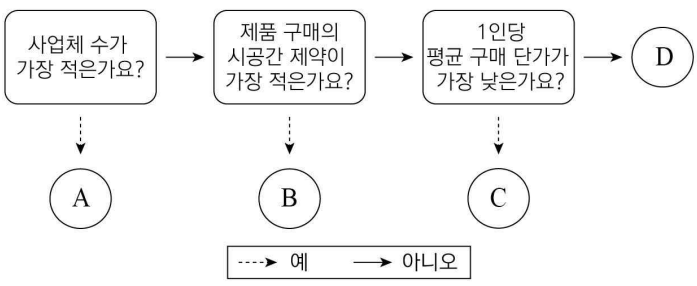
- ① (가)는 호남권, (다)는 영남권에 해당한다.
- ② (가)는 (나)보다 1차 산업 종사자 비중이 크다.
- ③ (나)는 (다)보다 청장년층 인구 비중이 크다.
- ④ (다)는 (가)보다 노령화 지수가 낮다.
- ⑤ (가)~(다) 중 성비는 (다)가 가장 높다.

13. 그래프는 지도에 표시된 세 지역의 인구 현황을 나타낸 것이다. 이에 대한 설명으로 옳지 않은 것은? (단, A, B는 각각 상주인구, 외국인 수 중 하나임.) [3점]



- ① (가)~(다) 중에서 (나)의 인구 밀도가 가장 높다.
- ② (가)는 (나)보다 서울로의 통근 비율이 높다.
- ③ (나)는 (다)보다 제조업 종사자 수 비율이 높다.
- ④ (다)는 (가)보다 지역 내 농가 수 비율이 높다.
- ⑤ A는 상주인구, B는 외국인 수이다.

14. A~D에 해당하는 소매 업태로 옳은 것은? (단, A~D는 대형 마트, 무점포 소매업, 백화점, 편의점 중 하나임.)



- | | | | | |
|---|---------|---------|---------|-------|
| | A | B | C | D |
| ① | 백화점 | 무점포 소매업 | 편의점 | 대형 마트 |
| ② | 백화점 | 편의점 | 무점포 소매업 | 대형 마트 |
| ③ | 대형 마트 | 무점포 소매업 | 편의점 | 백화점 |
| ④ | 대형 마트 | 편의점 | 무점포 소매업 | 백화점 |
| ⑤ | 무점포 소매업 | 대형 마트 | 백화점 | 편의점 |

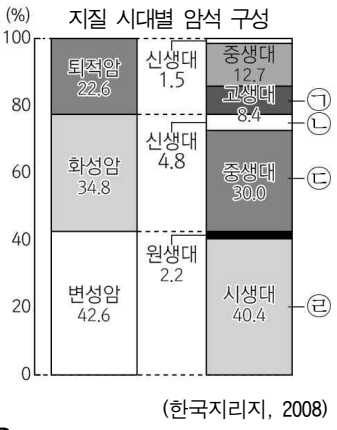
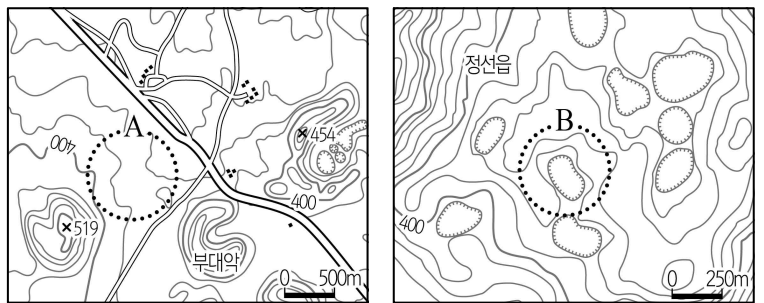
15. 표는 네 지역의 작물별 재배 면적을 나타낸 것이다. (가)~(다) 작물에 대한 옳은 설명만을 <보기>에서 고른 것은? (단, (가)~(다)는 각각 과수, 벼(쌀), 채소 중 하나임.)

작물 지역	(가)	보리계 (맥류)	(나)	(다)
강원	28.64	0.17	24.48	3.54
경북	97.47	1.20	31.16	53.83
전남	154.09	21.94	41.51	17.13
제주	0.05	2.56	18.65	16.77

<보 기>
 가. (가)는 최근 1인당 소비량이 증가하는 추세이다.
 나. (나)는 강원에서 시설 재배보다 노지 재배 면적이 넓다.
 다. (다)는 식량 작물로 국내 자급률이 가장 높다.
 리. (가)는 (다)보다 영농의 기계화가 유리하다.

- ① 가, 나 ② 가, 리 ③ 나, 리 ④ 나, 리 ⑤ 다, 리

16. 지도의 A, B 지역에 분포하는 주요 암석을 그래프의 ㉠~㉤에서 고른 것은? [3점]



- | | | |
|---|---|---|
| | A | B |
| ① | ㉠ | ㉡ |
| ② | ㉡ | ㉢ |
| ③ | ㉢ | ㉣ |
| ④ | ㉣ | ㉠ |
| ⑤ | ㉣ | ㉡ |

17. 다음 글은 도시 재개발의 사례를 나타낸 것이다. 이에 대한 옳은 설명만을 <보기>에서 있는 대로 고른 것은?

(가) 인천광역시 송현동의 수도권산 달동네는 1960년대 경제 개발 과정에서 인구가 급격히 늘어나고 주택이 부족해지자, 저소득층 가구가 한곳에 모여 살면서 확대되었다. 1990년대 후반 ‘송현 지구 주거 환경 개선 사업’으로 ㉠ 대규모 아파트 단지가 조성되고 공원, 박물관 등이 들어서면서 달동네의 모습은 대부분 사라졌다.
 (나) 부산광역시 감천동은 6.25 전쟁 때 피난민들이 정착하면서 만들어진 달동네였다. 2009년 이후 지역 특수성 보존 사업과 더불어 다양한 문화 예술 활동을 통해 감천 문화마을로 변화되었다. 그 결과 최근에는 마을을 방문하는 ㉡ 여행객이 증가하고 있다.

<보 기>
 가. (가)는 철거 재개발 방식의 사례이다.
 나. (나)는 (가)보다 투입된 자본의 규모가 크다.
 다. ㉠으로 인해 토지 이용의 효율성이 높아졌다.
 리. ㉡은 지역 경제 활성화에 도움이 되고 있다.

- ① 가, 나 ② 다, 리 ③ 가, 나, 다
- ④ 가, 다, 리 ⑤ 나, 다, 리

18. 다음 글은 문학작품에 표현된 지리적 서술 내용의 일부이다. 밑줄 친 ㉠~㉣에 대한 설명으로 옳은 것은? [3점]

○ 북위 42도와 한류(寒流)의 냉대에서는 ㉠ 봄은 3월이 아니라 6월부터 시작된다... 단오 무렵은... ㉡ 안개 끼는 날이 많다. 안개는 바다에서 흘러와 별판을 거치고 성 모퉁이를 돌아 마을을 싸고 골짜기로 오지로 들어 간다... 해발 몇백척의 산복(山腹)도 북방에서는 ㉢ 고원지대(高原地帶)의 양기이니 고원의 봄을 제일 먼저 꾸미는 꽃은 박새인듯 싶다.
 - 「6월(月)에야 봄이 오는 북경성(北鏡城)의 춘정(春情)」 -
 ○ ㉣ 장백산맥(太백산맥)은 같은 도를 길이로 갈라 산맥의 동과 서는 생활과 풍습과 성벽이 심히 다르다. 대관령 동편 영동 사람들이 ㉣ 영서를 부러워 할 때가 있듯이 영서 사람들이 영동을... 영동은 해물과 감(柿)의 고장이므로... 영서는 산과 들과 수풀과 시내의 고장이요 자연은 더 한층 풍성하다.
 - 「영서(嶺西)의 기억(記憶)」 -

- ① ㉠의 이유는 꽃샘추위 때문이다.
- ② ㉡의 이유는 한류의 영향이 크다.
- ③ ㉢은 밭농사보다 논농사의 비중이 크다.
- ④ ㉣은 중생대 대보 조산 운동으로 형성되었다.
- ⑤ ㉣은 봄철 북동풍이 불면 냉해를 입는다.

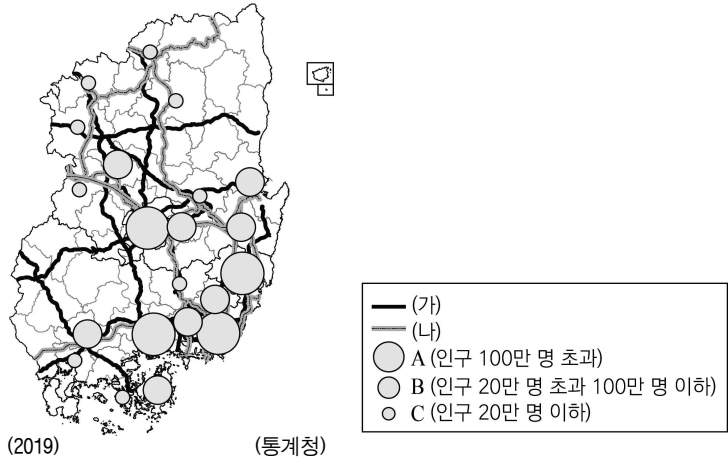
19. 자료는 한국지리 수업의 한 장면이다. 선정된 지역에 대한 발표 내용이 옳은 학생만을 고른 것은?

○○학급 선정 ‘가고 싶은 우리나라 관광지 100선’

가. 수도권과 전철로 연결된 호반의 도시로 남이섬과 닭갈비 음식 거리 등으로 유명하다.
 나. 동계 올림픽 개최지였으며 양떼목장과 풍력 발전 단지를 볼 수 있다.
 다. 석회 동굴과 산림 유전 자원, 명품 숲으로 지정된 금강 소나무길이 있다.
 라. 한반도 모양으로 휘돌아 나가는 조양강의 아름다운 비경과 레일바이크를 즐길 수 있다.
 마. 탈춤, 동족촌의 전통 생활 양식이 보존되어 세계 문화유산으로 지정된 전통 마을이 있다.

- ① 가, 을 ② 가, 정 ③ 을, 병 ④ 병, 무 ⑤ 정, 무

20. 지도는 영남권의 도시 인구와 교통로를 나타낸 것이다. 이에 대한 옳은 설명만을 <보기>에서 고른 것은? (단, (가), (나)는 각각 고속 국도, 철도(고속 철도 포함) 중 하나임.) [3점]



<보 기>
 가. A는 모두 광역시에 해당된다.
 나. A는 B보다 도시의 교외화 현상이 뚜렷하다.
 다. C는 A보다 다양한 중심 기능을 보유한다.
 리. (가)는 (나)보다 도시 간 연결성이 우수하다.

- ① 가, 나 ② 가, 다 ③ 나, 다 ④ 나, 리 ⑤ 다, 리

* 확인 사항
 ○ 답안지의 해당란에 필요한 내용을 정확히 기입(표기)했는지 확인하시오.