


제 4 교시

사회탐구 영역(세계사)

성명	수험번호	3	제 [ ] 선택
----	------	---	----------

1. (가) 문명에 대한 설명으로 옳은 것은?

**세계사 유물 카드 #1**



**와르카(우루크) 꽃병**

이 병은 티그리스강과 유프라테스강 유역에서 발달한 (가) 문명의 초기 미술을 대표하는 유물이다. 기원전 3,500~기원전 3,000년경 사이에 제작된 것으로 보이며, 우루크의 이난나 지구라트에서 발견되었다. 상단에는 출산과 대지의 여신인 이난나 여신으로 여겨지는 인물이 조각되어 있다.

- ① 피라미드를 축조하였다.
- ② 파르테논 신전을 건립하였다.
- ③ 태음력과 60진법을 사용하였다.
- ④ 모헨조다로와 하라파를 건설하였다.
- ⑤ 갑골에 점을 친 내용을 기록하였다.

2. (가) 황제에 대한 설명으로 옳은 것은?

(가) 에 대한 역사가들의 다양한 평가



사마천

그는 흉노를 적극적으로 토벌했지만 대외 정세를 올바로 보지 못하는 신하들을 믿고 있어서 걱정이 됩니다.



반고

그는 동중서의 건의를 수용하여 유교를 통치 이념으로 삼고, 태학을 설립하는 등 학문을 진흥시킨 군주였습니다.



사마광

그는 신하의 이간질에 속아 태자까지 죽이려 한 폭군이었습니다. 또한 지나친 정복 사업으로 국가 재정을 악화시켰습니다.

- ① 과거제를 시행하였다.
- ② 이갈제를 실시하였다.
- ③ 사고전서를 편찬하였다.
- ④ 장건을 대월지에 파견하였다.
- ⑤ 통제거 등 대운하를 건설하였다.

3. (가) 왕조에서 있었던 사실로 옳은 것은?

**고사성어로 배우는 세계사**

**곽분양팔자 (郭汾陽八字)**


“세상의 모든 부귀와 공명을 한 몸에 지니고 있는 사람”

곽자의는 안사의 난 당시 (가) 의 수도 장안을 수복하였고 이후 토번의 침략도 격퇴하였다. 공을 세운 곽자의는 ‘분양왕’에 봉해지는 등 높은 관직에 오르고 부를 누렸지만, 겸손하고 청빈하여 누구에게나 칭송받는 삶을 살았다. 이러한 곽자의의 생애에서 ‘곽분양팔자’라는 말이 유래하였다.

- ① 당삼채가 유행하였다.
- ② 성리학이 집대성되었다.
- ③ 죽림칠현이 등장하였다.
- ④ 파스파 문자가 사용되었다.
- ⑤ 곤여만국전도가 제작되었다.

4. 밑줄 친 ‘이 법안’이 제출된 배경으로 옳은 것은? [3점]

기원전 134년 호민관으로 선출된 티베리우스 그라쿠스는 원로원의 반대에도 불구하고 이 법안을 민회에 제출하였습니다.



1,000 유게룸 이상의 토지를 임차하고 있는 자는 그것을 국가에 반환하고, 국가는 반환된 토지의 면적에 따라 보상금을 지급한다. 그런 다음 국가는 상설 실무 위원회를 통하여 희망하는 농민에게 임차 농지를 재분배한다.

- ① 콜로나투스 제도가 성행하였다.
- ② 제2차 삼두 정치가 전개되었다.
- ③ 로마 제국이 동서로 분열되었다.
- ④ 군인 출신 황제가 연이어 즉위하였다.
- ⑤ 라티퐁디움 경영으로 자영농이 몰락하였다.

세계사


5. 밑줄 친 '황제'에 대한 설명으로 옳은 것은?

황제의 명령에 따라 정사 태감 정화는 보선(寶船)을 지휘해 여러 나라에 가서 황제의 말씀과 선물을 전하였다. 나도 통역의 임무를 받고 사절단의 일원으로 따라가 눈에 들어오는 모든 바다와 파도를 넘어 몇천 리가 되는지도 모르는 곳에 도착해 여러 나라를 돌아다니며 그곳의 시간, 기후, 지리, 인물을 눈으로 보고 몸소 경험하였다.

- 『영애승람』 -

- ① 발해를 멸망시켰다.
- ② 자금성을 건설하였다.
- ③ 분서갱유를 단행하였다.
- ④ 삼번의 난을 진압하였다.
- ⑤ 5대 10국의 혼란을 수습하였다.

6. (가) 왕조에 대한 설명으로 옳은 것은? [3점]



그림은 홀라구가 이끄는 몽골 제국의 군대가 (가)의 수도인 바그다드를 공격하는 모습을 표현한 것이다. 시아파의 지원을 받아 수립된 (가)은/는 비아랍인에 대한 차별을 철폐하며 범이슬람 제국으로 발전하였지만 1258년 몽골 제국에 멸망하였다.

- ① 티무르가 건국하였다.
- ② 함무라비 법전을 편찬하였다.
- ③ 탈라스 전투에서 승리하였다.
- ④ 데브시르메 제도를 운영하였다.
- ⑤ 이베리아반도까지 영토를 확장하였다.

7. (가) 국왕에 대한 설명으로 옳은 것은? [3점]

융합 수업 소감문

3학년 △반 ○○○

○ 수업 주제: 셰익스피어 작품을 통해 (가) 시대 이해하기  
○ 융합 과목: 세계사+영미 문학 읽기

(가) 이가 에스파냐와의 전쟁에서 펠리페 2세의 무적 함대를 격파한 후 자국의 문화를 적극 후원하여 셰익스피어와 같은 대문호가 나올 수 있었다는 사실을 세계사 시간에 배웠다. 영미 문학 읽기 시간에는 셰익스피어의 작품을 원문으로 보며 당시 사람들이 사용했던 어휘를 통해 그 시대의 모습을 엿볼 수 있었다. 이어서 '셰익스피어 작품 속 인물에게 편지 쓰기' 활동을 했는데, 어려웠지만 상상력을 발휘할 수 있는 시간이었다.

- ① 낭트 칙령을 폐지하였다.
- ② 동인도 회사를 설립하였다.
- ③ 상수시 궁전을 건립하였다.
- ④ 농노 해방령을 발표하였다.
- ⑤ 상트페테르부르크를 수도로 삼았다.

8. (가) 혁명에 대한 탐구 활동으로 가장 적절한 것은?

MUSICAL

## 마리 앙투아네트

*Marie Antoinette*

• 시놉시스 •

오스트리아 공주로 태어나 왕실 간의 정략 결혼으로 루이 16세의 왕비가 된 마리 앙투아네트. 베르사유 궁전에서 화려하지만 쓸쓸한 시간을 견뎌 내던 중 민중들이 바스티유 감옥을 습격하면서 격화된 (가) 이/가 그녀의 삶을 관통한다. 그녀의 나이 37세가 되던 1792년, 분노한 민중들은 국왕의 퇴위를 주장하며 왕궁을 습격하고, 이에 따라 수립된 국민 공회는 자코뱅파의 주도로 루이 16세와 마리 앙투아네트의 처형을 주장하는데……

• 일시: 2022. 7. ○.  
• 장소: ○○ 아트홀


- ① 아비뇽 유수의 원인을 파악한다.
- ② 백년 전쟁의 전개 과정을 조사한다.
- ③ 인간과 시민의 권리 선언을 분석한다.
- ④ 베르딩 조약의 체결 배경을 찾아본다.
- ⑤ 델로스 동맹의 결성 목적을 알아본다.

9. 밑줄 친 '이 사건'이 일어난 시기를 연표에서 옳게 고른 것은? [3점]

세계사 수행평가

- 중세 교회와 관련된 역사적 사건을 그림으로 표현하기 -

3학년 △반 ○○○



<그림 해설>

크리스트교 세계가 로마 교황을 중심으로 하는 로마 가톨릭교회와 비잔티움 제국 황제를 수장으로 하는 그리스 정교회로 분열된 이 사건을 그림으로 표현하였습니다. 로마 가톨릭교회는 성 베드로, 그리스 정교회는 성 안드레아로 표현하여 크리스트교 세계가 분열된 모습을 그렸습니다.

(가)	(나)	(다)	(라)	(마)
레오 3세의 성상 파괴령 반포	카노사의 굴욕	보름스 협약 체결	콘스탄츠 공의회 개최	아우크스 부르크 회의 체결

- ① (가)      ② (나)      ③ (다)      ④ (라)      ⑤ (마)

10. (가), (나) 시기 사이에 있었던 사실로 옳은 것은? [3점]


(가) 각지에서 우창 봉기에 동조하는 목소리가 높아지는 가운데, 10여 개의 성(省)이 청 정부를 향해 독립을 선포하였다. 이어 쑨원이 미국에서 귀국하자 각 성의 대표들은 난징에서 그를 임시 대통령으로 선출하였다.

(나) 장제스가 이끄는 국민 혁명군은 텐진을 함락시키고 마침내 베이징을 점령하였다. 장제스는 베이징에 있는 쑨원의 영정 앞에서 국민 혁명 완수를 보고하였다.

- ① 신축조약이 체결되었다.
- ② 시안 사건이 발생하였다.
- ③ 태평천국 운동이 전개되었다.
- ④ 제1차 국공 합작이 성사되었다.
- ⑤ 중국 공산당이 대장정 끝에 옌안에 도착하였다.

11. 밑줄 친 '그'에 대한 설명으로 옳은 것은?

이것은 그가 이끄는 마케도니아군이 다리우스 3세의 페르시아군을 격파한 이소스 전투를 표현한 그림이에요. 이 전투에서 승리한 그는 인더스강까지 진출하여 유럽, 아시아, 아프리카에 걸친 대제국을 건설하였어요.



- ① 프린키프스를 자처하였다.
- ② 500인 평의회를 설치하였다.
- ③ 콘스탄티노폴리스로 천도하였다.
- ④ 정복지에 그리스인을 이주시켰다.
- ⑤ 그리스교를 국교로 선포하였다.

12. 다음 자료를 활용한 탐구 활동으로 가장 적절한 것은?

- 11척의 함대와 14문의 대포, 660여 명의 병력을 이끌고 쿠바 기지를 떠난 코르테스는 베라크루스에 도착하였다. 이곳에서 에스파냐군은 무려 4만여 명의 원주민 군대와 싸워 승리하였다. 이후 여세를 몰아 아스테카 제국의 수도인 테노치티틀란을 점령하였다.
- 168명의 병사를 거느린 피사로는 카하마르크에서 잉카의 황제 아타우알파와 마주하였다. 수적인 열세에도 불구하고 총과 칼, 대포로 무장한 에스파냐군은 잉카인들을 무자비하게 살육하였다. 피사로도 칼을 들고 뛰어 들어가 화려한 가마에 타고 있던 아타우알파를 끌어내리고 사로잡았다.

- ① 십자군 전쟁의 배경을 알아본다.
- ② 게르만족의 이동 경로를 살펴본다.
- ③ 콜베르의 중상주의 정책을 분석한다.
- ④ 차티스트 운동의 전개 과정을 찾아본다.
- ⑤ 아메리카 문명이 파괴된 원인을 조사한다.

13. (가) 국가에 대한 설명으로 옳은 것은? [3점]

아라비 파샤는 '(가)' 민족 운동의 아버지'라고 불린다. 그는 대중의 지지를 얻어 국방장관이 된 후 영국의 내정 간섭에 반발하여 혁명을 일으켰다. 아라비 파샤가 지휘하는 혁명군은 알렉산드리아에 상륙한 영국군과 치열한 접전을 펼쳤으나 패배하였다. 이후 '(가)' 은/는 실질적으로 영국의 보호국이 되었다.

- ① 이스파한을 수도로 삼았다.
- ② 벵골 분할령을 발표하였다.
- ③ 수에즈 운하를 건설하였다.
- ④ 모로코에서 프랑스와 대립하였다.
- ⑤ 아프리카에서 횡단 정책을 추진하였다.

14. (가) 전쟁 중에 있었던 사실로 옳은 것은? [3점]

### 세계사 신문

#### 유럽에서 전쟁의 포화가 멈추다

11월 11일 새벽 5시 콩피에뉴 숲에 위치한 열차에서 연합군 대표 페르디낭 포슈와 독일 대표 마티아스 에르츠베르거가 종전 문서에 서명했다. 서부 방어선인 힌덴부르크 라인을 돌파당한 독일이 포슈가 제시한 종전 조건을 수용한 것이다. 이로써 사라예보 사건을 계기로 시작되어 4년이 넘게 이어진 '(가)' 은/는 연합군의 승리로 끝났다.

▲ 종전 문서에 서명한 양측 대표단

- ① 파쇼다 사건이 일어났다.
- ② 대서양 헌장이 발표되었다.
- ③ 노르망디 상륙 작전이 전개되었다.
- ④ 러시아에서 11월 혁명이 발생하였다.
- ⑤ 북대서양 조약 기구[NATO]가 결성되었다.

15. (가) 제국의 문화에 대한 설명으로 옳은 것은?

#### 배틀 투어

(가)의 문화유산을 찾아서!  
당신의 선택은 어디입니까?

- 인도 아그라 소재
- 사자한 황제가 황후를 추모하기 위해 건립

**VS**

- 인도 암리차르 소재
- 시크교의 중심 사원으로 아크바르 황제 때 조성

- ① 샤쿤탈라가 저술되었다.
- ② 우르두어가 사용되었다.
- ③ 산치 대탑이 축조되었다.
- ④ 조로아스터교가 창시되었다.
- ⑤ 쿠티브 미나르가 건립되었다.

16. (가) 막부 시기에 있었던 사실로 옳은 것은? [3점]

**조닌 식당 인기 메뉴**

**바라 스시 8,000원**

밥과 채소와 해산물을 한 그릇에 담아 함께 먹는 일본 ○○○○현의 향토 음식!

**알고 먹으면 더 맛있어요! - 바라 스시의 유래**

도시와 상공업의 발전으로 조닌 문화가 발달했던 (가) 시기에 서민들의 사치를 방지하기 위한 검약령이 내려졌다고 합니다. 그때 서민들이 검소한 식사를 위해 한 그릇에 음식을 모두 담아 먹던 풍습이 남아 현재의 바라 스시가 되었다고 전해 집니다.

- ① 몽골이 침입하였다.
- ② 난학이 발달하였다.
- ③ 다이카 개신이 단행되었다.
- ④ 명과 감합 무역이 전개되었다.
- ⑤ 이와쿠라 사절단이 파견되었다.

17. (가) 왕조 시기에 있었던 사실로 옳은 것은?

파르티아 ○ 무르사푸라

안드라 왕조

(가) 왕조의 최대 영역

(가)의 발전

- 성립: 1세기 중엽 이란 계통의 유목 민족이 건국
- 발전
  - 한(漢)과 파르티아, 로마 등을 연결하는 중계 무역으로 발달
  - 카니슈카왕 때 최대 영역 확보
- 쇠퇴: 사산 왕조 페르시아의 침입으로 쇠퇴

- ① 롤릿법이 제정되었다.
- ② 자이나교가 출현하였다.
- ③ 간다라 양식이 발달하였다.
- ④ 밀레트 제도가 운영되었다.
- ⑤ 브라흐마 사마지 운동이 전개되었다.

18. 다음 자료를 활용한 탐구 활동으로 가장 적절한 것은?

이것은 미국이 원조 물자에 사용한 식별 표지로 '유럽 부흥을 위한 미국의 공급품'이라는 문구가 쓰여 있다. 미국은 제2차 세계 대전으로 파폐해진 서유럽 국가들의 경제 재건을 돕고, 공산주의의 확산을 저지하고자 경제 원조를 진행하였다.

- ① 마셜 계획의 배경을 파악한다.
- ② 포츠머스 조약의 내용을 분석한다.
- ③ 국제 연맹의 출범 과정을 정리한다.
- ④ 발칸 전쟁의 발발 원인을 조사한다.
- ⑤ 신경제 정책[NEP]의 영향을 알아본다.

19. (가) 제국에 대한 설명으로 옳은 것은? [3점]

www.이stanbul의명소.com

톱카프 궁전    술탄 아흐메트 사원    돌마바흐체 궁전

궁전 소개 > 궁전 배치도

궁전의 정문으로 '황제의 문'이라 불린다. 비잔티움 제국을 멸망시킨 (가)의 메흐메트(메메트) 2세가 톱카프 궁전을 완공했다는 글이 문에 기록되어 있다.

- ① 티마르제를 실시하였다.
- ② 마누 법전을 편찬하였다.
- ③ 사마르칸트를 수도로 삼았다.
- ④ 군관구제와 둔전병제를 실시하였다.
- ⑤ 왕의 눈이라 불리는 감찰관을 파견하였다.

20. 다음 발표가 있었던 시기를 연표에서 옳게 고른 것은? [3점]

지금까지 나는 인민의 자결권과 연방의 유지를 위하여 힘써왔지만, 4일 전 독립 국가 연합[CIS]이 창설되었기 때문에 소비에트 사회주의 공화국 연방 대통령으로서의 활동을 마칩니다.

	(가)	(나)	(다)	(라)	(마)
트루먼 독트린 발표	쿠바 미사일 위기	닉슨 독트린 발표	미·중 국교 수립	베를린 장벽 붕괴	유럽 연합(EU) 창설
① (가)	② (나)	③ (다)	④ (라)	⑤ (마)	

\* 확인 사항

○ 답안지의 해당란에 필요한 내용을 정확히 기입(표기)했는지 확인 하시오.