

# 사회탐구 영역(동아시아사)

제 4 교시

성명

수험 번호

3


제 [ ] 선택

1

1. 밑줄 친 ‘토기’에 해당하는 유물로 옳은 것은?

유적으로 보는 동아시아 신석기 문화

한반도    황허강 유역    창장강 유역    라오허강 유역    일본 열도



▲ 서울 암사동 선사 주거지 움집터

한반도의 신석기 문화를 대표하는 유적은 서울 암사동 유적이다. 이곳에서는 다수의 움집터가 확인되었고 갈돌, 갈판 등의 석기가 발견되었다. 또한 표면에 비스듬한 줄이 새겨져 있는 토기도 출토되었다.



2. (가) 인물이 추진한 정책으로 옳은 것은?

주 왕실이 쇠약해지자 7국의 제후들이 스스로를 왕이라 칭하며 주나라 왕을 받들지 않았다. ...(중략)... (가) 은/는 6국을 멸하여 천하를 통일하고, 세상의 이목을 새롭게 하려 하였다. 이에 처음으로 황제라 칭하여 만천하에 존엄함을 드러내었다.


- ① 고조선을 멸망시켰다.
- ② 팔기제를 시행하였다.
- ③ 호라즘을 정복하였다.
- ④ 사교전서를 편찬하였다.
- ⑤ 분서갱유를 단행하였다.

3. (가) 국가의 통치 제도에 대한 설명으로 옳은 것은?

(가)에서는 신문왕 때 국학을 설립하였으나, 시험으로 관리를 선발하는 법은 없었다. 경덕왕 때 국학에 박사와 조교를 두어 학생들을 가르쳤고, 원성왕 때 비로소 독서삼품과를 마련하였다.

- ① 골품제를 운영하였다.
- ② 정복지에 다루가치를 파견하였다.
- ③ 제사를 담당하는 신기관을 두었다.
- ④ 남면관제와 북면관제를 시행하였다.
- ⑤ 정책을 심의하는 문하성을 설치하였다.

4. (가) 국가의 대외 관계에 대한 설명으로 옳은 것은? [3점]



이 메달에는 토번의 송첸캄포가 보낸 사신을 (가)의 황제가 접견하는 모습이 표현되어 있다. (가)의 황제는 문성 공주를 화번공주로 삼아 송첸캄포와 혼인하게 하였다. 토번으로 건너간 문성 공주는 농업, 제지 기술, 역법, 불상 등을 전해 주었다. 이는 토번의 경제와 문화가 발전하는 계기가 되었다.

- ① 서하를 정복하였다.
- ② 왜의 노국왕에게 금인을 주었다.
- ③ 신라와 연합하여 고구려를 멸망시켰다.
- ④ 쩌흥다오의 활약으로 몽골군을 물리쳤다.
- ⑤ 대외 무역을 허가하는 슈인장을 발급하였다.

5. (가) 제국에 대한 설명으로 옳은 것은? [3점]

(가)의 쿠빌라이 칸이 고려 왕에게 조서를 보내 말하기를, “내가 대업을 계승한 지 수년이 되었지만, 전란으로 인해 그간 겨를이 없었다. 나를 따르지 않던 서북제왕(西北諸王)이 근래 귀부하였기에, 상도에서 쿠빌타이를 열고자 한다. 그대도 지체하지 말고 와서 나를 알현하라.”라고 하였다.


- ① 교초를 발행하였다.
- ② 남비엣을 멸망시켰다.
- ③ 지정은제를 시행하였다.
- ④ 송과 전연의 맹약을 맺었다.
- ⑤ 5호 16국 시대의 분열을 수습하였다.

동아시아사

## 2 (동아시아사)

## 사회탐구 영역

6. 밑줄 친 '이 막부' 시기의 동아시아 문화에 대한 설명으로 옳은 것은?



이것은 가쓰시카 호쿠사이가 이 막부 시기 서민들의 일상생활 등을 그린 우키요에를 엮어 만든 책이다. 조닌 문화가 발달했던 이 막부 시기에는 당시의 풍속뿐만 아니라 자연 경관과 인물 등을 묘사한 우키요에가 제작되어 사람들에게 큰 인기를 끌었다.

- ① 한국 - 판소리가 성행하였다.
- ② 한국 - 제왕운기가 저술되었다.
- ③ 중국 - 성리대전이 완성되었다.
- ④ 중국 - 원강 석굴의 대불이 조성되었다.
- ⑤ 일본 - 호류사 5층 목탑이 건립되었다.

7. (가) 인물에 대한 설명으로 옳은 것은? [3점]

다큐멘터리 3부작  
국경을 초월하여 불법을 구한  
(가) 의 발자취를 찾아서

1부 건당사의 일원으로 선발되다

2부 오대산의 불교 성지를 돌아보다

적산 법화원에 머물던 (가) 은/는 장보고 세력의 도움을 받아 오대산의 불교 성지를 순례하였다. 그는 오대산에서 고승들을 만나 불법을 구하고, 다수의 경전을 필사하였다.

3부 일본 천태종의 3대 좌주가 되다

- ① 대당서역기를 남겼다.
- ② 도다이사를 창건하였다.
- ③ 곤여만국전도를 제작하였다.
- ④ 쇼토쿠 태자의 스승이 되었다.
- ⑤ 입당구법순례행기를 저술하였다.

8. (가) 왕조 시기의 동아시아 상황으로 옳은 것은? [3점]

도무제는 문치를 장려하고 조정의 관리와 백성에게 머리를 묶고 관모를 쓰게 하였다. ... (중략) ... 뒤양으로 천도한 효문제(孝文帝)는 사문소학(四門小學)을 세우도록 명하고, 선비족의 복식을 금지하였다. 이렇게 어진 군주들이 (가)의 왕위를 계승해 나가니 교화가 이루어지고 예악이 빛났다.

- ① 여진족이 금을 건국하였다.
- ② 거란(요)이 발해를 멸망시켰다.
- ③ 고려가 강동 6주를 확보하였다.
- ④ 왜가 백강 전투에서 패배하였다.
- ⑤ 고구려가 남북조와 조공·책봉 관계를 맺었다.

9. 다음 자료에 나타난 전쟁이 동아시아에 끼친 영향으로 가장 적절한 것은?

왜적이 쳐들어와 여러 고을이 잇달아 함락되었고, 백성들은 전투에 익숙하지 않아 저들의 칼날에 맞서지 못하였다. ... (중략) ... 명군과 연합하여 왜적을 치기 위해 북상한 권율이 행주산성에 진을 치자 적들이 성을 포위하고 공격하였다. 아군이 죽기를 각오하고 싸우니 적의 사상자가 산처럼 쌓였다.

- ① 조선에서 삼포 왜란이 일어났다.
- ② 명에서 토목보의 변이 발생하였다.
- ③ 베트남에서 대월사기가 편찬되었다.
- ④ 일본에서 도자기 문화가 발달하였다.
- ⑤ 일본에서 가마쿠라 막부가 쇠퇴하였다.

10. 밑줄 친 '이 조약'에 대한 설명으로 옳은 것은? [3점]

동아시아사 신문

---

**청이 영국에 문호를 개방하다**


영국이 청의 아편 단속 강화를 빌미로 일으킨 전쟁에서 승리하였다. 마침내 콘월리스호에서 영국과 청의 전권 대사가 이 조약에 서명하여 양국 간의 전쟁이 종결되었다. 이 조약으로 청이 영국에 광저우 등 5개 항구를 개항함에 따라 다른 서구 열강의 개항 요구가 거세질 것으로 예상된다.

- ① 홍콩 할양이 명시되었다.
- ② 미국의 중재로 조인되었다.
- ③ 삼국 간섭이 일어나는 계기가 되었다.
- ④ 크리스티교 포교의 자유가 인정되었다.
- ⑤ 외국 군대의 베이징 주둔이 허용되었다.

11. (가) 유학 사상이 동아시아에 끼친 영향으로 가장 적절한 것은?

[3점]

**[나의 역사 기행]** 2024년 ○월 ○일

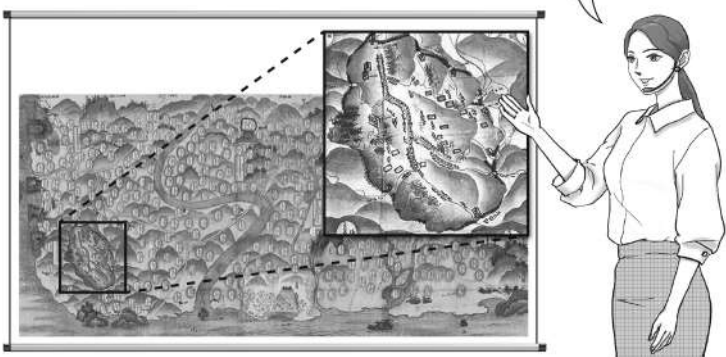


오늘은 영주 소수 서원에 다녀왔다. 이 서원은 주희가 집대성한 (가) 을/를 고려에 소개한 안향을 기리기 위해 건립되었다. 이곳은 백운동 서원으로 불리다가 이황의 건의로 소수 서원으로 사액되었다고 한다. 강학당과 문성공묘를 둘러보니 서원에서 학문 연구와 제사가 이루어졌음을 알 수 있었다.

- ① 한국-문적원이 설립되었다.
- ② 중국-제자백가가 출현하였다.
- ③ 중국-오경정의가 편찬되었다.
- ④ 일본-다이카 개신이 단행되었다.
- ⑤ 일본-사서오경왜훈이 저술되었다.

12. (가)에 대한 설명으로 옳은 것만을 <보기>에서 고른 것은? [3점]

17세기 일본에서 제작된 이 지도에는 이와미 광산의 모습이 나타나 있습니다. 이와미 광산은 조선으로부터 회취범이 도입되면서 (가) 의 생산량이 크게 늘어났습니다. 이에 막부는 이와미 광산에 관리를 파견하여 (가) 의 무단 반출을 엄격하게 통제하였습니다.



< 보 기 >

- ㄱ. 한국-중국의 비단 등을 구입하는 데 사용하였다.
- ㄴ. 한국-왜관을 통해 일본에 수출한 주요 상품이었다.
- ㄷ. 중국-일조편법에서 세금 납부에 이용되었다.
- ㄹ. 일본-송으로부터 대량으로 수입하였다.

- ① ㄱ, ㄴ    ② ㄱ, ㄷ    ③ ㄴ, ㄷ    ④ ㄴ, ㄹ    ⑤ ㄷ, ㄹ

13. (가) 도시에서 있었던 사실로 옳은 것은?

○○○ 선생 귀하

저는 아직도 윤봉길 의사가 (가) 의 홍커우 공원에서 폭탄을 투척했던 때가 생각납니다. 이 사건 때문에 선생께서는 한동안 (가) 의 프랑스 조계에 있는 제 친구 집에 피신하였다가 저와 함께 항저우로 가셨죠. 이런 일들이 엇그제 있었던 것 같은데 벌써 10여 년이 지났습니다. 귀국의 광복 소식을 들었을 때 정말 기뻐했습니다. 다시 한번 광복을 축하드리며, 국운이 번성하기를 바랍니다.

○○○ 올림

- ① 테지마가 조성되었다.
- ② 아주 화친회가 창립되었다.
- ③ 경사 대학당이 설립되었다.
- ④ 대한민국 임시 정부가 수립되었다.
- ⑤ 청·일 전쟁의 강화 조약이 체결되었다.

14. (가) 왕조에 대한 설명으로 옳은 것은?

나 오삼계가 천하 사람들에게 알리노라. 이자성의 난으로 혼란한 틈을 타 (가) 이가 베이징을 점령하였다. 나는 이자성을 몰아내기 위해 저들을 끌어들이는 것을 후회한다. 지금 (가) 의 군주는 무도하고 신하들은 어리석어 가혹한 정치에 시달리는 백성의 원망이 하늘을 찌른다. 이제 폭정을 벌하고자 군사를 일으키니 뜻있는 자들은 우리와 함께하라!

- ① 남송을 멸망시켰다.
- ② 천계령을 시행하였다.
- ③ 별무반을 조직하였다.
- ④ 정화의 함대를 파견하였다.
- ⑤ 좌현왕과 우현왕을 두었다.

15. 밑줄 친 '이 전쟁'에 대한 설명으로 옳은 것은?

**[우표로 보는 동아시아사]**



이 우표는 파리 평화 협정 체결 50주년을 기념하여 발행되었다. 통킹만 사건을 빌미로 이 전쟁에 본격적으로 개입했던 미국은 반전 운동과 재정 부담 등으로 인해 전쟁을 지속하기 어려워지자 철군 방침을 정하였다. 이후 미국은 파리 평화 협정을 체결하고 군대 철수에 합의하였다.


- ① 한국군이 참전하였다.
- ② 만주국이 수립되는 배경이 되었다.
- ③ 미드웨이 해전으로 전세가 역전되었다.
- ④ 신헌법(평화 헌법)의 제정에 영향을 주었다.
- ⑤ 중국 국민당 정부가 타이완으로 이동하는 계기가 되었다.

# 4 (동아시아사)

# 사회탐구 영역

16. 밑줄 친 ‘이 회의’에 대한 설명으로 옳은 것은? [3점]

사진은 미국의 국무 장관이 이 회의에서 결정된 각종 조약에 서명하는 장면입니다. 이 회의에서는 영·일 동맹의 폐기가 합의되었고, 열강의 해군 군비 축소가 논의되어 영국, 미국, 일본의 주력함 보유 비율이 5:5:3으로 정해졌습니다.



- ① 일본의 주권 회복을 명시하였다.
- ② 5·4 운동 발생에 영향을 주었다.
- ③ 산둥반도의 이권이 중국에 반환되는 결과를 가져왔다.
- ④ 베트남의 통일 정부 수립을 위한 총선거 실시가 합의되었다.
- ⑤ 일본이 북위 50도 이남의 사할린섬을 차지하는 계기가 되었다.

17. 다음 자료를 활용한 탐구 활동으로 가장 적절한 것은?

○ 일본군이 루거우차오 부근에 있는 완핑현성을 포위 공격하자 중국군이 맞대응하였다. 이어서 중국 외교부는 일본 대사관에 항의 서한을 제출하였다.

○ 난징이 함락되었지만, 장제스의 국민당 정부는 수도를 충칭으로 옮기고 장기전을 계획하였다. 이를 위해 국경을 통하여 많은 무기를 들여와 곳곳에 방어진을 구축하였다.

- ① 홍위병의 활동을 조사한다.
- ② 신문화 운동의 배경을 알아본다.
- ③ 6월 민주 항쟁의 결과를 파악한다.
- ④ 애치슨 라인 발표의 영향을 찾아본다.
- ⑤ 중·일 전쟁의 전개 과정을 정리한다.

18. 밑줄 친 ‘이 혁명’이 일어난 시기를 연표에서 옳게 고른 것은? [3점]

자료는 우창 봉기 35주년을 기념하여 제작된 배지입니다. 우창에서 신군이 봉기하며 시작된 이 혁명은 여러 성의 호응을 받으며 각지로 확산되었고, 그 결과 공화정체의 중화민국이 수립되었습니다.

(가)	(나)	(다)	(라)	(마)
-----	-----	-----	-----	-----

청·일 수호 조규 체결    동학 농민 운동    흥정 헌법 대강 반포    파리 강화 회의 개최    조선 의용대 창설    태평양 전쟁 발발

- ① (가)    ② (나)    ③ (다)    ④ (라)    ⑤ (마)

19. 밑줄 친 ‘이 운동’에 대한 설명으로 옳은 것은?



이 그림은 금릉 기기국에서 서양식 총기를 시험하는 장면을 묘사한 것이다. 태평천국 운동을 진압하면서 서양식 무기의 우수성을 실감한 이홍장은 이 운동을 주도하며 군수 공장인 금릉 기기국과 강남 제조 총국을 설립하였다.

- ① 청 왕조 타도를 내세웠다.
- ② 중체서용을 바탕으로 추진되었다.
- ③ 입헌 군주제의 수립을 지향하였다.
- ④ 월슨이 제기한 민족 자결주의의 영향을 받았다.
- ⑤ 일본을 비롯한 8개국 연합군에 의해 진압되었다.

20. (가), (나) 시기 사이에 있었던 사실로 옳은 것은? [3점]

(가) 닉슨 대통령이 오랫동안 얼어붙었던 미국과 중국의 관계를 정상화하기 위해 중국을 방문하였다. 베이징 공항에 도착한 닉슨 대통령은 먼저 저우언라이 수상과 악수하였고, 양국의 국가가 연주되는 가운데 의장대를 사열하였다.

(나) 한국과 중국이 항구적인 우호 협력 관계를 발전시켜 나가기로 합의하였다. 한국의 외무 장관과 중국의 외교 부장은 베이징의 영빈관에서 상호 정부 승인, 외교 관계 수립 등 6개 항을 담은 공동 성명문에 서명하였다.

- ① 카이로 선언이 발표되었다.
- ② 한·일 기본 조약이 체결되었다.
- ③ 타이완이 일본과 국교를 회복하였다.
- ④ 베트남에서 도이머이 정책이 추진되었다.
- ⑤ 극동 국제 군사 재판(도쿄 재판)이 개최되었다.

※ 확인 사항

○ 답안지의 해당란에 필요한 내용을 정확히 기입(표기)했는지 확인하십시오.