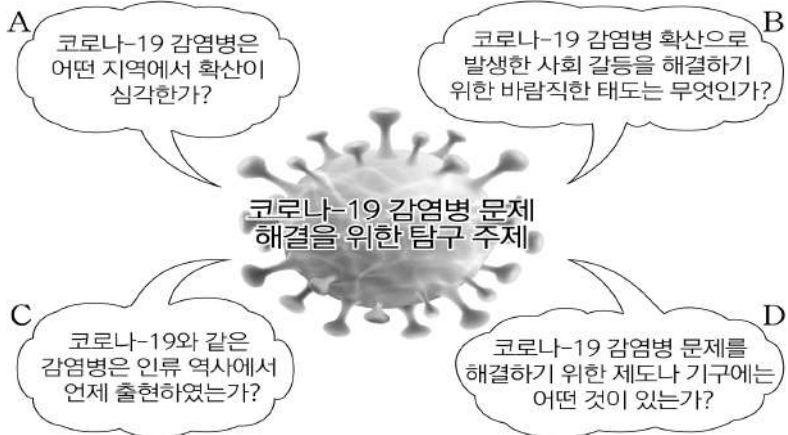


제 4 교시

탐구 영역 (통합사회)

성명		수험번호					1		
----	--	------	--	--	--	--	---	--	--

1. 그림의 A~D에 대한 옳은 설명만을 <보기>에서 고른 것은?



<보 기>

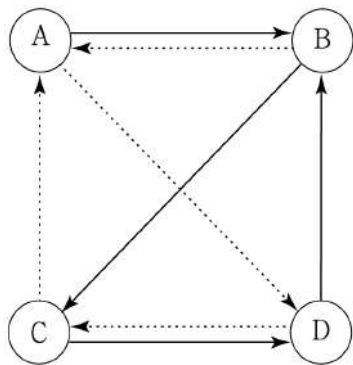
- ㄱ. A는 감염병 확산의 시대적 배경과 맥락에 초점을 두고 있다.
- ㄴ. B는 공간의 변화가 감염병에 미치는 영향을 모색하고자 한다.
- ㄷ. C는 시간적 관점에서 감염병에 대해 살펴보고자 한다.
- ㄹ. B는 윤리적 관점, D는 사회적 관점에서 접근하고 있다.

- ① ㄱ, ㄴ ② ㄱ, ㄷ ③ ㄴ, ㄷ ④ ㄴ, ㄹ ⑤ ㄷ, ㄹ

2. 다음은 행복 실현의 조건에 관한 게임 규칙을 설명한 것이다. 게임 규칙에 따라 이동하게 될 경로로 옳은 것은?

[게임 규칙]

- 출발 지점은 A이다.
- 진술 (가)→(나)→(다)→(라)의 순서대로 진행한다.
- 진술이 행복 실현의 조건에 부합하면 실선 방향으로 한 지점만, 부합하지 않으면 점선 방향으로 한 지점만 이동한다.



순서	진술
(가)	삶의 질을 유지할 수 있는 경제적 안정이 보장되어야 한다.
(나)	시민 참여가 활성화될 수 있는 민주적 제도를 마련해야 한다.
(다)	인간다운 삶을 보장하는 질 높은 정주 환경을 조성해야 한다.
(라)	바람직한 삶에 대한 성찰을 토대로 도덕적 가치를 실천해야 한다.

- ① A-B-C-D-B ② A-B-C-D-C
 ③ A-D-B-C-A ④ A-D-C-A-D
 ⑤ A-D-C-D-B

3. (가)의 관점에서 <사례>의 A에게 제시할 조언으로 가장 적절한 것은?

(가) 만족할 줄 알면 수치를 겪지 않으며, 그칠 줄 알면 위태롭지 않을 터인즉, 오랫동안 안전할 수 있다. 만족을 모르는 것보다 더 큰 재앙은 없고, 탐욕을 부리는 것보다 더 큰 허물은 없다. 따라서 만족을 아는 만족이 영원한 만족이다.

<사례>

A의 옷장 안에는 옷들이 가득하다. 그럼에도 A는 쇼핑을 계속 한다. 음식도 그렇다. 냉장고에는 음식들이 가득하지만, 계속 새로운 음식을 주문한다. 이미 갖고 있는 것들은 좀처럼 마음에 들지 않아 늘 불만족스러운 상태이다.

- ① 모든 욕망을 제거하고 세속적인 삶과 단절해야 해요.
- ② 과도한 욕심을 버리고 주어진 것에 만족할 줄 알아야 해요.
- ③ 욕구불만인 상태를 유지하는 것이 행복임을 깨달아야 해요.
- ④ 현재의 삶에 만족하기만 하는 사람은 발전이 없음을 알아야 해요.
- ⑤ 육체적 쾌락 충족을 위한 소비가 진정한 소비임을 깨달아야 해요.

4. 다음은 프랑스 인권 선언의 일부이다. 이에 대한 옳은 분석만을 <보기>에서 있는 대로 고른 것은? [3점]

제1조 인간은 태어나면서부터 자유로우며 평등한 권리를 가진다.
 제2조 모든 정치적 결사의 목적은 그 무엇도 침해할 수 없는 인간의 자연권을 보전하는데 있다. 그 권리는 자유, 재산, 안전 및 압제에 대한 저항이다.
 제3조 모든 주권의 원천은 본래 국민에게 있다. 어떤 개인이나 단체라 하더라도 국민에게서 나오지 않은 권위를 행사할 수 없다.
 제16조 법의 준수가 보장되지 않거나, 권력 분립이 확정되지 않은 사회는 결코 헌법을 갖추었다고 할 수 없다.

<보 기>

- ㄱ. 국민 주권 사상이 반영되어 있다.
- ㄴ. 권력 분립을 전제로 한 입헌주의가 나타나 있다.
- ㄷ. 환경권과 같은 사회권 중심의 인권이 강조되어 있다.
- ㄹ. 시민의 자유, 평등에 관한 기본적인 권리가 명시되어 있다.

- ① ㄱ, ㄴ ② ㄱ, ㄷ ③ ㄷ, ㄹ
 ④ ㄱ, ㄴ, ㄹ ⑤ ㄴ, ㄷ, ㄹ

5. 다음 사례에 대한 옳은 설명만을 <보기>에서 고른 것은? [3점]

중학교를 졸업한 A(16세)는 1개월 동안 ○○ 편의점에서 상품 판매를 업무로, 편의점 사장 B와 근로 계약을 체결하였다. A는 주 5일(월~금) 근무하기로 하였으며, 다음은 주요 계약 내용 중 일부이다.

1. 임금: 시간당 10,000원
 2. 근로 시간: 9시~16시(휴게 시간: 12시~13시)
 * 법정 최저 임금은 시간당 8,720원이다.

<보 기>

ㄱ. A는 독자적으로 임금을 청구할 수 있다.
 ㄴ. A의 연장 근로는 어떤 경우에도 허용되지 않는다.
 ㄷ. A의 계약에는 친권자 또는 후견인의 동의가 필요하다.
 ㄹ. A가 계약대로 근무할 경우 1일 임금은 70,000원이다.

- ① ㄱ, ㄴ ② ㄱ, ㄷ ③ ㄴ, ㄷ ④ ㄴ, ㄹ ⑤ ㄷ, ㄹ

6. 다음 글에서 강조하고 있는 행복의 의미로 가장 적절한 것은?

국내 태양광 스타트업이 개발한 휴대용 배터리가 전기 보급이 충분하지 않은 아프리카 지역에 도움을 주고 있어 화제다. 배터리 보급 이전에는 아이들이 학교에 가지 못하고 전기를 얻기 위해 일을 해야 했지만, 배터리가 보급되면서 아이들은 학교에 갈 수 있게 되었다. 이 스타트업 대표는 “배터리가 소외된 아프리카 지역 아이들에게 교육의 기회를 줄 수 있어 행복하다. 어린 시절에 나의 발명품으로 세상에 기여하는 일을 상상하였는데, 상상하던 일을 실현할 수 있게 되어서 기쁘다.”라며 웃었다.

- ① 행복과 꿈의 실현 여부는 무관하다.
 ② 행복한 삶과 상상력의 크기는 반비례한다.
 ③ 물질적 조건만 충족되면 행복한 삶은 실현된다.
 ④ 행복한 삶을 위한 조건으로 발명은 반드시 필요하다.
 ⑤ 어려운 처지에 있는 타인을 도움으로써 행복해질 수 있다.

7. 다음은 통합사회 형성평가 문항지이다. 학생이 받을 점수로 옳은 것은? [3점]

1학년 □반 이름: □□□

[문제] 시민 불복종의 정당화 조건에 관한 설명이 맞으면 O에, 틀리면 X에 √ 표시하십시오. (맞은 항목 당 1점 부여)

시민 불복종의 정당화 조건	O	X
위법 행위에 대한 처벌을 감수해야 한다.	√	
비폭력적인 방법을 통해서 이루어져야 한다.	√	
공익을 위하여 비공개적으로 이루어져야 한다.	√	
사회 정의 실현을 목표로 하는 행위이어야 한다.	√	
다른 방법으로는 해결할 수 없는 최후의 수단이어야 한다.		√

- ① 1점 ② 2점 ③ 3점 ④ 4점 ⑤ 5점

8. A에 해당하는 기본권의 특징에 대한 질문에 모두 옳게 응답한 학생은? [3점]

한 장애인 단체가 국가인권위원회에 진정을 냈다. 이 단체는 “선거관리위원회는 사전투표소 대부분이 1층에 설치돼 투표소 접근이 가능하다고 했지만, 발달장애인의 투표를 돕는 투표보조인이 기표소에 들어가지 못하게 제지당하는 등 장애인의 침해 사례가 여전했다.”고 주장했다.

질문	학생	갑	을	병	정	무
핵심적이고 포괄적인 권리인가?		○	○	×	×	×
국가 권력의 간섭을 받지 않을 방어적 권리인가?		×	○	○	×	×
국가의 의사 결정 과정에 참여할 수 있는 권리인가?		○	×	○	×	○
다른 기본권을 보장하기 위한 수단적 성격의 권리인가?		×	○	○	○	×

(○: 예, X: 아니요)

- ① 갑 ② 을 ③ 병 ④ 정 ⑤ 무

9. 표에 대한 설명으로 옳은 것은? (단, A, B는 각각 수정 자본주의, 신자유주의 중 하나이다.) [3점]

질문	A	B
대공황을 배경으로 등장하였나?	예	아니요
정부의 적극적 시장 개입을 옹호하는가?	예	㉠
(가)	아니요	예

- ① A는 작은 정부를 지향한다.
 ② B는 공기업의 민영화를 지지한다.
 ③ B는 자원 배분에 있어서 효율성보다 형평성을 추구한다.
 ④ ㉠에는 ‘예’가 적절하다.
 ⑤ (가)에는 ‘사유 재산 제도를 인정하는가?’가 적절하다.


10. (가)와 비교한 (나)의 상대적인 특징을 그림의 ㉠~㉤에서 고른 것은? (단, (가), (나)는 각각 산업 사회, 정보 사회 중 하나이다.)

(가)에서는 분업과 전문화를 통한 소품종 대량 생산이 주로 나타난다. (나)에서는 지식과 정보가 중요한 자원이 되며, 가상공간을 활용한 쌍방향 통신 매체가 활용된다.

- ① ㉠ ② ㉡ ③ ㉢ ④ ㉣ ⑤ ㉤

11. 다음은 학생이 작성한 학습 카드의 일부이다. (가)에 들어갈 내용으로 옳은 것은?

1. ○○지역의 전통 생활



- 가옥 명: 게르
- 가옥 재료: 동물의 가죽, 나무
- 주민 생활: _____ (가)

- ① 쌀로 만든 밥과 국수를 주식으로 이용
- ② 나무를 베어 주로 목재나 종이를 생산
- ③ 물과 풀을 찾아 가축과 함께 이동하는 유목 생활
- ④ 포도, 오렌지, 올리브 등을 재배하는 수목 농업 발달
- ⑤ 숲을 태워 카사바 등을 재배하는 이동식 화전 농업 생활

12. 다음 글에 나타난 자연관에 대한 옳은 설명만을 <보기>에서 고른 것은?

바람직한 대지 이용을 오직 경제적 문제로만 생각하지 말라. 윤리적·심미적으로 무엇이 옳은가의 관점에서 검토하라. 생명 공동체의 온전성과 안정성 그리고 아름다움의 보전에 기여하는 대지 이용이라면 그것은 옳다. 그렇지 않다면 그르다.

<보 기>

- ㄱ. 자연은 내재적 가치를 지니고 있다고 본다.
- ㄴ. 자연과 인간을 구분하는 이분법적 세계관을 중시한다.
- ㄷ. 생태계 전체를 하나의 유기체로 보아야 함을 강조한다.
- ㄹ. 자연을 인간의 풍요로운 삶과 이익을 위한 도구로만 본다.

- ① ㄱ, ㄴ ② ㄱ, ㄷ ③ ㄴ, ㄷ ④ ㄴ, ㄹ ⑤ ㄷ, ㄹ

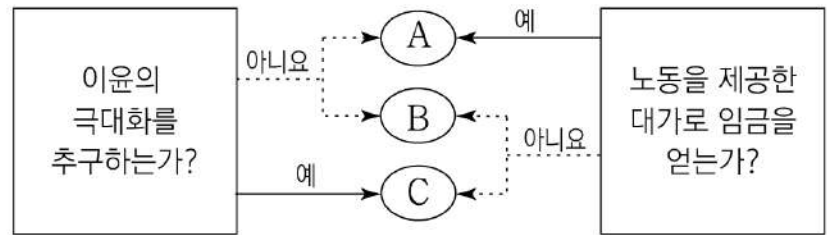
13. (가), (나)에 나타난 정보 사회의 문제에 대한 설명으로 가장 적절한 것은? [3점]

(가) 은행원 갑은 금융 상품을 소개하는 이메일을 다수에게 발송하였다. 그런데 해당 메일에 특정 고객들의 이름, 전화번호 등이 포함된 파일이 첨부되어 금융 범죄에 악용되었다.

(나) 평소 디지털 기기 활용에 익숙하지 않은 노인 을은 식사를 하기 위해 대형마트 내 식당을 방문하였다. 그런데 판매 직원은 없고, 사용 방법을 모르는 무인단말기만 있어서 음식을 주문하지 못하였다.

- ① (가)는 정보 기기 중독 예방 정책의 필요성을 보여준다.
- ② (가)는 상품에 대한 허위·과장 홍보의 문제점을 나타낸다.
- ③ (나)는 정보 소외 계층을 위한 교육의 필요성을 보여준다.
- ④ (나)는 (가)와 달리 개인 정보 유출 문제에 해당한다.
- ⑤ (가), (나) 모두 익명성을 바탕으로 한 사이버 범죄에 해당한다.

14. 경제 주체 A~C에 대한 옳은 설명만을 <보기>에서 고른 것은? (단, A~C는 각각 가계, 기업, 정부 중 하나이다.) [3점]

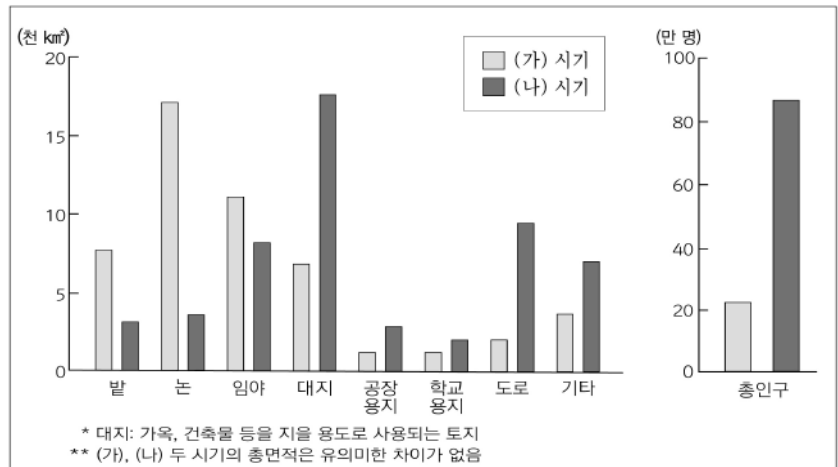


<보 기>

- ㄱ. A는 소비를 통해 효용을 얻고자 한다.
- ㄴ. B는 공공 서비스를 제공한다.
- ㄷ. C는 생산 요소의 공급자이다.
- ㄹ. A와 B는 C에게 조세를 납부한다.

- ① ㄱ, ㄴ ② ㄱ, ㄷ ③ ㄴ, ㄷ ④ ㄴ, ㄹ ⑤ ㄷ, ㄹ

15. 자료는 ○○시의 용도별 토지 이용과 총인구를 나타낸 것이다. (가) 시기와 비교한 (나) 시기의 상대적 특징으로 옳지 않은 것은? [3점]



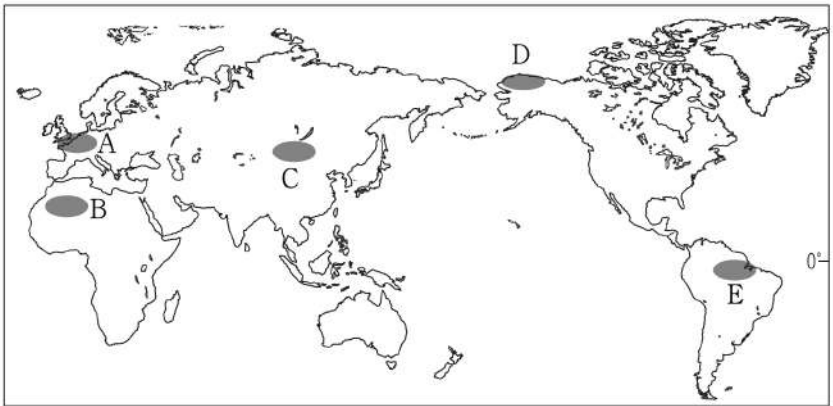
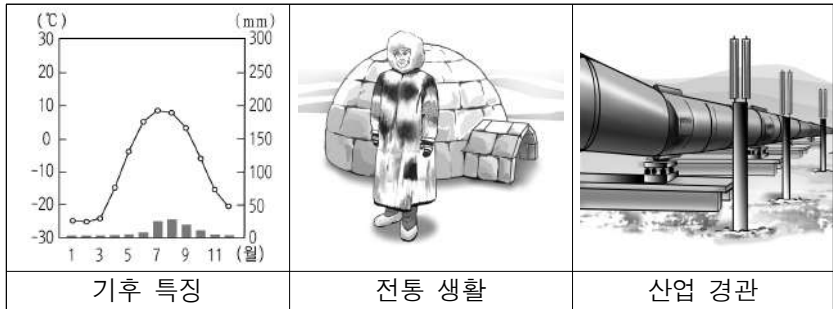
- ① 지표의 포장 면적이 넓다.
- ② 토지 이용 집약도가 높다.
- ③ 지역 내 인구 밀도가 높다.
- ④ 도로 교통에 의한 접근성이 높다.
- ⑤ 농업적 토지 이용의 비중이 크다.

16. (가)에 해당하는 환경 문제가 지속될 경우 예상되는 현상으로 가장 적절한 것은?

유엔 기후 변화 회의에서 채택된 '파리 협정'은 기후 변화에 대처하기 위한 조약이다. 이 조약은 산업화 이전과 비교하여 지구 평균 기온 상승 폭을 1.5°C로 제한하기 위한 노력을 함으로써 (가)로 인한 기후 변화에 대응하고자 한다. 이를 위해 각 국가들은 온실가스 감축 목표를 설정하고 실천해야 한다. 국제 사회는 목표 달성을 위한 각종 수단을 지원하고, 국가별 온실가스 감축 상황을 정기적으로 점검한다.

- ① 냉대림의 분포 범위가 축소될 것이다.
- ② 열대성 질병의 발병률이 감소할 것이다.
- ③ 고산 지대의 만년설 면적이 증가할 것이다.
- ④ 호수 및 하천의 결빙 일수가 증가할 것이다.
- ⑤ 해안 저지대의 침수 가능성이 낮아질 것이다.

17. 자료는 어느 지역의 지리 정보이다. 이에 해당하는 지역을 지도의 A~E에서 고른 것은?



- ① A ② B ③ C ④ D ⑤ E

18. 다음은 지역 조사 단계에 따른 모둠 활동 일지이다. ㉠~㉤에 대한 설명으로 옳지 않은 것은? [3점]

[○○모둠 지역 조사 활동 일지]

○월 10일: 모둠 회의를 통해 ㉠ '□□시 지역 변화에 따른 산업 시설 활용 방안'을 조사하기로 결정하고, 공장과 같은 산업 시설의 이전이 많은 △△지역을 조사 장소로 선정함.

○월 15일: 계획에 따라 ㉡ □□시청에 방문하여 과거 산업 시설의 분포를 알 수 있는 지도와 통계 자료를 조사함.

○월 20일: 산업시설 이전으로 인한 지역 변화를 알아보기 위해 ㉢ 야외 조사를 준비함.

○월 25일: ㉣ △△지역에 직접 방문하여 주민들에게 산업 시설의 활용 방안을 묻는 설문 조사를 실시함.

○월 30일: 각 조사 과정에서 ㉤ 수집된 자료를 분석하고 정리한 내용을 종합하여 지역 조사 보고서를 완성함.

- ① ㉠은 조사 주제에 해당한다.
 ② ㉡은 실내 조사 활동에 해당한다.
 ③ ㉢에서는 사진 촬영, 면담 등을 실시할 수 있다.
 ④ ㉣을 위한 설문 문항 제작은 ㉢ 이후에 실시한다.
 ⑤ ㉤에서는 수집된 자료를 이용해 도표, 그래프, 통계 지도 등을 작성할 수 있다.

19. 자료에 대한 옳은 분석만을 <보기>에서 고른 것은? [3점]

합리적 소비자인 갑은 실내화를 구입하려 한다. 실내화는 A, B, C 세 가지 종류가 있다. 표는 갑이 세 가지 실내화에 대해 화폐 단위로 평가한 결과를 나타낸다.

(단위: 원)

실내화 종류	가격	편익
A	20,000	56,000
B	25,000	50,000
C	18,000	60,000

— <보 기> —

ㄱ. A는 B보다 명시적 비용이 크다.
 ㄴ. B가 C보다 선택에 따른 기회비용이 작다.
 ㄷ. C를 선택하는 것이 합리적이다.
 ㄹ. A~C의 편익이 50%씩 감소해도 갑의 선택은 같다.

- ① ㄱ, ㄴ ② ㄱ, ㄷ ③ ㄴ, ㄷ ④ ㄴ, ㄹ ⑤ ㄷ, ㄹ

20. 자료는 자연 재해를 유형에 따라 구분한 것이다. 이에 대한 옳은 설명만을 <보기>에서 있는 대로 고른 것은? (단, (가), (나)는 각각 지진, 태풍 중 하나이다.)

재해 유형	종류	재해 발생 시 행동 요령
A	화산 폭발	• 화산재를 대비해 문틈과 환기구, 창문을 막아둔다. • 실외에 있을 경우 건물 안으로 신속히 대피한다.
	(가)	• 진동이 멈추면 가스와 전기를 끄고 밖으로 이동한다. • 낙하물이 없는 넓은 공간으로 대피한다.
기후 요인	(나)	• 유리문, 간판 등 강풍에 날아갈 시설물은 고정시킨다. • 예상 경로와 도달 시간을 파악하고 시설물 안전을 정비한다.
	대설	• 노후가옥, 비닐하우스 등은 쌓인 눈으로 무너지지 않도록 대처한다. • 자동차로 외출 시 체인이나 염화칼슘 등을 휴대한다.

— <보 기> —

ㄱ. A는 지형 요인이다.
 ㄴ. (가)로 인한 시설물 피해는 내진 설계를 통해 줄일 수 있다.
 ㄷ. (나)는 우리나라에서 주로 겨울에 발생한다.
 ㄹ. (나)는 저위도의 열대 해상에서 발생한 저기압이다.

- ① ㄱ, ㄴ ② ㄱ, ㄷ ③ ㄷ, ㄹ
 ④ ㄱ, ㄴ, ㄹ ⑤ ㄴ, ㄷ, ㄹ

* 확인 사항
 ○ 답안지의 해당란에 필요한 내용을 정확히 기입(표기)했는지 확인 하시오.