

제 4 교시

사회탐구 영역(사회·문화)

성명 수험 번호 - 제 [] 선택

1. 밑줄 친 ㉠~㉣과 같은 현상의 일반적인 특징에 대한 설명으로 옳은 것은?

최근 ㉠ 일부 약제의 부작용이 남성에 비해 여성에게 더 많이 발생한다는 연구가 보고되었다. 이 연구에 따르면, ㉡ 약의 효능에 영향을 주는 특정 단백질이 여성에게 부족한 것이 원인이라고 한다. 이에 대해 관련 분야의 일부 전문가들은 신약 개발 과정에서 ㉢ 남녀 신체의 생물학적 차이를 무시하고, 관행적으로 ㉣ 남성의 신체를 연구의 표준으로 간주하여 임상 실험을 해 온 것이 문제라고 지적하고 있다.

- ① ㉠과 같은 현상은 ㉡과 같은 현상과 달리 불가치적이다.
- ② ㉡과 같은 현상은 ㉢과 같은 현상과 달리 특수성이 나타난다.
- ③ ㉢과 같은 현상은 ㉣과 같은 현상과 달리 인과 관계가 명확하다.
- ④ ㉠, ㉡과 같은 현상은 ㉢, ㉣과 같은 현상과 달리 확실성의 원리가 적용된다.
- ⑤ ㉡, ㉢과 같은 현상은 ㉠, ㉣과 같은 현상과 달리 존재 법칙의 지배를 받는다.

2. 밑줄 친 ㉠~㉣에 대한 옳은 설명만을 <보기>에서 고른 것은? [3점]

갑은 반려견 양육 경험이 반려견을 양육하는 사람의 주관적 행복감에 미치는 영향을 파악하기 위해 ㉠ 가설을 설정하고 연구를 진행하였다. 갑은 반려견을 양육하고 있는 성인 500명을 대상으로 구조화된 질문지를 활용해 반려견을 키운 기간, 반려견과 같이 보내는 시간을 조사하고, ㉡ 우울감 정도, 생활 만족도는 5점 척도로 조사하였다. 갑은 수집한 ㉢ 자료를 통계 프로그램으로 분석하여 결론을 도출하였다.

한편, 을은 현대인이 반려견 양육에 부여하는 의미를 심층적으로 파악하고자 하였다. 이를 위해 을은 반려견 양육 경험이 없는 사람들을 ㉣ A 집단, 반려견 양육 경험이 있는 사람들을 ㉤ B 집단으로 각각 10명씩 구분하였다. A 집단에는 반려견을 키우지 않는 이유, 반려견 양육 의향 등에 대해, B 집단에는 ㉥ 반려견 양육 동기, 반려견에게 느끼는 감정 등에 대해 직접 물어보면서 연구 대상자의 답변을 녹취하였다. 을은 수집한 ㉦ 자료를 해석하여 결론을 도출하였다.

<보 기>

- ㉠. ㉠에서 독립 변수는 '반려견 양육 경험의 유무'이다.
- ㉡. ㉡은 ㉢과 달리 해당 연구에서 종속 변수에 대한 조작적 정의에 해당한다.
- ㉢. ㉢과 ㉣은 모두 해당 연구자가 언어적 상호 작용이 필수적인 자료 수집 방법을 활용해 얻은 1차 자료이다.
- ㉣. ㉣은 통제 집단, ㉤은 실험 집단이다.

- ① ㉠, ㉡ ② ㉠, ㉢ ③ ㉡, ㉢ ④ ㉡, ㉣ ⑤ ㉢, ㉣

3. A~C에 대한 설명으로 옳은 것은? (단, A~C는 각각 주류 문화, 하위문화, 반문화 중 하나임.)

'A는 한 사회의 구성원 대다수가 공유하는 문화이다.'라는 진술은 거짓이다. '한 사회에서 특정 지역의 문화는 C에 해당한다.'라는 진술은 참이다. 'A와 C의 총합으로 B를 설명할 수 없다.'라는 진술은 참이다.

- ① 모든 A는 C에 해당한다.
- ② B는 한 사회 내에서 A와 양립할 수 없다.
- ③ C는 A와 달리 주류 집단에게 일탈로 규정되기도 한다.
- ④ B는 C와 달리 사회 변화에 따라 A가 되기도 한다.
- ⑤ A는 B, C와 달리 사회 전체의 동질성을 높이는 데 기여한다.

4. 다음 자료에 대한 옳은 설명만을 <보기>에서 고른 것은? [3점]

웹(Web) 소설 다음 회 예고

A 회사 회계 팀 직원 갑은 오늘도 회사 복지 팀으로부터 호출을 받았다. 회사는 사원들의 사내 동호회 결성과 참여를 장려하고 있는데, 갑은 회사 생활을 하면서 다른 직원들과의 갈등으로 마음고생을 한 경험이 있어 모든 사내 동호회 가입을 거부하고 있기 때문이다.

A 회사 복지 팀 팀장 을은 회사 내 같은 노동조합에서 활동하고 있는 갑 때문에 신경이 쓰인다. 을은 갑의 사정을 알면서도 사내 동호회 가입을 권유하는 것은 동료 직원으로서 해서는 안 된다고 생각한다. 하지만 직원들의 사내 동호회 참여율을 높이라는 경영진의 지시가 있어 갑에게 자신이 활동 중인 회사 내 사내 동호회라도 가입하라고 해야 할지 고민이다.

<보 기>

- ㉠. 갑의 역할 갈등과 을의 역할 갈등이 나타나 있다.
- ㉡. 갑과 을이 모두 소속된 자발적 결사체 1개가 나타나 있다.
- ㉢. 갑과 을이 모두 소속된 공식적 사회화 기관이 나타나 있다.
- ㉣. 갑이 소속된 공식 조직과 을이 소속된 비공식 조직이 나타나 있다.

- ① ㉠, ㉡ ② ㉠, ㉢ ③ ㉡, ㉢ ④ ㉡, ㉣ ⑤ ㉢, ㉣

5. 사회 변동 이론 (가), (나)에 대한 설명으로 옳은 것은? (단, (가), (나)는 각각 진화론, 순환론 중 하나임.)

(가) 거대한 재난으로 사회 전반이 파멸되면 인구가 급감하지만, 살아남은 이들이 아이를 낳으며 사회적 재생이 시작된다. 그러나 또다시 일어나는 재난은 또 다른 파국을 야기한다.

(나) 생태계에서 개체들이 생존을 위해 환경에 적응하듯, 인간 사회도 생존을 위해 보다 고도화된 방향으로 나아간다. 결국 사회는 단계적 성장을 통해 이전보다 나은 형태로 변화한다.

- ① (가)는 서구 중심의 사고라는 비판을 받는다.
- ② (나)는 사회 변동을 사회 발전과 동일시한다.
- ③ (가)는 (나)와 달리 미래의 사회 변동에 대한 역동적 대응이 용이하다.
- ④ (나)는 (가)와 달리 운명론적 관점에서 사회 변동을 설명한다.
- ⑤ (가)는 단기적 사회 변동을, (나)는 장기적 사회 변동을 설명하기에 유용하다.

2 (사회·문화)

사회탐구 영역

6. 일탈 이론 (가)~(다)에 대한 설명으로 옳은 것은? (단, (가)~(다)는 각각 뒤르켐의 아노미 이론, 차별 교제 이론, 낙인 이론 중 하나임.) [3점]

(가) 사람마다 사회 규범을 내면화하는 과정은 일률적이지 않아 일탈에 대한 반응도 상이하다. 특히 일탈을 정당화하는 태도를 가진 사람들과 지속적으로 어울리면, 일탈에 대한 우호적 태도를 내면화하여 일탈자가 될 수 있다.
 (나) 사회 변동이 빠르게 진행되면서 전통 규범은 붕괴된다. 이를 대체할 수 있는 규범이 없는 상황에서 사람들은 삶의 목적과 방향을 상실하여 일탈을 할 가능성이 높아진다.
 (다) 일탈이 사회적 통제를 야기하는 것이 아니라 사회적 통제가 일탈을 야기한다. 일탈은 행위 자체가 아닌 행위자를 둘러싼 사회적 반응과 인식에 의해 결정된다.

- ① (가)는 타인과의 상호 작용을 통해 일탈이 학습된다고 본다.
 ② (나)는 일탈자의 부정적 자아가 형성되는 과정에 주목한다.
 ③ (다)는 일탈에 대한 대책으로 새로운 사회 규범의 정립을 제시한다.
 ④ (가)는 (나)와 달리 차별적 제재를 일탈의 원인으로 본다.
 ⑤ (다)는 (가)와 달리 일탈에 대한 대책으로 정상 집단과의 교류 촉진을 제시한다.

7. 다음 글에 나타난 개인과 사회의 관계를 바라보는 관점에 대한 옳은 설명만을 <보기>에서 고른 것은? [3점]

한 사회의 개인들은 활발하게 상호 작용을 한다. 상호 작용의 상당 부분은 언어적 상징을 기반으로 이루어진다. 언어적 상징을 통한 상호 작용은 이미 부여된 규칙에 따라 이루어지며, 이러한 규칙은 일종의 무의식적 문화 체계로 작동한다. 결국 인간은 언어적 상징이라는 감옥에 갇힌 죄수인 셈이다.

<보 기>

ㄱ. 개인은 사회에 의해 구조화된 행동을 한다고 본다.
 ㄴ. 사회는 개인의 외부에서 독자적으로 작동한다고 본다.
 ㄷ. 개인의 자율적 의지에 의해 사회 현상이 형성된다고 본다.
 ㄹ. 사회는 개인의 이익 실현을 위한 수단에 불과하다고 본다.

- ① ㄱ, ㄴ ② ㄱ, ㄷ ③ ㄴ, ㄷ ④ ㄴ, ㄹ ⑤ ㄷ, ㄹ

8. 갑, 을의 연구에 대한 설명으로 가장 적절한 것은?

갑은 '온라인 수업에 나타난 교사와 학생 간 상호 작용'을 주제로 연구를 수행하기 위해 수도권 소재 3개 초등학교의 교사와 학생들을 연구 대상으로 선정하였다. 갑은 수업 담당 교사의 동의를 얻어, 학생들이 눈치채지 못하도록 온라인 수업에 접속하여 수업 장면을 관찰하였다.

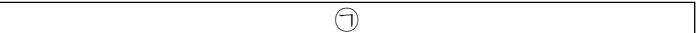
을은 '고등학생의 학생 자치활동 참여 경험과 시민 의식 간의 관계'를 주제로 연구를 수행하기 위해 ○○고등학교장의 추천을 받은 남녀 학생 300명을 대상으로 설문 조사를 하였다. 이후 을은 연구 대상자의 실명이 포함된 응답 자료를 유사 연구에 착수한 동료 학자에게 제공하였다.

- ① 갑은 수집된 자료를 임의로 조작하였다.
 ② 을은 연구 대상자의 개인 정보를 유출하였다.
 ③ 갑은 을과 달리 연구 자료를 연구 이외의 목적으로 사용하였다.
 ④ 을은 갑과 달리 연구 대상자의 사전 동의를 얻지 않고 자료를 수집하였다.
 ⑤ 갑과 을의 연구는 모두 표본의 대표성을 확보하였다.

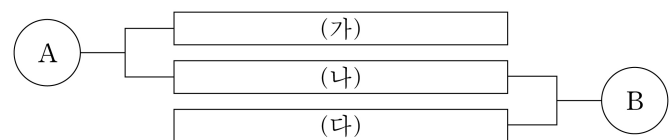
9. 다음 자료에 대한 설명으로 옳은 것은? (단, A, B는 각각 절대적 빈곤, 상대적 빈곤 중 하나임.)

자료는 빈곤의 유형 A, B를 구분한 것이다. <자료 1>은 A, B의 의미를 나타낸 것이고, <자료 2>는 A, B의 특징을 연결하여 공통점과 차이점을 나타낸 것이다.

<자료 1>

- A: 
 ○ B: 한 사회에서 구성원들이 일반적으로 누리는 생활 수준에 필요한 소득이 부족한 상태

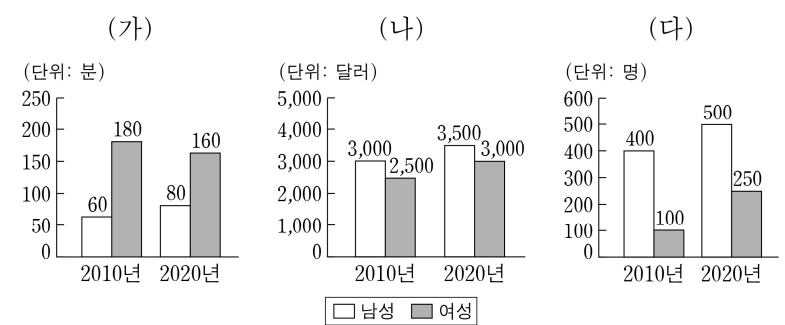
<자료 2>



- ① A에 속하지 않는 가구는 B에 속할 수 없다.
 ② ㉠에는 '개인이 주관적으로 빈곤하다고 인식하는 상태'가 들어갈 수 있다.
 ③ (가)에는 '소득 수준이 높은 국가에서도 나타날 수 있다.'가 들어갈 수 있다.
 ④ (나)에는 '우리나라에서는 객관화된 기준에 의해 규정된다.'가 들어갈 수 있다.
 ⑤ (다)에는 '상대적 박탈감을 유발할 수 있다.'가 들어갈 수 있다.

10. 다음 자료에 대한 분석 및 추론으로 옳은 것은? [3점]

그림은 갑국의 성 불평등 양상을 파악하기 위해 수집한 자료이다. (가)는 맞벌이 부부의 1일 평균 가사 노동 시간을, (나)는 정규직 월평균 임금을, (다)는 고위 공직자 수를 성별에 따라 나타낸 것이다.



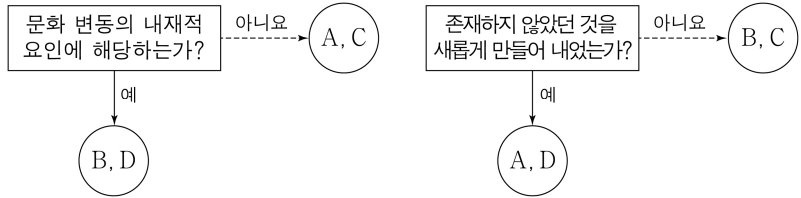
- ① (가)는 갑국에서 성별 가사 부담의 격차가 심화되었다는 주장의 근거로 활용될 수 있다.
 ② (가)에서 맞벌이 부부 중 여성의 1일 평균 가사 노동 시간 대비 맞벌이 부부 중 남성의 1일 평균 가사 노동 시간은 2010년이 2020년의 1.5배이다.
 ③ (나)에서 2010년 대비 2020년에 남성 정규직 월평균 임금 상승률과 여성 정규직 월평균 임금 상승률은 동일하다.
 ④ (다)에서 2010년 대비 2020년에 전체 고위 공직자 수 증가율은 남성 고위 공직자 수 증가율의 2배이다.
 ⑤ (다)는 (나)와 달리 경제적 측면의 성 불평등 양상을 파악하기 위한 자료이다.

11. A, B의 일반적인 특징에 대한 설명으로 옳은 것은? (단, A, B는 각각 관료제, 탈관료제 중 하나임.)

- A는 단순 반복적 업무 수행으로 인해 저하되는 구성원의 자율성을 높이기 위한 방안으로 제시되었다. 급변하는 사회에 대응하기 위해 경직된 조직을 유연하게 운영하는 원리를 적용한 것이다.
- B는 정부의 행정 조직 운영에서 자의성을 줄일 수 있는 방안으로 제시되었다. 공동의 문제를 해결하기 위해 대규모의 조직을 합리적으로 운영하는 원리를 적용한 것이다.

- ① A는 B에 비해 과업 수행 절차의 예측 가능성이 높다.
- ② A는 B와 달리 공식적 규약과 절차에 의해 구성원을 통제한다.
- ③ B는 A에 비해 업무의 표준화와 세분화를 중시한다.
- ④ B는 A와 달리 상향식 의사 결정 방식이 지배적이다.
- ⑤ A는 연공서열에 따른 보상을, B는 성과에 따른 보상을 중시한다.

12. 그림은 문화 변동의 요인을 분류한 것이다. A~D에 대한 설명으로 옳은 것은? (단, A~D는 각각 발명, 발견, 직접 전파, 자국 전파 중 하나임.) [3점]



- ① 난민으로 유입된 타국 사람들의 고유한 놀이를 자국 국민들이 배워 즐기게 된 사례는 A에 해당한다.
- ② 자국의 전통 음료에 전통 식재료를 가미하여 새로운 음료를 만든 사례는 B에 해당한다.
- ③ 외국에서 유행하는 새로운 춤이 인터넷을 통해 자국으로 확산된 사례는 C에 해당한다.
- ④ D로 나타난 문화 요소가 C로 인해 타국에서 B를 발생시키면, 이는 A에 해당한다.
- ⑤ A~D는 모두 한 사회에 새로운 문화 요소를 추가하는 요인으로 작용한다.

13. 사회적 소수자 A~E에 대한 설명으로 옳은 것은?


공지 사항 | 게시판 | **등장인물**

|| 주말 드라마 등장인물 소개


- A** 일본으로 이주한 한국인 여성. 한국인이라는 이유로 차별받으며 살았지만 끝까지 귀화하지 않고 B를 키워 냄.
- B** A의 아들이며, 재일 교포 2세라는 이유로 차별을 겪음. 일본에서 탄광 노동자로 일하면서 광부들의 열악한 노동 환경 개선을 위해 활동함.
- C** 일본 국적의 혼혈인으로 B와 함께 탄광에서 일하고 있음. 피부색이 다르다는 이유로 차별받았으며 B에게 동질감을 느껴 친구가 됨.
- D** 어린 시절 사고로 장애를 갖게 되어 학창 시절 차별을 겪음. 장애에 대한 사회적 차별에 힘들어하였지만 B, E를 만나 위안을 얻음.
- E** 일본 권력가의 딸로 B와 사랑에 빠졌으나, 집안의 반대로 헤어질 결심을 하고 미국으로 유학을 떠남. 언어가 다른 낯선 땅에서 동양인이자 여성이라는 이유로 이중의 차별에 시달림.


- ① A는 B와 달리 역차별을 받았다.
- ② B는 C와 달리 수적인 열세로 인해 차별을 받았다.
- ③ C는 D와 달리 선천적 요인으로 인해 차별을 받았다.
- ④ D는 E와 달리 주류 집단과 구별되는 문화적 차이로 인해 차별을 받았다.
- ⑤ E는 A와 달리 국적이 주류 집단과 다르다는 이유로 차별을 받았다.

14. 사회·문화 현상을 바라보는 갑~병의 관점에 대한 설명으로 옳은 것은?



사회자


기우제에 대한 각자의 의견을 말씀해 주세요.


갑



을


가뭄이라는 사회적 위기 상황에서 공동체의 결속력을 높이고, 사회 안정을 유지하는 역할을 담당하는 의례였습니다.


갑


을

의례의 절차와 제물은 비슷하지만, 사회적 맥락에 따라 구성원들은 그 의미를 다르게 해석하여 행동하였습니다.


갑


병

기우제와 같은 의례는 피지배층의 불만을 잠재우고, 기존 질서를 유지하려는 기득권층의 통치 수단에 불과합니다.

- ① 갑의 관점은 을의 관점과 달리 개인의 행위가 상황에 대한 주관적 해석에 기초하여 이루어진다고 본다.
- ② 갑의 관점은 병의 관점과 달리 기득권층의 이익을 대변하는 논리로 활용될 수 있다는 비판을 받는다.
- ③ 을의 관점은 병의 관점과 달리 집단 간 갈등을 사회 변동의 원동력으로 본다.
- ④ 병의 관점은 갑의 관점과 달리 지배 계급과 피지배 계급의 이익이 조화를 이루고 있다고 본다.
- ⑤ 병의 관점은 을의 관점과 달리 사회 구조가 개인에게 미치는 영향력을 간과한다는 비판을 받는다.

15. 다음 자료에 대한 분석으로 옳은 것은? (단, 갑국의 사회 보장 제도는 우리나라의 사회 보장 제도와 동일함.) [3점]

<자료 1> 갑국의 사회 보장 제도

- (가) 고령이나 노인성 질병 등의 사유로 일상생활을 혼자서 수행하기 어려운 노인 등에게 장기 요양 급여를 지급하는 제도
- (나) 소득 인정액이 일정 수준 이하인 노인에게 기초 연금을 지급하여 안정적 소득 기반을 제공하는 제도

<자료 2> 갑국의 지역별 65세 이상 인구 중 (가), (나) 수급자 비율 (단위: %)

구분	A 지역	B 지역	전체 지역
(가) 수급자	26	㉠	㉡
(나) 수급자	76	68	70
(가)와 (나) 중복 수급자	㉢	6	10

* 갑국은 A, B 지역으로만 구성됨.
** 갑국 전체 지역 65세 이상 인구 중 (가)와 (나) 중복 수급자를 제외한 (나) 수급자 비율이 (가)와 (나) 중복 수급자를 제외한 (가) 수급자 비율의 6배임.

- ① ㉢은 ㉠보다 크고 ㉡보다 작다.
- ② 금전적 지원을 원칙으로 하는 제도의 수급자에 해당하는 65세 이상 인구는 A 지역이 B 지역의 3배이다.
- ③ 사전 예방적 성격보다 사후 처방적 성격이 강한 제도의 수급자에만 해당하는 65세 이상 인구는 A 지역이 B 지역보다 많다.
- ④ 상호 부조의 원리가 적용되는 제도의 수급자에만 해당하는 65세 이상 인구는 B 지역이 A 지역의 3배이다.
- ⑤ 갑국 전체 지역에서 (가)와 (나) 중복 수급자에 해당하는 65세 이상 인구는 강제 가입을 원칙으로 하는 제도의 수급자에만 해당하는 65세 이상 인구와 동일하다.

4 (사회 · 문화)

사회탐구 영역

16. 밑줄 친 ㉠~㉣에 대한 설명으로 옳은 것은? [3점]

최근 젊은 세대를 중심으로 ㉠ **짠테크 문화**가 유행처럼 번지고 있다. 이는 ㉡ **과시적 소비**를 추구했던 지난 몇 년 전과는 반대의 현상이다. **짠테크 열풍**으로 물건을 빌리거나 나누는 사람들이 늘어나면서, ㉢ **온라인 중개 플랫폼 기술**을 활용해 관련 서비스를 제공하는 기업이 급성장하고 있다. 한편 ㉣ **SNS를 통해 짠테크 방법**에 대한 ㉤ **부정확한 정보**가 무차별적으로 유포되어 피해를 입는 경우가 간혹 발생하고 있어, 피해 방지를 위해 관련 ㉥ **법률의 정비**가 필요하다.

* 짠테크: 인색하다는 뜻의 '짜다'와 자산 관리의 기법을 일컫는 '재테크'의 합성어로 적은 돈까지 알뜰하게 관리하는 것을 의미함.

- ① ㉠에서 '문화'는 좁은 의미로 사용되었다.
- ② ㉡에는 문화의 축적성이 부각되어 있다.
- ③ ㉢은 정보 생산자와 정보 소비자 간 구분이 명확한 매체이다.
- ④ ㉣은 대중문화의 확산으로 문화의 획일화가 심화되었음을 보여주는 사례이다.
- ⑤ ㉥은 ㉢과 달리 비물질문화에 해당한다.

17. 그림의 A~C에 대한 설명으로 옳은 것은? (단, A~C는 각각 자본화 중심주의, 문화 상대주의, 문화 상대주의 중 하나임.)

〈서술형 평가〉

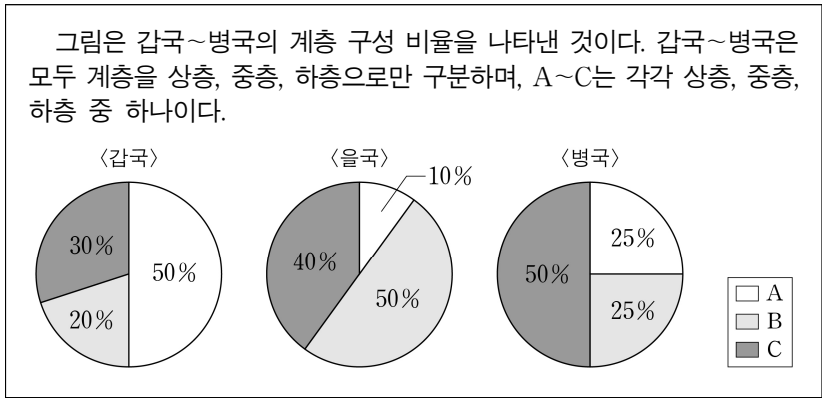
문항 1 A, C와 달리 B에만 해당하는 특징 하나를 서술하십시오.
자기 문화의 정체성을 상실할 우려가 있다. (점수: 1점)

문항 2 B, C와 달리 A에만 해당하는 특징 하나를 서술하십시오.
문화의 다양성을 보존하는 데 기여한다. (점수: 0점)

* 문항별로 각각 채점하고 맞으면 1점, 틀리면 0점을 부여함.

- ① A는 타문화를 수용하는 데 적극적이다.
- ② B는 국수주의로 변질될 수 있다는 비판을 받는다.
- ③ A는 C와 달리 특정 문화를 기준으로 타문화를 평가한다.
- ④ A는 B, C와 달리 타문화에 대한 긍정적 인식에서 비롯된다.
- ⑤ C는 A, B에 비해 타문화와 문화적 마찰을 일으킬 가능성이 높다.

18. 다음 자료에 대한 설명으로 옳은 것은? [3점]



- ① A가 상층이고 B가 중층이라면, 병국의 계층 구조는 을국의 계층 구조보다 사회 통합에 유리하다.
- ② B가 하층이고 C가 상층이라면, 을국의 계층 구조는 갑국의 계층 구조보다 계층 양극화로 인한 문제가 발생할 가능성이 높다.
- ③ 갑국의 계층 구조가 모래시계형이라면, 을국과 병국은 모두 중층 비율이 가장 작다.
- ④ 을국의 계층 구조가 피라미드형이라면, 병국에서 상층 비율과 중층 비율은 동일하다.
- ⑤ 병국의 계층 구조가 다이아몬드형이고 B가 하층이라면, 을국의 중층 비율은 갑국의 상층 비율보다 크다.

19. 교사가 제시한 사례 A~D에 대한 학생들의 옳은 설명만을 <보기>에서 고른 것은? [3점]

다음은 사회 운동의 의미를 학습해 보려고 준비한 사례입니다. 이에 대해 설명해 볼까요?

A
국제 구호 단체에서 아동 인권 보호를 위한 캠페인 활동을 하는 사례

B
성적 부진을 이유로 야구팬이 감독 경질을 요구하며 1인 시위하는 사례

C
기후 위기 대처를 위해 환경 동아리가 정기적으로 온라인 홍보 활동을 하는 사례

D
선거 유세차에서 연설하는 후보자를 보고 길을 지나던 사람들이 모여든 사례

〈보 기〉

ㄱ. A는 특정 집단의 이익만을 추구하였다는 점에서 사회 운동으로 볼 수 없습니다.

ㄴ. B는 사회 변화를 위해 계획적으로 진행하였다는 점에서 사회 운동으로 볼 수 있습니다.

ㄷ. C는 뚜렷한 목표를 가지고 구체적인 활동을 지속적으로 수행하였다는 점에서 사회 운동으로 볼 수 있습니다.

ㄹ. D는 조직적이지 않은 군중이 일시적으로 모였다는 점에서 사회 운동으로 볼 수 없습니다.

- ① ㄱ, ㄴ ② ㄱ, ㄷ ③ ㄴ, ㄷ ④ ㄴ, ㄹ ⑤ ㄷ, ㄹ

20. 다음 자료에 대한 분석 및 추론으로 옳은 것은?

현재(t년) 갑국은 표와 같은 인구 구성을 가지고 있다. 갑국 정부는 향후 (t+100년) 발생할 인구 변화를 서로 다른 시나리오로 예측하여 A, B의 결과를 얻었다. t년에 부양 인구(15~64세 인구)는 전체 인구의 절반이며, t+100년에도 부양 인구는 전체 인구의 절반이라고 가정한다.

구분	현재(t년)	t+100년의 시나리오 예측 결과	
		A	B
유소년 인구 (0~14세 인구)	750만 명	t년 대비 20% 증가	t년 대비 20% 감소
노년 인구 (65세 이상 인구)	250만 명	t년 대비 20% 증가	t년 대비 140% 증가

* 유소년 부양비 = $\frac{\text{유소년 인구}}{\text{부양 인구}} \times 100$

** 노년 부양비 = $\frac{\text{노년 인구}}{\text{부양 인구}} \times 100$

*** 총부양비 = $\frac{\text{유소년 인구} + \text{노년 인구}}{\text{부양 인구}} \times 100$

- ① 노년 부양비는 A가 현재보다 크다.
- ② 총부양비는 B가 현재보다 크다.
- ③ 유소년 부양비는 A가 B의 2배이다.
- ④ 전체 인구에서 노년 인구가 차지하는 비율은 B가 A의 2배이다.
- ⑤ 저출산·고령화 문제는 B보다 A에서 더 부각된다.

* 확인 사항

○ 답안지의 해당란에 필요한 내용을 정확히 기입(표기)했는지 확인하십시오.