

제 4 교시

사회탐구 영역 (동아시아사)

성명 수험 번호 2 제 [] 선택

1. 밑줄 친 ‘이 지역’을 지도에서 옳게 고른 것은?

사진은 이 지역의 신석기 문화를 대표하는 빗살무늬 토기입니다. 표면에 비스듬한 줄이 일정한 형태와 간격으로 새겨져 있는 것이 특징입니다.

- ① (가) ② (나) ③ (다) ④ (라) ⑤ (마)

2. (가) 왕조 시기 동아시아에서 볼 수 있는 모습으로 가장 적절한 것은? [3점]

이것은 (가)의 승려 감진의 행적을 기록한 『당대화상동정전』의 일부분입니다. 표시된 부분은 건당사 일행이 감진에게 일본에 계율을 전해주기를 요청하는 내용입니다.

- ① 사서집주를 읽는 선비
 ② 위화도 회군에 참여한 장수
 ③ 정복지에 파견되는 다루가치
 ④ 팔만대장경을 조판하는 장인
 ⑤ 도다이사에서 예불을 드리는 승려

3. (가) 제국에 대한 설명으로 옳은 것은?

이 우표는 (가) 제국의 5대 칸인 쿠빌라이의 탄생 800주년을 기념하여 발행한 것이다. 칭기즈 칸의 손자로 칸의 자리에 오른 그는 고려를 복속시킨 후, 남송을 멸망시키고 중국의 전역을 장악하였다.

- ① 역참제를 운영하였다.
 ② 연행사를 파견하였다.
 ③ 주자감을 설립하였다.
 ④ 태정관을 설치하였다.
 ⑤ 일조편법을 시행하였다.

4. (가) 국가 시기의 동아시아 상황으로 옳은 것은?

(가)의 효문제가 추진한 정책에 대해 말해보자.

- 수도(평양)를 평성에서 위양으로 옮겼어.
- 적극적인 한화 정책을 추진하였어.
- 군전제를 실시하였어.

- ① 신라가 삼국을 통일하였다.
 ② 일본에 조총이 전래되었다.
 ③ 몽골이 천호제를 시행하였다.
 ④ 중국이 남북조로 대립하였다.
 ⑤ 고려에 무신 정권이 수립되었다.

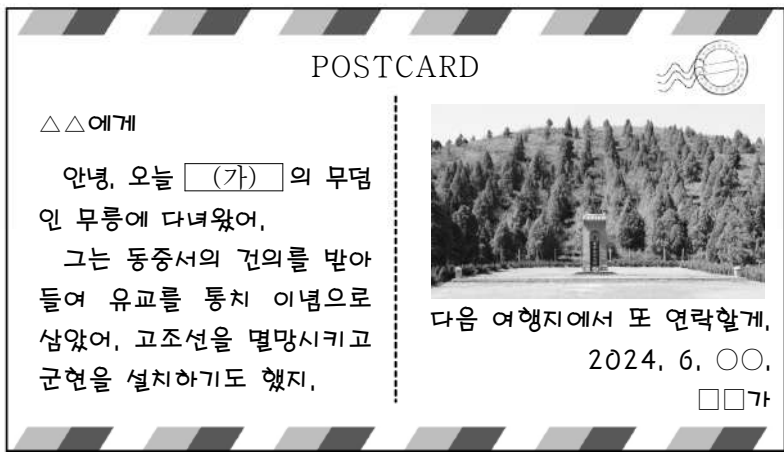
5. (가), (나) 시기 사이에 있었던 사실로 옳은 것은? [3점]

(가) 누르하치는 여러 신하들을 모은 자리에서 경기연 한이라는 존칭을 받은 후 후금을 건국하고 연호를 천명이라 하였다.
 (나) 흥타이지는 신료들이 도열한 가운데 제위에 올랐다. 국호를 청, 연호를 승덕으로 고치고 황제라 칭하였다.

- ① 마르코 폴로가 중국을 방문하였다.
 ② 광해군이 인조반정으로 폐위되었다.
 ③ 혜자가 쇼토쿠 태자의 스승이 되었다.
 ④ 현장이 인도에서 불교 경전을 가져왔다.
 ⑤ 탕구트족의 이원호가 서하를 건국하였다.

동아시아사

6. (가) 황제에 대한 설명으로 옳은 것은?



- ① 5대 10국의 분열을 수습하였다.
- ② 히미코를 친위왜왕으로 책봉하였다.
- ③ 준왕을 몰아내고 왕위를 차지하였다.
- ④ 대월지와의 동맹을 위해 장건을 파견하였다.
- ⑤ 화북과 강남을 연결하는 대운하를 건설하였다.

7. 자료의 주장이 제기된 시기를 연표에서 옳게 고른 것은? [3점]

조선은 동쪽 변방에 끼어 있어 우리의 왼쪽 겨드랑이와 가깝습니다. 평양은 서쪽으로 압록강과 인접하고 진주는 직접 덩저우를 맞대고 있습니다. 만일 일본이 조선을 빼앗아 차지하여 라오둥을 엇본다면 1년도 안 되어 베이징이 위협해질 것입니다. 따라서 조선을 지켜야만 라오둥을 보호할 수 있습니다.
- 『해방찬요』 -

	(가)	(나)	(다)	(라)	(마)
한	발해	당	가마쿠라	명	에도
멸망	건국	멸망	막부수립	건국	막부수립

- ① (가) ② (나) ③ (다) ④ (라) ⑤ (마)

8. (가) 황제에 대한 설명으로 옳은 것은?



- ① 만리장성을 축조하였다.
- ② 삼번의 난을 진압하였다.
- ③ 나가시노 전투에서 승리하였다.
- ④ 원강 석굴의 대불을 조성하였다.
- ⑤ 두 차례에 걸쳐 일본을 공격하였다.

9. (가) 사상에 대한 설명으로 옳지 않은 것은? [3점]



- ① 오경보다 사서를 중시하였다.
- ② 윤희 사상을 바탕으로 자비를 강조하였다.
- ③ 격물치지와 거경궁리의 수양법을 중시하였다.
- ④ 에도 막부의 체도와 의례 정비에 기여하였다.
- ⑤ 고려 말 신진 사대부의 사상적 기반이 되었다.

10. 다음 자료를 활용한 탐구 활동으로 가장 적절한 것은? [3점]



- ① 엔닌의 구법 활동 경로를 알아본다.
- ② 야마토 정권이 성장한 과정을 확인한다.
- ③ 윤관이 별무반을 조직한 목적을 조사한다.
- ④ 장거정의 개혁이 추진된 배경을 파악한다.
- ⑤ 5호의 화북 진출이 끼친 영향을 살펴본다.

11. 밑줄 친 '항전' 이후 동아시아에서 있었던 사실로 옳은 것은?

동아시아사 수행 평가 안내

1. 활동: 17세기 전후의 동아시아 전쟁과 관련된 유물·유적을 소개하는 카드 만들기

▶ 예시



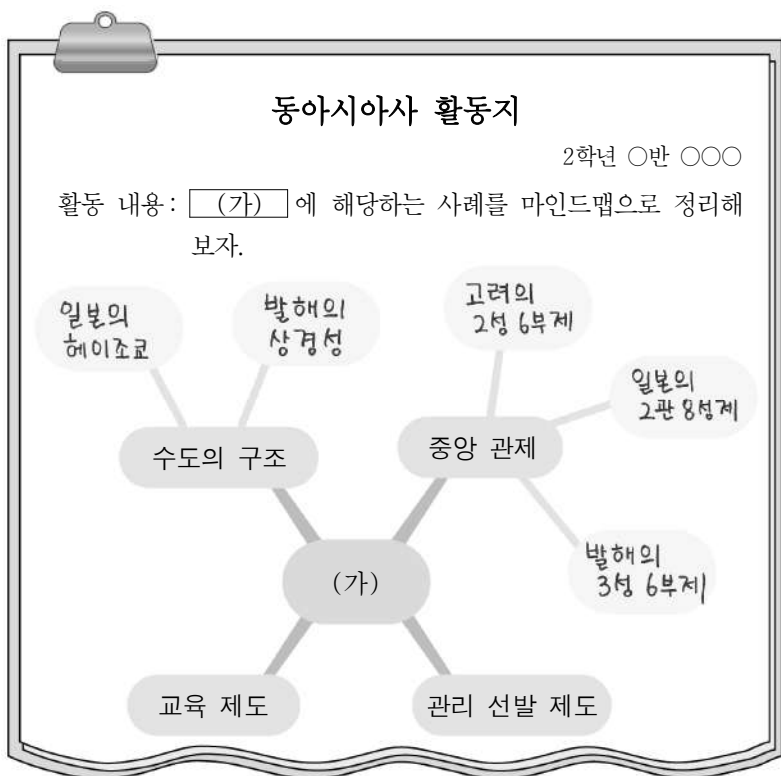
<앞면>

- 명칭: 삼전도비
- 소재지: 서울 송파구
- 설명: 남한산성에서 항전하던 인조가 삼전도에서 청 태종과 군신 관계를 맺고 청의 강요로 세운 비이다. 그 내용은 청군의 승전과 청 태종의 공덕을 칭송하는 것이다.

<뒷면>

- ① 한국 - 북벌론이 대두되었다.
- ② 한국 - 동북 9성이 축조되었다.
- ③ 중국 - 전연의 맹약이 체결되었다.
- ④ 일본 - 오닌의 난이 발생하였다.
- ⑤ 일본 - 다이카 개신이 단행되었다.

12. (가)에 들어갈 내용으로 가장 적절한 것은?



- ① 성리학의 발전
- ② 동서 교류의 확대
- ③ 율령 체제의 수용
- ④ 인구 이동의 영향
- ⑤ 호한 융합 정책의 추진

13. (가) 왕조의 대외 관계에 대한 설명으로 옳은 것은? [3점]



이 그림은 송첸캄포와 문성 공주의 통혼을 소재로 한 「보련도」로, (가)의 황제가 문성 공주를 데리러 온 토번 사신 가르통첸을 맞이하는 장면을 묘사하고 있다. 오른쪽의 보련에 앉아 있는 이가 황제이며, 왼쪽의 세 사람 중 가운데 인물이 토번의 사신이다.

- ① 남송으로부터 세폐를 받았다.
- ② 신라와 연합하여 백제를 멸망시켰다.
- ③ 왜의 노국왕에게 금인을 하사하였다.
- ④ 대월의 쩌흥다오 군대와 전투를 벌였다.
- ⑤ 무로마치 막부와 조공·책봉 관계를 맺었다.

14. 밑줄 친 '이 나라'에 대한 설명으로 옳은 것은? [3점]

이자겸과 척준경이 말하였다. “옛날의 이 나라는 소국으로 거란(요)과 우리를 섬겼습니다. 하지만, 지금은 갑자기 강성해져서 거란(요)과 송을 멸망시키고 ... (중략) ... 작은 나라가 큰 나라를 섬기는 것은 선왕의 법도입니다. 마땅히 먼저 사신을 보내어 예를 닦는 것이 옳습니다.” 인종이 이 건의를 받아들였다.

- ① 백강 전투에 참여하였다.
- ② 맹안·모극제를 실시하였다.
- ③ 정복지에 도호부를 설치하였다.
- ④ 북제와 북주로부터 조공을 받았다.
- ⑤ 5호 16국 시대의 혼란을 수습하였다.


15. 다음 자료를 활용한 탐구 주제로 가장 적절한 것은? [3점]

○ 하늘에서 보면 어찌 안과 밖의 구분이 있겠는가. 나라마다 제 백성을 사랑하고 제 임금을 존중하며 제 나라를 수호하고 제 풍습을 좋아하는 점에서 중화와 오랑캐가 다 마찬가지이다.

○ 어찌 태어난 곳이 중원이나 아니냐를 가지고서 중화인과 오랑캐를 구별할 수 있겠는가. ... (중략) ... 순임금과 문왕은 오랑캐였다. 이러한 것이 어찌 그들의 거룩한 덕에 손상을 입혔겠는가?

- ① 분서갱유의 배경
- ② 서원과 향약의 확산
- ③ 전통적 화이관의 변화
- ④ 종법적 봉건제의 시행
- ⑤ 불교의 전파와 문화 교류

16. 밑줄 친 '이 나라'에 대한 설명으로 옳은 것은?




이 막새기와는 내몽골 지역에서 출토된 것으로 '선우천강(單于天降)'이라는 글자가 새겨져 있다. '선우'는 이 나라의 최고 통치자를 가리키며, 하늘의 아들이라는 의미이다. 이 나라의 전성기를 이끌었던 목북 선우는 평성에서 한 고조를 굴복시킨 후 한(漢)과 화친을 맺었다.

- ① 골품제를 시행하였다.
- ② 과거제를 실시하였다.
- ③ 팔기제를 운영하였다.
- ④ 8조의 법을 제정하였다.
- ⑤ 좌현왕과 우현왕을 두었다.

17. 밑줄 친 '이 황제'에 대한 설명으로 옳은 것은? [3점]

동아시아 유산
중국 편

황제의 제단, 천단



- 명칭: 천단
- 위치: 베이징


명·청 시대에 제천 의식을 행하던 제단이다. 자금성을 건설하고 베이징으로 천도한 명의 이 황제가 재위하던 시기에 지어졌다. 이후 확장을 거듭하여 청의 건륭제 시기에는 대지 면적이 273ha에 이르렀다.

- ① 낙랑군을 축출하였다.
- ② 호라즘을 정복하였다.
- ③ 다이호 율령을 반포하였다.
- ④ 정화의 함대를 파견하였다.
- ⑤ 쓰시마섬 토벌을 단행하였다.

18. (가) 왕조에 대한 설명으로 옳은 것은? [3점]

동아시아사 인물 카드
야율아보기

(가)의 초대 황제로, 서쪽의 탕구트를 제압하고 동쪽의 발해를 멸망시켜 대제국을 건설하였다. 그는 한족의 문화에 동화되지 않으려는 취지로 고유 문자를 창제하였다.



▲ 야율아보기 동상

- ① 남비엣을 멸망시켰다.
- ② 신기관을 설치하였다.
- ③ 헤이안쿄를 건설하였다.
- ④ 연운 16주를 차지하였다.
- ⑤ 독서삼품과를 실시하였다.


19. (가)에 들어갈 내용으로 가장 적절한 것은?

동아시아사 모둠 과제 제출


학생 △△△ 2024. 6. ○○.

1. 주제 :

2. 조사 내용



하치만은 본래 신토의 신이었으나 대보살이란 칭호를 얻었다.



『부모은중경』은 유교의 덕목인 효에 대한 부처의 가르침을 담고 있다.

수업 댓글

교사 다른 사례도 추가로 조사해 보세요.

- ① 아스카 문화의 특징
- ② 조공·책봉 체제의 형성
- ③ 불교와 전통 사상의 융합
- ④ 전쟁을 통한 문물의 교류
- ⑤ 북방 민족의 이원적 통치 체제

20. 다음 자료를 활용한 탐구 활동으로 가장 적절한 것은?

동아시아사 학습 자료

간고사의 지붕



백제에서 파견된 기와 장인이 만든 것으로 전해진다.

스에키 토기



가야에서 보급된 오름 가마 기술로 제작되었다.

- ① 도왜인의 활동 내용을 찾아본다.
- ② 통신사의 이동 경로를 알아본다.
- ③ 제자백가의 등장 배경을 정리한다.
- ④ 센고쿠 시대의 통일 과정을 파악한다.
- ⑤ 완도에 청해진을 설치한 목적을 살펴본다.

* 확인 사항

- 답안지의 해당란에 필요한 내용을 정확히 기입(표기)했는지 확인 하시오.