

제 4 교시

사회탐구 영역 (정치와법)

성명		수험 번호				2				제 [] 선택
----	--	-------	--	--	--	---	--	--	--	----------

1. 정치를 바라보는 갑의 관점에 대한 설명으로 옳은 것은?



○○ 동물 보호 단체에서 회의를 개최하여 후원금 사용 방안을 둘러싼 갈등을 해결한 사례는 정치로 볼 수 있을까요?

교사

정치는 정치권력의 획득, 유지, 행사와 관련한 현상만을 의미하므로 그 사례는 정치로 볼 수 없습니다.



갑

- ① 국가 형성 이전의 정치 현상을 설명하는 데 적합하다.
- ② 다른 사회 집단과 구분되는 국가 고유의 특수성이 존재한다고 본다.
- ③ 국가를 포함한 다양한 사회 집단의 의사 결정 과정을 정치로 본다.
- ④ 아파트 주민 자치회의 반려견 사육 규칙 제정 과정을 정치로 본다.
- ⑤ 국회의 동물 보호에 관한 법률 개정안 의결 과정을 정치로 보지 않는다.

[2 ~ 3] 다음 글을 읽고 물음에 답하시오.

근대 이전에는 왕이나 귀족 등 일부 계층의 자의적 통치로 기본권을 보장받기가 어려웠다. 이후 시민 혁명으로 절대 왕정이 무너지고 ㉠ 근대 민주 정치 체제가 형성되면서 비로소 '인치(人治)'를 대신하여 '법치(法治)'가 확립되어 기본권의 제도적 보장이 가능해졌다. 그러나 법 제정의 형식과 절차만 강조하는 A는 의회가 만든 법에 의해서도 국민의 자유와 권리가 침해될 가능성이 있음을 간과하였다. 이에 법의 목적과 내용도 정의에 합치될 것을 요구하는 B가 등장하였다.

2. 밑줄 친 ㉠에 대한 옳은 설명만을 <보기>에서 고른 것은?

— <보 기> —

ㄱ. 보통 선거 제도가 실시되었다.
 ㄴ. 의회를 중심으로 한 대의제가 확립되었다.
 ㄷ. 입헌주의에 기반한 민주 정치를 지향하였다.
 ㄹ. 추천과 윤번제를 통해 공직자를 선출하였다.

- ① ㄱ, ㄴ ② ㄱ, ㄷ ③ ㄴ, ㄷ ④ ㄴ, ㄹ ⑤ ㄷ, ㄹ

3. 법치주의 유형 A, B에 대한 설명으로 옳은 것은? [3점]

- ① A는 통치의 합법성보다 정당성을 중시한다.
- ② B는 위헌 법률 심사제의 필요성을 강조한다.
- ③ B는 합법적 독재를 정당화하는 논리로 악용될 수 있다.
- ④ A와 달리 B는 국가 권력 행사의 법적 근거를 중시한다.
- ⑤ B와 달리 A는 법률에 의한 기본권 제한이 가능하다고 본다.

4. 밑줄 친 ㉡, ㉢에 대한 옳은 설명만을 <보기>에서 고른 것은?

각 사회마다 법의 내용은 달라질 수 있으나, 법은 기본적으로 정의 실현을 추구한다. 정의는 시대와 사회에 따라 다르게 규정되기도 하지만 법이 추구하는 정의는 평등으로 볼 수 있고, 평등을 기준으로 정의를 구분할 수 있다. ㉡ 평균적 정의는 차이를 고려하지 않고 모든 사람을 동등하게 대우하는 것이고, ㉢ 배분적 정의는 개인의 능력이나 상황, 필요 등에 따라 다르게 대우하는 것이다.

— <보 기> —

ㄱ. 소득 금액이 증가함에 따라 높은 세율을 적용하는 것은 ㉡이 적용된 것이다.
 ㄴ. ㉢은 합리적 기준에 의한 차별을 인정한다.
 ㄷ. 생활이 어려운 국민에게 필요한 급여를 제공하는 것은 ㉢이 적용된 것이다.
 ㄹ. 우리나라 헌법은 ㉢이 아닌 ㉡의 실현만을 추구한다.

- ① ㄱ, ㄴ ② ㄱ, ㄷ ③ ㄴ, ㄷ ④ ㄴ, ㄹ ⑤ ㄷ, ㄹ

5. 우리나라 헌법 기관 A ~ D에 대한 설명으로 옳은 것은? [3점]

이달 초 A가 B의 동의를 얻어 C의 장(長)을 임명한 데 이어 A가 ○○○ 신임 재판관에게 임명장을 수여함으로써 9인의 완전체로 C가 구성되었습니다. C의 재판관은 모두 A가 임명하는데, 이 중 3인은 B에서 선출한 자를, 3인은 D의 장(長)이 지명한 자를 임명합니다.



- ① A는 조약의 체결·비준권을 가진다.
- ② B는 국가의 세입·세출 결산 검사권을 가진다.
- ③ B는 A에 대한 탄핵 심판권을 가진다.
- ④ C는 국정 감사 및 조사권을 가진다.
- ⑤ D는 정당 해산 심판권을 가진다.

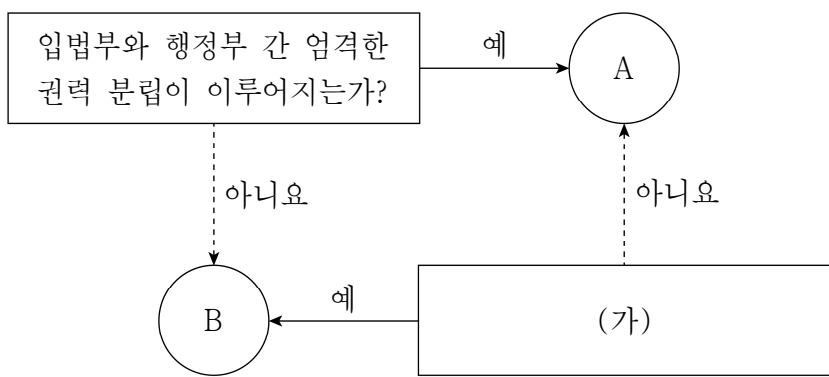
정치와법

6. 밑줄 친 ㉠이 해당되는 기본권 유형에 대한 설명으로 옳은 것은? [3점]

교도소에 수감 중인 갑은 자신이 소송을 제기한 재판에 출석하려고 하였으나, 교도소장은 갑이 재판 출석에 필요한 차량 운행 등에 소요되는 비용을 사전에 납부하지 않았다는 이유로 갑의 재판 출석을 허용하지 않았다. 이에 갑은 교도소장이 ㉠ 헌법과 법률이 정한 법관에 의하여 법률에 의한 재판을 받을 권리를 침해했다고 주장하였다.

- ① 기본권 보장을 위한 수단적 권리이다.
- ② 가장 최근에 등장한 현대적 권리이다.
- ③ 합리적 이유 없이 차별을 받지 않을 권리이다.
- ④ 국가 권력에 의한 침해를 배제하는 소극적 권리이다.
- ⑤ 국가의 정치적 의사 형성 과정에 참여하는 능동적 권리이다.

7. 그림에 대한 설명으로 옳은 것은? (단, A, B는 각각 전형적인 대통령제와 의원 내각제 중 하나임.) [3점]



- ① A에서는 의회가 내각 불신임권을 가진다.
- ② A에서는 행정부가 법률안을 제출할 수 있다.
- ③ B에서는 의회 의원이 각료를 겸직할 수 있다.
- ④ B에서는 행정부 수반의 임기가 엄격히 보장된다.
- ⑤ (가)에 '행정부 수반과 국가 원수가 동일인인가?'가 들어갈 수 있다.

8. 정치 참여 집단 A~C의 일반적인 특징에 대한 설명으로 옳은 것은? (단, A~C는 각각 정당, 이익 집단, 시민 단체 중 하나임.)

A, B, C는 모두 정치 과정에서 여론을 형성하고 다양한 활동을 통해 정치적 영향력을 행사한다. A, B와 달리 C는 공직 선거에서 후보자를 공천하고 국민들의 요구를 집약한 공약을 제시한다. B, C와 달리 A는 공익보다 집단의 특수 이익을 우선시한다.

- ① A는 정부와 의회를 매개하는 역할을 한다.
- ② C는 정권 획득을 목적으로 한다.
- ③ A와 달리 B는 대의제의 한계를 보완하는 기능을 한다.
- ④ B와 달리 C는 정치권력을 감시하고 견제하는 기능을 한다.
- ⑤ C와 달리 A는 사회 구성원에게 정치적 지식을 습득하게 한다.

9. 표에 대한 설명으로 옳은 것은? (단, A~C는 각각 우리나라의 대통령 선거, 국회 의원 선거, 기초 의회 의원 선거 중 하나임.) [3점]

구분	A	B	C
5년마다 실시하는 선거인가?	㉠	㉡	㉢
지방 의회를 구성하는 주민 대표를 선출하는 선거인가?	㉣	㉠	㉤

* ㉠, ㉡은 각각 '예', '아니요' 중 하나임.

- ① ㉠은 '아니요', ㉡은 '예'이다.
- ② A는 절대 다수 대표제를 채택하고 있다.
- ③ B는 전국을 하나의 선거구로 하여 실시하고 있다.
- ④ C는 지역구 의원 선거에서 중·대선거구제를 채택하고 있다.
- ⑤ B와 C 모두 비례 대표 의원 선거에서 정당 명부식 비례 대표제를 채택하고 있다.

10. 다음 법률 조항에서 공통적으로 강조되는 우리나라 헌법의 기본 원리에 대한 설명으로 가장 적절한 것은?

○ 영유아보육법 제4조 제2항
국가와 지방 자치 단체는 보호자와 더불어 영유아를 건전하게 보육할 책임을 지며, 이에 필요한 재원을 안정적으로 확보하도록 노력하여야 한다.

○ 발달장애인법 제24조 제1항
국가와 지방 자치 단체는 발달장애인이 자신의 장애에도 불구하고 잠재적인 능력을 최대한 계발할 수 있도록 발달장애인에게 적절한 재활 치료와 발달 재활 서비스 등을 제공하도록 노력하여야 한다.

- ① 개인의 자유와 권리를 최대한 보장해야 한다는 원리이다.
- ② 국가의 의사를 결정하는 주권이 국민에게 있다는 원리이다.
- ③ 국가가 자율적인 문화 활동을 보장하고 문화 풍토를 조성해야 한다는 원리이다.
- ④ 국가가 국민의 인간다운 생활을 보장하기 위하여 적극적인 역할을 해야 한다는 원리이다.
- ⑤ 침략적 전쟁을 부인하고 상호주의 원칙에 따라 외국인의 지위를 보장하는 근거가 되는 원리이다.

11. 다음 자료에 대한 법적 판단으로 옳은 것은? [3점]

갑은 타인을 스토킹했다는 이유로 ㉠○○지방법원 합의부로부터 징역 10개월을 선고받았다. 갑은 이 판결에 불복하여 ㉡대법원에 □(가)을/를 하였다. 대법원은 갑이 피해자에게 불안감 또는 공포심을 일으키기에 충분한 스토킹 행위를 반복적으로 해왔기 때문에 갑의 행위는 범죄로 성립된다고 판단하여 갑의 청구를 기각하였다.

- ① (가)는 '상고'이다.
- ② ㉠은 갑의 사건에 대한 1심 법원이다.
- ③ ㉡은 갑이 무죄라고 판결하였다.
- ④ 갑은 ㉡의 판결에 대해 상소할 수 있다.
- ⑤ ㉡과 달리 ㉠은 위헌·위법한 명령·규칙에 대한 최종 심사권을 가진다.

12. 밑줄 친 ㉠~㉣에 대한 설명으로 옳은 것은?

고등학교도 16세 이상이라면 누구나 ㉠정당에 가입하여 활동할 수 있고, 18세 이상이라면 ㉡투표를 통해 국회 의원을 선출할 권리가 있다. 또한 교육의 주체인 학생으로서 ㉢온라인 정책 제안 게시판을 통해 교육 정책에 대한 의견을 제시할 수 있으며, 지방 자치 단체의 청소년 참여 위원회 위원으로 참여하여 ㉣지방 자치 단체장에게 청소년 정책에 대한 의견을 제시할 수 있다.

- ① ㉠은 정책 결정 기구이다.
- ② ㉡은 집단적 정치 참여 방법이다.
- ③ ㉢은 정치 과정에서 산출에 해당한다.
- ④ ㉡에 비해 ㉢은 정치 참여에서 시·공간적 제약을 완화할 수 있는 방법이다.
- ⑤ ㉡과 달리 ㉢은 정치 참여 주체의 정치적 효능감 향상에 기여할 수 있다.

13. 다음 자료에 대한 옳은 설명만을 <보기>에서 있는 대로 고른 것은?

교사: 우리나라는 기본적으로 대통령제를 채택하면서 의원 내각제 요소를 도입하고 있습니다. 현재 우리나라에서 도입하고 있는 의원 내각제 요소를 말해 볼까요?
 갑: 국회가 국무 위원 해임 건의권을 가집니다.
 을: 대통령이 국회를 해산할 수 있습니다.
 병: □(가)
 교사: 옳게 대답한 학생은 □(나)입니다.

<보 기>
 ㄱ. (나)에 '3명'이 들어갈 수 있다.
 ㄴ. (가)에 '국무총리를 두고 있습니다.'가 들어가면, (나)는 '2명'이다.
 ㄷ. (가)에 '국민이 행정부 수반을 직접 선출합니다.'가 들어가면, (나)는 '1명'이다.

- ① ㄱ ② ㄴ ③ ㄱ, ㄷ ④ ㄴ, ㄷ ⑤ ㄱ, ㄴ, ㄷ

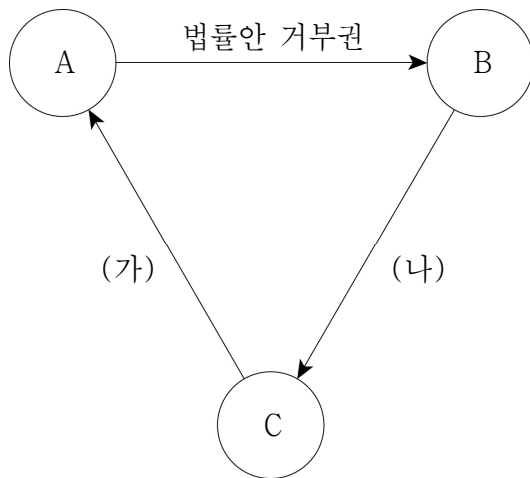
14. (가)에 들어갈 옳은 내용만을 <보기>에서 있는 대로 고른 것은?

정치와 법 학습방
 주요 개념 자료실 Q & A
 Q: 공정하고 민주적인 선거를 위한 우리나라 제도에는 무엇이 있는지 궁금합니다.
 A: _____ (가)

<보 기>
 ㄱ. 특정 정당이나 후보자에게 유리하거나 불리하지 않도록 대통령이 선거구를 확정합니다.
 ㄴ. 후보자 간 선거 운동의 기회 균등 보장을 위해 선거 비용 일부를 원칙적으로 국가나 지방 자치 단체에서 부담합니다.
 ㄷ. 보통 선거의 원칙을 실현하기 위해 재산, 성별 등에 따른 제한 없이 18세 이상의 국민에게 선거권을 부여하고 있습니다.
 ㄹ. 평등 선거의 원칙을 실현하기 위해 국회 의원 지역구 선거구 확정 시 선거구 간 인구 편차의 허용 한계를 정하고 있습니다.

- ① ㄱ, ㄴ ② ㄱ, ㄷ ③ ㄴ, ㄹ
- ④ ㄱ, ㄷ, ㄹ ⑤ ㄴ, ㄷ, ㄹ

15. 그림은 우리나라 헌법 기관 A~C의 상호 견제 중 일부를 나타낸 것이다. 이에 대한 설명으로 옳은 것은? (단, A~C는 각각 국회, 대통령, 대법원 중 하나임.) [3점]



* 화살표는 견제 권한의 행사 방향을 의미함.

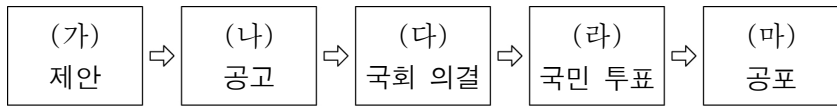
- ① A는 선거 소송에 대한 최종심을 관할한다.
- ② B는 국가 안위에 관한 중요 정책을 국민 투표에 부칠 수 있다.
- ③ C는 사면을 명할 수 있다.
- ④ (가)에 '국무총리 임명 동의권'이 들어갈 수 있다.
- ⑤ (나)에 '탄핵 소추권'이 들어갈 수 있다.

16. 다음 사례에 대한 법적 판단으로 옳은 것은? [3점]

갑은 사람을 비방할 목적으로 정보통신망을 통하여 공공연하게 사실을 드러내어 다른 사람의 명예를 훼손한 자를 형사 처벌하도록 규정한 ○○법 조항을 위반했다는 이유로 재판을 받게 되었다. 갑은 해당 법률 조항이 표현의 자유를 침해한다며 △△ 법원에 위헌 법률 심판 제청을 신청하였으나 기각되자 헌법 소원 심판을 청구하였다. 헌법 재판소는 해당 법률 조항이 과잉 금지의 원칙에 위반되지 않는다고 결정하였다.

- ① 갑이 침해받았다고 주장한 기본권은 평등권에 해당한다.
- ② △△ 법원은 해당 법률 조항이 헌법에 위반되지 않는다고 판단하였다.
- ③ 갑은 권리 구제형 헌법 소원 심판을 청구하였다.
- ④ 갑이 청구한 헌법 소원 심판은 △△ 법원이 직권으로 청구할 수 있다.
- ⑤ 헌법 재판소는 해당 법률 조항이 헌법에 위반된다고 판단하였다.

17. 우리나라 헌법 개정 절차 (가)~(마)에 대한 설명으로 옳은 것은?



- ① (가)는 대통령 또는 국회 의원 10인 이상의 발의로 이루어진다.
- ② (나)는 국회 의장이 해야 한다.
- ③ (다)를 위해서는 국회 재적 의원 과반수의 출석과 출석 의원 과반수의 찬성이 필요하다.
- ④ (라)로 헌법 개정이 확정되기 위해서는 국회 의원 선거권자 과반수의 투표와 투표자 과반수의 찬성이 필요하다.
- ⑤ (마)에서 대통령은 거부권을 행사할 수 있다.

18. 다음 자료에 대한 설명으로 옳은 것은? (단, A, B는 각각 양당제, 다당제 중 하나임.)

○ 문제: 제시된 기준에 따라 복수 정당제의 유형 A, B를 비교하세요. (옳은 답은 1점, 틀린 답은 0점임.)

기준	답란	채점 결과
유권자의 정당 선택 범위	A > B	1점
군소 정당의 난립 가능성	A < B	㉠
(가)	A > B	1점

- ① ㉠은 '1점'이다.
- ② A에 비해 B는 정당 간 대립 시 중재가 용이하다.
- ③ B에 비해 A는 다수당의 횡포가 나타날 가능성이 높다.
- ④ (가)에 '국민의 다양한 의견 반영 가능성'이 들어갈 수 있다.
- ⑤ (가)에 '정책 실패에 대한 책임 소재의 명확성'이 들어갈 수 있다.

19. 밑줄 친 ㉠~㉣에 대한 설명으로 옳은 것은? [3점]

□ □ 신 문

지방 자치 단체장의 인사권 남용에 대한 통제 장치 마련

지방 자치법 개정으로 지방 의회 인사 청문 제도가 법제화됨에 따라 ㉠○○광역시의회는 ㉡○○광역시의 ㉢인사 청문회 조례를 제정하였다. 이 조례의 시행으로 지방 자치 단체 산하 공공 기관장 후보자 검증이 이루어지면 ㉣○○광역시장의 인사권에 대한 견제와 지방 공기업의 경영 합리화 등의 효과가 기대된다.

- ① ㉠은 ㉡의 예산 심의·확정권을 가진다.
- ② ㉡은 중앙 정부로부터 위임받은 사무만 처리할 수 있다.
- ③ ㉢은 ㉠의 의결 후 주민 투표를 거쳐야 확정된다.
- ④ ㉣은 주민 소환의 대상이 될 수 없다.
- ⑤ ㉣은 ㉢을 폐지할 수 있는 권한을 가진다.

20. 다음 자료에 대한 분석 및 추론으로 옳은 것은? [3점]

전형적인 의원 내각제를 채택하고 있는 갑국의 의회는 지역구 의원과 비례 대표 의원으로 구성된다. 지역구 의원 선거에서는 50개의 선거구에서 각 선거구별로 선출되는 지역구 의원 수가 같고, 각 정당은 선거구별로 1인의 후보자만 공천한다. 비례 대표 의원 선거에서는 전국을 하나의 선거구로 하여 정당 투표를 실시하고, 각 정당이 얻은 득표율에 비례하여 각 정당에 의석을 배분한다. 표는 갑국의 최근 의회 의원 선거 결과를 나타낸 것이다.

구분	지역구 의원 선거	비례 대표 의원 선거		총 의석수 (석)
	득표율(%)	정당 득표율(%)	의석수(석)	
A당	40	60	30	78
B당	32	28	14	39
C당	18	4	2	18
D당	10	8	4	15
계	100	100	50	150

*정당은 A~D당만 존재하고 무소속 후보자는 없으며, 투표율은 100%, 무효표는 없음.

- ① 지역구 의원 선거에서는 소선거구제를 채택하고 있다.
- ② A당은 지역구 의석률에 비해 지역구 득표율이 낮다.
- ③ B당은 비례 대표 의석률에 비해 총의석률이 높다.
- ④ C당과 D당의 지역구 의석수 차이는 8석이다.
- ⑤ 선거 결과 연립 내각이 구성되었을 것이다.

* 확인 사항

○ 답안지의 해당란에 필요한 내용을 정확히 기입(표기)했는지 확인 하시오.