


제 4 교시

사회탐구 영역(세계사)

성명 수험 번호 - 제 () 선택

1. 다음 유물을 남긴 문명에 대한 설명으로 옳은 것은? [3점]

• 유물로 만나는 세계 문명




▲ 「사자의 서」

[해설]

- ① 아누비스가 죽은 자를 진리의 전당 입구에서 맞이한다.
- ② 아누비스가 죽은 자의 심장을 저울에 달아 무게를 잰다.
- ③ 심장의 무게가 여신 마트의 깃털보다 무거우면 아미트가 그의 심장을 먹어 치운다.
- ④ 서기관인 토트가 그 결과를 기록한다.
- ⑤ 재판관인 오시리스가 죽은 자에 대한 판결을 내린다.

- ① 길가메시 서사시를 남겼다.
- ② 태양력과 10진법을 사용하였다.
- ③ 갑골에 점복의 내용을 기록하였다.
- ④ 하라파와 모헨조다로를 건설하였다.
- ⑤ 자연 현상을 찬미한 베다를 만들었다.

2. (가) 국가에 대한 설명으로 옳은 것은?



그림의 왼쪽 인물은 펠리포스 2세의 뒤를 이은 마케도니아의 왕이다. 그는 이 전투에서 기병과 중장 보병을 앞세워 (가)의 황제가 이끄는 군대를 물리친 후 현지인과의 혼인을 장려하면서 자신도 (가)의 공주와 결혼하였다.

- ① 알렉산드리아를 건설하였다.
- ② 호르텐시우스법을 제정하였다.
- ③ 우즈베크인의 침공으로 멸망하였다.
- ④ 수도 니네베에 왕립 도서관을 건립하였다.
- ⑤ 수사와 사르디스를 연결하는 왕의 길을 건설하였다.

3. (가) 왕조에 대한 설명으로 옳은 것은? [3점]

진승은 왕으로 추대되었고 국호를 장초로 정했다. 진승은 폭정에 시달리고 있는 농민들에게 (가)에 반대하는 봉기에 참여할 것을 호소하였다. 진승이 봉기를 일으킨 후 여러 세력이 (가)에 반대하는 기치를 올렸는데 그 가운데 항우가 큰 세력을 이루었다. 유방 역시 이에 동참하였다. 한편, (가) 조정 내에서는 이사가 조고의 모함을 받아 사형당하였다.

- ① 9품중정제를 실시하였다.
- ② 내각 대학사를 설치하였다.
- ③ 화폐와 도량형을 통일하였다.
- ④ 통제거 등 대운하를 건설하였다.
- ⑤ 태학을 설립하고 오경박사를 두었다.


4. (가) 왕조에 대한 설명으로 옳은 것은?

(가)을/를 멸망케 하시고, 우리로 하여금 예언자 무함마드를 계승하도록 인도하신 알라께 찬양을 드립니다. 오, 백성들이여! 이제 비로소 천지에서 빛이 발하고, 태양이 낮의 근원에서 솟구치고 달이 자신의 자리에서 내려앉았습니다. 활을 만든 자가 그것을 집어 들자 화살이 그에게 되돌아오듯, 칼리프의 권리는 예언자의 가문으로 되돌아왔습니다. ... (중략) ... 알라께서는 제4대 칼리프가 살해당하자 칼리프직을 독점 세습했던 (가)의 군대에 맞서 우리가 승리할 수 있도록 도우셨습니다. 알라께서 백성들 앞에서 새로운 칼리프를 선포하셨습니다.

- ① 헤지라를 단행하였다.
- ② 이스파한을 수도로 삼았다.
- ③ 이베리아반도까지 진출하였다.
- ④ 시아파의 지원을 받아 개창되었다.
- ⑤ 탈라스에서 당의 군대를 격퇴하였다.

5. (가) 인물에 대한 설명으로 옳은 것은? [3점]

유럽을 만든 역사적 순간



그림은 중앙에 무릎 꿇은 (가)이/가 교황 레오 3세로부터 서로마 황제의 관을 받고 있는 모습을 묘사한 것이다. 그의 부친 피핀은 교황에게 이탈리아 중부 지역을 기증하여 교황령의 기원을 마련해 주었다. 메로베우스 왕조를 세운 클로비스가 로마 가톨릭교로 개종한 이후 프랑크 왕국과 로마 교회의 제휴는 이 대관식으로 정점에 이르렀다.

- ① 성상 파괴령을 반포하였다.
- ② 니케아 공의회를 소집하였다.
- ③ 카롤루스 르네상스를 일으켰다.
- ④ 유스티니아누스 법전을 편찬하였다.
- ⑤ 투르·푸아티에 전투에서 이슬람군을 물리쳤다.

세계사

2 (세계사)

사회탐구 영역

6. 교사의 질문에 대한 학생의 답변으로 가장 적절한 것은? [3점]

자료는 후량을 세운 태조의 이름을 순서대로 정리한 것입니다. 그가 살았던 시기에 있었던 사실을 말해 볼까요?

온 (溫) 성은 주씨이며, 농민 출신으로 형과 함께 황소의 반란군에 가담함.

↓

전충 (全忠) 황소를 배신하고 관군에 투항한 이후 반란을 평정한 공로로 천자로부터 '완전한 충성'을 뜻하는 '전충'이라는 이름을 하사받음.

↓

황 (晃) 애제로부터 신앙을 받아 후량의 황제로 즉위하면서 '황'으로 개명하였으며, 재위 6년째 되던 해에 사망함.

- ① 양세법이 시행되었어요.
- ② 팔기제가 운영되었어요.
- ③ 이갑제가 와해되었어요.
- ④ 지정은제가 도입되었어요.
- ⑤ 향거리선제가 실시되었어요.

7. 밑줄 친 '개혁'의 내용으로 가장 적절한 것은?

주제: 중국의 근대화를 이끈 인물

강유웨이는 서양 기술만을 모방하는 것을 넘어 일본의 메이지 유신을 본떠 정치 제도를 바꾸려 했다. 하지만 그를 비롯한 량치차오 등의 지식인들이 추진한 근대화 운동은 서태후를 중심으로 한 보수파의 공격으로 좌절됐지.

천두슈와 후스는 서양의 과학과 민주주의 수용을 주장했어. 유교 중심의 전통 문화를 비판하고 구윤리, 구예술, 구종교, 구문화를 타파하여 중국 사회의 변화를 도모하는 운동을 전개했어.

이들에 앞서 이홍장은 기계 제조가 외국의 도전을 막아 내기 위한 바탕이 되며 자강의 근본이라고 얘기했어. 이러한 생각을 가진 한족 출신 관료들은 서양식 기계와 화기를 도입하려는 개혁을 주도했지. 그렇다고 중국의 전통까지 바꾸자는 것은 아니었어.

- ① 폐번치현을 단행하였다.
- ② 천조전무 제도를 실시하였다.
- ③ 청묘법 등의 신법을 시행하였다.
- ④ 삼민주의를 강령으로 채택하였다.
- ⑤ 금릉 기기국 등의 군수 공장을 건설하였다.

8. (가)에 들어갈 내용으로 가장 적절한 것은? [3점]

이 자료는 16세기 교황 레오 10세가 발행한 문서로, 지은 죄를 용서받더라도 여전히 남아 있는 벌을 면제받을 수 있다는 증거였다. 이와 같은 증거는 일찍이 십자군에 참여할 것을 독려하기 위해 교황 우르바누스 2세가 발급하기도 하였다. 교황 레오 10세는 성 베드로 성당 증축에 필요한 비용을 마련하기 위해 이를 남발하였다. 이에 (가)

- ① 교황청을 아비뇽으로 옮겼다.
- ② 클레르몽 공의회가 개최되었다.
- ③ 카노사의 굴욕 사건이 일어났다.
- ④ 루터가 95개조 반박문을 발표하였다.
- ⑤ 위클리프가 교회의 세속화를 비판하였다.

9. (가), (나) 왕조에 대한 설명으로 옳은 것은?

(가) 와/과 (나) 은/는 모두 이란 계통이 세운 왕조였다. 알렉산드로스 제국의 분열을 틈타 아르사케스 1세에 의해 세워진 (가) 은/는 한과 로마 제국 사이에 위치하여 동서 교역으로 번영을 누렸고, 중국에서는 안식국이라 불리기도 하였다. 이후 로마와의 대립으로 쇠퇴하다가 (나) 에 멸망하였다. 3세기 초에 성립한 (나) 은/는 메소포타미아에서 인더스강에 이르는 제국을 건설하였고, 비잔티움 제국과의 계속된 전쟁과 왕실의 내분으로 국력이 쇠약해지다가 이슬람 세력에게 멸망하게 되었다.

- ① (가) - 마니교가 유행하였다.
- ② (가) - 페르세폴리스를 건설하여 수도로 삼았다.
- ③ (나) - 조로아스터교를 국교로 삼았다.
- ④ (나) - 왕의 눈, 왕의 귀로 불리는 감찰관을 파견하였다.
- ⑤ (가)와 (나) - 살라미스 해전에서 격돌하였다.

10. (가) 왕에 대한 설명으로 옳은 것은? [3점]

역사 인물 사진

춤추는 왕


그림은 (가) 이가 궁정 발레극에서 태양신 아폴론으로 출연한 모습이다. 그는 이를 통해 프롱드의 난으로 실추된 국왕의 권위를 회복하고 왕권을 강화하고자 하였다. 태양왕이라 불린 (가) 은/는 절대 군주의 이미지를 과시하기 위해 아폴론을 베르사유 궁전에 그려 놓았고, 아폴론이 이끄는 전차 조형물을 거대한 정원에 설치하였다.

- ① 낭트 칙령을 발표하였다.
- ② 레판토 해전에서 승리하였다.
- ③ 미국 독립 전쟁을 지원하였다.
- ④ 상트페테르부르크를 건설하였다.
- ⑤ 콜베르를 등용해 중상주의 정책을 펼쳤다.

11. 자료를 활용한 탐구 활동으로 가장 적절한 것은?

- ① 국풍 문화의 특징을 살펴본다.
- ② 도다이샤 창건 배경을 알아본다.
- ③ 원의 침공이 가져온 결과를 분석한다.
- ④ 쇼토쿠 태자의 불교 진흥책을 조사한다.
- ⑤ 산킨코타이 제도를 실시한 배경을 찾아본다.

12. 밑줄 친 '술탄'에 대한 설명으로 옳은 것은? [3점]



그림은 오스만 제국의 군대가 빈을 포위 공격하는 장면이다. 오스만 제국은 모하치 전투의 승리로 헝가리 일부를 정복하고 3년 뒤 빈 원정에 나섰다. 그림에는 포탄을 맞아 화염이 솟구치는 도시, 보급품을 운반하는 군용 낙타 등 당시의 상황이 생생하게 묘사되어 있다. 대략 12만 병력을 동원한 오스만 제국은 2만여 명에 불과한 적에 대해 수적 우위를 확보하고 있었다. 하지만 악천후에다가 보급 물자도 바닥을 드러냈고, 오랜 원정에 지친 병사들의 사기는 저하되어 있었다. 결국 술탄은 공격을 개시한 지 약 3주 만에 철수 명령을 내릴 수밖에 없었다. 17세기 후반 오스만 제국은 한차례 더 빈을 공격했지만 실패하였다.

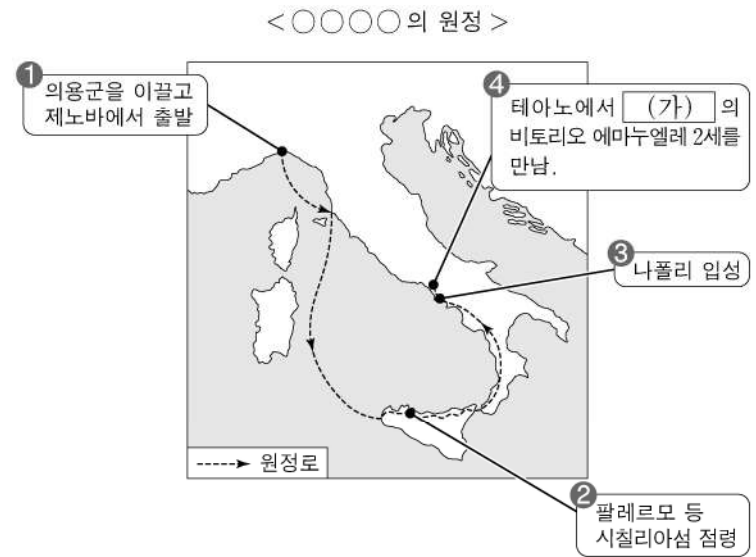
- ① 아바스 왕조로부터 술탄의 지위를 인정받았다.
- ② 이집트와 시리아를 지배하던 맘루크 왕조를 정복하였다.
- ③ 콘스탄티노폴리스를 점령하여 비잔티움 제국을 멸망시켰다.
- ④ 유럽 연합 함대를 물리쳐 동지중해의 제해권을 장악하였다.
- ⑤ 칭기즈 칸의 후예를 자처하여 몽골 제국의 재건을 내세웠다.

13. (가), (나) 국가에 대한 설명으로 옳은 것은?

(가) 은/는 스칸디나비아반도에서 철광석을 조달하는 (나) 의 보급로를 차단하려고 시도하였다. 이에 (나) 이가 먼저 덴마크를 공격하여 승리를 거두었다. 이어서 룩셈부르크와 네덜란드, 벨기에를 상대로 전격전을 감행하여 그들을 굴복시켰다. 또한 (가) 을/를 침공하여 수도를 함락시키고, 남부에 페탕 장군을 수반으로 하는 정부를 세웠다.

- ① (가) - 튀니지를 식민 지배하였다.
- ② (가) - 헤레로족의 봉기를 진압하였다.
- ③ (나) - 파쇼다 사건으로 영국과 충돌하였다.
- ④ (나) - 호르무즈, 마카오 등 거점 항구를 장악하였다.
- ⑤ (가)와 (나) - 폴란드를 분할 점령하였다.

14. (가) 왕국에서 있었던 사실로 옳은 것은? [3점]




- ① 데브시르메 제도가 실시되었다.
- ② 알자스·로렌 지방이 병합되었다.
- ③ 데카브리스트의 봉기가 일어났다.
- ④ 카보우르가 재상으로 활동하였다.
- ⑤ 줄루족과의 이산들어나 전투가 벌어졌다.

15. (가), (나) 국가에 대한 설명으로 옳은 것은?

『본초강목』에서는 아부용을 앵속화의 진액이라 설명한다. 이를 피우는 것이 유행하여 민간의 피해가 심각하였다. 이 물건의 밀수로 매년 (가) 의 동인도 회사 선박이 막대한 양의 은을 인도로 가져가자 (나) 의 재정이 파탄날 지경에 이르렀다. 이에 (나) 의 황제가 임칙서를 광저우에 파견하여 남쪽 변방에 밀수 금지 규정을 엄하게 세우고 폐단의 근원을 제거 하라고 명하였다. 이처럼 강화된 밀수 단속 조치에 불만을 품은 (가) 의 상인들은 본국에 도움을 요청하였고 결국 전쟁이 일어났다.

- ① (가) - 플라시 전투에서 승리하였다.
- ② (가) - 포토시 은광 개발을 주도하였다.
- ③ (나) - 동유 운동을 전개하였다.
- ④ (나) - 장쉐량이 시안 사건을 일으켰다.
- ⑤ (가)와 (나) - 네르친스크 조약을 체결하였다.

16. (가) 인물에 대한 설명으로 옳은 것은? [3점]



이 자료는 베이징에 있는 (가)의 묘비 탁본이다. 묘비명은 라틴어와 한문으로 쓰여 있는데, 주요 내용은 다음과 같다.

리(利) 선생은 이탈리아 사람으로 휘는 마두, 호는 서태이다. 그는 예수회 선교사로 중국에서 활동하였으며 베이징에 예수회 선교사들이 머무는 거처를 처음으로 설립하였다.

(가)은/는 중국에서 약 28년 동안 활동하면서 크리스토포 콜럼버스 교리 문답서인 『천주실의』를 저술하였고, 서광계와 함께 유클리드의 기하학 서적을 번역하여 『기하원본』을 간행하였다.

- ① 수시력을 편찬하였다.
- ② 신학대전을 집필하였다.
- ③ 사고전서를 간행하였다.
- ④ 우신에찬을 저술하였다.
- ⑤ 곤여만국전도를 제작하였다.

17. (가) 왕조 시기의 문화에 대한 설명으로 옳은 것은?



위 지폐에는 1975년에 발사된 인도 최초의 인공위성인 '아리아바타호'가 그려져 있다. 이 인공위성은 (가) 시기의 수학자이자 천문학자인 아리아바타를 기려 명명되었다. 그는 에프탈의 침입과 왕위 계승을 둘러싼 내분 등으로 혼란스러운 시기를 살았다. 그는 이러한 어려운 상황 속에서도 원주율(π)의 근삿값을 계산하고 지구의 둘레를 측정하였을 뿐만 아니라, 지구가 자전한다는 사실을 파악하는 등 과학 분야에 큰 업적을 이룩하였다.

- ① 자이나교가 출현하였다.
- ② 아잔타 석굴 사원이 조성되었다.
- ③ 이븐 시나가 의학전범을 저술하였다.
- ④ 황금 사원이 암리차르에 건설되었다.
- ⑤ 쿠틀브 미나르가 델리에 건립되었다.

18. (가) 국가에 대한 설명으로 옳은 것은?

◇◇ 일보 1948년 ○월 ○일

유럽에도 곧 38선!
베를린-서유럽 간 교통 단절

(가)은/는 베를린과 영국, 미국, 프랑스 점령 지구 사이의 모든 철도와 도로를 차단하였다. 미국 등은 항공편으로 베를린에 거주하는 서방 주민들에게 보급품을 공수하였다.

- ① 마셜 계획을 추진하였다.
- ② 코메콘 창설을 주도하였다.
- ③ 마스트리흐트 조약을 체결하였다.
- ④ 북대서양 조약 기구를 결성하였다.
- ⑤ 브렉시트(유럽 연합 탈퇴)를 결정하였다.

19. 밑줄 친 '짐'의 재위 시기에 볼 수 있는 모습으로 가장 적절한 것은? [3점]

짐이 다스리기 시작한 지 어느덧 6년째 되는 해에 접어들었다. 한때 우리 왕실은 명맥이 끝난 것처럼 보였으나 부활하였다. 이에 짐은 국가의 안녕을 지키고 우리 부르봉 왕실을 해하려는 모든 기도를 막아 내기 위해 우리에게 속한 권리를 사용할 필요성을 천명해 왔다. 불합리한 선거 규정을 개혁할 필요성을 느껴서 이에 아래의 여러 조항을 백성에게 명하노니 공손하게 받들지어다.

- 정기 간행물 발행의 자유는 정지된다.
- 의회는 해산한다.
- 선거 자격과 피선거 자격은 오로지 소정의 남세액에 의해 결정된다.

- ① 3월 혁명으로 실각하는 메테르니히
- ② 농노 해방령을 선포하는 알렉산드르 2세
- ③ 그리스 독립 전쟁을 지원하는 유럽 지식인
- ④ 독일 제국 성립 선포식에 참여하는 고위 관리
- ⑤ 제1차 선거법 개정에 환호하는 런던의 신흥 상공업자

20. 밑줄 친 '나'에 대한 설명으로 옳은 것은?

존경하는 대처 수상! 존경하는 시장! 신사, 숙녀 여러분!
나는 영국의 런던 길드홀에서 외국인으로서 연설하게 된 것을 영예롭게 생각하고 있습니다. 영국 국민 전체가 주목하고 있는 가운데 나는 책임감을 느끼고 있습니다.

여러분! 우리의 페레스트로이카는 무엇보다도 먼저 국내 발전의 필요성에 입각한 심오하고 기본적인 과정입니다. ... (중략) ... 우리의 민주화는 국제 문제에 있어서 공개성과 민주적 원칙을 확립했습니다. 우리 나라의 합법적 국가 건설 방침은 국가 간 관계에서 법률의 역할 증대 경향과 부합되고 있습니다. 경제 개혁으로 우리는 세계 경제에 보다 깊이 개입될 것이며 진정으로 새로운 세계 경제 질서의 편성을 촉진시킬 수 있을 것입니다.

- ① 신경제 정책[NEP]을 실시하였다.
- ② 알타 회담에서 대일전 참전을 결정하였다.
- ③ 전략 무기 제한 협정[SALT]을 체결하였다.
- ④ 파리 강화 회의에 참석하여 민족 자결의 원칙을 제안하였다.
- ⑤ 동유럽에 대한 불간섭을 선언하여 동유럽의 자유화에 일조하였다.

* 확인 사항

○ 답안지의 해당란에 필요한 내용을 정확히 기입(표기)했는지 확인 하시오.