

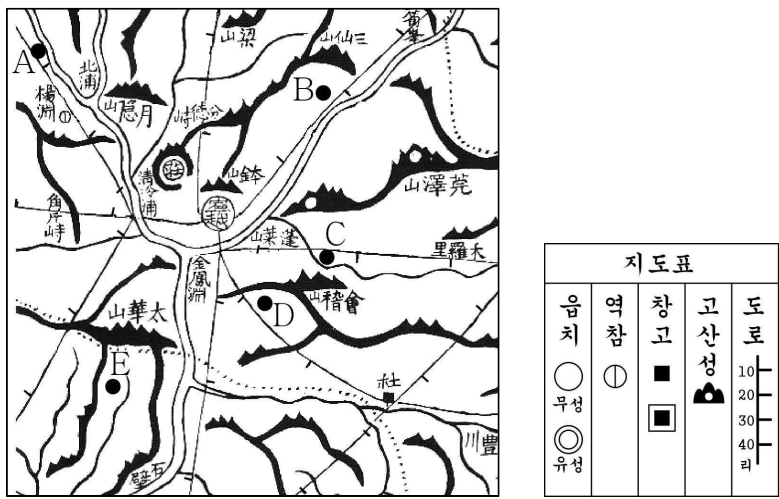
제 4 교시

사회탐구 영역 (한국지리)

성명 수험번호 3 제 [] 선택

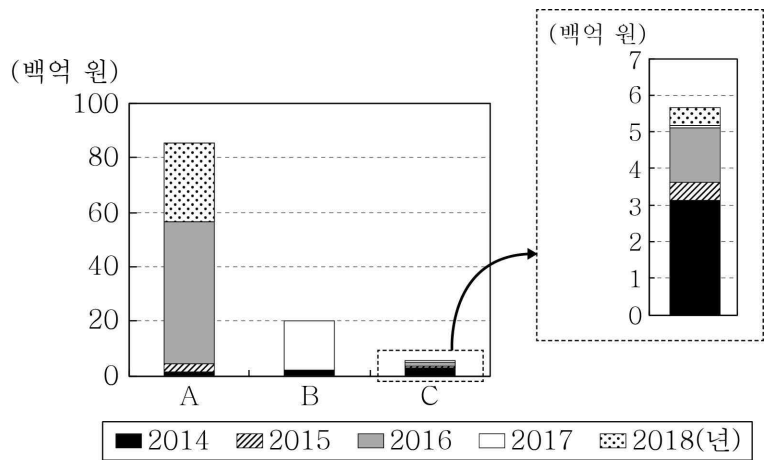
1. 다음 자료는 사극 영화 대본의 일부이다. 주인공의 고향집이 있는 장소를 대동여지도의 A~E에서 고른 것은?

나그네: 그쪽 고향집은 어떤 곳이요?
 주인공: (눈을 지그시 감으며) 내 고향집은 읍치에서 도로를 따라 20리를 넘지 않는 곳에 있소. 뒤에 있는 산이 겨울철 차가운 북서풍을 막아 주는 양지바른 곳에 있소. 집 앞에는 배가 다닐 수 있는 하천도 있소.



- ① A ② B ③ C ④ D ⑤ E

2. 그래프는 세 자연재해의 연도별 피해 복구비를 나타낸 것이다. A~C에 대한 옳은 설명만을 <보기>에서 고른 것은? (단, A~C는 각각 대설, 지진, 태풍 중 하나임.)

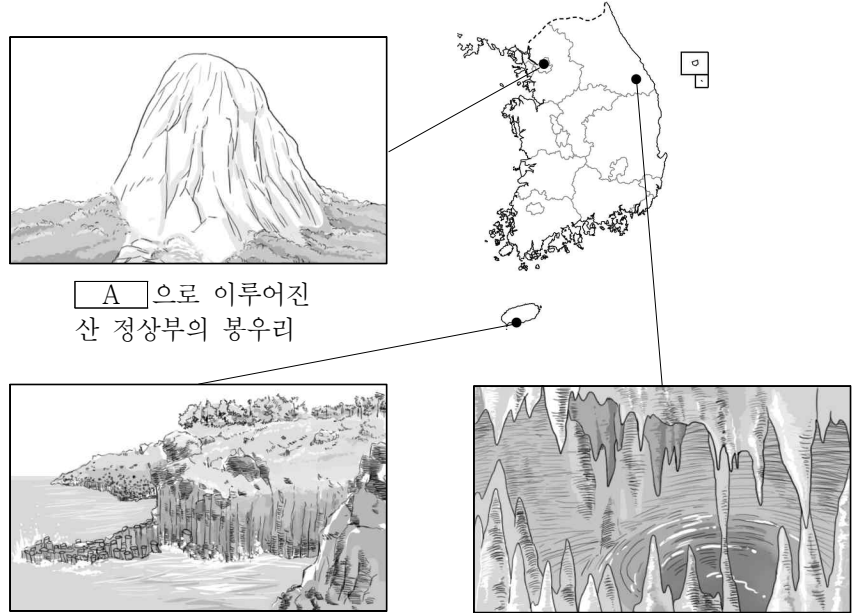


* 복구비는 2018년 환산 가격 기준임.

< 보 기 >
 가. A로 인한 피해액은 경기도 전남보다 많다.
 나. B는 기후적 요인에 의해서 발생한다.
 다. C의 발생 빈도는 겨울철이 여름철보다 높다.
 라. A는 C보다 산사태를 유발하는 경우가 많다.

- ① 가, 나 ② 가, 다 ③ 나, 다
 ④ 나, 라 ⑤ 다, 라

3. A~C 암석에 대한 설명으로 옳은 것은? (단, A~C는 각각 석회암, 현무암, 화강암 중 하나임.) [3점]



A로 이루어진 산 정상부의 봉우리

B에 발달한 다각형 기둥 모양의 절리

C이 물에 녹아 형성된 동굴

- ① A에서는 공룡 발자국 화석이 많이 발견된다.
 ② C는 대부분 바다 밑에서 형성되었다.
 ③ A는 C보다 형성 시기가 이른다.
 ④ B는 A보다 우리나라 암석 분포에서 차지하는 비율이 높다.
 ⑤ B는 퇴적암, C는 화성암으로 분류할 수 있다.

4. 다음은 한국지리 원격 수업 장면의 일부이다. 질문에 옳게 답한 학생만을 있는 대로 고른 것은?

한국지리 원격 수업 학습방

아래에 링크된 신문 기사를 읽고 질문에 댓글을 달아 주세요.

우리나라 합계 출산율 세계에서 가장 낮아
<https://한국지리.kr/study1/...>

사상 최초로 올해 인구 자연 감소 예상
<https://한국지리.kr/study2/...>

질문 1: 위와 같은 현상이 나타나게 된 원인은 무엇일까요?
 나. 갑: 남아 선호 사상이 심화되고 있기 때문입니다.
 을: 초혼 연령 상승과 자녀에 대한 가치관 변화 때문입니다.

질문 2: 위와 같은 현상이 지속될 경우 예상되는 문제점에는 무엇이 있을까요?
 병: 촌락과 지방 중소 도시에서는 유소년을 위한 교육, 의료 등의 시설 유지가 어려워집니다.

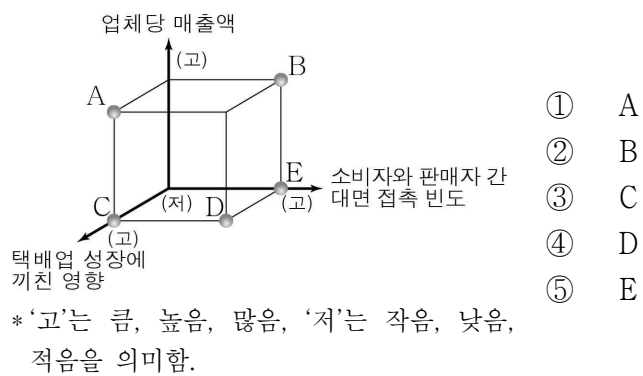
질문 3: 위와 같은 현상의 대책으로는 어떤 것이 있을까요?
 정: 육아 휴직 활성화, 직장 내 보육 시설 확대가 있습니다.

- ① 갑, 을 ② 갑, 병 ③ 을, 정
 ④ 갑, 병, 정 ⑤ 을, 병, 정

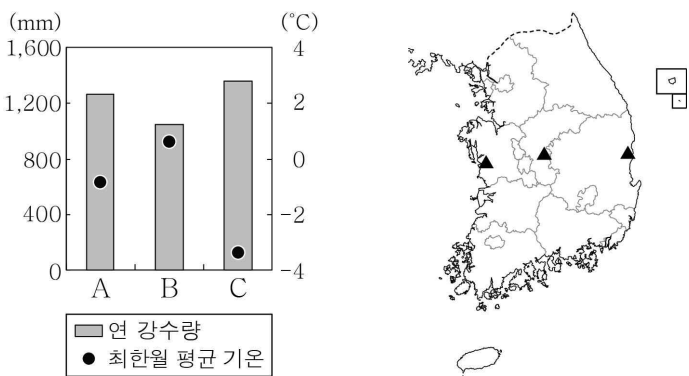
한국지리

5. 다음 자료의 (가)와 비교한 (나)의 상대적 특징을 그림의 A~E에서 고른 것은? (단, (가), (나)는 각각 편의점, 무점포 소매업 중 하나임.)

소매 업체	특징
(가)	<ul style="list-style-type: none"> 매장 없이 소비자에게 상품을 판매함. 상거래 활동에 시·공간적 제약을 적게 받음.
(나)	<ul style="list-style-type: none"> 대체로 소규모 매장에서 상품을 진열하여 판매함. 유동 인구가 많은 곳에 입지하는 경향이 있음.



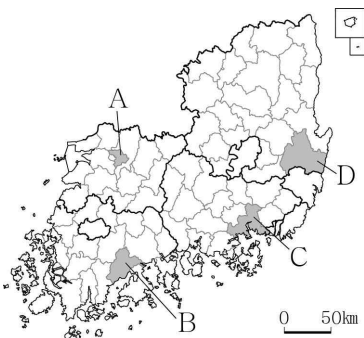
6. 그래프는 지도에 표시된 세 지역의 기후 자료이다. A~C 지역에 대한 설명으로 옳은 것은? [3점]



- ① A는 북동 기류의 영향으로 겨울 강수량이 많다.
- ② C는 서해안에 위치해 있다.
- ③ A는 B보다 최난월 평균 기온이 낮다.
- ④ B는 C보다 서리 일수가 많다.
- ⑤ C는 A보다 기온의 연교차가 크다.

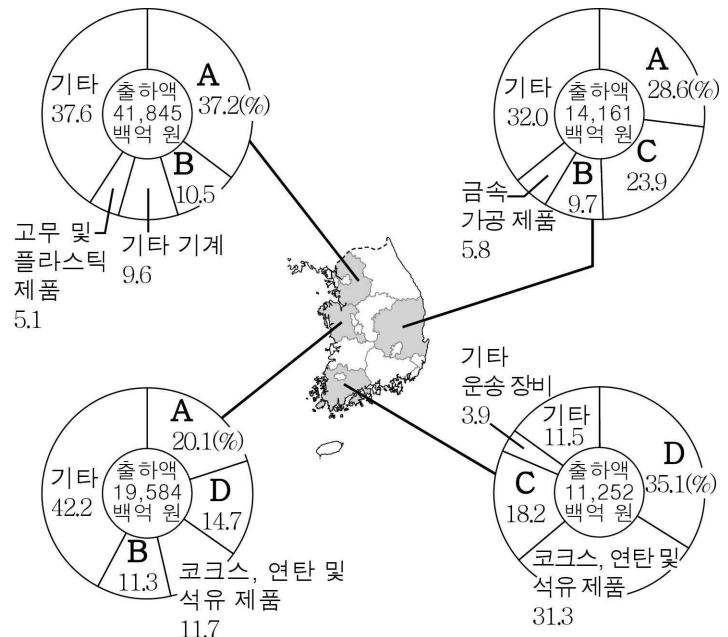
7. (가), (나) 지역을 지도의 A~D에서 고른 것은?

지역	특징
(가)	<ul style="list-style-type: none"> 지리적 표시제 제1호로 등록된 녹차 생산지임. 다향(茶香) 대축제가 개최됨.
(나)	<ul style="list-style-type: none"> 원자력 발전소가 있음. 세계 문화유산으로 등재된 역사 마을이 있음.



- | | | |
|---|-----|-----|
| | (가) | (나) |
| ① | A | B |
| ② | B | A |
| ③ | B | D |
| ④ | C | A |
| ⑤ | C | D |

8. 지도는 네 지역의 제조업 업종별 출하액 현황을 나타낸 것이다. A~D에 대한 설명으로 옳은 것은? (단, A~D는 각각 1차 금속, 자동차 및 트레일러, 화학 물질 및 화학 제품(의약품 제외), 전자 부품·컴퓨터·영상·음향 및 통신 장비 제조업 중 하나임.) [3점]



* 상위 4개 업종 이외는 기타로 처리함.
** 종사자 규모 10인 이상 사업체를 대상으로 함. (2018년)

- ① A는 적환지 지향형 공업이다.
- ② B의 출하액은 경기가 충남보다 많다.
- ③ A는 C보다 최종 제품의 무게가 무겁고 부피가 크다.
- ④ B는 D보다 종사자당 출하액이 많다.
- ⑤ C에서 생산된 제품은 D의 주요 재료로 이용된다.

9. 다음은 한국지리 수업 장면이다. 발표 내용이 옳은 학생만을 고른 것은? [3점]

이 그래프는 우리나라 인구 규모 상위 4개 도시의 인구 변화를 나타낸 것입니다. 이에 대해 발표해 볼까요?

* 도시 인구는 해당 연도의 행정 구역을 기준으로 함.

1980년, 2018년 모두 중주 도시화 현상이 나타납니다.

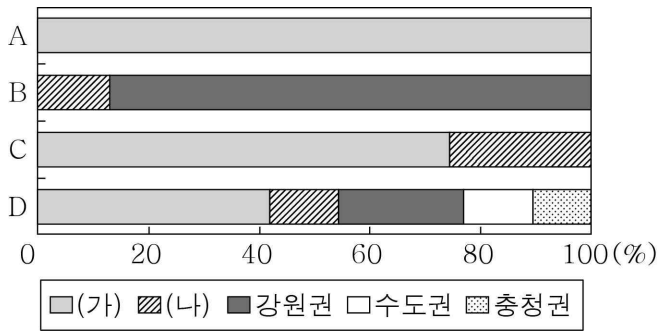
1990년대 이후 (가) 인구가 감소한 원인 중 하나는 교외화 현상입니다.

(라)는 (나)보다 지역 내 총생산이 많습니다.

(다), (라)는 모두 영남권에 속합니다.

- ① 갑, 을 ② 갑, 정 ③ 을, 병 ④ 을, 정 ⑤ 병, 정

10. 그래프는 1차 에너지의 권역별 생산 비율을 나타낸 것이다. 이에 대한 설명으로 옳은 것은? (단, (가), (나)는 각각 영남권, 호남권 중 하나이며, A~D는 각각 석탄, 수력, 원자력, 천연가스 중 하나임.) [3점]



- * 제주권은 제외함. (2017년)
- A는 고생대 평균 누층군에 주로 매장되어 있다.
 - B는 산업용보다 가정용 연료로 많이 이용된다.
 - A는 B보다 연소 시 대기 오염 물질 배출량이 많다.
 - C는 D보다 우리나라 1차 에너지 소비 구조에서 차지하는 비율이 높다.
 - (가)는 호남권, (나)는 영남권이다.

11. 다음 자료의 (가)~(다)에 들어갈 내용으로 옳은 것은? [3점]

[서술형 문항] 표는 전북의 농업 현황을 나타낸 것이다. 이 지역에 나타난 변화를 세 가지만 서술하시오.


연도	항목	농가(천 가구)			경지 면적(천 ha)		
		소계	전업	겸업	소계	논	밭
2005		122	86	36	212	160	52
2018		95	61	34	197	128	69

<모범 답안 예시>

- 전업 농가 비율이 (가) 하였다.
- 가구당 경지 면적이 (나) 하였다.
- 경지 면적 중 밭 비율이 (다) 하였다.

- | | | | | | |
|------|-----|-----|------|-----|-----|
| (가) | (나) | (다) | (가) | (나) | (다) |
| ① 감소 | 감소 | 증가 | ② 감소 | 증가 | 감소 |
| ③ 감소 | 증가 | 증가 | ④ 증가 | 감소 | 감소 |
| ⑤ 증가 | 감소 | 증가 | | | |

12. A~C 발전에 대한 설명으로 옳은 것은?



- A는 낮과 밤의 발전량 차이가 거의 없다.
- C의 발전량은 2018년 제주가 경기보다 많다.
- A는 B보다 2018년 우리나라 총 발전량에서 차지하는 비율이 높다.
- B는 A보다 발전 시 소음으로 인한 피해가 작다.
- A~C 중 상용화된 시기는 C가 가장 이른다.

13. 다음 글의 ㉠~㉣에 대한 옳은 설명만을 <보기>에서 고른 것은?

영역은 한 국가의 주권이 미치는 공간적 범위로 영토·영해·영공으로 구성된다. 영토는 땅으로 구성된 국가의 영역으로, ㉠ 우리나라 영토의 총면적은 약 22.3만 km²이다. 연안국의 주권이 미치는 해양의 범위를 영해라고 하는데, 일반적으로 ㉡ 기선으로부터 12해리까지의 수역이다. ㉢ 영공은 영토와 영해의 수직 상공으로 항공 교통이 발달하고 우주 개발이 활발해지면서 그 중요성이 커지고 있다. 한편, 해수면에서 해저까지 연안국의 천연자원 탐사·개발, 어업 활동, 인공 섬 설치 등과 같은 경제적 권리가 배타적으로 보장되는 수역을 ㉣ 배타적 경제 수역이라고 한다.

< 보기 >

- ㉠에서 차지하는 비율은 북한이 남한보다 높다.
- 동해에서 ㉡은 주로 최외곽 도서를 연결한 선이다.
- ㉢에는 당사국의 허가 없이 다른 나라 비행기가 통과할 수 없다.
- ㉣에는 영해가 포함된다.

- | | | |
|--------|--------|--------|
| ① ㄱ, ㄴ | ② ㄱ, ㄷ | ③ ㄴ, ㄷ |
| ④ ㄴ, ㄹ | ⑤ ㄷ, ㄹ | |

14. 다음 자료는 『택리지』의 일부이다. ㉠~㉣에 대한 옳은 설명만을 <보기>에서 고른 것은? [3점]

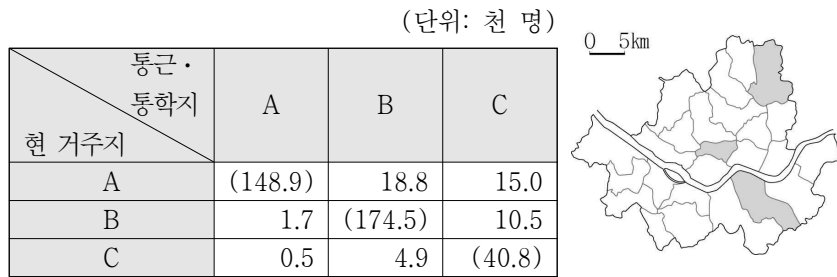
- 금사사(金沙寺)의 바닷가는 모두 모래사장이다. 모래가 무척 고와서 금빛과 같으며 햇빛을 받으면 20리 너머까지 반짝인다. 바람이 불 때마다 모래가 이리저리 움직여서 ㉠ 모래 언덕이 동쪽에 생겼다가 서쪽에 생기는 등 갑자기 좌우로 움직여 그 위치가 일정치 않다.
- 나주 서쪽에는 ㉡ 칠산 바다가 있다. 예전에는 수심이 깊었으나 근래에는 모래와 빨이 쌓여 얕아지면서, 썰물 때면 수심이 겨우 무릎이 빠질 정도이다. 가운데 한 길만이 마치 강줄기 같이 깊어서 배들이 여기로 지나다닌다.
- 경포대 앞의 ㉢ 호수는 둘레가 20리이며, 물 깊이는 사람의 배꼽에 닿을 정도지만 작은 배는 다닐 수 있다. 동편에 강문교(江門橋)가 있고, 다리 너머에는 ㉣ 흰 모래 독이 바다를 가로막고 있다. 호수에는 바닷물이 드나들고, ㉤ 독 너머로는 푸른 바다가 하늘까지 이어져 있다.

< 보기 >

- ㉠은 만보다 곳에 잘 발달한다.
- ㉡의 물은 주로 농업용수로 사용된다.
- ㉢은 파랑과 연안류의 퇴적 작용으로 형성된다.
- ㉣은 ㉤보다 조수 간만의 차가 크다.

- | | | |
|--------|--------|--------|
| ① ㄱ, ㄴ | ② ㄱ, ㄷ | ③ ㄴ, ㄷ |
| ④ ㄴ, ㄹ | ⑤ ㄷ, ㄹ | |

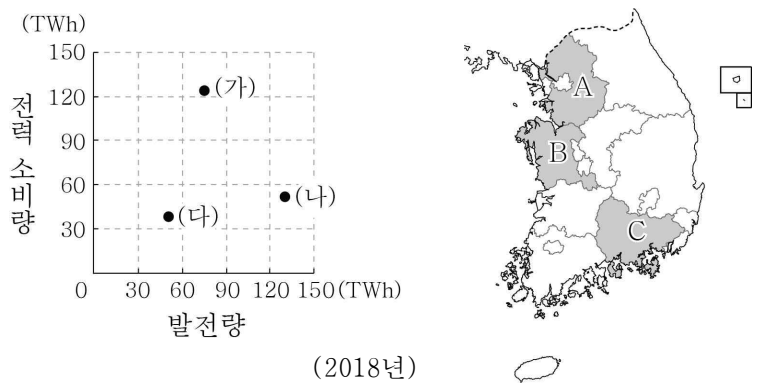
15. 표는 지도에 표시된 세 지역 간 통근·통학 인구를 나타낸 것이다. A~C 지역에 대한 설명으로 옳은 것은? [3점]



* ()안의 수치는 지역 내 통근·통학 인구임. (2015년)

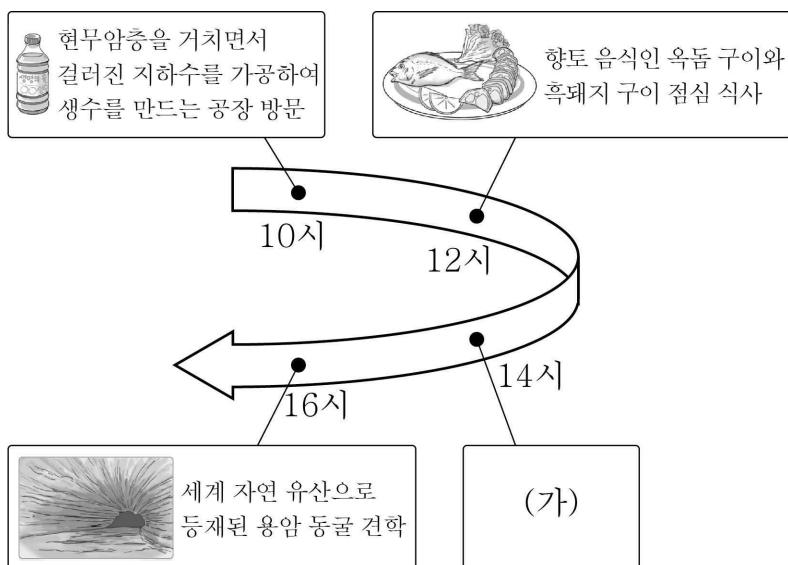
- ① A에는 도심이 위치한다.
- ② B는 상주인구가 주간 인구보다 많다.
- ③ A는 C보다 상업지의 평균 지가가 높다.
- ④ B는 A보다 생산자 서비스업 사업체 수가 많다.
- ⑤ C는 B보다 시가지의 형성 시기가 늦다.

16. 그래프의 (가)~(다) 지역을 지도의 A~C에서 고른 것은? [3점]



- | | | | | | | | |
|---|-----|-----|-----|---|-----|-----|-----|
| | (가) | (나) | (다) | | (가) | (나) | (다) |
| ① | A | B | C | ② | A | C | B |
| ③ | B | A | C | ④ | B | C | A |
| ⑤ | C | B | A | | | | |

17. 다음 자료는 답사 일정의 일부이다. (가)에 들어갈 내용으로 가장 적절한 것은?



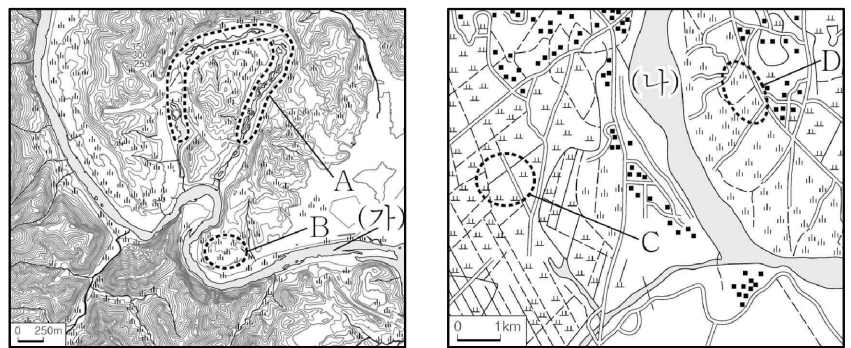
- ① 갯벌을 간척하여 조성한 대규모 농경지 답사
- ② 고팡이 설치된 전통 가옥들이 있는 민속 마을 답사
- ③ 공업 육성을 위해 조성된 석유 화학 공업 단지 답사
- ④ 지역의 탄광 문화를 체험할 수 있는 석탄 박물관 답사
- ⑤ 서늘한 여름철 기후를 이용해 배추를 재배하는 고랭지 답사

18. 그래프는 지도에 표시된 세 지역의 인구 특성을 나타낸 것이다. A~C 지역에 대한 설명으로 옳은 것은? [3점]



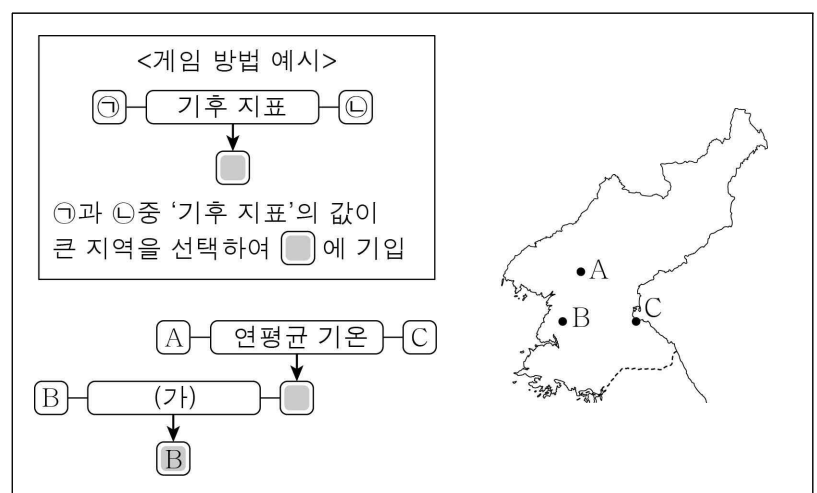
- ① A는 1차 산업보다 2차 산업 취업자 수가 많다.
- ② C는 외국인 남성보다 외국인 여성이 많다.
- ③ B는 A보다 노령화 지수가 높다.
- ④ C는 B보다 제조업 생산액이 많다.
- ⑤ A~C 중 인구 밀도는 A가 가장 높다.

19. 지도에 대한 설명으로 옳지 않은 것은?



- ① A는 과거 하천의 유로였다.
- ② B에서는 둥근 모양의 자갈이 발견된다.
- ③ B는 C보다 지표면의 평균 경사도가 크다.
- ④ C는 D보다 퇴적물의 평균 입자 크기가 크다.
- ⑤ (가)는 (나)보다 지반 용기의 영향을 크게 받았다.

20. 다음은 카드 게임을 활용한 수업 활동지의 일부이다. (가)에 들어갈 내용으로 옳은 것은?



- ① 무상 기간
- ② 연 강수량
- ③ 겨울 강수량
- ④ 기온의 연교차
- ⑤ 최한월 평균 기온

* 확인 사항

○ 답안지의 해당란에 필요한 내용을 정확히 기입(표기)했는지 확인하십시오.