

사회탐구 영역(사회·문화)

제 4 교시

성명

수험 번호 2

제 [] 선택

1

1. 밑줄 친 ㉠, ㉡과 같은 현상의 일반적인 특징에 대한 설명으로 옳은 것은?

전문가들은 감염병을 예방하는 위생 수칙 중 하나로 ㉠ 비누로 손 씻기를 강조하고 있다. 비누에 함유되어 있는 ㉡ 계면 활성제 성분이 바이러스의 바깥 지방층을 녹여 바이러스를 죽이기 때문이다. 따라서 감염병 예방을 위해서는 자주 손을 씻어야 하며 손을 씻을 때는 30초 이상 비누칠을 해야 한다.

- ① ㉠과 같은 현상은 상위 법칙의 지배를 받는다.
- ② ㉠과 같은 현상은 확률의 원리가 적용된다.
- ③ ㉠과 같은 현상은 ㉡과 같은 현상과 달리 불가치적이다.
- ④ ㉠과 같은 현상은 ㉡과 같은 현상에 비해 인과 관계가 분명하다.
- ⑤ ㉠과 같은 현상은 ㉡과 같은 현상과 달리 경험적 자료로 연구가 가능하다.

2. 다음에 나타난 문화 변동에 따른 문제에 대한 설명으로 가장 적절한 것은?

스마트폰이 개발되고 다양한 기능이 추가되면서 스마트폰은 현대인에게 일상에서 없어서는 안 될 필수품이 되었다. 하지만 사람들이 시간과 장소를 가리지 않고 스마트폰을 사용하면서 이에 따른 문제도 빈번하게 발생하고 있다. 단적인 예로 운전 중 스마트폰 사용으로 인한 교통사고를 들 수 있다. 운전을 하면서 스마트폰을 사용하는 것은 음주 운전만큼이나 위험성이 높다는 연구 결과가 발표되기도 했지만 운전 중 스마트폰 사용에 관한 사람들의 의식 수준은 여전히 낮은 단계에 머물러 있다.

- ① 외래문화의 유입을 거부하면서 나타나는 현상이다.
- ② 계층 간 생활 양식의 차이가 심화되어 나타나는 현상이다.
- ③ 대중 매체의 일방향적인 문화 전달로 인해 나타나는 현상이다.
- ④ 물질문화와 비물질문화의 변동 속도 차이에서 비롯되는 현상이다.
- ⑤ 기존 문화를 유지하려는 집단과 변화시키려는 집단 간 갈등에서 비롯되는 현상이다.

3. 다음은 사회·문화 현상의 연구 방법 A, B의 특징을 서술한 것이다. 이에 대한 설명으로 옳은 것은? [3점]

○ A는 방법론적 이원론, B는 방법론적 이원론에 기반한다.
○ A는 B와 달리 (가)
○ B는 A와 달리 (나)

- ① A는 질적 연구 방법, B는 양적 연구 방법이다.
- ② A에서는 연구자의 직관적 통찰이 주로 활용된다.
- ③ B는 변수 간 관계에 대한 법칙 발견을 목적으로 한다.
- ④ (가)에는 '연구자와 연구 대상자 간 정서적 교감을 중시한다.'가 들어갈 수 있다.
- ⑤ (나)에는 '연구 대상자의 주관적 세계에 대한 이해를 중시한다.'가 들어갈 수 있다.

4. 다음 글에 나타난 개인과 사회의 관계를 바라보는 관점에 부합하는 진술만을 <보기>에서 고른 것은?

개인은 사회의 틀 안에서 살아간다. 언어, 예의범절, 가족 관계, 경제 활동 등 모든 영역에 걸쳐 개인의 삶은 사회의 영향력 아래 있다. 어떤 행위가 권장되거나 금지되는지는 사회에 따라 정해지는 것으로, 이는 특정한 개인의 희망 및 욕망과는 독립적인 문제이다. 또한 사회는 특정한 개인의 생애를 초월하는 역사적 실체이다. 사회는 누군가가 태어나기 이전부터 존재하고 있었으며 그가 세상을 떠난 후에도 존속할 것이다. 전체 사회의 차원에서 보면 각 개인의 삶은 눈에 띄지 않는 에피소드에 불과하다.

< 보기 >

- ㄱ. 개인은 사회에 의해 구조화된 행동을 한다.
- ㄴ. 개인의 주체성이 사회의 구성성보다 우선한다.
- ㄷ. 사회는 개인의 특성과는 다른 독자적인 특성을 지닌다.
- ㄹ. 사회 규범은 개인들이 그것을 옳다고 믿기에 존재한다.

- ① ㄱ, ㄴ ② ㄱ, ㄷ ③ ㄴ, ㄷ ④ ㄴ, ㄹ ⑤ ㄷ, ㄹ

5. 다음 자료에 대한 옳은 분석만을 <보기>에서 고른 것은? [3점]

(가), (나)는 갑, 을이 아래 안내문에 따라 자신이 소속된 사회 집단에 대해 작성한 것이다.

안내문

- 자신의 이름과 소속된 사회 집단을 표에 적으세요.
- 자신의 가치관·태도·행동 등의 기준으로 여기는 집단은 비교란에 ★표시를 하세요.

(가)

이름	소속된 사회 집단	비고
	가족	★
갑	○○ 기업	★
	○○ 기업 내 공연 감상 동아리	★
	△△ 고교 총동문회	

(나)

이름	소속된 사회 집단	비고
	가족	
을	◇◇ 대학교	
	동네 조기 축구회	★
	동문 보호 시민 단체	★

< 보기 >

- ㄱ. (가), (나)에는 각각 2개의 자발적 결사체가 적혀 있다.
- ㄴ. (가)에는 (나)와 달리 비공식 조직이 적혀 있다.
- ㄷ. (가)에는 (나)보다 공동 사회가 많이 적혀 있다.
- ㄹ. (나)에는 (가)보다 작성자의 준거 집단이 많이 적혀 있다.

- ① ㄱ, ㄴ ② ㄱ, ㄷ ③ ㄴ, ㄷ ④ ㄴ, ㄹ ⑤ ㄷ, ㄹ

2 (사회·문화)

사회탐구 영역

6. 밑줄 친 ㉠ ~ ㉣에 대한 옳은 설명만을 <보기>에서 고른 것은?

㉠ 대학 졸업 후 ㉡ 방송사 기자가 된 갑은 중요한 해외 출장을 앞두고 있었다. 그동안 집중적으로 취재해 온 사건의 주요 인물이 해외 체류 중인데, 그가 갑의 간곡한 인터뷰 요청에 응하여 직접 만나기로 약속한 것이다. 갑은 어렵게 성사된 이번 인터뷰가 ㉢ 기자로서의 자신의 역량을 높이 평가받는 계기가 될 것으로 기대하고 있었다. 그러나 출국 며칠 전 ㉣ 어머니가 갑작스러운 사고로 병원에 입원하게 되자 갑은 출장을 가야 할지 ㉤ 말로서 병상을 지켜야 할지 ㉥ 고민에 빠졌다.

< 보 기 >

- ㄱ. ㉠과 ㉡은 모두 공식적 사회화 기관이다.
- ㄴ. ㉢은 갑의 역할 행동이다.
- ㄷ. ㉣은 ㉤과 달리 성취 지위이다.
- ㄹ. ㉤은 갑의 역할 갈등이다.

- ① ㄱ, ㄴ ② ㄱ, ㄷ ③ ㄴ, ㄷ ④ ㄴ, ㄹ ⑤ ㄷ, ㄹ

7. 다음 글에 나타난 일탈 이론에 대한 설명으로 옳은 것은? [3점]

태어날 때부터 범죄인의 특성을 가지고 태어나는 사람은 없다. 범죄 행위도 인간의 다른 사회적 행위들과 마찬가지로 사회화의 결과이다. 즉, 범죄 집단과 친밀하고 빈번하게 상호 작용하면서 범죄 기술, 법을 어겨도 된다는 가치관 등을 학습함으로써 범죄를 저지르게 되는 것이다.


- ① 일탈 행동의 발생 원인을 사회 구조적인 차원에서 설명한다.
- ② 일탈 행동 자체보다 상호 작용을 통한 낙인 과정에 주목한다.
- ③ 일탈 행동이 일탈자와의 차별적인 접촉에서 비롯된다고 본다.
- ④ 급격한 사회 변동에 따른 아노미 상태에서 일탈 행동이 발생한다고 설명한다.
- ⑤ 문화적 목표와 제도적 수단 간의 괴리로 인해 일탈 행동이 발생한다고 설명한다.

8. 밑줄 친 ㉠ ~ ㉣에 대한 설명으로 옳은 것은? [3점]

갑은 ㉠ 문학 프로그램이 청소년의 게임 중독 치료에 효과가 있을 것이라는 가설을 검증하기로 하였다. 먼저 ㉡ □□ 중학교 학생 500명을 대상으로 게임 중독 척도 검사를 실시하고 이들 중 중독 척도 점수가 높아 ㉢ 치료가 필요한 학생 50명을 선별하였다. 이후 이들을 무작위로 25명씩 A, B 두 집단으로 나눠 A 집단을 대상으로 3개월간 문학 프로그램을 진행한 뒤, 두 집단 모두에게 다시 ㉣ 게임 중독 척도 검사를 실시하였다. ㉤ 중독 척도 점수를 분석한 결과, ㉥ A 집단의 평균 점수는 이전보다 통계적으로 유의미하게 낮아진 반면 ㉦ B 집단의 평균 점수는 이전과 차이가 거의 없었다.


- ① ㉠은 종속 변수이다.
- ② ㉡은 모집단, ㉢은 표본이다.
- ③ ㉢은 독립 변수 처리의 효과를 측정하기 위한 검사이다.
- ④ ㉣은 2차 자료이다.
- ⑤ ㉤은 통계 집단, ㉥은 실험 집단이다.

9. 사회 불평등 현상을 바라보는 갑, 을의 관점에 대한 설명으로 옳은 것은? [3점]



갑

○○ 기업, 업무 성과에 따라
급여를 지급하는 성과급제
전면 도입 발표



을

업무 성과가 높은 사람에게 그에 상응하는 보상을 제공하는 것은 당연해. 차등 분배는 구성원들의 성취동기를 자극하여 회사 발전에도 도움이 될 거야.

업무 성과에 대한 평가는 자본가에 의해 자의적으로 이루어지므로 공정할 수 없어. 결국 성과급제는 자본가가 노동자를 통제하는 수단일 뿐이야.

- ① 갑의 관점은 개인의 능력보다 가정 배경이 사회 불평등에 더 큰 영향을 미친다고 본다.
- ② 갑의 관점은 사회적 회소가치를 배분하는 기준이 사회 전체적인 합의에 기초한다고 본다.
- ③ 을의 관점은 사회 불평등이 인재를 적재적소에 배치하는 데 기여한다고 본다.
- ④ 을의 관점은 기득권층의 이익을 대변하는 논리로 활용될 수 있다는 비판을 받는다.
- ⑤ 갑, 을의 관점은 모두 사회 불평등을 제거해야 할 현상으로 본다.

10. 밑줄 친 ㉠ ~ ㉣에 대한 옳은 설명만을 <보기>에서 고른 것은?

정보 통신 기술이 발달하고 여행에 대한 인식이 달라짐에 따라 ㉠ 여행 문화도 변화하고 있다. 과거에는 낯선 지역을 여행하는 사람들이 대부분 종이 지도나 여행 책자를 들고 다녔으나, 요즘에는 스마트폰으로 정보를 검색하며 여행하는 것이 일반적이다. 한편 과거 우리나라에서는 ㉡ 단체 여행을 여행의 전형적 형태로 여겼으나, 최근 들어 홀로 여행을 떠나는 ㉢ ‘혼행’이 새로운 트렌드로 떠오르고 있다. ㉣ 이와 같은 변화는 다양한 여행 앱과 여행 상품, 여행 관련 방송 콘텐츠 등의 개발과 같이 여러 분야에 영향을 주고 있다.

< 보 기 >

- ㄱ. ㉠에서의 ‘문화’는 좁은 의미로 사용되었다.
- ㄴ. ㉡은 문화가 전승되면서 더욱 풍부해짐을 보여 준다.
- ㄷ. ㉢은 문화가 고정된 것이 아니라 시간이 흐르면서 변화함을 보여 준다.
- ㄹ. ㉣은 한 문화 요소의 변화가 다른 문화 요소에 연쇄적 변화를 가져옴을 보여 준다.

- ① ㄱ, ㄴ ② ㄱ, ㄷ ③ ㄴ, ㄷ ④ ㄴ, ㄹ ⑤ ㄷ, ㄹ

11. 다음에 나타난 사회·문화 현상을 바라보는 관점에 대한 옳은 설명만을 <보기>에서 고른 것은? [3점]

사랑한다는 표현의 의미는 상대방과의 관계 및 친밀감, 표현이 나타난 상황 등에 따라 다양하게 받아들여질 수 있다. 예를 들어 콜 센터 상담원의 '사랑합니다, 고객님.'이라는 말은 인사를 건네는 것으로, 연인 간의 '사랑합니다.'라는 말은 특별한 감정의 표현으로 이해될 수 있다. 이와 같이 특정 행위는 상황과 맥락에 따라 다르게 해석되며, 이러한 의미의 해석을 토대로 이루어지는 상호 작용이 사회·문화 현상의 본질이다.

< 보기 >

- ㄱ. 사회가 유기체와 같은 속성을 갖는다고 본다.
- ㄴ. 사회적 행위자의 주체성과 능동성을 강조한다.
- ㄷ. 개인의 주관적 상황 정의에 대한 이해를 중시한다.
- ㄹ. 거시적 관점을 바탕으로 사회·문화 현상을 파악한다.

- ① ㄱ, ㄴ ② ㄱ, ㄷ ③ ㄴ, ㄷ ④ ㄴ, ㄹ ⑤ ㄷ, ㄹ

12. 다음 대화에 대한 설명으로 옳은 것은? (단, A와 B는 각각 절대적 빈곤과 상대적 빈곤 중 하나이다.)

교사: 빈곤의 유형 A, B에 대해 발표해 보세요.
 갑: A는 인간이 최소한의 생활을 유지하는 데 필요한 소득이나 자원이 결핍된 상태입니다.
 을: B는 A와 달리 (가)
 교사: 두 학생 모두 옳게 발표하였습니다.

- ① A는 소득 수준이 낮은 국가에서만 나타난다.
- ② 우리나라에서는 특정 가구가 B 가구인지 판단하는 기준선으로 중위 소득의 50%를 활용한다.
- ③ A는 B와 달리 상대적 박탈감의 발생 원인이 될 수 있다.
- ④ A에 따른 빈곤율과 B에 따른 빈곤율을 더한 것이 해당 국가의 전체 빈곤율이다.
- ⑤ (가)에는 '객관화된 기준에 의해 규정됩니다.'가 들어갈 수 있다.

13. 밑줄 친 ㉠ ~ ㉣에 대한 설명으로 옳은 것은? [3점]

한국의 대표적인 발효 식품인 김치는 원래 ㉠ 채소를 소금에 절인 장아찌류의 형태로 만들어졌다. 하지만 ㉡ 임진왜란 무렵 일본군에 의해 우리나라에 고추가 유입되고, 이후 농업 생산성 증대를 위해 ㉢ 대한 제국 황실이 중국으로부터 통배추를 들여 오면서 빨간 배추김치가 만들어진 것이다. 최근 김치의 다양한 효능이 알려지면서 ㉣ 김치는 해외에서도 인기 있는 음식으로 자리 잡고 있다. 이에 따라 ㉤ 멕시코의 타코와 김치가 결합된 '김치 타코'처럼 김치를 활용한 색다른 음식도 등장하고 있다.

- ① ㉠은 발견의 사례이다.
- ② ㉡은 직접 전파의 사례이다.
- ③ ㉢은 강제적 문화 접변의 사례이다.
- ④ ㉣은 문화 동화의 사례이다.
- ⑤ ㉤과 같은 문화 변동으로 인해 기존 문화의 정체성이 상실된다.

14. 사회 조직의 운영 원리 A, B의 일반적인 특징에 대한 설명으로 옳은 것은? (단, A와 B는 각각 관료제와 탈관료제 중 하나이다.)



정보 사회의 빠른 변화에 발맞춰 조직의 운영 원리도 변화해야 한다는 주장에 대해 어떻게 생각하시나요?

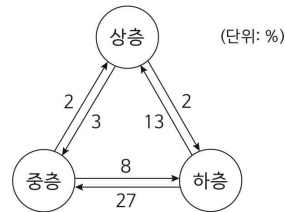
동의합니다. A는 산업 사회에 적합한 운영 원리였으나 경직된 조직 운영으로 인해 오늘날과 같은 사회 환경 변화에 적응하는 데 문제점을 보입니다. 따라서 변화에 보다 신속하고 창의적으로 대응할 수 있는 B로의 전환이 요구됩니다.



- ① A는 B에 비해 의사 결정 구조가 수평적이다.
- ② A는 B와 달리 공식적 규범을 통해 구성원을 통제한다.
- ③ B는 A에 비해 조직 구성의 유연성이 높다.
- ④ B는 A와 달리 목적 진지 현상이 나타날 수 있다.
- ⑤ B는 A에 비해 표준화된 방식과 절차에 따른 업무 수행을 강조한다.

15. 다음 자료에 대한 분석으로 옳은 것은? [3점]

그림은 T년과 T+20년의 계층을 조사하여 갑국의 세대 내 계층 이동 현황을 나타낸 것으로, 화살표의 수치는 세대 내 이동을 한 사람이 전체 조사 대상자 중에서 차지하는 비율이다. 예를 들어, 상층에서 중층으로 향하는 화살표의 '3'은 T년의 상층에서 T+20년의 중층으로 이동한 사람의 비율이 전체 조사 대상자 중 3%임을 의미한다. 단, 갑국의 계층은 상층, 중층, 하층으로만 구분하며, 조사 대상자는 T년과 T+20년이 동일하고, T년의 계층 구성비는 상층 : 중층 : 하층 = 1 : 3 : 6이다.



- ① 세대 내 하강 이동을 한 사람이 상승 이동을 한 사람보다 많다.
- ② 세대 내 수직 이동을 한 사람이 수직 이동을 하지 않은 사람보다 적다.
- ③ T+20년의 계층 중 T년의 다른 계층으로부터 유입된 사람이 가장 많은 계층은 하층이다.
- ④ T년과 T+20년의 계층이 일치하는 사람이 가장 적은 계층은 상층이다.
- ⑤ T년과 T+20년의 계층 구조는 모두 피라미드형이다.

4 (사회·문화)

사회탐구 영역

16. 다음에 나타난 문화를 바라보는 관점에 대한 설명으로 가장 적절한 것은? [3점]

한국의 살풀이춤과 스페인의 플라멩코 춤은 모두 ‘한(恨)’이라는 슬픈 정서를 표현한다는 공통점이 있다. 하지만 춤의 동작을 살펴보면 차이가 존재한다. 한국의 살풀이춤은 멈춤과 움직임이 교차되면서 나타나는 차분한 곡선의 표현이 특징인 반면 스페인의 플라멩코 춤은 즉흥적이고 화려한 기교와 구두로 무대 바닥을 치는 강렬한 몸짓이 특징이다.

- ① 문화를 평가의 대상으로 인식한다.
- ② 타 문화를 무분별하게 수용할 우려가 있다.
- ③ 자문화를 기준으로 타 문화를 낮게 평가한다.
- ④ 문화 간 비교를 통해 자문화의 객관적 이해에 기여한다.
- ⑤ 문화 요소 간의 상호 유기적인 관계를 이해하는 데 중점을 둔다.

17. 사회 불평등 현상을 설명하는 이론 A, B에 대한 옳은 설명만을 <보기>에서 고른 것은? (단, A와 B는 각각 계급론과 계층론 중 하나이다.)

A는 경제적 측면에 주목하여 사회 불평등 구조를 설명하는 이론으로, 공장 및 기계와 같은 자본재의 소유 여부로 인하여 불평등 구조가 양극화된다고 본다. 반면 B는 사회 불평등 구조에 경제적 측면이 영향을 미치지만, 사회적 측면과 정치적 측면도 작용하므로 불평등의 위계를 구분하는 기준이 다차원적이라고 본다.

< 보기 >

- ㄱ. A는 지위 불일치 현상을 설명하기에 용이하다.
- ㄴ. A는 동일한 계급 구성원 간의 연대 의식을 강조한다.
- ㄷ. B는 정치적 불평등이 경제적 불평등에 종속된다고 본다.
- ㄹ. B는 사회 불평등 현상을 연속적으로 서열화된 상태로 본다.

- ① ㄱ, ㄴ ② ㄱ, ㄷ ③ ㄴ, ㄷ ④ ㄴ, ㄹ ⑤ ㄷ, ㄹ

18. 표는 A ~ C를 비교한 것이다. 이에 대한 설명으로 옳은 것은? (단, A ~ C는 각각 주류 문화, 하위문화, 반문화 중 하나이다.)

구분	A	B	C
의미	한 사회의 구성원 대부분이 공유하는 문화	(가)	한 사회 내에서 일부 구성원들만 공유하는 문화
사례	(나)	(다)	특정 가수를 중심으로 형성된 팬클럽 문화

- ① A는 모든 C의 총합으로 설명할 수 있다.
- ② A, B는 C와 달리 사회에 따라 상대적으로 규정된다.
- ③ (가)에는 ‘한 사회의 지배적인 문화에 저항하고 대립하는 문화’가 적절하다.
- ④ (나)에는 ‘우리나라의 지역별 사투리 문화’가 들어갈 수 있다.
- ⑤ (다)에는 ‘1960년대 미국의 히피 문화’가 들어갈 수 없다.

19. 자료 수집 방법 A, B의 일반적인 특징에 대한 설명으로 옳은 것은? [3점]

○ 연구 주제: 보육 교사들이 유아의 문제 행동을 교정하기 위해 활용하는 훈육의 의미에 대한 연구

○ 연구 질문 1: 유아는 보육 교사의 훈육을 어떤 의미로 받아들이는가?
- 자료 수집 계획: A를 활용하여 어린이집에서 3개월간 함께 생활하며 훈육 과정에서 나타난 유아들의 행동을 기록

○ 연구 질문 2: 보육 교사는 훈육 시 본인의 행동을 어떻게 이해하는가?
- 자료 수집 계획: B를 활용하여 보육 교사 5명과의 대화를 통해 본인의 훈육 방법, 훈육 시 감정 상태 등을 묻고 교사들의 대답을 바탕으로 추가적인 질문도 진행

- ① A는 시간과 비용 측면에서 경제적이다.
- ② A는 실제성이 높은 생생한 자료를 수집하기에 용이하다.
- ③ B는 문맹자에게 활용할 수 없다는 한계를 지닌다.
- ④ B는 기존의 연구 동향을 파악하는 데 주로 활용된다.
- ⑤ A, B는 모두 자료 수집 시 조사 대상자의 언어적 응답이 필수적이다.

20. 다음 자료에 대한 옳은 분석만을 <보기>에서 고른 것은?

표는 장애 유무 및 성별에 따라 구분한 갑국의 임금 근로자 집단 각각의 비정규직 비율을 나타낸다. 단, 갑국 전체 임금 근로자 중 장애인 임금 근로자 비율은 1990년, 2010년 모두 10%이다.

(단위: %)

구분	장애인			비장애인		
	남	여	전체	남	여	전체
1990년	58.2	57.8	58.0	31.5	32.5	32.0
2010년	59.4	59.4	59.4	32.7	33.6	33.0

$$* \text{ 해당 집단의 비정규직 비율(\%)} = \frac{\text{해당 집단의 비정규직 임금 근로자 수}}{\text{해당 집단의 임금 근로자 수}} \times 100$$

< 보기 >

- ㄱ. 1990년 전체 임금 근로자 중 비정규직 비율은 50% 미만이다.
- ㄴ. 2010년 비장애인 임금 근로자 중 남성이 여성보다 많다.
- ㄷ. 1990년에 비해 2010년 장애인 임금 근로자 중 비정규직의 수는 증가하였다.
- ㄹ. 1990년에 비해 2010년 비정규직 비율의 증가 폭은 비장애인 임금 근로자가 장애인 임금 근로자보다 크다.

- ① ㄱ, ㄴ ② ㄱ, ㄷ ③ ㄴ, ㄷ ④ ㄴ, ㄹ ⑤ ㄷ, ㄹ

※ 확인 사항

답안지의 해당란에 필요한 내용을 정확히 기입(표기)했는지 확인하십시오.