

# 사회탐구 영역(세계지리)

제 4 교시

성명

수험 번호




2

제 [ ] 선택

1


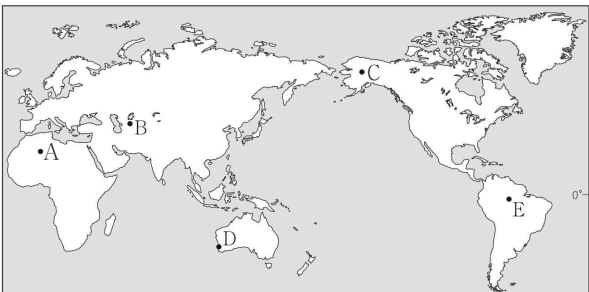
1. 다음 자료는 고지도 학습 카드의 일부이다. (가), (나)에 해당하는 지도를 A~C에서 고른 것은?

첫 번째 카드	두 번째 카드	세 번째 카드
<p>앞면</p> <ul style="list-style-type: none"> <li>■ 현존하는 세계지도 중 가장 오래됨.</li> <li>■ 점도판에 지도를 새김.</li> <li>■ 바빌로니아가 지도에 그려져 있음.</li> </ul>	<p>앞면</p> <ul style="list-style-type: none"> <li>■ 지도의 위쪽이 남쪽임.</li> <li>■ 이슬람교 세계관이 지도에 반영됨.</li> <li>■ 메카가 지도의 중앙에 그려져 있음.</li> </ul>	<p>앞면</p> <ul style="list-style-type: none"> <li>■ 지도의 위쪽이 동쪽임.</li> <li>■ 그리스도 세계관이 지도에 반영됨.</li> <li>■ 예루살렘이 지도의 중앙에 그려져 있음.</li> </ul>
<p>뒷면</p> 	<p>뒷면</p> <p>(가)</p>	<p>뒷면</p> <p>(나)</p>

A	B	C
		
(가) (나)	(가) (나)	(가) (나)
① A B	② A C	③ B C
④ C A	⑤ C B	

2. 다음 자료의 밑줄 친 '이 지역'을 지도의 A~E에서 고른 것은?

이 지역은 가문비나무, 소나무 등 침엽수가 숲을 이루고 있다. 이 숲의 토양층은 기온의 변화에 따라 동결과 융해를 반복한다. 그로 인해 뿌리가 고정되지 못해서 나무가 기울어진 상태로 자라게 되었다. 이처럼 기울어진 나무로 이루어진 숲을 '술 취한 숲(drunken forest)'이라고 부르는데, 최근 지구 온난화로 인해 술 취한 숲이 확대되고 있다.

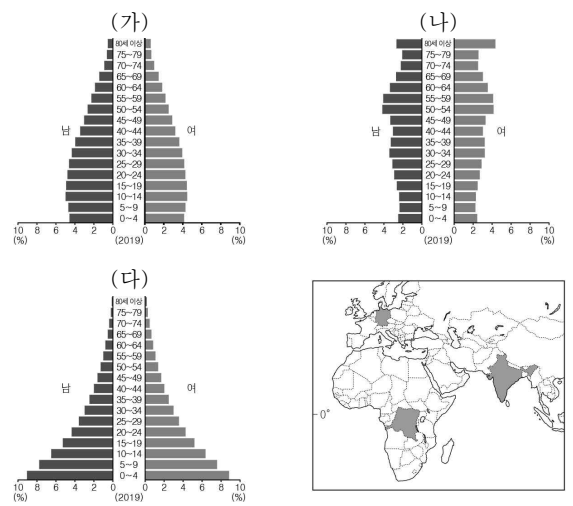
① A    ② B    ③ C    ④ D    ⑤ E

3. 다음 자료는 온라인 전시관 화면의 일부이다. ㉠ ~ ㉣에 대한 설명으로 옳은 것은? [3점]



- ① ㉠은 경암층과 연암층의 차별 침식으로 형성되었다.
- ② ㉡은 주로 하천에 의한 퇴적 작용으로 형성되었다.
- ③ ㉢이 연속적으로 발달한 지형을 바하다라고 한다.
- ④ ㉣은 바람에 의해 운반된 물질이 암석을 침식하여 형성되었다.
- ⑤ ㉠, ㉣은 모두 물리적 풍화보다 화학적 풍화가 활발한 곳에서 잘 발달한다.

4. 그래프는 지도에 표시된 세 국가의 인구 구조를 나타낸 것이다. (가)~(다) 국가에 대한 설명으로 옳은 것은?



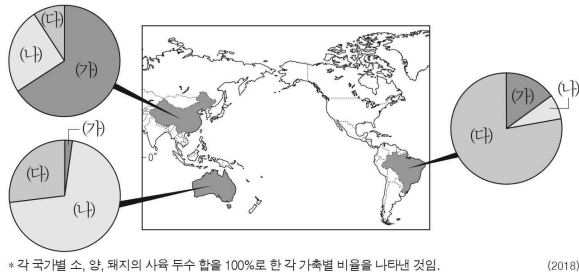
- ① (가)는 (나)보다 노년 인구 부양비가 높다.
- ② (나)는 (다)보다 합계 출산율이 높다.
- ③ (다)는 (가)보다 중위 연령이 높다.
- ④ (가)~(다) 중 총인구는 (다)가 가장 많다.
- ⑤ (가)~(다) 중 산업화 시작 시기는 (나)가 가장 이른다.

세계지리

## 2 (세계지리)

## 사회탐구 영역

5. 그래프는 지도에 표시된 세 국가의 가축 사육 두수의 비율을 나타낸 것이다. (가)~(다) 가축에 대한 옳은 설명만을 <보기>에서 고른 것은? (단, (가)~(다)는 소, 양, 돼지 중 하나임.) [3점]



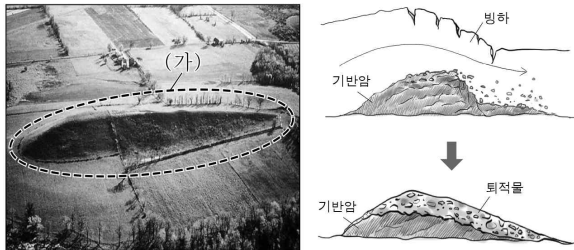
< 보 기 >

- ㄱ. (가)는 건조 기후 지역에서 유목의 형태로 사육된다.  
 ㄴ. (나)의 털은 모직 공업의 주원료로 이용된다.  
 ㄷ. (다)는 이슬람교에서 금기시되는 음식 재료이다.  
 ㄹ. (다)는 (가)보다 몬순 아시아의 벼농사 지역에서 노동력 대체 효과가 크다.

- ① ㄱ, ㄴ    ② ㄱ, ㄷ    ③ ㄴ, ㄷ    ④ ㄴ, ㄹ    ⑤ ㄷ, ㄹ

6. 다음 자료의 (가) 지형에 대한 옳은 설명만을 <보기>에서 고른 것은? [3점]

<(가) 지형의 사진과 형성 과정 모식도>



< 보 기 >

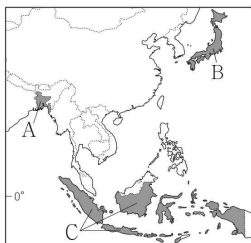
- ㄱ. 지형의 이름은 권곡이다.  
 ㄴ. 빙하가 여러 방향에서 깎아 만든 뾰족한 봉우리이다.  
 ㄷ. 점토, 모래, 자갈 등 다양한 크기의 물질이 뒤섞여 있다.  
 ㄹ. 지형의 형태를 통해 빙하의 이동 방향을 파악할 수 있다.

- ① ㄱ, ㄴ    ② ㄱ, ㄷ    ③ ㄴ, ㄷ    ④ ㄴ, ㄹ    ⑤ ㄷ, ㄹ

7. 표의 (가)~(다)에 해당하는 국가를 지도의 A~C에서 고른 것은?

구분	산업별 종사자 비율(%)			국내 총생산(달러)
	1차 산업	2차 산업	3차 산업	
(가)	40.6	20.4	39.0	2,497억
(나)	30.8	22.0	47.2	1조 156억
(다)	3.5	24.6	71.9	4조 8,669억

(2017)



- |   |     |     |     |
|---|-----|-----|-----|
|   | (가) | (나) | (다) |
| ① | A   | B   | C   |
| ② | A   | C   | B   |
| ③ | B   | A   | C   |
| ④ | B   | C   | A   |
| ⑤ | C   | A   | B   |

8. 다음 자료는 두 지역을 답사하면서 기록한 내용이다. (가), (나) 지역의 공통된 기후 특징으로 옳은 것은?

(가)

◦ 답사일: 20□□.□□.□□

- 오아시스 주변의 나무에 풍성하게 열린 대추야자
- 이동 수단인 낙타, 험령하게 온몸을 감싸는 전통 의상을 입은 주민들

(나)

◦ 답사일: 20△△.△△.△△

- 키가 작은 풀이 자라는 초원에서 유목되고 있는 가축 떼
- 설치와 해체가 용이한 이동식 가옥인 유르트에 거주하는 주민들

- ① 계절풍의 영향을 강하게 받는다.  
 ② 거의 매일 대류성 강수가 내린다.  
 ③ 연 증발량이 연 강수량보다 많다.  
 ④ 최난월 평균 기온이 0℃ 미만이다.  
 ⑤ 연중 봄과 같은 온화한 날씨가 지속된다.

9. 다음 글은 여행기의 일부이다. ㉠~㉣에 대한 옳은 설명만을 <보기>에서 고른 것은?

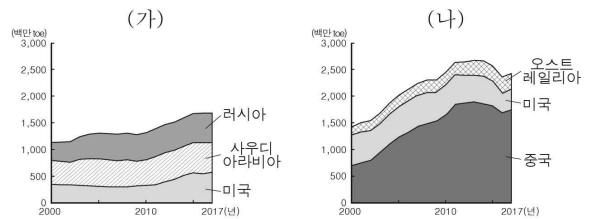
- 하와이섬에 가까워지자 거대한 방패를 얹어놓은 듯 ㉠ 완만한 경사의 화산인 마우나케아산이 비행기의 창밖으로 모습을 드러냈다. 공항에 내려 ㉡ 용암 동굴인 서스톤 동굴로 향했고, 그 옛날 뜨겁게 흘렀을 용암의 흔적을 마주하자 감동이 밀려왔다.  
 ◦ 중국 남부의 구이린(桂林)에 도착하자 석회암과 물이 만나 오랜 시간 빛어낸 절경이 눈앞에 펼쳐졌다. ㉢ 탈 카르스트로 불리는 수많은 봉우리들과 그 사이를 유유히 흐르는 강은 마치 한 폭의 수묵화를 보는 듯했고, ㉣ 석회 동굴인 루디엔 동굴에서는 신비로운 지형들이 저마다의 자태를 뽐내고 있었다.

< 보 기 >

- ㄱ. ㉠은 점성이 큰 용암이 분출하여 형성되었다.  
 ㄴ. ㉡은 주로 용식 과정에서 침식에 강한 부분이 남은 것이다.  
 ㄷ. ㉢의 기반암은 탄산 칼슘이 주성분이다.  
 ㄹ. ㉣의 내부에서는 석순, 종유석을 관찰할 수 있다.

- ① ㄱ, ㄴ    ② ㄱ, ㄷ    ③ ㄴ, ㄷ    ④ ㄴ, ㄹ    ⑤ ㄷ, ㄹ

10. 그래프는 두 화석 에너지의 국가별 생산량 변화를 나타낸 것이다. (가), (나) 자료에 대한 설명으로 옳은 것은? [3점]

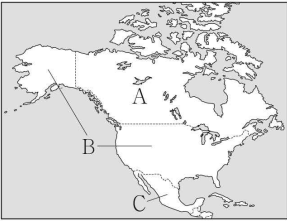


- ① (가)는 고기 조산대에 주로 매장되어 있다.  
 ② (가)는 산업 혁명 시기에 주요 동력원으로 사용되었다.  
 ③ (나)는 화석 에너지 중 대기 오염 배출량이 가장 적다.  
 ④ (가)는 (나)보다 운송용 연료로 사용되는 비중이 높다.  
 ⑤ (나)는 (가)보다 세계 에너지 소비량에서 차지하는 비중이 높다.

11. 다음 글의 (가)~(다)에 해당하는 국가를 지도의 A~C에서 고른 것은?

**<자유 무역 협정 체결 이후 북아메리카 국가들의 변화>**

- (가)은/는 세 국가 중 국토가 가장 넓은 국가로 협정 체결 후 자원 산업의 경쟁력이 크게 향상되었다. 풍부한 천연자원을 바탕으로 자원 수출이 증가함에 따라 무역 규모가 크게 확대되었다.
- (나)은/는 세 국가 중 인구가 가장 많은 국가로 협정 체결 후 교역을 통해 일부 제품을 저렴한 가격에 구매할 수 있게 되었다. 그러나 국내 공장들이 남부 국경 지대를 넘어 마킬라도라로 이전하면서 관련 제조업 일자리 중 일부가 감소하였다.
- (다)은/는 두 국가에 비해 상대적으로 인건비가 저렴한 국가로 협정 체결 후 마킬라도라 공장 지대를 중심으로 노동 집약적 산업이 크게 성장하였다. 하지만 생산 공장 주변의 환경 오염 문제가 대두되었다.



- |   | (가) | (나) | (다) |
|---|-----|-----|-----|
| ① | A   | B   | C   |
| ② | A   | C   | B   |
| ③ | B   | A   | C   |
| ④ | B   | C   | A   |
| ⑤ | C   | B   | A   |

12. 다음 글의 (가)~(다) 산맥에 대한 옳은 설명만을 <보기>에서 고른 것은? [3점]

(가) 오스트레일리아 동부에 남북 방향으로 분포한다. 평균 해발 고도는 1,000m 정도이며, 최고봉은 코지어스크산(2,230m)이다. 해안과 내륙을 나눈다는 의미로 '대분수령(大分水嶺) 산맥'이라는 뜻의 이름을 가지고 있다.

(나) 인도, 네팔, 중국 등에 걸쳐 동서 방향으로 분포한다. 해발 고도 8,000m가 넘는 봉우리가 10여 개이며, 최고봉은 에베레스트산(8,848m)이다. '눈(雪)'을 뜻하는 '히마(hima)', '거처'를 뜻하는 '알라야(alaya)'에서 산맥의 이름이 유래되었다.

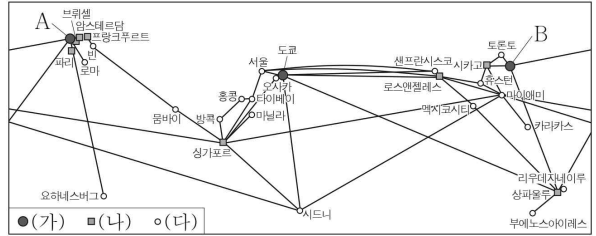
(다) 미국과 캐나다의 서부에 걸쳐 남북 방향으로 분포한다. 해발 고도 4,000m 내외의 산지들이 다수 있으며, 최고봉은 엘버트산(4,398m)이다. 암석이 많은 산이라는 의미에서 산맥의 이름이 유래되었다.

**<보기>**

ㄱ. (가)는 환태평양 조산대에 위치한다.  
 ㄴ. (나)는 대륙판과 대륙판의 충돌로 형성되었다.  
 ㄷ. (가)는 (나)보다 형성 시기가 늦다.  
 ㄹ. (다)는 (가)보다 지각이 불안정하여 지진 활동이 활발하다.

- ① ㄱ, ㄴ    ② ㄱ, ㄷ    ③ ㄴ, ㄷ    ④ ㄴ, ㄹ    ⑤ ㄷ, ㄹ

13. 다음 자료는 세계 도시 (가)~(다)의 계층 체계를 나타낸 것이다. 이에 대한 옳은 설명만을 <보기>에서 고른 것은?

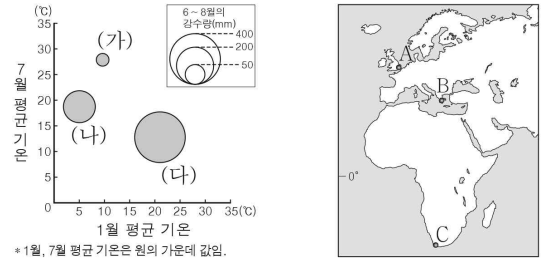


**<보기>**

ㄱ. A는 유럽, B는 아메리카에 위치한다.  
 ㄴ. (가)는 (다)보다 생산자 서비스업 종사자 비율이 높다.  
 ㄷ. (나)는 (다)보다 도시의 수가 많다.  
 ㄹ. (다)는 (가)보다 가장 인접한 동일 계층의 세계 도시 간 평균 거리가 멀다.

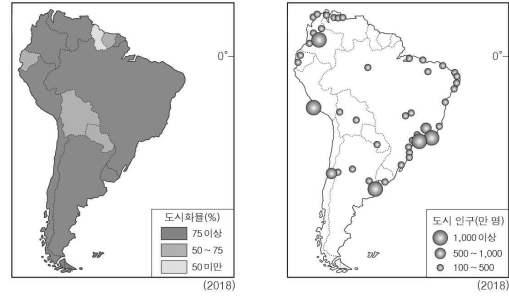
- ① ㄱ, ㄴ    ② ㄱ, ㄷ    ③ ㄴ, ㄷ    ④ ㄴ, ㄹ    ⑤ ㄷ, ㄹ

14. 그래프는 지도에 표시된 세 지역의 기후 특성을 나타낸 것이다. (가)~(다) 지역을 지도의 A~C에서 고른 것은? [3점]



- |   | (가) | (나) | (다) |
|---|-----|-----|-----|
| ① | A   | B   | C   |
| ② | A   | C   | B   |
| ③ | B   | A   | C   |
| ④ | B   | C   | A   |
| ⑤ | C   | A   | B   |

15. 지도는 남아메리카의 도시화와 대도시 분포를 나타낸 것이다. 이에 대한 설명으로 옳은 것은? [3점]

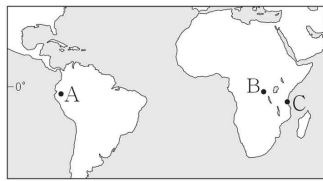
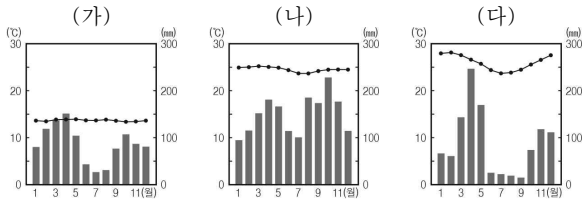


- ① 페루는 총인구보다 도시 인구가 많다.
- ② 아르헨티나에서는 중주 도시화 현상이 나타난다.
- ③ 인구 천만 명 이상의 도시는 해안보다 내륙쪽에 많이 분포한다.
- ④ 인구 백만 명 이상의 도시는 대서양보다 태평양 연안에 많이 분포한다.
- ⑤ 인구 백만 명 이상의 도시가 가장 많이 분포하는 국가의 도시화율은 75% 미만이다.

# 4 (세계지리)

# 사회탐구 영역

16. 기후 그래프 (가)~(다)에 해당하는 지역을 지도의 A~C에서 고른 것은? [3점]




- (가) (나) (다)
- ① A B C
  - ② A C B
  - ③ B A C
  - ④ B C A
  - ⑤ C B A

17. 다음은 두 종교의 특징을 비교한 체크리스트의 일부이다. (가), (나) 종교를 그래프의 A~D에서 고른 것은? (단, A~D는 불교, 힌두교, 이슬람교, 크리스티교 중 하나임.) [3점]

※ (가), (나)에 해당하는 종교의 특징에 표 하시오.

구분	(가)	(나)
분류	<input checked="" type="checkbox"/> 보편 종교 <input type="checkbox"/> 민족 종교	<input type="checkbox"/> 보편 종교 <input checked="" type="checkbox"/> 민족 종교
기원지	<input type="checkbox"/> 남부 아시아 <input checked="" type="checkbox"/> 서남 아시아	<input checked="" type="checkbox"/> 남부 아시아 <input type="checkbox"/> 서남 아시아
주요 경관	<input type="checkbox"/> 십자가와 종탑	<input type="checkbox"/> 십자가와 종탑
	<input type="checkbox"/> 다양한 신들의 형상 조각	<input checked="" type="checkbox"/> 다양한 신들의 형상 조각
	<input type="checkbox"/> 사리가 불안된 탑과 불상	<input type="checkbox"/> 사리가 불안된 탑과 불상
	<input checked="" type="checkbox"/> 첨탑과 둥근 지붕이 있는 모스크	<input type="checkbox"/> 첨탑과 둥근 지붕이 있는 모스크

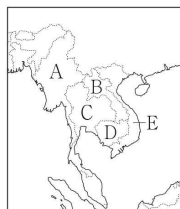


<세계의 종교별 인구 비율>

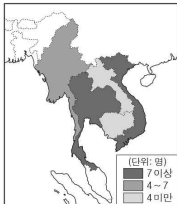
- (가) (나)
- ① A C
  - ② A D
  - ③ B C
  - ④ B D
  - ⑤ C A

18. 다음 <조건>만을 모두 만족하는 국가에 아동 병원 건립 기금을 지원하고자 한다. 지원 대상 국가를 지도의 A~E에서 고른 것은?

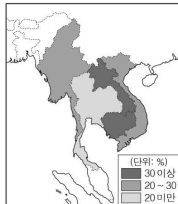
- < 조건 >
- 인구 만 명당 의사 수 7명 미만
  - 유소년 인구 비율 30% 이상
  - 1인당 국내 총생산 2,000달러 미만



<인구 만 명당 의사 수>



<유소년 인구 비율>

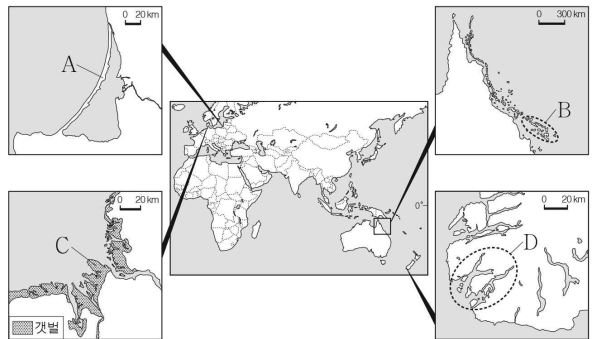


<1인당 국내 총생산>



- ① A    ② B    ③ C    ④ D    ⑤ E

19. 다음 자료의 A~D 지형에 대한 옳은 설명만을 <보기>에서 고른 것은?




< 보기 >

- ㄱ. A는 주로 파랑의 침식 작용으로 형성되었다.
- ㄴ. B는 석회질 유해의 퇴적으로 형성된 산호초 해안이다.
- ㄷ. C는 주로 조류에 의한 퇴적으로 형성되었다.
- ㄹ. D는 하천에 의해 침식된 골짜기에 바닷물이 들어와 형성된 리아스 해안이다.

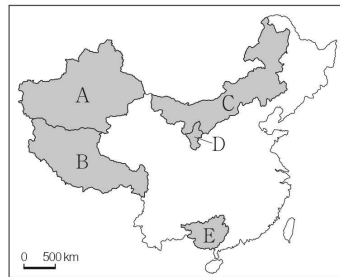
- ① ㄱ, ㄴ    ② ㄱ, ㄷ    ③ ㄴ, ㄷ    ④ ㄴ, ㄹ    ⑤ ㄷ, ㄹ

20. 다음 자료의 (가)에 해당하는 지역을 지도의 A~E에서 고른 것은? [3점]



<포탈라궁>

중국 화폐에 표현된 포탈라궁은 (가)의 중심 도시인 라싸에 위치한다. 포탈라궁은 티베트 민족의 오랜 역사와 문화를 상징하는 곳으로, 독립 국가로서의 지위를 잃은 오늘날에도 이들의 종교적, 정치적 중심지 역할을 하고 있다. 티베트 민족은 한(漢)족과는 다른 자신들의 고유한 역사와 문화를 이유로 분리·독립을 요구하고 있지만, 중국 정부는 이를 불허하고 있다.



- ① A
- ② B
- ③ C
- ④ D
- ⑤ E

※ 확인 사항

답안지의 해당란에 필요한 내용을 정확히 기입(표기)했는지 확인하시오.