

제 4 교시

사회탐구 영역 (정치와 법)

| | | | | | | | | | | |
|----|--|------|--|--|--|---|--|--|--|----------|
| 성명 | | 수험번호 | | | | 2 | | | | 제 [] 선택 |
|----|--|------|--|--|--|---|--|--|--|----------|

1. 표는 정치를 바라보는 관점 A, B를 구분한 것이다. 이에 대한 설명으로 옳은 것은?

| 질문 | A | B |
|--------------------------------|---|-----|
| 국가 수준에서 나타나는 특유한 현상만을 정치로 보는가? | 예 | 아니요 |
| 기업에서 노사 갈등을 해결하는 활동을 정치로 보는가? | ㉠ | ㉡ |

- ① ㉠, ㉡ 모두 '예'가 적절하다.
- ② A는 국가 형성 이전의 정치 현상을 설명하기에 적합하다.
- ③ B는 다원화된 현대 사회의 정치 현상을 설명하기에 곤란하다.
- ④ B는 A와 달리 정치를 좁은 의미로 본다.
- ⑤ A, B 모두 행정부의 정책 집행 과정을 정치로 본다.

2. 우리나라 헌법의 기본 원리 A를 실현하기 위한 방안으로 가장 적절한 것은?

우리나라는 헌법에 “대한민국은 국제 평화의 유지에 노력하고, 침략적 전쟁을 부인한다.”라고 규정하여 A 를 천명하고 있다. 침략 전쟁은 자국의 영토 확장이나 타민족을 지배하기 위한 전쟁 등 국제법상 금지된 위법한 전쟁을 의미한다.

- ① 국민의 참정권을 보장한다.
- ② 국민의 자유로운 문화 생활을 보장한다.
- ③ 상호주의 원칙에 따라 외국인의 지위를 보장한다.
- ④ 복수 정당제를 기반으로 한 자유로운 정당 활동을 보장한다.
- ⑤ 국민 경제의 안정과 성장 및 적정한 소득의 분배를 유지한다.

3. 기본권 A~C에 대한 설명으로 옳은 것은? (단, A~C는 각각 자유권, 사회권, 청구권 중 하나이다.)

| 기본권 | 관련 헌법 조항 |
|-----|--|
| A | 제15조 모든 국민은 직업 선택의 자유를 가진다. |
| B | 제26조 ① 모든 국민은 법률이 정하는 바에 의하여 국가 기관에 문서로 청원할 권리를 가진다. |
| C | 제35조 ③ 국가는 주택 개발 정책 등을 통하여 모든 국민이 쾌적한 주거 생활을 할 수 있도록 노력하여야 한다. |

- ① A는 다른 기본권 실현의 전제가 되는 권리이다.
- ② B는 다른 기본권을 보장하기 위한 수단적 권리이다.
- ③ C는 역사적으로 가장 오래된 권리이다.
- ④ B는 A와 달리 헌법에 열거되지 않아도 보장되는 권리이다.
- ⑤ C는 A, B와 달리 적극적 권리이다.

4. 법치주의를 바라보는 갑, 을의 관점에 대한 설명으로 옳은 것은?



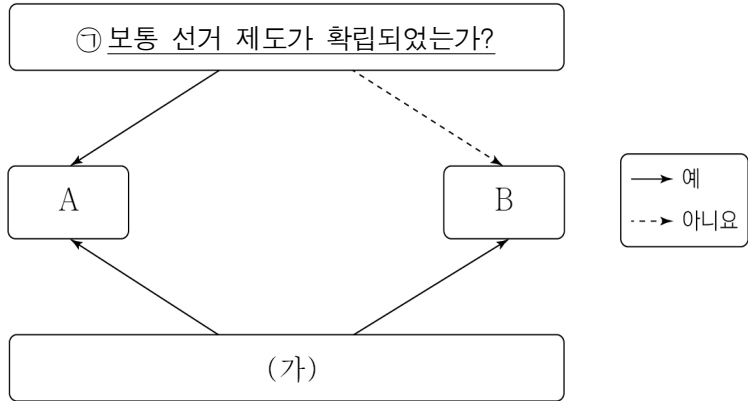
- ① 갑의 관점은 국가 권력의 자의적 행사를 인정한다.
- ② 을의 관점은 국민의 자유와 권리의 본질적인 내용을 침해할 수 있다고 본다.
- ③ 갑의 관점은 을과 달리 위헌 법률 심사 제도가 필요하다고 본다.
- ④ 을의 관점은 갑과 달리 법 내용의 실질적 정당성을 중시한다.
- ⑤ 갑, 을의 관점 모두 독재자의 통치권을 정당화하는 수단으로 악용될 수 있다.

5. 다음 대화에 대한 설명으로 옳은 것은? [3점]

교사: ‘다수 시민의 정치 참여는 바람직한가?’에 대한 각자의 생각을 이야기해 볼까요?
 갑: 다수 지배의 원리를 실현하는 민주주의에서 대표자들이 시민의 의사와 다르게 정책을 수립하기도 합니다. 많은 시민의 정치 참여는 이러한 문제를 해결할 수 있습니다.
 을: 그렇습니다. 정치 참여를 통해 다수 시민의 의사가 정책 결정 과정에 반영된다면 시민들이 정치 과정에 영향을 미칠 수 있다는 믿음이 높아질 것입니다.
 병: 저는 생각이 다릅니다. 많은 시민들이 정치에 참여하는 것은 오히려 정책 결정에 혼란을 초래할 수 있습니다.
 정: 맞습니다. 그렇기 때문에 일정 교육 수준 이상의 소수 엘리트만의 정치 참여가 바람직합니다.

- ① 갑은 정책 결정의 효율성을 강조하고 있다.
- ② 을은 중우 정치로 인한 문제를 우려하고 있다.
- ③ 병은 소수 엘리트 정치를 부정적으로 보고 있다.
- ④ 을은 정과 달리 정치 참여를 통한 다수 시민의 정치적 효능감을 중시하고 있다.
- ⑤ 갑, 을, 병은 정과 달리 다수 시민의 정치 참여를 바람직하다고 보고 있다.

6. 다음 자료에 대한 설명으로 옳은 것은? (단, A, B는 각각 근대 민주 정치, 현대 민주 정치 중 하나이다.) [3점]



- ① ①은 “대의제를 바탕으로 하는가?”로 대체할 수 있다.
- ② (가)에는 “권력 분립의 원리가 적용되는가?”가 들어갈 수 있다.
- ③ A는 근대 시민 혁명 직후에 확립되었다.
- ④ B는 모든 사회 구성원에게 공직 참여의 기회를 보장한다.
- ⑤ A는 B와 달리 입헌주의에 근거한 민주 정치를 추구한다.

7. 다음 신문 기사에 나타난 전형적인 정부 형태 A, B에 대한 설명으로 옳은 것은? [3점]

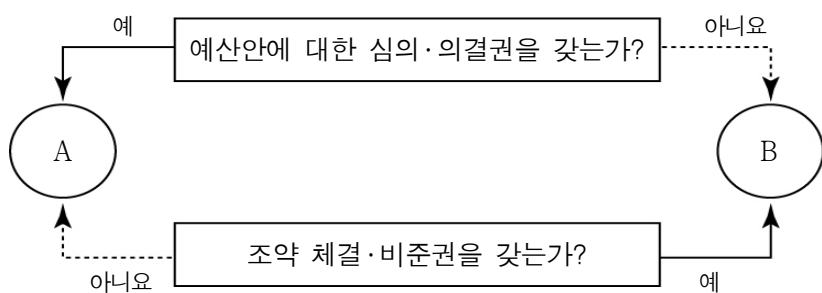
○○ 신문

갑국, 새 내각 명단 발표

갑국의 ‘가’당은 의회 의원 선거에서 제1당이 된 후, ‘나’당과의 연립 정부 합의를 마련함으로써 새 정부를 구성하게 되었다. 이번 정부 구성에서 5명의 초선 의원이 장관으로 임명되었다. 갑국의 경우 A를 선택하고 있기 때문에 B와 달리 의원이 각료로 임명될 수 있다. 따라서 의회 의원이 각료로 임명되더라도 의원직을 사퇴할 필요는 없다.

- ① A의 행정부는 의회를 해산할 수 있다.
- ② A는 국가 원수와 행정부 수반이 일원화되어 있다.
- ③ B의 행정부는 의회에 대해 정치적 책임을 진다.
- ④ B의 의회는 행정부에 대해 불신임할 수 있다.
- ⑤ A는 B에 비해 의회와 행정부의 대립 시 해결이 곤란하다.

8. 그림은 우리나라 헌법 기관 A, B를 구분한 것이다. A가 B를 견제하는 수단으로 옳은 것은? (단, A, B는 각각 국회, 대통령 중 하나이다.)



- ① 탄핵 소추권
- ② 법률안 거부권
- ③ 국무 위원 임명 제청권
- ④ 명령·규칙·처분 심사권
- ⑤ 대법원장·대법관 임명권

9. (가), (나)는 우리나라 입법 절차의 일부이다. 이에 대한 옳은 설명만을 <보기>에서 고른 것은? [3점]

(가) 정부는 공정 거래 위원회가 마련한 공정 거래법 전부 개정안을 국회에 제출했다.
(나) 국회는 정기 국회 본회의에서 어린이 교통 안전 강화 법률안을 의결했다.

<보 기>

ㄱ. (가)를 위해서는 국회의 동의를 필요하다.
ㄴ. (가)에서 제출한 법률안은 일반적으로 소관 상임 위원회를 거쳐 본회의에 상정된다.
ㄷ. (나)에서 의결한 법률안은 대통령이 즉시 공포해야 한다.
ㄹ. (나)를 위해서는 국회 재적 의원 과반수 출석과 출석 의원 과반수 찬성이 필요하다.

- ① ㄱ, ㄴ ② ㄱ, ㄷ ③ ㄴ, ㄷ ④ ㄴ, ㄹ ⑤ ㄷ, ㄹ

10. 다음 자료에 대한 분석으로 옳은 것은? [3점]

현재 갑국은 4개의 선거구에서 각각 최다 득표자 1인을 의회 의원으로 선출하고 있다. 하지만 최근 의회 의원 선거 이후 갑국 의회는 현행 선거구 제도에서 나타나는 문제점에 대해 논의하였다. 그 결과 선거구를 통합하여 2개 선거구로 구성한 후 각 선거구에서 득표순으로 2인의 대표를 선출하는 선거구 제도인 A로의 변경에 합의하였다. 아래 표는 갑국의 최근 의회 의원 선거에서의 정당별 득표 결과와 그 결과를 토대로 A를 도입할 경우 예상되는 정당별 득표 결과를 나타낸 것이다.

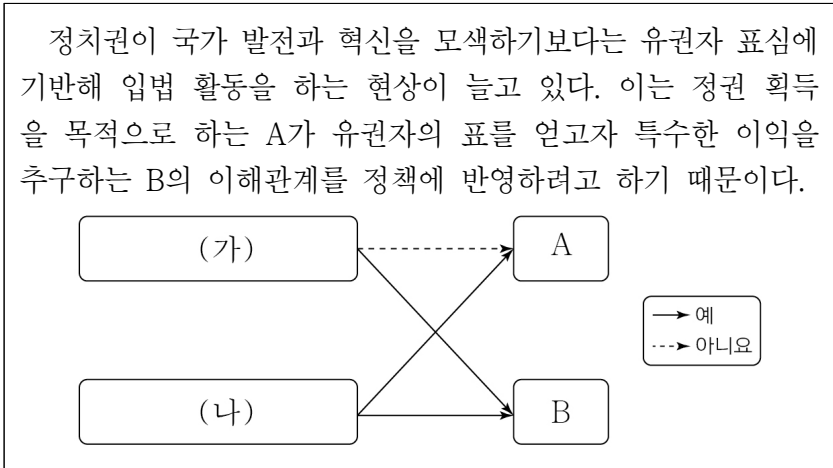
<최근 의회 의원 선거 정당별 득표 결과> <A도입시 정당별 예상 득표 결과>

| (단위: 만 표) | | | | | (단위: 만 표) | | | | |
|-----------|----|----|----|----|-----------|----|----|----|----|
| 정당 | 가 | 나 | 다 | 라 | 정당 | 가 | 나 | 다 | 라 |
| 선거구 | 가 | 나 | 다 | 라 | 선거구 | 가 | 나 | 다 | 라 |
| a | 29 | 25 | 24 | 16 | a + d | 57 | 30 | 50 | 43 |
| b | 17 | 37 | 21 | 24 | b + c | 43 | 60 | 40 | 37 |
| c | 26 | 23 | 19 | 13 | | | | | |
| d | 28 | 5 | 26 | 27 | | | | | |

* 투표율은 100%이며, 무효표는 없음.
** 각 정당은 선거구별로 1인의 후보자만 공천함.
*** 유권자 1인은 1표를 행사하고, 무소속 후보는 없음.

- ① 최근 선거 결과 사표가 가장 적게 발생한 정당은 ‘나’당이다.
- ② A는 일반적으로 현행 선거구 제도에 비해 후보 개인의 선거 운동 비용이 적게 든다.
- ③ 현행 선거구 제도를 A로 변경하는 경우 가장 유리한 정당은 ‘다’당이다.
- ④ 현행 선거구 제도를 A로 변경하는 경우 ‘가’, ‘라’ 정당의 의석 수는 동일해진다.
- ⑤ 현행 선거구 제도를 A로 변경하는 경우 선거구 간 투표 가치의 차등 문제가 발생한다.

11. 다음 자료에 대한 설명으로 옳은 것은? (단, A, B는 각각 정당, 이익 집단 중 하나이다.)



- ① A의 사례로 노동조합을 들 수 있다.
- ② A는 B와 달리 대의 정치의 한계를 보완한다.
- ③ B는 A와 달리 정치 사회화의 기능을 수행한다.
- ④ (가)에는 “정치적 책임을 지는가?”가 들어갈 수 있다.
- ⑤ (나)에는 “정책 결정 과정에 영향력을 행사하는가?”가 들어갈 수 있다.

12. (가)에 들어갈 옳은 내용만을 <보기>에서 고른 것은? [3점]

교사: B는 A가 운영하는 피자 가게의 아르바이트생입니다. 어느 날, B가 오토바이를 타고 배달을 하던 중 길을 건너던 C를 치어서 전치 4주의 상해를 입혔습니다. 이 사례에 대해 분석해 볼까요?

갑: A는 C에게 일반 불법 행위에 따른 손해 배상 책임을 져야 합니다.

을: C는 B에게 정신적 피해에 대해서도 손해 배상을 청구할 수 있습니다.

병: (가)

교사: 한 사람을 제외하고 모두 옳게 대답했네요.

- <보 기>
- ㄱ. A는 B의 선임 및 그 사무에 상당한 주의를 기울였음을 입증하면 손해 배상 책임이 면제됩니다.
 - ㄴ. A가 C에게 손해 배상을 하는 경우 금전 배상을 원칙으로 합니다.
 - ㄷ. B는 C에게 특수 불법 행위에 따른 손해 배상 책임을 져야 합니다.
 - ㄹ. C는 A에게 직접 손해 배상을 청구할 수 없습니다.

- ① ㄱ, ㄴ ② ㄱ, ㄷ ③ ㄴ, ㄷ ④ ㄴ, ㄹ ⑤ ㄷ, ㄹ

13. 정당 제도 A, B의 일반적인 특징에 대한 설명으로 옳은 것은? (단, A, B는 각각 양당제, 다당제 중 하나이다.)

전통적으로 A가 나타나는 ○○국은 오랫동안 군소 정당이 난립하면서 정국 불안이 정치적 과제가 되어 왔다. 반면 □□국은 최근 B가 나타나면서 다수당의 횡포로 인해 소수 의견이 무시되고 있다.

- ① A는 B에 비해 강력한 정책 추진이 용이하다.
- ② A는 B에 비해 정치적 책임 소재가 분명하다.
- ③ B는 A에 비해 유권자의 정당 선택의 범위가 좁다.
- ④ B는 A와 달리 민주적인 정권 교체가 가능하다.
- ⑤ A, B 모두 정당 간 대립 시 중재가 용이하다.

14. 다음 자료에 대한 옳은 법적 분석만을 <보기>에서 있는 대로 고른 것은? [3점]



- <보 기>
- ㄱ. 갑은 을과 체결한 계약을 취소할 수 있다.
 - ㄴ. 갑의 법정 대리인은 노트북 거래의 의사 표시를 철회할 수 있다.
 - ㄷ. (가)에서 갑은 청약, 을은 승낙의 의사 표시를 하고 있다.
 - ㄹ. (나) 이후 을은 갑의 법정 대리인에게 계약의 취소 여부를 확답해 줄 것을 촉구할 수 있다.

- ① ㄱ, ㄴ ② ㄱ, ㄷ ③ ㄴ, ㄷ
- ④ ㄱ, ㄷ, ㄹ ⑤ ㄴ, ㄷ, ㄹ

15. 표는 우리나라 지방 자치 단체의 구성을 나타낸 것이다. ㉠~㉣에 대한 설명으로 옳은 것은? [3점]

| 구분 | 의결 기관 | 집행 기관 | |
|----------|--------|-----------|----------|
| | | 일반 업무 | 교육·학예 업무 |
| 광역 자치 단체 | 시·도 의회 | ㉠ | ㉣ |
| 기초 자치 단체 | ㉡ | 시장·군수·구청장 | - |

- ① ㉡은 지역구 의원과 비례 대표 의원으로 구성된다.
- ② ㉠은 법령의 범위 안에서 조례를 제정할 수 있다.
- ③ ㉣은 지방 자치 단체의 예산을 심의·의결한다.
- ④ ㉡의 의원은 ㉠과 달리 주민이 투표로 해임할 수 있다.
- ⑤ ㉠은 ㉣과 달리 주민의 선거에 의해 선출된다.

16. 다음 글에서 필자가 강조하는 내용으로 가장 적절한 것은?

필터버블(Filter Bubble)은 인터넷 검색 업체와 소셜 미디어 기업과 같은 인터넷 정보 제공자가 정보 이용자에 맞추어 필터링한 정보를 제공함으로써, 정보 이용자가 자신의 성향과 비슷한 정보를 계속 접하게 되는 것을 말한다. 이로 인해 같은 단어를 검색해도 정보 이용자에 따라 각기 다른 정보가 제공된다. 이러한 맞춤형 정보 제공은 뉴스 영역까지 확장되어 언론 매체들이 정보 이용자의 특별한 관심이나 욕구에 맞춘 뉴스를 우선하여 제공하고 있다. 이와 같은 새로운 환경에서 정보 이용자는 정보를 접하는 데 있어 균형성을 갖기 위해 노력해야 한다.

- ① 언론 매체는 정치적 중립을 유지해야 한다.
- ② 언론 매체는 신속하게 정보를 제공해야 한다.
- ③ 정보 이용자는 제공된 정보 내용을 신뢰해야 한다.
- ④ 언론 매체는 검색 서비스의 개별화를 지향해야 한다.
- ⑤ 정보 이용자는 비판적 태도를 가지고 정보를 수용해야 한다.

17. 다음 사례에 대한 분석으로 옳은 것은? [3점]

재판을 받고 있는 갑은 △△법률 제○조 ○항이 위헌이라고 판단하여 A에 위헌 법률 심판 제청 신청을 하였지만, A는 갑의 신청을 기각하였다. 이에 갑은 해당 조항이 기본권을 침해한다며 B에 ㉠ 헌법 소원을 청구하였다.

- ① ㉠은 위헌 심사형 헌법 소원이다.
- ② A는 위헌 정당 해산 심판권을 가진다.
- ③ A는 직권으로 위헌 법률 심판을 제청할 수 없다.
- ④ B는 상고심을 담당하는 법원이다.
- ⑤ A는 B와 달리 법률의 위헌 여부를 심판한다.

18. (가)에 들어갈 수 있는 헌법 조항만을 <보기>에서 고른 것은?

우리나라 헌법은 대통령제를 정부 형태로 채택하고 있다. 다만, (가) 와 같은 헌법 조항의 내용에서 확인할 수 있듯이 순수한 대통령제와 같이 의회와 행정부의 관계가 완전히 독립되어 있다고 볼 수는 없다.

<보 기>

ㄱ. 제66조 ④ 행정권은 대통령을 수반으로 하는 정부에 속한다.

ㄴ. 제67조 ① 대통령은 국민의 보통·평등·직접·비밀 선거에 의하여 선출한다.

ㄷ. 제86조 ① 국무총리는 국회의 동의를 얻어 대통령이 임명한다.

ㄹ. 제88조 ① 국무 회의는 정부의 권한에 속하는 중요한 정책을 심의한다.

- ① ㄱ, ㄴ ② ㄱ, ㄷ ③ ㄴ, ㄷ ④ ㄴ, ㄹ ⑤ ㄷ, ㄹ

19. 다음 자료에 대한 설명으로 옳은 것은?

민법은 사적인 법률관계에서 발생하는 권리와 의무의 종류 및 내용을 다루는 대표적인 사법(私法)이다. 우리나라 민법은 제1편 총칙, ㉠ 제2편 물권, ㉡ 제3편 채권, 제4편 친족, 제5편 상속으로 구성되어 있다. 오늘날 근대 민법의 기본 원리는 다음과 같이 수정·보완되었다.

| | | |
|---------------|---|--------------------|
| 근대 민법의 기본 원리 | | ㉢ 수정·보완된 근대 민법의 원리 |
| 사유 재산권 존중의 원칙 | → | (나) |
| (가) | → | 계약 공정의 원칙 |
| 과실 책임의 원칙 | → | (다) |

- ① ㉠은 주로 계약으로 인한 권리와 의무를 규정한 것이다.
- ② ㉡은 물건에 대한 소유·이용 등을 세부 내용으로 한다.
- ③ ㉢은 권리의 사회성과 공공성을 고려한 것이다.
- ④ (나)는 사유 재산을 인정하지 않는다.
- ⑤ (가)는 제조물 책임, (다)는 개발 제한 구역 설정에 적용될 수 있다.

20. 다음 자료에 대한 옳은 분석만을 <보기>에서 고른 것은? [3점]

갑국은 지역구 의회 의원 선거에서 한 번의 투표로 과반수 지지를 얻은 후보자를 당선시키는 제도를 시행하고 있다. 유권자는 지지하는 선호에 따라 모든 후보자에게 선호 순위를 표시하는 방식으로 투표한다. 투표 결과 후보자별 1순위 표수를 1차 집계한 뒤, 과반수 득표자가 나오면 당선자를 결정한다. 그런데 과반수 득표자가 없으면 최하위 후보자를 탈락시킨다. 만약, 최하위 후보자가 2인 이상인 경우 모두 탈락시킨다. 이후 탈락한 후보자를 1순위로 표시한 유권자의 표를 그 유권자가 2순위로 표시한 후보자에게 넘긴 후 2차 집계한다. 이러한 방식으로 과반수 득표자가 나올 때까지 반복하여 당선자를 결정한다. 다음은 전체 유권자가 참여한 갑국의 △△ 지역구 의회 의원 선거 투표 결과이다.

| | | | | | | | |
|------------|---|---|---|---|---|---|---|
| 유권자 후보자 | A | B | C | D | E | F | G |
| 가 | 1 | 2 | 3 | 3 | 1 | 3 | 1 |
| 나 | 3 | 1 | 2 | 1 | 4 | 2 | 2 |
| 다 | 2 | 3 | 1 | 4 | 3 | 4 | 4 |
| 라 | 4 | 4 | 4 | 2 | 2 | 1 | 3 |

* 선호도가 가장 높은 후보자가 1순위, 선호도가 가장 낮은 후보자가 4순위임.

<보 기>

ㄱ. 모든 유권자의 의사가 당선에 기여한다.

ㄴ. 2차 집계 결과 '나' 후보자가 당선자로 결정된다.

ㄷ. 갑국의 지역구 의회 의원 선거에는 절대다수 대표제가 적용되었다.

ㄹ. 최종 집계 결과 유권자 B, C, D, F, G의 표는 '나' 후보자의 득표에 포함된다.

- ① ㄱ, ㄴ ② ㄱ, ㄷ ③ ㄴ, ㄷ ④ ㄴ, ㄹ ⑤ ㄷ, ㄹ

* 확인 사항

○ 답안지의 해당란에 필요한 내용을 정확히 기입(표기)했는지 확인하십시오.